

विज्ञान

कक्षा 9 के लिए पाठ्यपुस्तक

© NCERT
not to be republished



राष्ट्रीय शैक्षिक अनुसंधान और प्रशिक्षण परिषद्
NATIONAL COUNCIL OF EDUCATIONAL RESEARCH AND TRAINING

ISBN 81-7450-513-X

प्रथम संस्करण

मार्च 2006 फाल्गुन 1927

पुनर्मुद्रण

अक्तूबर 2006 कार्तिक 1928

दिसंबर 2007 पौष 1929

फरवरी 2009 फाल्गुन 1930

दिसंबर 2009 पौष 1931

नवंबर 2010 कार्तिक 1932

जनवरी 2012 पौष 1933

अक्तूबर 2012 आश्विन 1934

नवंबर 2013 कार्तिक 1935

PD 60T RPS

© राष्ट्रीय शैक्षिक अनुसंधान और प्रशिक्षण परिषद्, 2006

₹ ??.00

एन.सी.ई.आर.टी. वाटरमार्क 80 जी.एस.एम. पेपर पर मुद्रित।

प्रकाशन प्रभाग में सचिव, राष्ट्रीय शैक्षिक अनुसंधान और प्रशिक्षण परिषद्, श्री अरविंद मार्ग, नयी दिल्ली 110 016 द्वारा प्रकाशित तथा

.....द्वारा मुद्रित।

सर्वाधिकार सुरक्षित

- प्रकाशक की पूर्व अनुमति के बिना इस प्रकाशन के किसी भाग को छापना तथा इलेक्ट्रॉनिकी, मशीनी, फोटोप्रतिलिपि, रिकॉर्डिंग अथवा किसी अन्य विधि से पुनः प्रयोग पद्धति द्वारा उसका संग्रहण अथवा प्रसारण वर्जित है।
- इस पुस्तक की विक्री इस शर्त के साथ की गई है कि प्रकाशक की पूर्व अनुमति के बिना यह पुस्तक अपने मूल आवरण अथवा जिल्द के अलावा किसी अन्य प्रकार से व्यापार द्वारा उधारी पर, पुनर्विक्रय या किराए पर न दी जाएगी, न बेची जाएगी।
- इस प्रकाशन का सही मूल्य इस पृष्ठ पर मुद्रित है। रबड़ की मुहर अथवा चिपकाई गई पर्ची (स्टिकर) या किसी अन्य विधि द्वारा अंकित कोई भी संशोधित मूल्य गलत है तथा मान्य नहीं होगा।

एन सी ई आर टी के प्रकाशन प्रभाग के कार्यालय

एन.सी.ई.आर.टी. कैम्पस

श्री अरविंद मार्ग

नयी दिल्ली 110 016

फोन : 011-26562708

108, 100 फीट रोड

हेली एक्सटेंशन, होस्टेकेरे

बनारसकरी III इस्टेज

बेंगलुरु 560 085

फोन : 080-26725740

नवजीवन ट्रस्ट भवन

डाकघर नवजीवन

अहमदाबाद 380 014

फोन : 079-27541446

सी.डब्ल्यू.सी. कैम्पस

निकट: धनकल बस स्टॉप पानिहटी

कोलकाता 700 114

फोन : 033-25530454

सी.डब्ल्यू.सी. कॉम्प्लेक्स

मालीगांव

गुवाहाटी 781021

फोन : 0361-2674869

प्रकाशन सहयोग

अध्यक्ष, प्रकाशन प्रभाग : अशोक श्रीवास्तव

मुख्य उत्पादन अधिकारी : कल्याण बनर्जी

मुख्य व्यापार प्रबंधक : गौतम गांगुली

मुख्य संपादक (संविदा सेवा) : नरेश यादव

उत्पादन सहायक : सुबोध श्रीवास्तव

आवरण

निधि वाधवा

सज्जा एवं चित्रांकन

डिजिटल एक्सप्रेसंस

आमुख

राष्ट्रीय पाठ्यचर्या की रूपरेखा (2005) सुझाती है कि बच्चों के स्कूली जीवन को बाहर के जीवन से जोड़ा जाना चाहिए। यह सिद्धांत किताबी ज्ञान की उस विरासत के विपरीत है जिसके प्रभाववश हमारी व्यवस्था आज तक स्कूल और घर के बीच अंतराल बनाए हुए है। नयी राष्ट्रीय पाठ्यचर्या पर आधारित पाठ्यक्रम और पाठ्यपुस्तकें इस बुनियादी विचार पर अमल करने का प्रयास हैं। इस प्रयास में हर विषय को एक मजबूत दीवार से घेर देने और जानकारी को रटा देने की प्रवृत्ति का विरोध शामिल है। आशा है कि ये कदम हमें राष्ट्रीय शिक्षा नीति (1986) में वर्णित बाल-केंद्रित व्यवस्था की दिशा में काफ़ी दूर तक ले जाएंगे।

इस प्रयत्न की सफलता अब इस बात पर निर्भर है कि स्कूलों के प्राचार्य और अध्यापक बच्चों को कल्पनाशील गतिविधियों और सवालों की मदद से सीखने और सीखने के दौरान अपने अनुभव पर विचार करने का अवसर देते हैं। हमें यह मानना होगा कि यदि जगह, समय और आज़ादी दी जाए तो बच्चे बड़ों द्वारा सौंपी गई सूचना-सामग्री से जुड़कर और जूझकर नए ज्ञान का सृजन करते हैं। शिक्षा के विविध साधनों एवं स्रोतों की अनदेखी किए जाने का प्रमुख कारण पाठ्यपुस्तक को परीक्षा का एकमात्र आधार बनाने की प्रवृत्ति है। सर्जना और पहल को विकसित करने के लिए ज़रूरी है कि हम बच्चों को सीखने की प्रक्रिया में पूरा भागीदार मानें और बनाएँ, उन्हें ज्ञान की निर्धारित खुराक का ग्राहक मानना छोड़ दें।

ये उद्देश्य स्कूल की दैनिक जिंदगी और कार्यशैली में काफ़ी फेरबदल की माँग करते हैं। दैनिक समय-सारणी में लचीलापन उतना ही ज़रूरी है, जितना वार्षिक कैलेंडर के अमल में चुस्ती, जिससे शिक्षण के लिए नियत दिनों की संख्या हकीकत बन सके। शिक्षण और मूल्यांकन की विधियाँ भी इस बात को तय करेंगी कि यह पाठ्यपुस्तक स्कूल में बच्चों के जीवन को मानसिक दबाव तथा बोरियत की जगह खुशी का अनुभव बनाने में कितनी प्रभावी सिद्ध होती है। बोझ की समस्या से निपटने के लिए पाठ्यक्रम निर्माताओं ने विभिन्न चरणों में ज्ञान का पुनर्निर्धारण करते समय बच्चों के मनोविज्ञान एवं अध्यापन के लिए उपलब्ध समय का ध्यान रखने की पहल से अधिक सचेत कोशिश की है। इस कोशिश को और गहराने के यत्न में यह पाठ्यपुस्तक सोच-विचार और विस्मय, छोटे समूहों में बातचीत एवं बहस और हाथ से की जाने वाली गतिविधियों को प्राथमिकता देती है।

एन.सी.ई.आर.टी. इस पुस्तक की रचना के लिए बनाई गई पाठ्यपुस्तक निर्माण समिति के परिश्रम के लिए कृतज्ञता व्यक्त करती है। परिषद् इस पाठ्यपुस्तक की सलाहकार समिति के अध्यक्ष प्रोफ़ेसर जे.वी. नालींकर और इस पुस्तक की मुख्य सलाहकार प्रोफ़ेसर रूपमंजरी घोष की विशेष आभारी है। इस पाठ्यपुस्तक के विकास में कई शिक्षकों ने योगदान किया; इस योगदान को संभव बनाने के लिए हम उनके प्राचार्यों के आभारी हैं। हम उन सभी संस्थाओं और संगठनों के प्रति कृतज्ञ हैं जिन्होंने अपने संसाधनों, सामग्री तथा सहयोगियों की मदद लेने में हमें उदारतापूर्वक सहयोग दिया। प्रोफ़ेसर मृणाल मीरी और प्रोफ़ेसर जी. पी. देशपांडे की अध्यक्षता में मानव संसाधन विकास मंत्रालय के अधीन उच्च माध्यमिक शिक्षा विभाग द्वारा गठित निगरानी समिति राष्ट्रीय मॉनिटरिंग कमेटी के सदस्यों के अमूल्य समय और सहयोग के लिए हम कृतज्ञ हैं। व्यवस्थागत सुधारों और अपने प्रकाशनों में निरंतर निखार लाने के प्रति समर्पित एन.सी.ई.आर.टी. टिप्पणियों एवं सुझावों का स्वागत करेगी जिनसे भावी संशोधनों में मदद ली जा सके।

नयी दिल्ली
20 दिसंबर 2005

निदेशक
राष्ट्रीय शैक्षिक अनुसंधान और
प्रशिक्षण परिषद्

पाठ्यपुस्तक निर्माण समिति

अध्यक्ष, विज्ञान और गणित पाठ्यपुस्तकों की सलाहकार समिति

जे.वी. नालीकर, इमेरिटस प्रोफेसर, अंतर-विश्वविद्यालय केंद्र : खगोलविज्ञान और खगोलभौतिकी, पुणे

मुख्य सलाहकार

रूपमञ्जरी घोष, प्रोफेसर, भौतिक विज्ञान संस्थान, जवाहरलाल नेहरू विश्वविद्यालय, नयी दिल्ली

सदस्य

अंजनी कौल, प्रवक्ता, विज्ञान एवं गणित शिक्षा विभाग, एन.सी.ई.आर.टी., नयी दिल्ली

अनुपम पचौरी, 1317, सेक्टर-37, फरीदाबाद, हरियाणा

अनुराधा गुलाटी, पी.जी.टी., सी.आर.पी.एफ. पब्लिक स्कूल, रोहिणी, दिल्ली

असफा एम. यासीन, रीडर, पंडित सुंदरलाल शर्मा केंद्रीय व्यावसायिक शिक्षा संस्थान, एन.सी.ई.आर.टी., भोपाल

उमा सुधीर, एकलव्य, इंदौर, मध्य प्रदेश

एच. एल. सतीश, टी.जी.टी., डी.एम. विद्यालय, क्षेत्रीय शिक्षा संस्थान, मैसूर, कर्नाटक

एस. सी. जैन, प्रोफेसर, डी.ई.एस.एम., एन.सी.ई.आर.टी., नयी दिल्ली

एस. के. दास, रीडर, डी.ई.एस.एम., एन.सी.ई.आर.टी., नयी दिल्ली

एस. लवानिया, रीडर, वनस्पति शास्त्र विभाग, लखनऊ विश्वविद्यालय, लखनऊ, उत्तर प्रदेश

चारू मेनी, पी.जी.टी., डी.ए.वी. विद्यालय, सेक्टर-14, गुड़गाँव, हरियाणा

दिनेश कुमार, रीडर, डी.ई.एस.एम., एन.सी.ई.आर.टी., नयी दिल्ली

पूरन चंद, संयुक्त निदेशक, एन.सी.ई.आर.टी., नयी दिल्ली

ब्रह्म प्रकाश, प्रोफेसर, डी.ई.एस.एम., एन.सी.ई.आर.टी., नयी दिल्ली (समन्वयक-अंग्रेजी संस्करण)

माधुरी महापात्रा, रीडर, क्षेत्रीय शिक्षा संस्थान, भुवनेश्वर, उड़ीसा

सुजाता जी. डी., सहायक शिक्षिका, वी.वी.एस. सरदार पटेल हाई स्कूल, राजाजी नगर, बंगलौर, कर्नाटक

सत्यजीत रथ, वैज्ञानिक, नेशनल इंस्टीट्यूट ऑफ इम्यूनोलॉजी, जे.एन.यू. कैम्पस, नयी दिल्ली

सुखवीर सिंह, रीडर, डी.ई.एस.एम., क्षेत्रीय शिक्षा संस्थान, अजमेर, राजस्थान

हिंदी अनुवादक

कृष्ण भगवान गुप्त, प्रोफेसर (अवकाश प्राप्त), एन.सी.ई.आर.टी., नयी दिल्ली

कन्हैया लाल, प्राचार्य (अवकाश प्राप्त), 121 अफगानन, दिल्ली गेट, गाज़ियाबाद, उत्तर प्रदेश

गरिमा एस. वर्मा, स्पेक्ट्रम कम्युनिकेशन्स, शहीद भगत सिंह मार्केट, नयी दिल्ली

प्रवीण कुमार सिंह, स्पेक्ट्रम कम्युनिकेशन्स, शहीद भगत सिंह मार्केट, नयी दिल्ली

सदस्य-समन्वयक

गगन गुप्त, रीडर, विज्ञान एवं गणित शिक्षा विभाग, एन.सी.ई.आर.टी., नयी दिल्ली

आभार

पुस्तक के अंतिम स्वरूप के लिए आयोजित कार्यशाला में भाग लेने वाले निम्नलिखित प्रतिभागियों की बहुमूल्य टिप्पणियों के बारे में परिषद् आभार व्यक्त करती है: समरकेतु, पी.जी.टी. (भौतिकी), जवाहर नवोदय विद्यालय, मेसरा, राँची; कुलदीप सिंह, टी.जी.टी. (विज्ञान), जवाहर नवोदय विद्यालय, सरधना, मेरठ, उत्तर प्रदेश; सुमित कुमार भटनागर, टी.जी.टी. (विज्ञान), सर्वोदय उच्चतर माध्यमिक विद्यालय, आनंद विहार, दिल्ली; ललित गुप्ता, टी.जी.टी. (विज्ञान), उच्चतर माध्यमिक विद्यालय नं. 2, उत्तम नगर, नयी दिल्ली; मनोज कुमार गुप्ता, प्रवक्ता (रसायन विज्ञान), मुखर्जी मेमोरियल उच्चतर माध्यमिक विद्यालय, शाहदरा, दिल्ली; बी. एन. पाण्डे, प्राचार्य, ऑर्डिनेंस फैक्ट्री, उच्चतर माध्यमिक विद्यालय, देहरादून; वी. एन. पाठक, प्रोफ़ेसर (रसायन विज्ञान), राजस्थान विश्वविद्यालय, जयपुर; आर. ए. गोयल, प्राचार्य (अवकाश प्राप्त), पीतमपुरा, दिल्ली; आर. जी. शर्मा, वरिष्ठ विज्ञान कार्जिसलर, साइंस सेंटर नं. 2, बसंत विहार, नयी दिल्ली; विजय कुमार, उपप्राचार्य, सर्वोदय उच्चतर माध्यमिक विद्यालय, आनंद विहार, दिल्ली; पी. एन. वाष्णीय, प्राचार्य (अवकाश प्राप्त), शिक्षा विभाग, दिल्ली; डी. सी. पाण्डेय, ए. डी. ई. (अवकाश प्राप्त), शिक्षा विभाग, नयी दिल्ली; सीमा गुप्ता, विज्ञान शिक्षिका, एस.एल.एस. डी.ए.वी. पब्लिक स्कूल, मौसम विहार, दिल्ली; जय प्रकाश गुप्ता, प्रवक्ता (भौतिक विज्ञान), डी. एस. कॉलेज, अलीगढ़; आई. पी. अग्रवाल, प्रोफ़ेसर (रसायन विज्ञान), क्षेत्रीय शिक्षा संस्थान, भोपाल।

शैक्षिक व प्रशासनिक सहयोग के लिए परिषद् एम. चन्द्रा, प्रोफ़ेसर तथा विभागाध्यक्ष, डी.ई.एस.एम, एन.सी.ई.आर.टी., नयी दिल्ली की आभारी है।

परिषद्, साएमा, विजय कुमार, रितु व मोहम्मद खालिद रज़ा, गीता, डी.टी.पी. ऑपरेटर; रणधीर ठाकुर, दुर्गा देवी, प्रूफ़ रीडर; सतीश झा, कल्पना वाजपेयी, मो. क्रमर तब्रेज़, गोविंद राम उपाध्याय, कॉपी एडीटर; दीपक कपूर, कंप्यूटर स्टेशन प्रभारी, डी.ई.एस.एम., एन.सी.ई.आर.टी. और प्रकाशन विभाग के सहयोग हेतु हार्दिक आभार ज्ञापित करती है।

विषय-सूची

आमुख	iii	
अध्याय 1	हमारे आस-पास के पदार्थ	1
अध्याय 2	क्या हमारे आस-पास के पदार्थ शुद्ध हैं	15
अध्याय 3	परमाणु एवं अणु	34
अध्याय 4	परमाणु की संरचना	52
अध्याय 5	जीवन की मौलिक इकाई	64
अध्याय 6	ऊतक	76
अध्याय 7	जीवों में विविधता	90
अध्याय 8	गति	108
अध्याय 9	बल तथा गति के नियम	126
अध्याय 10	गुरुत्वाकर्षण	145
अध्याय 11	कार्य तथा ऊर्जा	162
अध्याय 12	ध्वनि	179
अध्याय 13	हम बीमार क्यों होते हैं	198
अध्याय 14	प्राकृतिक संपदा	213
अध्याय 15	खाद्य संसाधनों में सुधार	228
उत्तरमाला		242
पारिभाषिक शब्दावली		245

भारत का संविधान

उद्देशिका

हम, भारत के लोग, भारत को एक ¹[संपूर्ण प्रभुत्व-संपन्न समाजवादी पंथनिरपेक्ष लोकतंत्रात्मक गणराज्य] बनाने के लिए, तथा उसके समस्त नागरिकों को :

सामाजिक, आर्थिक और राजनैतिक न्याय,
विचार, अभिव्यक्ति, विश्वास, धर्म
और उपासना की स्वतंत्रता,
प्रतिष्ठा और अवसर की समता

प्राप्त कराने के लिए,
तथा उन सब में

व्यक्ति की गरिमा और ²[राष्ट्र की एकता
और अखंडता] सुनिश्चित करने वाली बंधुता
बढ़ाने के लिए

दृढ़संकल्प होकर अपनी इस संविधान सभा में आज तारीख
26 नवंबर, 1949 ई. को एतद्वारा इस संविधान को
अंगीकृत, अधिनियमित और आत्मार्पित करते हैं।

1. संविधान (बयालीसवां संशोधन) अधिनियम, 1976 की धारा 2 द्वारा (3.1.1977 से) "प्रभुत्व-संपन्न लोकतंत्रात्मक गणराज्य" के स्थान पर प्रतिस्थापित।
2. संविधान (बयालीसवां संशोधन) अधिनियम, 1976 की धारा 2 द्वारा (3.1.1977 से) "राष्ट्र की एकता" के स्थान पर प्रतिस्थापित।

अध्याय 1

हमारे आस-पास के पदार्थ (Matter in Our Surroundings)

अपने चारों ओर नज़र दौड़ाने पर हमें विभिन्न प्रकार की वस्तुएँ नज़र आती हैं, जिनका आकार, आकृति और बनावट अलग-अलग होता है। इस विश्व में प्रत्येक वस्तु जिस सामग्री से बनी होती है उसे वैज्ञानिकों ने 'पदार्थ' का नाम दिया। जिस हवा में हम श्वास लेते हैं, जो भोजन हम खाते हैं, पत्थर, बादल, तारे, पौधे एवं पशु, यहाँ तक कि पानी की एक बूँद या रेत का एक कण, ये सभी पदार्थ हैं। ध्यान देने योग्य बात यह भी है कि ऊपर लिखी सभी वस्तुओं का द्रव्यमान होता है और ये कुछ स्थान (आयतन*) घेरती हैं।

प्राचीन काल से ही मनुष्य अपने आस-पास को समझने का प्रयास करता रहा है। भारत के प्राचीन दार्शनिकों ने पदार्थ को पाँच मूल तत्वों में वर्गीकृत किया, जिसे 'पंचतत्व' कहा गया। ये पंचतत्व हैं: वायु, पृथ्वी, अग्नि, जल और आकाश। उनके अनुसार, इन्हीं पंचतत्वों से सभी वस्तुएँ बनी हैं, चाहे वो सजीव हों, या निर्जीव। उस समय के यूनानी दार्शनिकों ने भी पदार्थ को इसी प्रकार वर्गीकृत किया है।

आधुनिक वैज्ञानिकों ने पदार्थ को भौतिक गुणधर्म एवं रासायनिक प्रकृति के आधार पर दो प्रकार से वर्गीकृत किया है।

इस अध्याय में हम भौतिक गुणों के आधार पर पदार्थ के बारे में ज्ञान अर्जित करेंगे। पदार्थ के रासायनिक पहलुओं को आगे के अध्यायों में पढ़ेंगे।

1.1 पदार्थ का भौतिक स्वरूप

1.1.1 पदार्थ कणों से मिलकर बना होता है

बहुत समय तक पदार्थ की प्रकृति के बारे में दो विचारधाराएँ प्रचलित थीं। एक विचारधारा का यह मानना था कि पदार्थ लकड़ी के टुकड़े की तरह सतत होते हैं। परंतु अन्य विचारधारा का मानना था कि पदार्थ रेत की तरह के कणों से मिलकर बने हैं। आइए एक क्रियाकलाप के द्वारा पदार्थ के स्वरूप के बारे में ये निर्णय करते हैं कि ये सतत हैं या कणों से बने हैं?

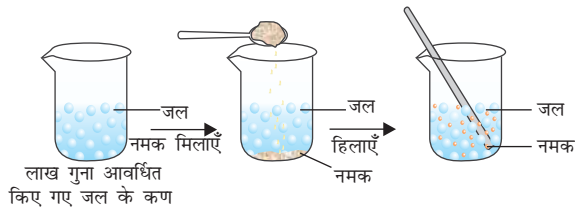
क्रियाकलाप 1.1

- एक 100 mL का बीकर लें। इस बीकर को जल से आधा भरकर जल के स्तर पर निशान लगा दें।
- दिए गए नमक या शर्करा को काँच की छड़ की मदद से जल में घोल दें।
- जल के स्तर में आए बदलाव पर ध्यान दें।
- आपके अनुसार, नमक या शर्करा का क्या हुआ?
- ये कहाँ गायब हो गए?
- क्या जल के स्तर में कोई बदलाव आया?

इन प्रश्नों के उत्तर पाने के लिए हमें इस विचार को स्वीकारना होगा कि सभी पदार्थ कणों से बने होते हैं। उपरोक्त क्रियाकलाप में चम्मच में रखी गई नमक या शर्करा अब पूरे पानी में घुल गई है। जैसा कि चित्र 1.1 में दर्शाया गया है।

* अंतर्राष्ट्रीय मात्रक पद्धति के अनुसार आयतन का मात्रक (1) घन मीटर (m^3) है। आयतन मापने का साधारण मात्रक लीटर (L) है।

1 L = 1 dm³, 1 L = 1000 mL, 1 m = 10³ cm³

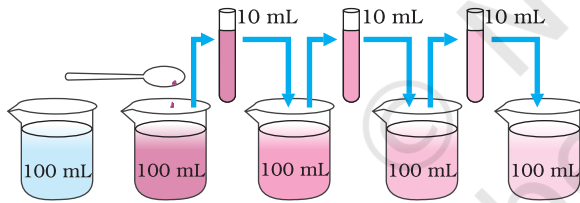


चित्र 1.1: जब हम जल में नमक घोलते हैं, तो नमक के कण जल के कणों के बीच के रिक्त स्थानों में समावेशित हो जाते हैं।

1.1.2 पदार्थ के ये कण कितने छोटे हैं?

क्रियाकलाप _____ 1.2

- पोटैशियम परमैंगनेट के दो या तीन क्रिस्टल को 100 mL पानी में घोल लें।
- इस घोल में से लगभग 10 mL घोल निकालकर उसे 90 mL जल में मिला दें।
- फिर इस उपरोक्त घोल में से 10 mL निकालकर उसे भी 90 mL जल में मिला दें।
- इसी प्रकार इस घोल को 5 से 8 बार तक तनुकृत करते रहें।
- क्या जल अब भी रंगीन है?



चित्र 1.2: अनुमान लगाइए कि पदार्थ के कण कितने छोटे हैं? प्रत्येक बार तनुकृत करने पर घोल का रंग हलका होता जाता है, फिर भी पानी रंगीन नजर आता है।

यह प्रयोग दर्शाता है कि पोटैशियम परमैंगनेट के बहुत थोड़े से क्रिस्टलों से पानी की बहुत अधिक मात्रा (1000 L) भी रंगीन हो जाती है। इससे हम ये निष्कर्ष निकाल सकते हैं कि पोटैशियम परमैंगनेट के केवल एक क्रिस्टल में कई सूक्ष्म कण होंगे। ये कण छोटे-छोटे कणों में विभाजित होते रहते हैं। अन्ततः

एक स्थिति में ये कण और छोटे भागों में विभाजित नहीं किये जा सकते हैं।

पोटैशियम परमैंगनेट की जगह 2 mL डेटॉल से भी हम ये क्रियाकलाप कर सकते हैं। लगातार तनुकृत होने पर भी उसकी महक हमें मिलती रहती है।

पदार्थ के कण बहुत छोटे होते हैं — इतने छोटे कि हम कल्पना भी नहीं कर सकते।

1.2 पदार्थ के कणों के अभिलाक्षणिक गुण

1.2.1 पदार्थ के कणों के बीच रिक्त स्थान होता है

क्रियाकलाप 1.1 और 1.2 में नमक, शर्करा, डेटॉल या पोटैशियम परमैंगनेट के कण समान रूप से पानी में वितरित हो गए। इसी प्रकार, जब हम चाय, कॉफ़ी या नींबू-पानी बनाते हैं, तो एक पदार्थ के कण दूसरे पदार्थ के कणों के रिक्त स्थानों में समावेशित हो जाते हैं। यह दर्शाता है, कि पदार्थ के कणों के बीच पर्याप्त रिक्त स्थान होता है।

1.2.2 पदार्थ के कण निरंतर गतिशील होते हैं

क्रियाकलाप _____ 1.3

- अपनी कक्षा के किसी कोने में एक बुझी हुई अगरबत्ती रख दें। इसकी सुगंध लेने के लिए आपको इसके कितने समीप जाना पड़ता है?
- अब अगरबत्ती जला दें। क्या होता है? क्या दूर से ही इसकी सुगंध आपको मिलती है?
- अपने प्रेक्षण को नोट करें।

क्रियाकलाप _____ 1.4

- जल से भरे दो गिलास या दो बीकर लें।
- पहले बीकर के एक सिरे पर सावधानी से एक बूँद लाल या नीली स्याही डाल दें और दूसरे में शहद डाल दें।
- इनको अपने घर में या कक्षा के एक कोने में रख दें।
- अपने प्रेक्षण को नोट करें।

- स्याही की बूँद डालने के तुरंत बाद आपने क्या देखा?
- शहद की बूँद डालने के तुरंत बाद आपने क्या देखा?
- स्याही का रंग पूरे जल में एकसमान रूप से फैलने में कितने दिन या घंटे लगते हैं?

क्रियाकलाप _____ 1.5

- एक गिलास गर्म पानी से और दूसरा ठंडे पानी से भरे गिलास में कॉपर सल्फेट या पोटैशियम परमैंगनेट का एक क्रिस्टल डालें और एक ओर रख दें। हिलाएँ नहीं।
- क्रिस्टल को सतह पर बैठने दें।
- गिलास में ठोस क्रिस्टल के ठीक ऊपर क्या दिखाई देता है?
- समय बीतने पर क्या होता है?
- इससे ठोस और द्रव के कणों के बारे में क्या पता चलता है?
- क्या तापमान के साथ मिश्रित होने की दर बदलती है? क्यों और कैसे?

उपरोक्त तीनों क्रियाकलापों (1.3, 1.4 और 1.5) से हम निम्नलिखित निष्कर्ष निकाल सकते हैं:

पदार्थ के कण निरंतर गतिशील होते हैं, अर्थात्, उनमें गतिज ऊर्जा होती है। तापमान बढ़ने से कणों की गति तेज हो जाती है। इसलिए हम कह सकते हैं कि तापमान बढ़ने से कणों की गतिज ऊर्जा भी बढ़ जाती है।

उपरोक्त तीनों क्रियाकलापों में हमने देखा कि पदार्थ के कण अपने आप ही एक-दूसरे के साथ अंतःमिश्रित हो जाते हैं। ऐसा कणों के रिक्त स्थानों में समावेश के कारण होता है। दो विभिन्न पदार्थों के कणों का स्वतः मिलना ही विसरण कहलाता है। हमें यह भी पता चलता है कि गर्म करने पर विसरण तेज हो जाता है। ऐसा क्यों होता है?

हमारे आस-पास के पदार्थ

1.2.3 पदार्थ के कण एक-दूसरे को आकर्षित करते हैं

क्रियाकलाप _____ 1.6

- इस खेल को एक मैदान में खेलें। आगे बताए गए ढंग से चार समूह बनाकर मानव-शृंखला बनाएँ:
- पहला समूह 'ईद्-मिशमी नर्तकों' की तरह एक-दूसरे को पीछे से कसकर पकड़ ले।



चित्र 1.3

- दूसरा समूह एक-दूसरे का हाथ पकड़कर मानव शृंखला बना ले।
- तीसरा समूह केवल उंगली के सिरे से छूकर एक शृंखला बना ले।
- अब चौथा समूह उपरोक्त वर्णित तीनों मानव शृंखलाओं को तोड़कर छोटे समूहों में बाँटने का प्रयास करे।
- किस समूह को तोड़ना आसान था? और क्यों?
- यदि हम प्रत्येक विद्यार्थी को पदार्थ का एक कण मानें, तो किस समूह में कणों ने एक-दूसरे को सबसे अधिक बल से पकड़ रखा था?

क्रियाकलाप _____ 1.7

- एक लोहे की कील, एक चॉक का टुकड़ा और एक रबर बैंड लें।
- इन पर हथौड़ा मार कर, काट कर, या खींचकर उसे भंगुर करने का प्रयास करें।
- इन तीनों में से किसके कण अधिक बल से एक-दूसरे से जुड़े हैं?

क्रियाकलाप _____ 1.8

- जल का नल खोलकर जल की धार को अपनी उँगली से काटने का प्रयास करें।
- क्या जल की धार कटती है?
- जल की धार न कटने का क्या कारण है?

उपरोक्त तीनों क्रियाकलाप सुझाते हैं कि पदार्थ के कणों के बीच एक बल कार्य करता है। यह बल कणों को एक साथ रखता है। इस आकर्षण बल का सामर्थ्य प्रत्येक पदार्थ में अलग-अलग होता है।

प्रश्न

1. निम्नलिखित में से कौन-से पदार्थ हैं - कुसी, वायु, स्नेह, गंध, घृणा, बादाम, विचार, शीत, शीतल पेय, इत्र की सुगंध।
2. निम्नलिखित प्रेक्षण के कारण बताएँ - गर्मा-गरम खाने की गंध कई मीटर दूर से ही आपके पास पहुँच जाती है लेकिन ठंडे खाने की महक लेने के लिए आपको उसके पास जाना पड़ता है।
3. स्वीमिंग पूल में गोताखोर पानी काट पाता है। इससे पदार्थ का कौन-सा गुण प्रेक्षित होता है?
4. पदार्थ के कणों की क्या विशेषताएँ होती हैं?

1.3 पदार्थ की अवस्थाएँ

अपने आस-पास के पदार्थों को ध्यान से देखें। ये कितने प्रकार के हैं? हम पाते हैं कि पदार्थ अपने तीन रूप में होते हैं — ठोस, द्रव और गैस। पदार्थ की ये अवस्थाएँ उसके कणों की विभिन्न विशेषताओं के कारण होती हैं।

अब हम पदार्थ की तीनों अवस्थाओं के गुणों का विस्तार से अध्ययन करेंगे।

1.3.1 ठोस अवस्था

क्रियाकलाप _____ 1.9

- निम्नलिखित वस्तुओं को एकत्रित करें - पेन, किताब, सूई और लकड़ी की छड़।

- इन वस्तुओं के चारों ओर पेंसिल घुमाकर इनके आकार का रेखाचित्र बनाएँ।
- क्या इन सभी का निश्चित आकार, स्पष्ट सीमाएँ तथा स्थिर आयतन है?
- इन पर हथौड़ा मारने, खींचने या गिराने से क्या होता है?
- क्या इनका एक-दूसरे में विसरण संभव है?
- बल लगाकर इनको संपीडित करने का प्रयास करें। क्या इनका संपीडन होता है?

उपरोक्त सभी उदाहरण ठोस के हैं। हम देख सकते हैं कि इन सभी का एक निश्चित आकार, स्पष्ट सीमाएँ तथा स्थिर आयतन यानी नगण्य संपीड्यता होती है। बाह्य बल लगाने पर भी ठोस अपने आकार को बनाए रखते हैं। बल लगाने पर ठोस टूट सकते हैं लेकिन इनका आकार नहीं बदलता। इसलिए ये दृढ़ होते हैं। निम्नलिखित पर विचार कीजिए:

- (a) रबर बैंड को क्या माना जाएगा। क्या खींचकर इसका आकार बदला जा सकता है? क्या ये ठोस है?
- (b) विभिन्न आकार के बर्तनों में रखने पर चीनी और नमक उन्हीं बर्तनों के आकार ले लेते हैं। क्या ये ठोस हैं?
- (c) स्पंज क्या है? यह ठोस है लेकिन फिर भी इसका संपीडन संभव है। क्यों?

ये सभी ठोस ही हैं क्योंकि-

- बाह्य बल लगाए जाने पर रबर बैंड का आकार बदलता है और बल हटा लेने पर यह पुनः अपने मूल आकार में आ जाता है। अत्यधिक बल लगाने पर यह टूट जाता है।
- चाहे हम शर्करा या नमक को अपने हाथ में लें, या किसी प्लेट या जार में रखें, इनके क्रिस्टलों के आकार नहीं बदलते हैं।
- स्पंज में बहुत छोटे छिद्र होते हैं, जिनमें वायु का समावेश होता है। जब हम इसे दबाते हैं तो वे वायु बाहर निकलती है, जिससे इसका संपीडन संभव होता है।

1.3.2 द्रव अवस्था

क्रियाकलाप _____ 1.10

- निम्नलिखित वस्तुओं को एकत्रित करें-
 - (a) जल, खाना पकाने का तेल, दूध, जूस, शीतल पेय।
 - (b) विभिन्न आकार के बर्तन। प्रयोगशाला के एक मापक सिलिंडर की सहायता से इन बर्तनों में 50 mL पर निशान लगा लें।
- इन द्रवों को फ़र्श पर डाल देने पर क्या होगा?
- किसी एक द्रव का 50 mL मापकर विभिन्न बर्तनों में क्रमशः एक-एक करके डालें। क्या प्रत्येक बार आयतन एकसमान रहता है?
- क्या द्रव का आकार एकसमान रहता है?
- द्रव को एक बर्तन से दूसरे बर्तन में उड़ेलने पर क्या यह आसानी से बहता है?

प्रेक्षण से हम पाते हैं कि द्रव का आकार नहीं लेकिन आयतन निश्चित होता है। जिस बर्तन में इन्हें रखा जाए तो ये उसी का आकार ले लेते हैं। द्रवों में बहाव होता है और इनका आकार बदलता है, इसीलिए ये दृढ़ नहीं लेकिन तरल होते हैं।

क्रियाकलाप 1.4 और 1.5 के संदर्भ में हमने देखा कि ठोस और द्रव का विसरण द्रवों में संभव है। वातावरण की गैसों विसरित होकर जल में घुल जाती हैं। ये गैसों, विशेषतः ऑक्सीजन एवं कार्बन डाइऑक्साइड जलीय जंतुओं तथा पौधों के लिए अनिवार्य होती हैं।

सभी जीवधारी अपने जीवन निर्वाह के लिए श्वास लेते हैं। जलीय जंतु जल में घुली ऑक्सीजन के कारण श्वास लेते हैं। इस तरह से हम इस निष्कर्ष पर पहुँचते हैं कि द्रव में ठोस, द्रव और गैस तीनों का विसरण संभव है। ठोसों की अपेक्षा द्रवों में विसरण की दर अधिक होती है। ऐसा इसलिए है क्योंकि द्रव अवस्था में पदार्थ के कण स्वतंत्र रूप से गति करते हैं और ठोस की अपेक्षा द्रव के कणों में रिक्त स्थान भी अधिक होता है।

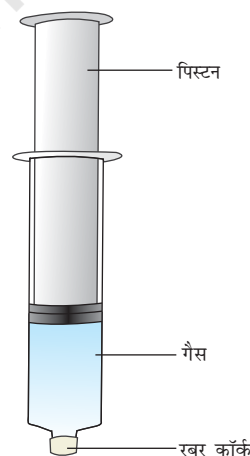
हमारे आस-पास के पदार्थ

1.3.3 गैसीय अवस्था

आपने कभी उस गुब्बारेवाले पर ध्यान दिया है, जो गैस के एक ही सिलिंडर से बहुत सारे गुब्बारों में हवा भरता है? उससे पता लगाएँ कि एक सिलिंडर से वह कितने गुब्बारे भरता है? उससे पूछिए कि सिलिंडर में कौन-सी गैस है?

क्रियाकलाप _____ 1.11

- 100 mL की तीन सिरिंज लें और उनके सिरे को रबर के कॉर्क से बंद कर दें, जैसा चित्र 1.4 में दिखाया गया है।
- सभी सिरिंजों के पिस्टन को हटा लें।
- पहली सिरिंज में हवा रहने दें, दूसरी में जल और तीसरी में चॉक के टुकड़े भर दें।
- पिस्टन को वापस सिरिंज में लगाएँ। सिरिंज के पिस्टन की गतिशीलता आसान करने के लिए उस पर थोड़ी वैसलीन लगा दें।
- अब पिस्टन को सिरिंज में डालकर संपीडित करने की कोशिश करें।



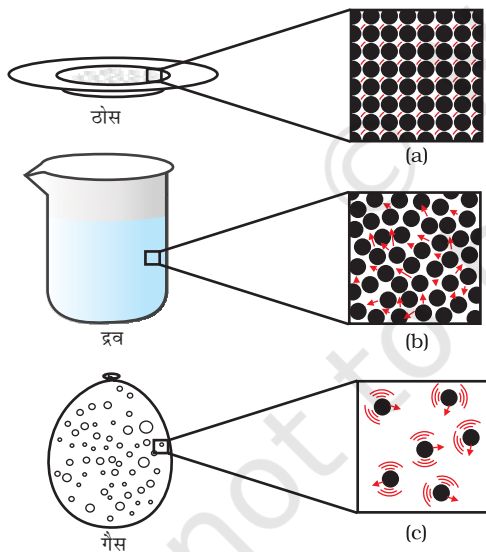
चित्र 1.4

- आपने क्या देखा? किस स्थिति में पिस्टन आसानी से अंदर चला गया?
- अपने प्रेक्षण से आपने क्या अनुमान लगाया?

हमने देखा कि ठोसों एवं द्रवों की तुलना में गैसों की संपीड्यता (compression) काफी अधिक होती है। हमारे घरों में खाना बनाने में उपयोग की जाने

वाली द्रवीकृत पेट्रोलियम गैस (LPG) या अस्पतालों में दिए जाने वाले ऑक्सीजन सिलिंडर में संपीडित गैस होती है। आजकल वाहनों में ईंधन के रूप में संपीडित प्राकृतिक गैस (CNG) का उपयोग होता है। संपीड्यता काफ़ी अधिक होने के कारण गैस के अत्यधिक आयतन को एक कम आयतन वाले सिलिंडर में संपीडित किया जा सकता है एवं आसानी से एक स्थान से दूसरे स्थान तक भेजा जा सकता है।

हमारी नाक तक पहुँचने वाली गंध से बिना रसोई में प्रवेश किए ही हम जान सकते हैं कि क्या पकाया जा रहा है? ये गंध हम तक कैसे पहुँचती है? खाने की गंध के कण वायु में मिल जाते हैं और रसोई से फैलकर हम तक पहुँच जाते हैं। यह गंध के कण और दूर भी जा सकते हैं। पके हुए गर्म खाने की महक हमारे पास तक कुछ ही क्षणों में पहुँच जाती है, इसकी तुलना ठोस एवं द्रवों के विसरण से करें। कणों की तेज़ गति और अत्यधिक रिक्त स्थानों के कारण गैसों का अन्य गैसों में विसरण बहुत तीव्रता से होता है।



चित्र 1.5: a, b तथा c पदार्थ की तीनों अवस्थाओं के कणों का योजनाबद्ध आवर्धित चित्रण है। तीनों अवस्थाओं में कणों की गति को देखा जा सकता है और उनकी तुलना की जा सकती है।

गैसीय अवस्था में कणों की गति अनियमित और अत्यधिक तीव्र होती है। इस अनियमित गति के कारण ये कण आपस में एवं बर्तन की दीवारों से टकराते हैं। बर्तन की दीवार पर गैस कणों द्वारा प्रति इकाई क्षेत्र पर लगे बल के कारण गैस का दबाव बनता है।

प्रश्न

1. किसी तत्व के द्रव्यमान प्रति इकाई आयतन को घनत्व कहते हैं।

(घनत्व = द्रव्यमान/आयतन)

बढ़ते हुए घनत्व के क्रम में निम्नलिखित को व्यवस्थित करें- वायु, चिमनी का धुआँ, शहद, जल, चॉक, रुई और लोहा।

2. (a) पदार्थ की विभिन्न अवस्थाओं के गुणों में होने वाले अंतर को सारणीबद्ध कीजिए।

(b) निम्नलिखित पर टिप्पणी कीजिए - दृढ़ता, संपीड्यता, तरलता, बर्तन में गैस का भरना, आकार, गतिज ऊर्जा एवं घनत्व।

3. कारण बताएँ -

(a) गैस पूरी तरह उस बर्तन को भर देती है, जिसमें इसे रखते हैं।

(b) गैस बर्तन की दीवारों पर दबाव डालती है।

(c) लकड़ी की मेज़ ठोस कहलाती है।

(d) हवा में हम आसानी से अपना हाथ चला सकते हैं, लेकिन एक ठोस लकड़ी के टुकड़े में हाथ चलाने के लिए हमें कराटे में दक्ष होना पड़ेगा।

4. सामान्यतया ठोस पदार्थों की अपेक्षा द्रवों का घनत्व कम होता है। लेकिन आपने बर्फ के टुकड़े को जल में तैरते हुए देखा होगा। पता लगाइए, ऐसा क्यों होता है?

1.4 क्या पदार्थ अपनी अवस्था को बदल सकता है?

अपने प्रेक्षण से हम जानते हैं कि जल पदार्थ की तीनों अवस्थाओं में रह सकता है:

- ठोस, जैसे बर्फ,
- द्रव, जैसे जल, एवं
- गैस, जैसे जलवाष्प।

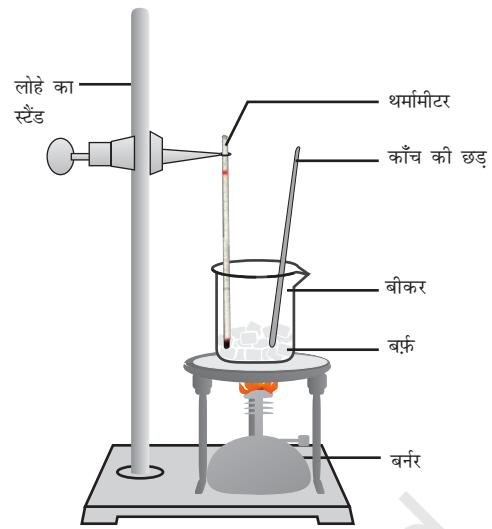
अवस्था बदलने के दौरान पदार्थ के अंदर क्या होता है? अवस्था के परिवर्तन से पदार्थ के कणों पर क्या प्रभाव पड़ता है? क्या हमें इन प्रश्नों का उत्तर नहीं खोजना चाहिए?

1.4.1 तापमान परिवर्तन का प्रभाव

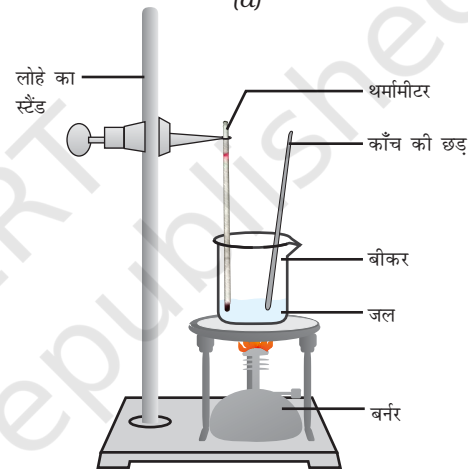
क्रियाकलाप _____ 1.12

- एक बीकर में 150 ग्राम बर्फ का टुकड़ा लें एवं चित्र 1.6 के अनुसार उसमें प्रयोगशाला में प्रयुक्त थर्मामीटर को इस प्रकार लटका दें कि थर्मामीटर का बल्ब बर्फ को छू रहा हो।
- धीमी आँच पर बीकर को गर्म करना शुरू करें।
- जब बर्फ पिघलने लगे, तो तापमान नोट कर लें।
- जब संपूर्ण बर्फ जल में परिवर्तित हो जाए, तो पुनः तापमान नोट करें।
- ठोस से द्रव अवस्था में होने वाले परिवर्तन में प्रेक्षण को नोट करें।
- अब बीकर में एक काँच की छड़ डालें और हिलाते हुए गर्म करें, जब तक जल उबलने न लगे।
- थर्मामीटर की माप पर बराबर नज़र रखें, जब तक कि अधिकतर जलवाष्प न बन जाए।
- जल के द्रव अवस्था से गैसीय अवस्था में परिवर्तन में प्रेक्षण को नोट करें।

ठोस के तापमान को बढ़ाने पर उसके कणों की गतिज ऊर्जा बढ़ जाती है। गतिज ऊर्जा में वृद्धि होने के कारण कण अधिक तेजी से कंपन करने लगते हैं। ऊष्मा के द्वारा प्रदत्त की गई ऊर्जा कणों के बीच के आकर्षण बल को पार कर लेती है। इस कारण कण अपने नियत स्थान को छोड़कर अधिक स्वतंत्र होकर गति करने लगते हैं। एक अवस्था ऐसी आती है, जब ठोस पिघलकर द्रव में परिवर्तित हो जाता है। जिस



(a)



(b)

चित्र 1.6: (a) बर्फ का जल बदलने की प्रक्रिया, (b) जल से जलवाष्प में बदलने की प्रक्रिया

तापमान पर ठोस पिघलकर द्रव बन जाता है, वह इसका **गलनांक** कहलाता है।

किसी ठोस का गलनांक उसके कणों के बीच के आकर्षण बल के सामर्थ्य को दर्शाता है।

बर्फ का गलनांक 273.16 K^* है। गलने की प्रक्रिया यानी ठोस से द्रव अवस्था में परिवर्तन को संगलन

*नोट : तापमान की अंतर्राष्ट्रीय (SI) मात्रक केल्विन (K) है, $0^\circ\text{C} = 273.16 \text{ K}$ होता है। सुविधा के लिए हम दशमलव का पूर्णांक बनाकर $0^\circ\text{C} = 273 \text{ K}$ ही मानते हैं। तापमान की माप केल्विन से सेल्सियस में बदलने के लिए दिए हुए तापमान से 273 घटाना चाहिए और सेल्सियस से केल्विन में बदलने के लिए दिए हुए तापमान में 273 जोड़ देना चाहिए।

भी कहते हैं। किसी ठोस के गलने की प्रक्रिया में तापमान समान रहता है, ऐसे में ऊष्मीय ऊर्जा कहाँ जाती है?

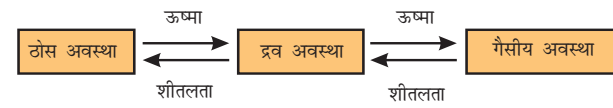
गलने के प्रयोग की प्रक्रिया के दौरान आपने ध्यान दिया होगा कि गलनांक पर पहुँचने के बाद, जब तक संपूर्ण बर्फ पिघल नहीं जाती, तापमान नहीं बदलता है। बिकर को ऊष्मा प्रदान करने के बावजूद भी ऐसा ही होता है। कणों के पारस्परिक आकर्षण बल को वशीभूत करके पदार्थ की अवस्था को बदलने में इस ऊष्मा का उपयोग होता है। चूँकि तापमान में बिना किसी तरह की वृद्धि दर्शाए इस ऊष्मीय ऊर्जा को बर्फ अवशोषित कर लेती है, यह माना जाता है कि यह बिकर में ली गई सामग्री में छुपी रहती है, जिसे गुप्त ऊष्मा कहते हैं। यहाँ गुप्त का अभिप्राय छुपी हुई से है। वायुमंडलीय दाब पर 1 kg ठोस को उसके गलनांक पर द्रव में बदलने के लिए जितनी ऊष्मीय ऊर्जा की आवश्यकता होती है, उसे संगलन की प्रसुप्त ऊष्मा कहते हैं, अर्थात् 0°C (273 K) पर जल के कणों की ऊर्जा उसी तापमान पर बर्फ के कणों की ऊर्जा से अधिक होती है।

जब हम जल में ऊष्मीय ऊर्जा देते हैं, तो कण अधिक तेज़ी से गति करते हैं। एक निश्चित तापमान पर पहुँचकर कणों में इतनी ऊर्जा आ जाती है कि वे परस्पर आकर्षण बल को तोड़कर स्वतंत्र हो जाते हैं। इस तापमान पर द्रव गैस में बदलना शुरू हो जाता है। वायुमंडलीय दाब पर वह तापमान जिस पर द्रव उबलने लगता है, उसे इसका क्वथनांक कहते हैं। क्वथनांक समष्टि गुण है। द्रव के सभी कणों को इतनी ऊर्जा मिल जाती है कि वे वाष्प में बदल जाते हैं।

जल के लिए यह तापमान 373 K ($100^\circ\text{C} = 273 + 100 = 373\text{ K}$)

क्या आप वाष्पीकरण की गुप्त ऊष्मा को परिभाषित कर सकते हैं? इसे उसी तरह परिभाषित कीजिए, जैसे हमने संगलन की प्रसुप्त ऊष्मा को परिभाषित किया है। 373 K (100°C) तापमान पर भाप अर्थात् वाष्प

के कणों में उसी तापमान पर पानी के कणों की अपेक्षा अधिक ऊर्जा होती है। ऐसा इसलिए है, क्योंकि भाप के कणों ने वाष्पीकरण की गुप्त ऊष्मा के रूप में अतिरिक्त ऊष्मा अवशोषित कर ली है।

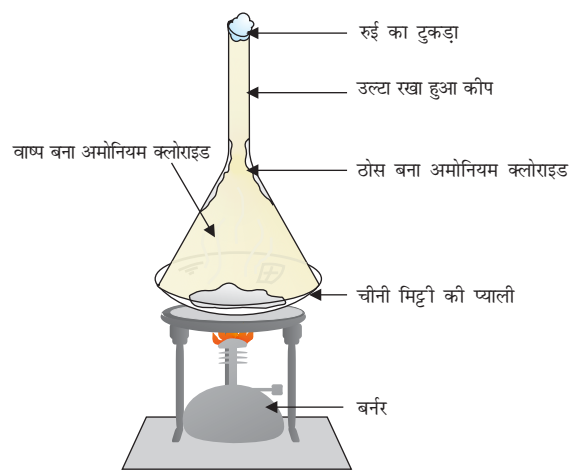


अतः हम यह कह सकते हैं कि तापमान बदलकर हम पदार्थ को एक अवस्था से दूसरी अवस्था में बदल सकते हैं।

हमने सीखा कि गर्म करने पर पदार्थ की अवस्था बदल जाती है। गर्म होने पर ये ठोस से द्रव और द्रव से गैस बन जाते हैं। लेकिन कुछ ऐसे पदार्थ हैं, जो द्रव अवस्था में परिवर्तित हुए बिना, ठोस अवस्था से सीधे गैस में और वापस ठोस में बदल जाते हैं।

क्रियाकलाप 1.13

- थोड़ा सा कपूर या अमोनियम क्लोराइड लें और इसे चूर्ण करके चीनी की प्याली (China dish) में डाल दें।
- एक कीप को उल्टा करके इस प्याली के ऊपर रख दें।
- इस कीप के एक सिरे पर रुई का एक टुकड़ा रख दें, जैसा चित्र 1.7 में दर्शाया गया है।



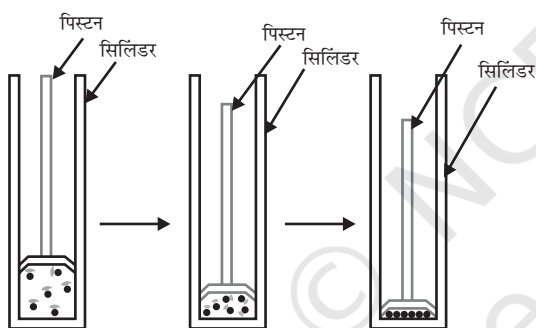
चित्र 1.7: अमोनियम क्लोराइड का ऊर्ध्वपातन

- अब धीरे-धीरे गर्म करें और ध्यान से देखें।
- उपरोक्त क्रियाकलाप से आप क्या निष्कर्ष निकाल सकते हैं?

द्रव अवस्था में परिवर्तित हुए बिना ठोस अवस्था से सीधे गैस और वापस ठोस में बदलने की प्रक्रिया को ऊर्ध्वपातन कहते हैं।

1.4.2 दाब-परिवर्तन का प्रभाव

हम जानते हैं कि घटक कणों के बीच की दूरी में अंतर होने के कारण पदार्थों की विभिन्न अवस्थाओं में अंतर होता है। किसी सिलिंडर में भरी गैस पर दाब लगाने एवं संपीड़न करने पर क्या होगा? क्या इसके कणों के बीच की दूरी कम हो जाएगी? क्या आपको लगता है कि दाब बढ़ाने या घटाने से पदार्थ की अवस्था में परिवर्तन हो सकता है?



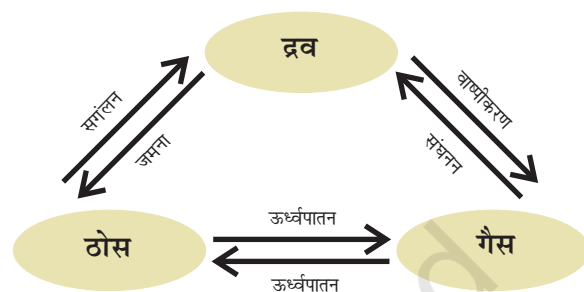
चित्र 1.8: दाब बढ़ाने पर पदार्थ के कणों को समीप लाया जा सकता है।

दाब के बढ़ने और तापमान घटने से गैस द्रव में बदल सकती है।

क्या आपने ठोस CO_2 के बारे में सुना है? इसे उच्च दाब पर संग्रहित किया जाता है। जब वायुमंडलीय दाब का माप 1 ऐटमॉस्फीयर (atm)* हो, तो ठोस CO_2 द्रव अवस्था में आए बिना सीधे गैस में परिवर्तित

हो जाती है। यही कारण है कि ठोस कार्बन डाइऑक्साइड को शुष्क बर्फ (dry ice) कहते हैं।

इस तरह से हम कह सकते हैं कि पदार्थ की अवस्थाएँ, यानी ठोस, द्रव और गैस, दाब और तापमान के द्वारा तय होती हैं।



चित्र 1.8: तीनों अवस्थाओं में पदार्थ का अंतरारूपांतरण

प्रश्न

1. निम्नलिखित तापमान को सेल्सियस में बदलें।
a. 300 K b. 573 K.
2. निम्नलिखित तापमान पर जल की भौतिक अवस्था क्या होगी?
a. 250 °C b. 100 °C ?
3. किसी भी पदार्थ की अवस्था परिवर्तन के दौरान तापमान स्थिर क्यों रहता है?
4. वायुमंडलीय गैसों को द्रव में परिवर्तन करने के लिए कोई विधि सुझाइए।

1.5 वाष्पीकरण

पदार्थ की अवस्था बदलने के लिए क्या सदैव ऊष्मा देना या दाब बदलना आवश्यक है? क्या अपने दैनिक जीवन से आप ऐसा कोई उदाहरण दे सकते हैं जिसमें बिना क्वथनांक पर पहुँचे हुए क्या कोई द्रव वाष्प अवस्था में बदल जाता है। जल को खुला छोड़ देने पर यह धीरे-धीरे वाष्प में परिवर्तित हो जाता है।

* ऐटमॉस्फीयर (atm) गैसीय दाब के मापन का मात्रक है। दाब का SI मात्रक पास्कल (Pa) है। $1 \text{ atm} = 1.01 \times 10^5 \text{ Pa}$ । वायुमंडल में वायु का दाब वायुमंडलीय दाब कहलाता है। समुद्र की सतह पर वायुमंडलीय दाब एक ऐटमॉस्फीयर होता है और इसे सामान्य दाब कहा जाता है।

गीले कपड़े सूख जाते हैं। इन दोनों उदाहरणों में जल का क्या हुआ?

हम जानते हैं कि पदार्थ के कण हमेशा गतिशील होते हैं और कभी रुकते नहीं। एक निश्चित तापमान पर गैस, द्रव या ठोस के कणों में विभिन्न मात्रा में गतिज ऊर्जा होती है। द्रवों में सतह पर स्थित कणों के कुछ अंशों में इतनी गतिज ऊर्जा होती है कि वे दूसरे कणों के आकर्षण बल से मुक्त हो जाते हैं। क्वथनांक से कम तापमान पर द्रव के वाष्प में परिवर्तित होने की इस प्रक्रिया को वाष्पीकरण कहते हैं।

1.5.1 वाष्पीकरण को प्रभावित करने वाले कारक

एक क्रियाकलाप के माध्यम से इसे समझते हैं।

क्रियाकलाप _____ 1.14

- एक परखनली में 5 mL जल लें और इसे खिड़की के पास या पंखे के नीचे रख दें।
- खुली रखी चीनी मिट्टी की प्याली में 5 mL जल रखकर उसे खिड़की के पास या पंखे के नीचे रख दें।
- खुली चीनी मिट्टी की प्याली में 5 mL जल रखकर उसे अपनी कक्षा की किसी अलमारी के अंदर रख दें।
- कमरे का तापमान नोट करें।
- इन सभी परिस्थितियों में वाष्पीकरण में लगे समय या दिन को भी नोट करें।
- बारिश के दिन भी इन क्रियाकलापों को करके अपने प्रेक्षण लिखें।
- वाष्पीकरण के निम्नलिखित तथ्यों के बारे में आप क्या अनुमान लगा सकते हैं? तापमान का प्रभाव, सतह का क्षेत्र और वायु की चाल।

आपने ध्यान दिया होगा कि वाष्पीकरण की दर निम्नलिखित के साथ बढ़ती है:

- सतह क्षेत्र बढ़ने पर: अब हम जानते हैं कि वाष्पीकरण एक सतही प्रक्रिया है। सतही क्षेत्र बढ़ने पर वाष्पीकरण की दर भी बढ़ जाती है। जैसे, कपड़े सुखाने के लिए हम उन्हें फैला देते हैं।

- तापमान में वृद्धि: तापमान बढ़ने पर अधिक कणों को पर्याप्त गतिज ऊर्जा मिलती है, जिससे वे वाष्पीकृत हो जाते हैं।
- आर्द्रता में कमी: वायु में विद्यमान जलवाष्प की मात्रा को आर्द्रता कहते हैं। किसी निश्चित तापमान पर हमारे आस-पास की वायु में एक निश्चित मात्रा में ही जल वाष्प होता है। जब वायु में जल कणों की मात्रा पहले से ही अधिक होगी, तो वाष्पीकरण की दर घट जाएगी।
- वायु की गति में वृद्धि: हम जानते हैं कि तेज वायु में कपड़े जल्दी सूख जाते हैं। वायु के तेज होने से जलवाष्प के कण वायु के साथ उड़ जाते हैं जिससे आस-पास के जल-वाष्प की मात्रा घट जाती है।

1.5.2 वाष्पीकरण के कारण शीतलता कैसे होती है?

खुले हुए बर्तन में रखे द्रव में निरंतर वाष्पीकरण होता रहता है। वाष्पीकरण के दौरान कम हुई ऊर्जा को पुनः प्राप्त करने के लिए द्रव के कण अपने आस-पास से ऊर्जा अवशोषित कर लेते हैं। इस तरह आस-पास से ऊर्जा के अवशोषित होने के कारण शीतलता हो जाती है।

जब आप एसीटोन (या नाखूनों की पॉलिश हटाने वाले द्रव) को अपनी हथेली पर गिराते हैं तो क्या होता है? इसके कण आपकी हथेली या उसके आस-पास से ऊर्जा प्राप्त कर लेते हैं और वाष्पीकृत हो जाते हैं जिससे हथेली पर शीतलता महसूस होती है।

तेज धूप वाले गर्म दिन के बाद लोग अपनी छत या खुले स्थान पर जल छिड़कते हैं। क्योंकि जल के वाष्पीकरण की गुप्त ऊष्मा गर्म सतह को शीतल बनाती है। क्या आप वाष्पीकरण के कारण शीतल होने के और उदाहरण दे सकते हैं?


गर्मियों में हमें सूती कपड़े क्यों पहनने चाहिए?

शारीरिक प्रक्रिया के कारण गर्मियों में हमें ज्यादा पसीना आता है, जिससे हमें शीतलता मिलती है। जैसा

अब वैज्ञानिक पदार्थ की पाँच अवस्थाओं की चर्चा कर रहे हैं: बोस-आइंस्टाइन कंडनसेट, ठोस, द्रव, गैस और प्लाज्मा।

प्लाज्मा - इस अवस्था में कण अत्यधिक ऊर्जा वाले और अधिक उत्तेजित होते हैं। ये कण आयनीकृत गैस के रूप में होते हैं। फ्लोरसेंट ट्यूब और नियॉन बल्ब में प्लाज्मा होता है। नियॉन बल्ब के अंदर नियॉन गैस और फ्लोरसेंट ट्यूब के अंदर हीलियम या कोई अन्य गैस होती है। विद्युत ऊर्जा प्रवाहित होने पर यह गैस आयनीकृत यानी आवेशित हो जाती है। आवेशित होने से ट्यूब या बल्ब के अंदर चमकीला प्लाज्मा तैयार होता है। गैस के स्वभाव के अनुसार इस प्लाज्मा में एक विशेष रंग की चमक होती है। प्लाज्मा के कारण ही सूर्य और तारों में भी चमक होती है। उच्च तापमान के कारण ही तारों में प्लाज्मा बनता है।

बोस-आइंस्टाइन कंडनसेट - सन् 1920 में भारतीय भौतिक वैज्ञानिक सत्येंद्रनाथ बोस ने पदार्थ की



एस. एन. बोस (1894 - 1974) अल्बर्ट आइंस्टाइन (1879 - 1955)

पाँचवीं अवस्था के लिए कुछ गणनाएँ की थीं। उन गणनाओं के आधार पर अल्बर्ट आइंस्टाइन ने पदार्थ की एक नई अवस्था की भविष्यवाणी की, जिसे बोस-आइंस्टाइन कंडनसेट (BEC) कहा गया। सन् 2001 में अमेरिका के एरिक ए. कॉर्नेल, उल्फगैंग केटरले और कार्ल ई. वेमैन को “बोस-आइंस्टाइन कंडनसेशन” की अवस्था प्राप्त करने के लिए भौतिकी में नोबेल पुरस्कार से सम्मानित किया गया। सामान्य वायु के घनत्व के एक लाखवें भाग जितने कम घनत्व वाली गैस को बहुत ही कम तापमान पर ठंडा करने से BEC तैयार होता है। www.chem4kids.com पर लॉग ऑन करके पदार्थ की चौथी और पाँचवीं अवस्था की और अधिक जानकारी प्राप्त की जा सकती है।

कि हम जानते हैं, वाष्पीकरण के दौरान द्रव की सतह के कण हमारे शरीर या आसपास से ऊर्जा प्राप्त करके वाष्प में बदल जाते हैं। वाष्पीकरण की प्रसुप्त ऊष्मा के बराबर ऊष्मीय ऊर्जा हमारे शरीर से अवशोषित हो जाती है, जिससे शरीर शीतल हो जाता है। चूँकि सूती कपड़ों में जल का अवशोषण अधिक होता है, इसलिए हमारा पसीना इसमें अवशोषित होकर वायुमंडल में आसानी से वाष्पीकृत हो जाता है।

बर्फीले जल से भरे गिलास की बाहरी सतह पर जल की बूँदें क्यों नज़र आती हैं?

किसी बर्तन में हम बर्फीला जल रखते हैं। जल्दी ही बर्तन की बाहरी सतह पर हमें जल की बूँदें नज़र आने लगेंगी। वायु में उपस्थित जलवाष्प की ऊर्जा

ठंडे पानी के संपर्क में आकर कम हो जाती है और यह द्रव अवस्था में बदल जाता है, जो हमें जल की बूँदों के रूप में नज़र आता है।

प्रश्न

1. गर्म, शुष्क दिन में कूलर अधिक ठंडा क्यों करता है?
2. गर्मियों में घड़े का जल ठंडा क्यों होता है?
3. एसीटोन/पेट्रोल या इत्र डालने पर हमारी हथेली ठंडी क्यों हो जाती है?
4. कप की अपेक्षा प्लेट से हम गर्म दूध या चाय जल्दी क्यों पी लेते हैं?
5. गर्मियों में हमें किस तरह के कपड़े पहनने चाहिए?



आपने क्या सीखा

- द्रव्य सूक्ष्म कणों से मिलकर बना होता है।
- हमारे आस-पास द्रव्य तीन अवस्थाओं में विद्यमान होता है: ठोस, द्रव और गैस।
- ठोस के कणों में आकर्षण बल सबसे अधिक, गैस के कणों में सबसे कम और द्रव के कणों में इन दोनों के मध्यवर्तीय होते हैं।
- ठोस के कणों में ठोसों को निहित करने वाले कणों के बीच का रिक्त स्थान और गतिज ऊर्जा न्यूनतम, गैसों के लिए यह अधिकतम किंतु द्रवों के लिए मध्यवर्तीय है।
- ठोसों के लिए उनके कणों की व्यवस्था अत्यधिक क्रमित होती है। द्रवों में कणों की परतें एक-दूसरे पर से फिसल व स्खलित हो सकती हैं, गैसों में कोई क्रम नहीं होता और इनके कण अनियमित रूप से विचरण करते हैं।
- पदार्थ की अवस्थाएँ अंतःपरिवर्तित होती हैं। पदार्थ की अवस्थाओं में परिवर्तन ताप और दाब में परिवर्तन से किया जा सकता है।
- ऊर्ध्वपातन प्रक्रम में ठोस पदार्थ द्रव में परिवर्तित हुए बिना ही सीधे गैसीय अवस्था में आ जाता है और गैसीय अवस्था से सीधे ठोस अवस्था में आ जाता है।
- क्वथनांक की समष्टि परिघटना जिसमें समष्टि के कण द्रव अवस्था से वाष्प में परिवर्तित होते हैं।
- वाष्पीकरण एक सतह की परिघटना है। सतह के कण पर्याप्त ऊर्जा ग्रहण कर उनके बीच के परस्पर आकर्षण बलों को पार कर लेते हैं और द्रव को वाष्प अवस्था में परिवर्तित कर देते हैं।
- वाष्पीकरण की गति निम्नलिखित कारकों पर निर्भर करती है: सतही क्षेत्रफल जिसका वायुमंडल के प्रति परित्याग होता है, तापमान, आर्द्रता और वायु की गति।
- वाष्पीकरण से ठंडक उत्पन्न होती है।
- वाष्पीकरण की गुप्त ऊष्मा ताप की वह मात्रा है जो 1 kg द्रव को वायुमंडलीय दाब और द्रव के क्वथनांक पर गैसीय अवस्था में परिवर्तन करने हेतु प्रयोग होती है।
- संगलन की गुप्त ऊष्मा ऊर्जा की वह मात्रा है जो 1 kg ठोस को वायुमंडलीय दाब पर ठोस को उसके संगलन बिंदु पर लाने के लिए प्रयोग होती है।

- कुछ मापने योग्य राशियाँ और उनके मात्रक जिनका हमें ज्ञान होना चाहिए।

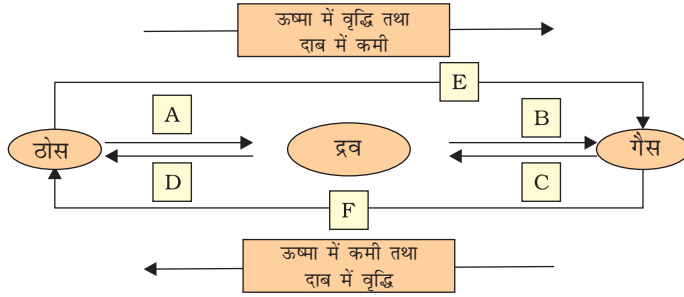
राशि	मात्रक	प्रतीक
तापमान	केल्विन	K
लंबाई	मीटर	m
संहति	किलोग्राम	kg
भार	न्यूटन	N
आयतन	घन मीटर	m ³
घनत्व	किलोग्राम प्रति घनमीटर	kg m ⁻³
दाब	पास्कल	Pa



अभ्यास

- निम्नलिखित तापमानों को सेल्सियस इकाई में परिवर्तित करें:
 - 300 K
 - 573 K.
- निम्नलिखित तापमानों को केल्विन इकाई में परिवर्तित करें:
 - 25 °C
 - 373 °C.
- निम्नलिखित अवलोकनों हेतु कारण लिखें:
 - नैफ्रथलीन को रखा रहने देने पर यह समय के साथ कुछ भी ठोस पदार्थ छोड़े बिना अदृश्य हो जाती है।
 - हमें इत्र की गंध बहुत दूर बैठे हुए भी पहुँच जाती है।
- निम्नलिखित पदार्थों को उनके कणों के बीच बढ़ते हुए आकर्षण के अनुसार व्यवस्थित करें:
 - जल
 - चीनी
 - ऑक्सीजन
- निम्नलिखित तापमानों पर जल की भौतिक अवस्था क्या है:
 - 25 °C
 - 0 °C
 - 100 °C ?
- पुष्टि हेतु कारण दें:
 - जल कमरे के ताप पर द्रव है।
 - लोहे की अलमारी कमरे के ताप पर ठोस है।
- 273 K पर बर्फ को ठंडा करने पर तथा जल को इसी तापमान पर ठंडा करने पर शीतलता का प्रभाव अधिक क्यों होता है?
- उबलते हुए जल अथवा भाप में से जलने की तीव्रता किसमें अधिक महसूस होती है?

9. निम्नलिखित चित्र के लिए A, B, C, D, E तथा F की अवस्था परिवर्तन को नामांकित करें:



समूह हेतु क्रियाकलाप

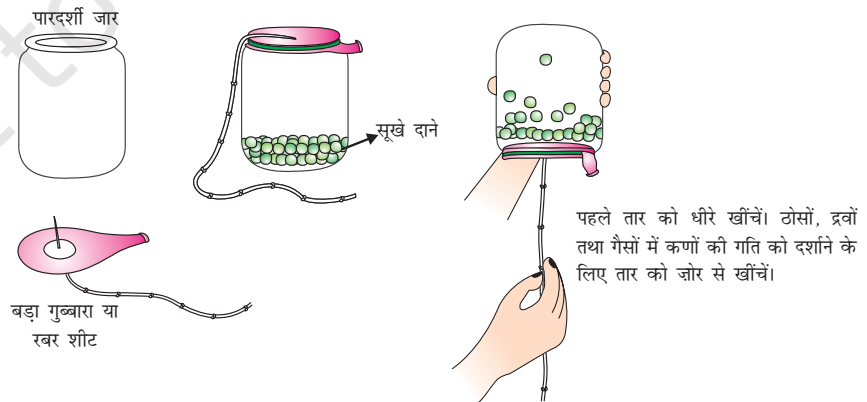
ठोसों, द्रवों और गैसों में कणों की गतिशीलता दर्शाने के लिए एक प्रतिदर्श का निर्माण करें।

इसका निर्माण करने हेतु आपको इनकी आवश्यकता पड़ेगी

- एक पारदर्शी जार
- एक बड़ा रबर का गुब्बारा अथवा खींची गई रबर की एक शीट
- एक तार
- कुछ कुक्कुट को डाले जाने वाले दाने अथवा काले चने अथवा शुष्क हरे दाने।

प्रतिदर्श का निर्माण कैसे किया जाए?

- दानों को जार में डालें
- तार को रबर शीट के मध्य में पिरो दें और इसे सुरक्षा की दृष्टि से टेप के माध्यम से कस कर बाँधें।
- अब रबर शीट को खींचें और इसे जार के मुख पर बाँध दें।
- आपका प्रतिदर्श तैयार है। अब आप उँगली के माध्यम से तार को ऊपर नीचे धीरे से या तेज़ी से सरका सकते हैं।




चित्र 1.10: ठोस से द्रव और द्रव से गैस में परिवर्तन के लिए एक प्रतिदर्श

अध्याय 2

क्या हमारे आस-पास के पदार्थ शुद्ध हैं (Is Matter Around Us Pure)

हम कैसे जान सकते हैं कि बाजार से खरीदा हुआ दूध, घी, मक्खन, नमक, मसाला, मिनरल जल या जूस शुद्ध हैं?



चित्र 2.1: रसोई में उपयोग की जाने वाली कुछ वस्तुएँ

क्या आपने कभी इन खाने वाले पदार्थों के डिब्बों के ऊपर लिखे 'शुद्ध' शब्द पर ध्यान दिया है? एक साधारण व्यक्ति के लिए शुद्ध का अर्थ होता है कि पदार्थ में कोई मिलावट न हो लेकिन, वैज्ञानिकों के लिए ये सभी वस्तुएँ विभिन्न पदार्थों के मिश्रण हैं, अतः शुद्ध नहीं हैं। उदाहरण के लिए दूध जल, वसा, प्रोटीन आदि का मिश्रण है। जब एक वैज्ञानिक किसी पदार्थ को शुद्ध कहता है तो इसका तात्पर्य है कि उस पदार्थ में मौजूद सभी कण समान रासायनिक प्रकृति के हैं। एक शुद्ध पदार्थ एक ही प्रकार के कणों से मिलकर बना होता है।

जब हम अपने चारों ओर देखते हैं तो पाते हैं कि सभी पदार्थ दो या दो से अधिक शुद्ध अवयवों के मिलने से बने हैं, उदाहरण के लिए, समुद्र का जल, खनिज, मिट्टी आदि सभी मिश्रण हैं।

2.1 मिश्रण क्या है?

मिश्रण, जिसे पदार्थ कहा जाता है, एक या एक से अधिक शुद्ध तत्वों या यौगिकों से मिलकर बना होता है।

किसी पदार्थ को अन्य प्रकार के तत्वों में भौतिक प्रक्रम द्वारा पृथक् नहीं किया जा सकता है। हम जानते हैं कि जल में घुले हुए सोडियम क्लोराइड को वाष्पीकरण या आसवन विधि द्वारा जल से पृथक् किया जा सकता है। यद्यपि, सोडियम क्लोराइड अपने आप में एक पदार्थ है और इसे भौतिक विधि के द्वारा इसके रासायनिक अवयवों में पृथक् नहीं किया जा सकता है। इसी प्रकार चीनी एक पदार्थ है क्योंकि यह एक ही प्रकार का शुद्ध अवयव रखता है और इसका यौगिक समान रहता है।

पेय पदार्थ और मिट्टी में एकसमान कण नहीं हैं। किसी भी स्रोत से प्राप्त होने वाले किसी एक पदार्थ के अभिलाक्षणिक गुण एकसमान होंगे।

इस प्रकार हम कह सकते हैं कि मिश्रण में एक से अधिक पदार्थ होते हैं।

2.1.1 मिश्रण के प्रकार

अवयवों की प्रकृति के अनुसार विभिन्न प्रकार के मिश्रणों का निर्माण होता है। इस तरह मिश्रण के कई प्रकार होते हैं।

क्रियाकलाप _____ 2.1

- कक्षा को अ, ब, स और द समूहों में बाँटें।
- एक बीकर जिसमें 50 mL जल और एक चम्मच कॉपर सल्फेट चूर्ण हो, समूह 'अ' को दें।
- समूह 'ब' को एक बीकर में 50 mL जल तथा दो चम्मच कॉपर सल्फेट चूर्ण दें।
- कॉपर सल्फेट और पोटेशियम परमैंगनेट या साधारण नमक (सोडियम क्लोराइड) समूह 'स' और 'द' को दें। (दोनों को अवयवों की पृथक्-पृथक् मात्रा दें)।

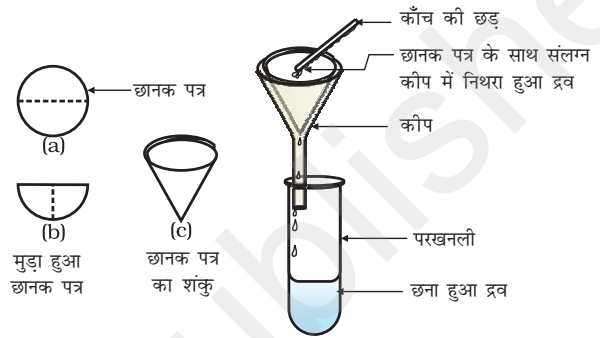
- अब पृथक्-पृथक् समूह के उन अवयवों को मिलाकर मिश्रण तैयार करें।
- उनके रंग और बनावट के आधार पर एक रिपोर्ट तैयार करें।
- समूह 'अ' और 'ब' को एक मिश्रण प्राप्त होता है जिसकी बनावट समान होती है। इस तरह के मिश्रण को हम समांगी मिश्रण अथवा विलयन कहते हैं। इस तरह के मिश्रणों के कुछ अन्य उदाहरण हैं, जल में नमक और जल में चीनी। दोनों समूहों से प्राप्त घोल के रंगों की तुलना करें। यद्यपि दोनों समूह के पास कॉपर सल्फेट का घोल है, लेकिन उन दोनों घोल के रंगों की तीव्रता पृथक्-पृथक् है। यह दिखलाता है कि समांगी मिश्रण पृथक्-पृथक् संघटन रख सकते हैं।
- समूह 'स' और 'द' ने जो मिश्रण प्राप्त किया है, उनके अंश भौतिक दृष्टि से पृथक् हैं। इस तरह के मिश्रण को विषमांगी मिश्रण कहते हैं। सोडियम क्लोराइड और लोहे की छीलन, नमक और सल्फर एवं जल और तेल विषमांगी मिश्रण के अन्य उदाहरण हैं।

क्रियाकलाप 2.2

- आइए पुनः कक्षा को चार समूहों अ, ब, स और द में बाँटें।
- प्रत्येक समूह को नीचे दिए हुए नमूने में से एक दें:
 - समूह 'अ' को कॉपर सल्फेट के कुछ क्रिस्टल दें।
 - समूह 'ब' को एक चम्मच कॉपर सल्फेट दें।
 - समूह 'स' को चॉक का चूर्ण या गेहूँ का आटा दें।
 - समूह 'द' को दूध या स्याही की कुछ बूँदें दें।
- छात्रों को काँच की छड़ की सहायता से नमूनों को जल में मिलाने को कहें। क्या कण जल में दिखाई देते हैं?
- अब टॉर्च से प्रकाश की किरण को बीकर पर डालें और इसको सामने से देखें। क्या प्रकाश की किरण का मार्ग दिखाई देता है?
- अब मिश्रण को कुछ समय तक शांत छोड़ दें। इस बीच मिश्रण छानने वाले उपकरण को तैयार कर लें। क्या मिश्रण स्थिर है या

कुछ समय के बाद कण नीचे बैठना शुरू करते हैं?

- मिश्रण को छान लें। क्या छानक पत्र पर कुछ शेष बचा है?
- कक्षा में परिणामों पर चर्चा कर इस क्रिया पर एक मत बनाने का प्रयत्न करें।
- समूह 'अ' और 'ब' एक विलयन पाते हैं।
- समूह 'स' एक निलंबन पाता है।
- समूह 'द' एक कोलाइड विलयन पाता है।



चित्र 2.2: निस्यंदन (छानने की प्रक्रिया)

अब हम विलयनों, निलंबनों और कोलाइड विलयनों के बारे में पढ़ेंगे।

प्रश्न

1. पदार्थ से आप क्या समझते हैं?
2. समांगी और विषमांगी मिश्रणों में अंतर बताएँ।

2.2 विलयन क्या है?

विलयन दो या दो से अधिक पदार्थों का समांगी मिश्रण है। आप प्रतिदिन बहुत प्रकार के विलयनों को देखते होंगे। नींबू जल, सोडा जल आदि विलयन के उदाहरण हैं। प्रायः हम एक विलयन को ऐसे तरल पदार्थ के रूप में विचार करते हैं जिसमें ठोस, द्रव या गैस मिले हों लेकिन प्रकृति में ठोस विलयन (मिश्र धातु) और गैसीय विलयन (वायु) भी होते हैं। एक

विलयन के कणों में समांगिकता होती है। उदाहरण के लिए नींबू जल का स्वाद सदैव समान रहता है। यह दर्शाता है कि इस विलयन में चीनी और नमक के कण समान रूप से वितरित होते हैं।

इसे भी जानें

मिश्र धातुएँ: ये धातुओं के समांगी मिश्रण होते हैं जिन्हें भौतिक क्रिया द्वारा अवयवों में पृथक् नहीं किया जा सकता है लेकिन फिर भी मिश्र धातुओं को मिश्रण माना जाता है क्योंकि ये अपने घटकों के गुणों को दर्शाते हैं और पृथक्-पृथक् संघटन रखते हैं। उदाहरण के लिए पीतल, जिंक (लगभग 30%) और कॉपर (लगभग 70%) का मिश्रण है।

किसी विलयन को दो भागों विलायक और विलय में बाँटा जाता है। विलयन का वह घटक (जिनकी मात्रा दूसरे से अधिक होती है) जो दूसरे घटक को विलयन में मिलाता है उसे विलायक कहते हैं। विलयन का वह घटक (प्रायः कम मात्रा में होता है) जो कि विलायक में घुला होता है उसे विलेय कहते हैं।

उदाहरण के लिए:

- चीनी और जल का विलयन एक तरल घोल में ठोस का उदाहरण है। इसमें चीनी विलेय है और जल विलायक है।
- आयोडिन और ऐल्कोहॉल का विलयन जिसे टिंक्चर आयोडीन के नाम से जाना जाता है, इसमें आयोडीन विलेय है और ऐल्कोहॉल विलायक है।
- वातयुक्त पेय जैसे सोडा जल, कोक इत्यादि तरल विलयन में गैस के रूप में हैं। इनमें कार्बन डाइऑक्साइड गैस विलेय और जल विलायक है।
- वायु गैस में गैस का विलयन है। यह मुख्यतः दो घटकों ऑक्सीजन (21%) और नाइट्रोजन (78%) का समांगी मिश्रण है। नाइट्रोजन को

वायु का विलायक कहा जाता है। वायु में दूसरी गैसों बहुत कम मात्रा में उपलब्ध होती हैं।

विलयन के गुण

- विलयन एक समांगी मिश्रण है।
- विलयन के कण व्यास में 1 nm (10^{-9} metre) से भी छोटे होते हैं। इसलिए वे आँख से नहीं देखे जा सकते हैं।
- अपने छोटे आकार के कारण विलयन के कण, गुजर रही प्रकाश की किरण को फैलाते नहीं हैं। इसलिए विलयन में प्रकाश का मार्ग दिखाई नहीं देता।
- छानने की विधि द्वारा विलेय के कणों को विलयन में से पृथक् नहीं किया जा सकता है। विलयन को शांत छोड़ देने पर भी विलेय के कण नीचे नहीं बैठते हैं, अर्थात् विलयन स्थाई है।

2.2.1 विलयन की सांद्रता

क्रियाकलाप 2.2 में हमने देखा कि समूह 'अ' और समूह 'ब' के पास एक ही पदार्थ के विभिन्न आभाओं के रंगों के विलयन हैं। हम लोग जानते हैं कि विलयन में पृथक्-पृथक् मात्रा में विलायक और विलेय पदार्थ होते हैं। विलयन में मौजूद विलेय पदार्थ की मात्रा के आधार पर इसे तनु, सांद्र या संतृप्त घोल कहा जा सकता है। तनु और सांद्र तुलनात्मक शब्द हैं। क्रियाकलाप 2.2 में समूह 'अ' द्वारा प्राप्त विलयन समूह 'ब' की तुलना में तनु है।

क्रियाकलाप 2.3

- दो पृथक्-पृथक् बीकरों में 50 mL जल लें।
- एक बीकर में नमक और दूसरे में चीनी अथवा बेरियम क्लोराइड मिलाकर अच्छी तरह मिला लें।
- जब विलेय पदार्थ और अधिक न घुले तब 5°C ताप बढ़ाने के लिए बीकर को गर्म करें।
- विलेय पदार्थ को पुनः मिलाना शुरू करें।

क्या हमारे आस-पास के पदार्थ शुद्ध हैं

क्या किसी दिए गए ताप पर चीनी, नमक अथवा बेरियम क्लोराइड की जल में घोली गई मात्राएँ बराबर हैं?

किसी निश्चित तापमान पर उतना ही विलेय पदार्थ घुल सकता है जितनी कि विलयन की क्षमता होती है। दूसरे शब्दों में, दिए गए निश्चित तापमान पर यदि विलयन में विलेय पदार्थ नहीं घुलता है तो उसे संतृप्त विलयन कहते हैं। विलेय पदार्थ की वह मात्रा, जो इस ताप पर संतृप्त विलयन में उपस्थित है, उसकी घुलनशीलता कहलाती है।

यदि एक विलयन में विलेय पदार्थ की मात्रा संतृप्तता से कम है तो इसे असंतृप्त विलयन कहा जाता है।

यदि विलयन में विलेय पदार्थ की सांद्रता संतृप्त स्तर से कम हो तो उसे असंतृप्त विलयन कहते हैं।

यदि आप किसी विशिष्ट ताप पर एक संतृप्त विलयन लें तथा उसे धीरे-धीरे ठंडा करें तो क्या होगा?

उपरोक्त किए गए क्रियाकलाप से हम कह सकते हैं कि दिए हुए एक निश्चित तापमान पर पृथक्-पृथक् पदार्थों की विलयन क्षमता भिन्न होती है।

विलायक की मात्रा (द्रव्यमान अथवा आयतन) में घुले हुए विलेय पदार्थ की मात्रा को अथवा विलेय पदार्थ की मात्रा जो विलयन के किसी दी गई मात्रा अथवा आयतन में उपस्थित हो, उसे विलयन की सांद्रता कहते हैं।

$$\text{विलयन की सांद्रता} = \frac{\text{विलेय की मात्रा}}{\text{विलयन की मात्रा}}$$

या

$$\frac{\text{विलेय की मात्रा}}{\text{विलायक की मात्रा}}$$

विलयन की सांद्रता को दर्शाने की बहुत सी विधियाँ हैं, लेकिन हम यहाँ सिर्फ़ दो विधियों के बारे में चर्चा करेंगे।

(i) द्रव्यमान/विलयन के द्रव्यमान प्रतिशत

$$= \frac{\text{विलेय पदार्थ का द्रव्यमान}}{\text{विलयन का द्रव्यमान}} \times 100$$

(ii) द्रव्यमान/विलयन के आयतन प्रतिशत

$$= \frac{\text{विलेय पदार्थ का द्रव्यमान}}{\text{विलयन का आयतन}} \times 100$$

उदाहरण 2.1 एक विलयन के 320 g विलायक जल में 40 g साधारण नमक विलेय है। विलयन की सांद्रता का परिकलन करें।

हल:

विलेय पदार्थ (नमक) का द्रव्यमान = 40 g
विलायक (जल) का द्रव्यमान = 320 g
हम जानते हैं,

$$\begin{aligned} \text{विलयन का द्रव्यमान} &= \text{विलेय पदार्थ का द्रव्यमान} + \text{विलायक का द्रव्यमान} \\ &= 40 \text{ g} + 320 \text{ g} \\ &= 360 \text{ g} \end{aligned}$$

विलयन का द्रव्यमान प्रतिशत

$$\begin{aligned} &= \frac{\text{विलेय पदार्थ का द्रव्यमान}}{\text{विलयन का द्रव्यमान}} \times 100 \\ &= \frac{40}{360} \times 100 = 11.1\% \end{aligned}$$

2.2.2 निलंबन क्या है?

क्रियाकलाप 2.2 में समूह 'स' के द्वारा पाया गया विषमांगी घोल जो ठोस द्रव में परिक्षेपित हो जाता है, निलंबन कहलाता है। निलंबन एक विषमांगी मिश्रण है, जिसमें विलेय पदार्थ कण घुलते नहीं हैं बल्कि माध्यम की समष्टि में निलंबित रहते हैं। ये निलंबित कण आँखों से देखे जा सकते हैं।

निलंबन के गुणधर्म

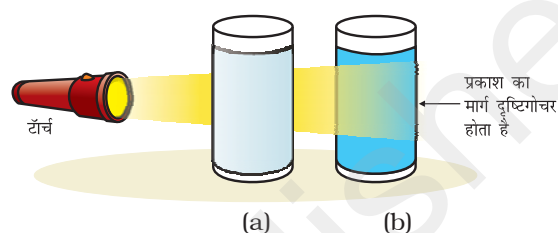
- यह एक विषमांगी मिश्रण है।
- ये कण आँखों से देखे जा सकते हैं।
- ये निलंबित कण प्रकाश की किरण को फैला देते हैं, जिससे उसका मार्ग दृष्टिगोचर हो जाता है।
- जब इसे शांत छोड़ देते हैं तब ये कण नीचे की ओर बैठ जाते हैं अर्थात् निलंबन अस्थायी होता है। छानन विधि द्वारा इन कणों को मिश्रण से पृथक् किया जा सकता है।

जब सभी कण नीचे बैठ जाते हैं तो निलंबन समाप्त हो जाता है तथा विलयन में प्रकाश की किरण का प्रकीर्णन रुक जाता है।

2.2.3 कोलाइडल विलयन क्या है?

क्रियाकलाप 2.2 में समूह 'द' के द्वारा प्राप्त मिश्रण को कोलाइड या कोलाइडल विलयन कहा जाता है। कोलाइड के कण विलयन में समान रूप से फैले होते हैं। निलंबन की अपेक्षा कणों का आकार छोटा होने के कारण यह मिश्रण समांगी प्रतीत होता है लेकिन वास्तविकता में विलयन विषमांगी मिश्रण है, जैसे दूध।

कोलाइडल कणों के छोटे आकार के कारण हम इसे आँख से नहीं देख पाते हैं लेकिन ये कण प्रकाश की किरण को आसानी से फैला देते हैं, जैसा कि हमने क्रियाकलाप 2.2 में देखा है। प्रकाश की किरण का फैलाना टिनडल प्रभाव (Tyndall effect) कहा जाता है। टिनडल नामक वैज्ञानिक ने इसकी खोज की थी। एक कमरे में छोटे छिद्र के द्वारा जब प्रकाश की किरण आती है तब वहाँ पर हम टिनडल प्रभाव को देख सकते



चित्र 2.3: (a) कॉपर सल्फेट का विलयन टिनडल प्रभाव नहीं दर्शाता है; (b) दूध तथा पानी का मिश्रण टिनडल प्रभाव दर्शाता है

हैं। यह कमरे में मौजूद धूल और कार्बन के कणों के द्वारा प्रकाश के फैलने के कारण होता है।

जब एक घने जंगल के आच्छादन से सूर्य की किरण गुजरती है वहाँ हम टिनडल प्रभाव को देख सकते हैं। जंगल के कोहरे में छोटे-छोटे जल के कण होते हैं जो कि कोलाइड कणों के समान व्यवहार करते हैं।

सारणी 2.1: कोलाइड्स के सामान्य उदाहरण

परिक्षिप्त प्रावस्था	परिक्षेपण माध्यम	प्रकार	उदाहरण
द्रव	गैस	ऐरोसोल	कोहरा, बादल, कुहासा
ठोस	गैस	ऐरोसोल	धुआँ, स्वचालित वाहन का निथार (exhaust)
गैस	द्रव	फ़ोम	शेविंग क्रीम
द्रव	द्रव	इमल्शन	दूध, फ़ेस क्रीम
ठोस	द्रव	सोल	मैगनेशिया-मिल्क, कीचड़
गैस	ठोस	फ़ोम	फ़ोम, रबड़, स्पंज, प्यूमिस
द्रव	ठोस	जैल	जेली, पनीर, मक्खन
ठोस	ठोस	ठोस सोल	रंगीन रत्न पत्थर, दूधिया काँच

क्या हमारे आस-पास के पदार्थ शुद्ध हैं



चित्र 2.4: टिनडल प्रभाव

कोलाइड के गुणधर्म

- यह एक विषमांगी मिश्रण है।
- कोलाइड के कणों का आकार इतना छोटा होता है कि ये पृथक् रूप में आँखों से नहीं देखे जा सकते हैं।
- ये इतने बड़े होते हैं कि प्रकाश की किरण को फैलाते हैं तथा उसके मार्ग को दृश्य बनाते हैं।
- जब इनको शांत छोड़ दिया जाता है तब ये कण तल पर बैठते हैं अर्थात् ये स्थायी होते हैं।
- ये छानन विधि द्वारा मिश्रण से पृथक् नहीं किए जा सकते। किंतु एक विशेष विधि अपकेंद्रीकरण तकनीक (क्रियाकलाप 2.5) द्वारा पृथक् किए जा सकते हैं।

कोलाइडल विलयन परिक्षिप्त प्रावस्था और परिक्षेपण माध्यम से बनता है। विलेय पदार्थ की तरह का घटक या परिक्षिप्त कण जो कि कोलाइडल रूप में रहता है उसे परिक्षिप्त प्रावस्था (dispersed phase) कहते हैं तथा वह घटक जिसमें परिक्षिप्त प्रावस्था निलंबित रहता है, उसे परिक्षेपण माध्यम (dispersing medium) कहते हैं। कोलाइडल को परिक्षेपण माध्यम (ठोस, द्रव या गैस) की अवस्था और परिक्षिप्त प्रावस्था के अनुसार वर्गीकृत किया जाता है। सारणी 2.1 में कुछ उदाहरण दिए गए हैं।

प्रश्न

1. उदाहरण के साथ समांगी एवं विषमांगी मिश्रणों में विभेद कीजिए।
2. विलयन, निलंबन और कोलाइड एक-दूसरे से किस प्रकार भिन्न हैं?
3. एक संतृप्त विलयन बनाने के लिए 36 g सोडियम क्लोराइड को 100 g जल में 293 K पर घोला जाता है। इस तापमान पर इसकी सांद्रता प्राप्त करें।

2.3 मिश्रण के घटकों का पृथक्करण

हम पढ़ चुके हैं कि प्रायः प्राकृतिक पदार्थ रासायनिक तौर पर शुद्ध नहीं होते हैं। मिश्रण से घटकों को पृथक् करने के लिए विभिन्न प्रकार की विधियाँ प्रयोग में लाई जाती हैं। पृथक् करने से मिश्रण के प्रत्येक घटक के बारे में जानकारी प्राप्त करना और प्रयोग में लाना सुगम हो जाता है।

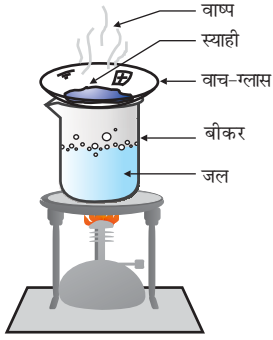
विषमांगी मिश्रण को साधारण भौतिक क्रिया द्वारा पृथक् किया जा सकता है, जैसे हाथ से चुनकर, छन्नी से छानकर, जो हम प्रतिदिन व्यवहार में लाते हैं। कभी-कभी मिश्रण से घटकों को पृथक् करने के लिए विशेष तकनीकों को प्रयोग में लाया जाता है।

2.3.1 रंग वाले घटक (डाई) को नीले अथवा काले रंग की स्याही से कैसे पृथक् कर सकते हैं?

क्रियाकलाप _____ 2.4

- आधा बीकर जल लें।
- बीकर के मुख पर वाच-ग्लास रखें (चित्र 2.5)।
- कुछ बूँद स्याही वाच-ग्लास पर डाल दें।
- अब बीकर को गर्म करना शुरू करें। हम स्याही को प्रत्यक्ष रूप से गर्म नहीं करना चाहते हैं। आप देखेंगे कि वाच-ग्लास से वाष्पीकरण हो रहा है।
- वाष्पीकरण होने तक गर्म करना जारी रखते हैं। जब

- वाच-ग्लास पर कोई परिवर्तन नहीं दिखता है तब हम उसे गर्म करना बंद कर देते हैं।
- इसे ध्यान से देखें और प्रेक्षित करें।



चित्र 2.5: वाष्पीकरण

अब उत्तर दें

- आपके विचार में, वाच-ग्लास पर से किसका वाष्पीकरण हुआ?
- क्या वाच-ग्लास पर कोई अवशेष बचा है?
- आप क्या प्रतिपादित करेंगे? क्या स्याही एक शुद्ध पदार्थ है या मिश्रण है?

हम पाते हैं कि स्याही जल में रंग का एक मिश्रण है। इस तरह से हम विलायक से विलेय पदार्थ को वाष्पीकरण की विधि के द्वारा पृथक् कर सकते हैं।

2.3.2 दूध से क्रीम को कैसे पृथक् कर सकते हैं?

आजकल हम बाजार में संपूर्ण (फुल) क्रीम, टॉड, डबल टॉड प्रकार के दूध पोली पैक अथवा टेट्रापैक में पाते हैं। दूध के इन प्रकारों में भिन्न-भिन्न मात्रा में वसा होती है।

क्रियाकलाप 2.5

- एक परखनली में थोड़ी मात्रा में संपूर्ण क्रीम युक्त दूध लें।

- अपकेन्द्रीय यंत्र (centrifuging machine) से इसे दो मिनट तक अपकेन्द्रित करें। अगर स्कूल में यह यंत्र उपलब्ध नहीं है, तो यह प्रयोग आप घर पर रसोई में प्रयोग होने वाली मथनी या मिक्सी से भी कर सकते हैं।
- यदि नज़दीक में कोई मिल्क डेयरी है तो वहाँ जाएँ और पूछें (i) वे क्रीम को दूध से कैसे पृथक् करते हैं? (ii) वे दूध से पनीर कैसे बनाते हैं?

अब उत्तर दें

- दूध को मथने पर आपने क्या देखा?
- दूध में से क्रीम का पृथक्करण कैसे करते हैं?

कभी-कभी द्रव में मौजूद ठोस कण इतने छोटे होते हैं कि ये छानक पत्र से बाहर निकल आते हैं। इन कणों को पृथक् करने के लिए छानन विधि का प्रयोग नहीं किया जाता है। ऐसे मिश्रणों को अपकेन्द्रण के द्वारा पृथक् किया जाता है। इस सिद्धांत के आधार पर जब इसे तेज़ी से घुमाया जाता है, तब भारी कण नीचे बैठ जाते हैं और हलके कण ऊपर ही रह जाते हैं।

अनुप्रयोग

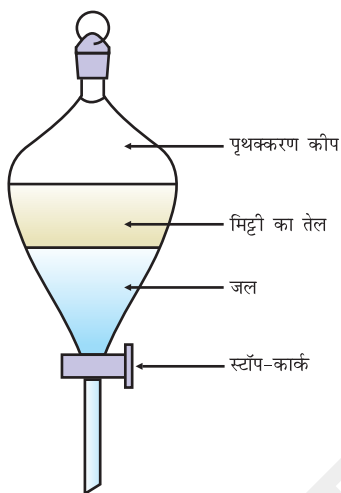
- जाँच प्रयोगशाला में रक्त और मूत्र के जाँच में।
- डेयरी तथा घर में क्रीम से मक्खन निकालने की प्रक्रिया में।
- कपड़े धोने की मशीन में भीगे हुए कपड़ों से जल निचोड़ने में।

2.3.3 दो अघुलनशील द्रवों के मिश्रण को कैसे पृथक् कर सकते हैं?

क्रियाकलाप 2.6

- आइए कीप के प्रयोग से मिट्टी के तेल (kerosene oil) को जल से पृथक् करने का प्रयास करें।

- मिट्टी के तेल और जल के मिश्रण को एक पृथक्करण कीप में डालें।
- कुछ देर तक इसे शांत छोड़ दें ताकि जल तथा तेल की पृथक्-पृथक् परत तैयार हो जाएँ।
- पृथक्करण कीप के स्टॉप-कार्क को खोलें और सावधानीपूर्वक नीचे वाले जल की परत को निकाल लें।
- जैसे ही तेल नीचे पहुँचे स्टॉप-कार्क को बंद कर दें।



चित्र 2.6: अघुलनशील द्रवों का पृथक्करण

अनुप्रयोग

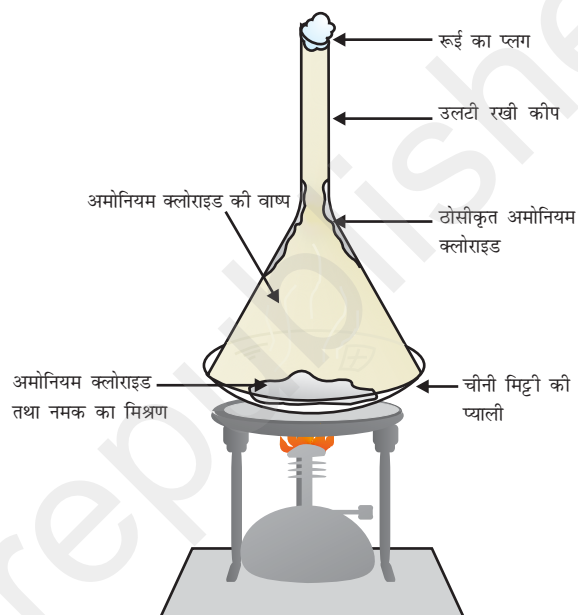
- तेल तथा जल के अघुलनशील मिश्रण को पृथक् करने में।
- धातुशोधन के दौरान लोहे को पृथक् करने में। इस विधि के द्वारा हलके स्लैग (धातुमल) को ऊपर से हटा लिया जाता है तथा भट्टी की निचली सतह पर पिघला हुआ लोहा शेष रह जाता है।

सिद्धांत के अनुसार, आपस में नहीं मिलने वाले द्रव अपने घनत्व के अनुसार विभिन्न परतों में पृथक् हो जाते हैं।

2.3.4 नमक तथा अमोनियम क्लोराइड के मिश्रण को कैसे पृथक् कर सकते हैं?

पिछले अध्याय में हमने पढ़ा है कि अमोनियम क्लोराइड को गर्म करने पर वह ठोस अवस्था से सीधे गैस

अवस्था में परिवर्तित हो जाता है। इस प्रकार, उन मिश्रणों, जिनमें ऊर्ध्वपातित हो सकने वाले अवयव हों, को ऊर्ध्वपातित न होने योग्य अशुद्धियों (इस प्रकरण में नमक) से पृथक् करने के लिए ऊर्ध्वपातन (sublimation) की प्रक्रिया का उपयोग करते हैं। अमोनियम क्लोराइड, कपूर, नेफ्थालीन और एंथ्रासीन इत्यादि ऊर्ध्वपातित होने योग्य ठोस पदार्थों के कुछ उदाहरण हैं।



चित्र 2.7: ऊर्ध्वपातन की प्रक्रिया द्वारा अमोनियम क्लोराइड तथा नमक का पृथक्करण

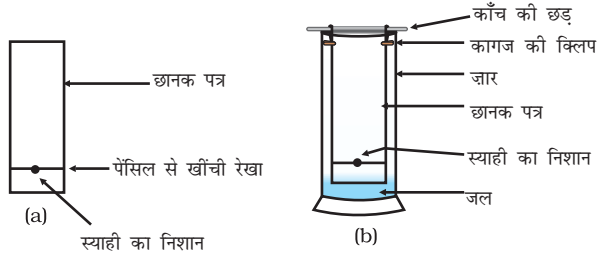
2.3.5 क्या काली स्याही में डाई एक ही रंग है?

क्रियाकलाप _____ 2.7

- छानक पत्र की एक पतली परत लें।
- इसके निचले किनारे से 3 cm ऊपर पेंसिल से एक रेखा खींच लें [चित्र 2.8(a)]
- उस रेखा के बीच में जल में घुलनशील काली स्याही की एक बूँद रखें। इसे सूखने दें।
- जार, बीकर या परखनली में जल लें, उसमें इस छानक कागज को इस प्रकार रखें कि वह जल

की सतह से ठीक ऊपर रहे जैसा कि चित्र 2.8 (a) में दर्शाया गया है। अब इसे शांत छोड़ दें।

- जैसे ही जल छानक पत्र पर ऊपर की ओर उठे, सावधानीपूर्वक देखें। अवलोकन को लिखें।



चित्र 2.8: क्रोमैटोग्राफी द्वारा काली स्याही में विद्यमान डाइयों का पृथक्करण

अब उत्तर दें

- जैसे-जैसे जल ऊपर की ओर उठता है, आपने छानक पत्र पर क्या देखा?
- क्या आपने छानक पत्र के टुकड़े पर विभिन्न रंगों का अवलोकन किया।
- आपके मतानुसार, रंग के स्थान का छानक पत्र ऊपर की ओर उठने का क्या कारण है?

जो स्याही हमने प्रयोग की उसमें जल विलायक के रूप में है तथा डाई विलेय के रूप में। जैसे ही जल छानक पत्र पर ऊपर की दिशा की ओर अग्रसर होता है, यह डाई के कणों को भी अपने साथ ले लेता है। प्रायः डाई दो या दो से अधिक रंगों का मिश्रण होता है। रंग वाला घटक जो कि जल में अधिक घुलनशील है, तेजी से ऊपर उठता है और इस प्रकार, रंगों का पृथक्करण संभव हो जाता है।

मिश्रण से घटकों को पृथक् करने की इस विधि को क्रोमैटोग्राफी (Chromatography) कहते हैं। ग्रीक में क्रोमा (Kroma) का अर्थ रंग होता है। इस विधि को सबसे पहले रंगों को पृथक् करने में प्रयोग किया गया था इसलिए इसका नाम क्रोमैटोग्राफी पड़ा।

क्या हमारे आस-पास के पदार्थ शुद्ध हैं

यह एक ऐसी विधि है जिसका प्रयोग उन विलेय पदार्थों को पृथक् करने में होता है जो एक ही प्रकार के विलायक में घुले होते हैं।

तकनीकी में विकास के साथ ही क्रोमैटोग्राफी में नई तकनीकों का विकास हुआ है, जिसके बारे में आप उच्च कक्षाओं में पढ़ेंगे।

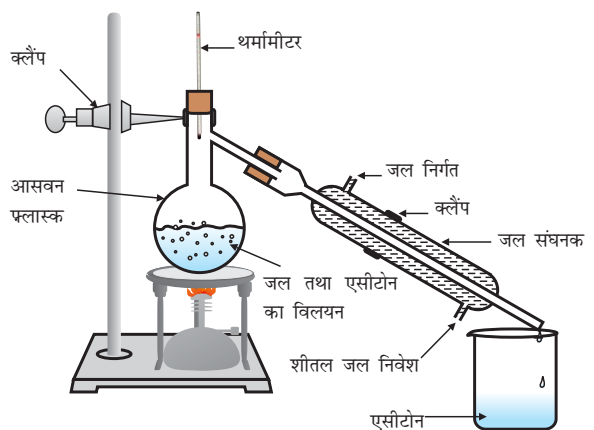
अनुप्रयोग

- डाई में रंगों को पृथक् करने में।
- प्राकृतिक रंगों से पिगमेंट को पृथक् करने में।
- रक्त से नशीले पदार्थों (drugs) को पृथक् करने में।

2.3.6 दो घुलनशील द्रवों के मिश्रण को कैसे पृथक् कर सकते हैं?

क्रियाकलाप 2.8

- आइए हम एसीटोन और जल को उनके मिश्रण से पृथक् करने का प्रयास करें।
- मिश्रण को आसवन फ्लास्क में लें। इसमें एक थर्मामीटर लगाएँ।
- उपकरण को दिए गए चित्र 2.9 के अनुसार व्यवस्थित करें।



चित्र 2.9: दो घुलनशील द्रवों का आसवन विधि से पृथक्करण

- मिश्रण को धीरे-धीरे गर्म करें और सावधानीपूर्वक थर्मामीटर का अवलोकन करें।
- एसीटोन वाष्पीकृत होता है तथा संघनित होकर संघनक द्वारा बाहर निकालने पर इसे बर्तन में एकत्रित किया जा सकता है।
- जल आसवन फ्लास्क में शेष रह जाता है।

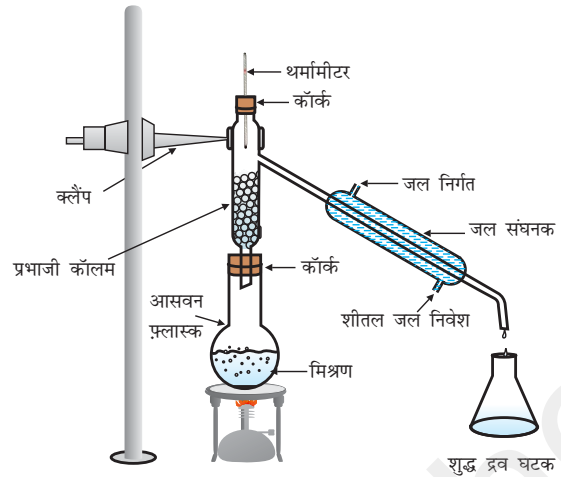
अब उत्तर दें

- जब आप मिश्रण को गर्म करना शुरू करते हैं तब आप क्या अवलोकित करते हैं?
- कुछ समय के लिए किस तापमान पर थर्मामीटर का पाठ्यांक स्थिर हो जाता है?
- एसीटोन का क्वथनांक क्या है?
- दोनों घटकों को हम पृथक् कर पाते हैं, क्यों?

इस विधि को आसवन कहा जाता है। इसका उपयोग जैसे मिश्रण को पृथक् करने में किया जाता है जो विघटित हुए बिना उबलते हैं तथा जिनके घटकों के क्वथनांकों के मध्य अधिक अंतराल होता है।

दो या दो से अधिक घुलनशील द्रवों जिनके क्वथनांक का अंतर 25 K से कम होता है, के मिश्रण को पृथक् करने के लिए प्रभाजी आसवन विधि का प्रयोग किया जाता है। उदाहरण के लिए, वायु से विभिन्न गैसों का पृथक्करण तथा पेट्रोलियम उत्पादों से उनके विभिन्न घटकों का पृथक्करण। इसका उपकरण साधारण आसवन विधि के समान ही होता है। केवल आसवन फ्लास्क और संघनक के बीच एक प्रभाजी स्तंभ का प्रयोग किया जाता है।

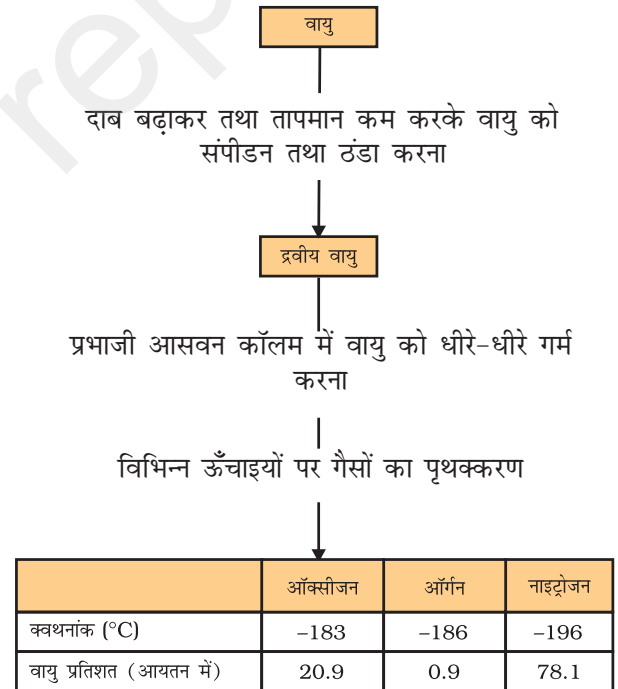
साधारण प्रभाजी स्तंभ एक नली होती है जो कि शीशे के गुटकों से भरी होती है। ये गुटके वाष्प को ठंडा और संघनित होने के लिए सतह प्रदान करते हैं, जैसा कि चित्र 2.10 में दर्शाया गया है।



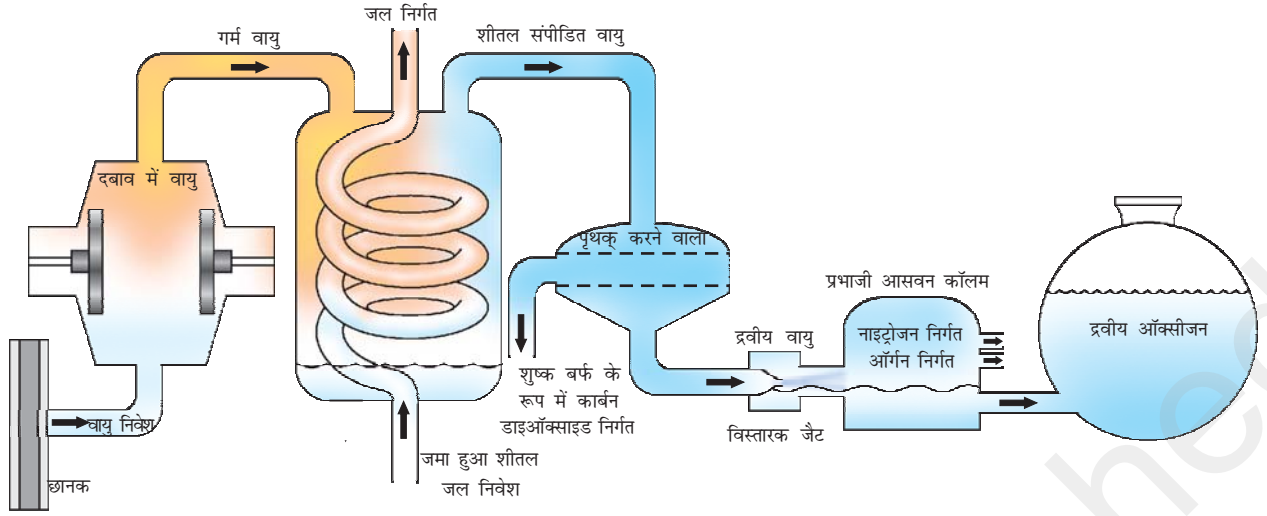
चित्र 2.10: प्रभाजी आसवन

2.3.7 वायु से गैसों को कैसे प्राप्त कर सकते हैं?

वायु एक समांगी मिश्रण है तथा इसके घटकों को प्रभाजी आसवन द्वारा पृथक् किया जा सकता है। प्रवाह चित्र (2.11) इस विधि के विभिन्न चरणों को दर्शाता है।



चित्र 2.11: वायु से गैसों को प्राप्त करने के लिए प्रवाह चित्र



चित्र 2.12: वायु के घटकों का पृथक्करण

यदि हम वायु से ऑक्सीजन गैस (चित्र 2.12) को प्राप्त करना चाहते हैं तो हमें वायु में उपस्थित दूसरी गैसों को पृथक् करना होगा। द्रव वायु प्राप्त करने के लिए पहले वायु पर दबाव बढ़ाया जाता है और फिर ताप को घटाकर उसे ठंडा कर संपीडित किया जाता है। इस द्रवित गैस को प्रभाजी आसवन स्तंभ में धीरे-धीरे गर्म किया जाता है, जहाँ सभी गैसों विभिन्न ऊँचाइयों पर अपने क्वथनांक के अनुसार पृथक् हो जाती हैं, जैसा कि चित्र 2.12 में दर्शाया गया है।

निम्नलिखित के उत्तर दें:

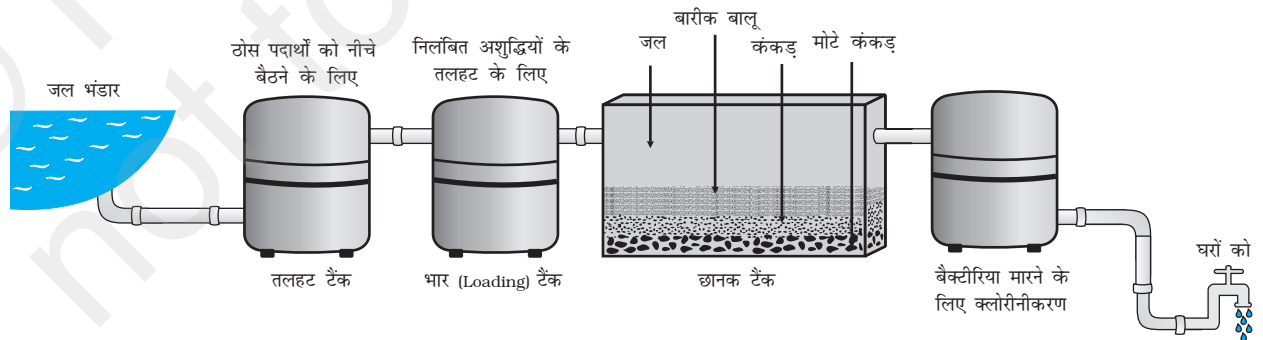
- वायु में उपस्थित गैसों को उनके बढ़ते हुए क्वथनांक के अनुसार व्यवस्थित करें।

- जब वायु को ठंडा किया जाता है तो कौन सा घटक पहले द्रव में परिवर्तित होता है?

2.3.8 किसी अशुद्ध नमूने में से शुद्ध कॉपर सल्फेट कैसे प्राप्त कर सकते हैं?

क्रियाकलाप 2.9

- एक चीनी मिट्टी की प्याली में लगभग 5 g अशुद्ध कॉपर सल्फेट लें।
- जल की न्यूनतम मात्रा में इसे घोल दें।
- अशुद्धियों को छान लें।
- संतृप्त विलयन प्राप्त करने के लिए जल को कॉपर सल्फेट के घोल से वाष्पीकृत करें।



चित्र 2.13: जलघर में जल शुद्धि निकाय

क्या हमारे आस-पास के पदार्थ शुद्ध हैं

- विलयन को छानक पत्र से ढक दें तथा कमरे के तापमान पर इसे दिन भर ठंडा होने के लिए शांत छोड़ दें।
- आप कॉपर सल्फेट के क्रिस्टलों को चीनी मिट्टी की प्याली में प्राप्त करेंगे।
- इस प्रक्रम को क्रिस्टलीकरण कहा जाता है।

अब उत्तर दें

- चीनी मिट्टी की प्याली में आप क्या अवलोकन करते हैं?
- क्या क्रिस्टल एकसमान दिखाई देता है?
- चीनी मिट्टी की प्याली में रखे द्रव से क्रिस्टल को कैसे पृथक् करेंगे?

क्रिस्टलीकरण विधि का प्रयोग ठोस पदार्थों को शुद्ध करने में किया जाता है। उदाहरण के लिए, समुद्री जल से जो नमक हम प्राप्त करते हैं उसमें बहुत सी अशुद्धियाँ हो सकती हैं। इन अशुद्धियों को दूर करने के लिए क्रिस्टलीकरण विधि का उपयोग किया जाता है। क्रिस्टलीकरण वह विधि है जिसके द्वारा क्रिस्टल के रूप में शुद्ध ठोस को विलयन से पृथक् किया जाता है। क्रिस्टलीकरण विधि साधारण वाष्पीकरण विधि से निम्न कारणों से उत्तम होती है:

- कुछ ठोस विघटित हो जाते हैं या कुछ चीनी के समान गर्म करने पर झुलस जाते हैं।
- छानने फे पश्चात् भी अशुद्ध विलेय पदार्थ को विलायक में घोलने पर विलयन में कुछ अशुद्धियाँ रह सकती हैं। वाष्पीकरण होने पर ये अशुद्धियाँ ठोस को दूषित कर सकती हैं।

अनुप्रयोग

- समुद्री जल द्वारा प्राप्त नमक को शुद्ध करने में।
- अशुद्ध नमूने से फिटकरी को पृथक् करने में।

इस प्रकार मिश्रण की प्रकृति के अनुसार ऊपर दी गई विधियों में से किसी का प्रयोग कर हम शुद्ध पदार्थ प्राप्त कर सकते हैं। तकनीकियों में विकास के

साथ कई और पृथक् करने वाली विधियों का आविष्कार हो चुका है।

शहरों में जलघर से पीने योग्य जल की आपूर्ति की जाती है। जलघर का एक रेखा चित्र 2.13 में दर्शाया गया है। जलघर से अपने घर में प्राप्त होने वाले पेय जल के विभिन्न चरणों पर अपनी कक्षा में चर्चा करें।

प्रश्न

1. पेट्रोल और मिट्टी का तेल (kerosene oil) जो कि आपस में घुलनशील हैं, के मिश्रण को आप कैसे पृथक् करेंगे। पेट्रोल तथा मिट्टी के तेल के क्वथनांकों में 25 °C से अधिक का अंतराल है।
2. पृथक् करने की सामान्य विधियों के नाम दें:
 - (i) दही से मक्खन,
 - (ii) समुद्री जल से नमक,
 - (iii) नमक से कपूर।
3. क्रिस्टलीकरण विधि से किस प्रकार के मिश्रणों को पृथक् किया जा सकता है?

2.4 भौतिक एवं रासायनिक परिवर्तन

शुद्ध पदार्थ और मिश्रण में अंतर को समझने के लिए आइए सबसे पहले भौतिक एवं रासायनिक परिवर्तनों के बीच के अंतर को जानें। पिछले अध्याय में हमने पदार्थ के भौतिक गुणों के बारे में अध्ययन किया है। ऐसे गुण जिनका हम अवलोकन एवं वर्णन कर सकते हैं, जैसे कि रंग, कठोरता, दृढ़ता, बहाव, घनत्व, द्रवनांक तथा क्वथनांक इत्यादि को भौतिक गुण कहा जाता है।

अवस्थाओं का अंतःरूपांतरण एक भौतिक परिवर्तन है क्योंकि ये परिवर्तन पदार्थों के संघटन में बिना परिवर्तन किए होते हैं और उनकी रासायनिक प्रकृति में भी कोई परिवर्तन नहीं होता है। यद्यपि बर्फ जल और वाष्प अलग-अलग दिखते हैं और ये भिन्न-भिन्न

भौतिक गुणों को दर्शाते हैं लेकिन ये रासायनिक रूप से समान होते हैं।

जल तथा खाना पकाने वाले तेल दोनों द्रव हैं, लेकिन इनके रासायनिक गुणधर्म भिन्न हैं। इनकी गंध और ज्वलनशीलता में अंतर है। हम जानते हैं कि तेल हवा में जलता है, जबकि जल आग को बुझाता है। तेल का यह रासायनिक गुण जल से इसे अलग करता है। जलना एक रासायनिक परिवर्तन है। जलने की प्रक्रिया में एक पदार्थ दूसरे से क्रिया करके अपने रासायनिक संघटन में परिवर्तन लाता है। रासायनिक परिवर्तन पदार्थ के रासायनिक गुणधर्मों में परिवर्तन लाता है तथा हम नया पदार्थ पाते हैं। रासायनिक परिवर्तन को रासायनिक प्रतिक्रिया भी कहा जाता है।

मोमबत्ती के जलने की प्रक्रिया में भौतिक एवं रासायनिक दोनों परिवर्तन होते हैं। क्या आप इनकी पहचान कर सकते हैं?

प्रश्न

- निम्न को रासायनिक और भौतिक परिवर्तनों में वर्गीकृत करें :
 - पेड़ों को काटना,
 - मक्खन का एक बर्तन में पिघलना,
 - अलमारी में जंग लगना,
 - जल का उबलकर वाष्प बनना,
 - विद्युत तरंग का जल में प्रवाहित होना तथा उसका हाइड्रोजन और ऑक्सीजन गैसों में विघटित होना,
 - जल में साधारण नमक का घुलना,
 - फलों से सलाद बनाना तथा
 - लकड़ी और कागज का जलना।
- अपने आस-पास की चीजों को शुद्ध पदार्थों या मिश्रण से अलग करने का प्रयत्न करें।

2.5 शुद्ध पदार्थों के क्या प्रकार हैं?

पदार्थों को उनके रासायनिक संघटन के आधार पर तत्वों या यौगिकों में वर्गीकृत किया जा सकता है।

क्या हमारे आस-पास के पदार्थ शुद्ध हैं

2.5.1 तत्व

रॉबर्ट बायल पहले वैज्ञानिक थे, जिन्होंने सन् 1661 में सर्वप्रथम तत्व शब्द का प्रयोग किया। फ्रांस के रसायनज्ञ एंटोनी लॉरेंट लवाइजिए (सन् 1743 - सन् 1794) ने सबसे पहले तत्व की परिभाषा को प्रयोग द्वारा प्रतिपादित किया। उनके अनुसार तत्व पदार्थ का वह मूल रूप है जिसे रासायनिक प्रतिक्रिया द्वारा अन्य सरल पदार्थों में विभाजित नहीं किया जा सकता।

तत्वों को साधारणतया धातु, अधातु तथा उपधातु में वर्गीकृत किया जा सकता है।

धातुएँ प्रायः दिए हुए निम्न गुणधर्मों में से सभी को या कुछ को प्रदर्शित करती हैं।

- ये चमकीली होती हैं।
- ये चाँदी जैसी सफ़ेद या सोने की तरह पीले रंग की होती हैं।
- ये ताप तथा विद्युत की सुचालक होती हैं।
- ये तन्य होती हैं (और इनको तार के रूप में खींचा जा सकता है)।
- ये आघातवर्ध्य होती हैं। इनको पीटकर महीन चादरों में ढाला जा सकता है।
- ये प्रतिध्वनिपूर्ण होती हैं।

सोना, चाँदी, ताँबा, लोहा, सोडियम, पोटैशियम इत्यादि धातु के उदाहरण हैं। पारा धातु होते हुए भी कमरे के तापमान पर द्रव है।

अधातुएँ दिए गए निम्न गुणों में से प्रायः कुछ को या सभी को प्रदर्शित करती हैं:

- ये विभिन्न रंगों की होती हैं।
- ये ताप और विद्युत की कुचालक होती हैं।
- ये चमकीली, प्रतिध्वनिपूर्ण और आघातवर्ध्य नहीं होती हैं।

हाइड्रोजन, ऑक्सीजन, आयोडीन, कार्बन, (कोल, कोक), ब्रोमीन, क्लोरीन इत्यादि अधातुओं के उदाहरण हैं। कुछ तत्व धातु और अधातु के बीच के गुणों को दर्शाते हैं, जिन्हें उपधातु (metalloid) कहा जाता है, जैसे बोरान, सिलिकन, जर्मेनियम इत्यादि।

- अभी तक ज्ञात तत्वों की संख्या 100 से अधिक है। इनमें से 92 तत्व प्राकृतिक हैं जबकि शेष मानव-निर्मित हैं।
- अधिकतर तत्व ठोस हैं।
- 11 तत्व कमरे के तापमान पर गैसों हैं।
- 2 तत्व पारा तथा ब्रोमीन कमरे के तापमान पर द्रव हैं।
- गैलियम तथा सीज़ियम तत्व कमरे के तापमान (303 K) से कुछ अधिक तापमान पर द्रव अवस्था ले लेते हैं।

2.5.2 यौगिक

एक यौगिक वह पदार्थ है जो कि दो या दो से अधिक तत्वों के नियत अनुपात में रासायनिक तौर पर संयोजन से बना है।

जब दो या दो से अधिक तत्व आपस में मिलते हैं तो हम क्या पाते हैं?

क्रियाकलाप _____ 2.10

- कक्षा को दो समूहों में विभक्त करें। दोनों समूहों को 50 g लोहे का चूर्ण और 3 g सल्फर, एक चीनी मिट्टी की प्याली में दें।

समूह I

- लोहे के चूर्ण और सल्फर पाउडर को पीसकर मिलाएँ।

समूह II

- लोहे के चूर्ण और सल्फर पाउडर को पीसकर मिलाएँ। मिश्रण को तीव्र ताप पर लाल होने तक गर्म करें। अब ज्वाला को हटा दें तथा मिश्रण को ठंडा होने दें।

समूह I और II

- प्राप्त सामग्री में चुंबकीय गुण की जाँच करें। सामग्री के निकट एक चुंबक को लाएँ। जाँच करें कि क्या सामग्री चुंबक की ओर आकर्षित होती है?

- दोनों समूहों द्वारा प्राप्त सामग्री के रंग और बनावट की तुलना करें।
- प्राप्त सामग्री के एक भाग में कार्बन डाइसल्फ़ाइड मिलाएँ। मिश्रण अच्छी तरह मिलाएँ तथा छान लें।
- प्राप्त पदार्थ के दूसरे भाग में तनु सल्फ्यूरिक अम्ल या तनु हाइड्रोक्लोरिक अम्ल को मिलाएँ। (इस क्रियाकलाप के लिए अध्यापक का निर्देशन आवश्यक है।)
- इस क्रियाकलाप को लोहा तथा सल्फर तत्वों के साथ अलग-अलग दोहराएँ। अवलोकनों को नोट करें।

अब उत्तर दें

- क्या दोनों समूहों द्वारा प्राप्त सामग्री दिखने में समान है?
- किस समूह द्वारा प्राप्त सामग्री में चुंबकीय गुण विद्यमान है?
- क्या प्राप्त सामग्री के घटकों को हम पृथक् करने में सक्षम हैं?
- क्या तनु सल्फ्यूरिक अम्ल या तनु हाइड्रोक्लोरिक अम्ल सामग्री पर डालने से दोनों समूहों को गैस प्राप्त होती है? क्या दोनों स्थितियों में प्राप्त गैस की गंध समान है या अलग-अलग है?

समूह I द्वारा प्राप्त गैस हाइड्रोजन है। यह रंगहीन, गंधहीन और ज्वलनशील है। इसकी ज्वलनशीलता की जाँच कक्षा में न करें।

समूह II द्वारा प्राप्त गैस हाइड्रोजन सल्फ़ाइड है। यह रंगहीन गैस है और इसकी गंध सड़े हुए अंडे जैसी है।

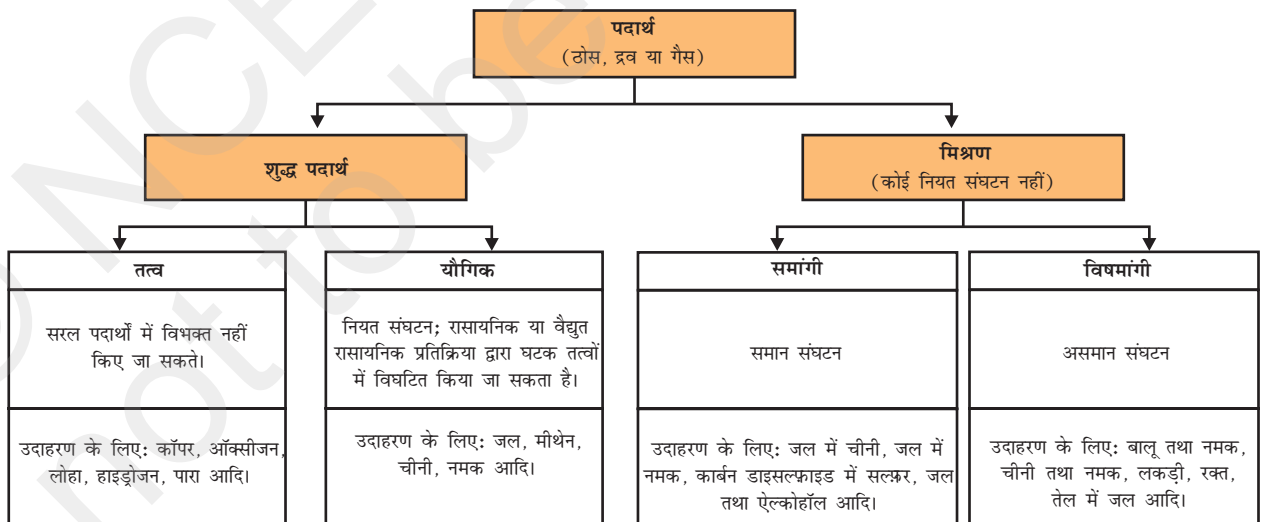
आपने पाया कि दोनों समूहों द्वारा प्राप्त पदार्थ भिन्न गुणों को दर्शाते हैं। यद्यपि प्रारंभ में दिए गए पदार्थ समान थे, समूह I की क्रिया के फलस्वरूप भौतिक परिवर्तन हुआ जबकि समूह II की क्रिया के फलस्वरूप पदार्थों में रासायनिक परिवर्तन हुआ।

- समूह I द्वारा प्राप्त सामग्री दो पदार्थों का मिश्रण है। दिए गए पदार्थ लोहा तथा सल्फर हैं।

सारणी 2.2: मिश्रण तथा यौगिक

मिश्रण	यौगिक
1. तत्व या यौगिक केवल मिश्रण बनाने के लिए मिलते हैं। किंतु किसी नए यौगिक का निर्माण नहीं करते।	1. तत्व क्रिया करके नए यौगिक का निर्माण करते हैं।
2. मिश्रण का संघटन परिवर्तनीय होता है।	2. नए पदार्थ का संघटन सदैव स्थायी होता है।
3. मिश्रण उसमें उपस्थित घटकों के गुणधर्मों को दर्शाता है।	3. नए पदार्थ के गुणधर्म पूरी तरह से भिन्न होते हैं।
4. घटकों को भौतिक विधियों द्वारा सुगमता से पृथक् किया जा सकता है।	4. घटकों को केवल रासायनिक या वैद्युत रासायनिक प्रतिक्रिया द्वारा ही पृथक् किया जा सकता है।

- मिश्रण का गुण उन दोनों मिले हुए तत्वों के गुण के समान है।
 - समूह II द्वारा प्राप्त सामग्री यौगिक है।
 - दोनों तत्वों को तीव्रता से गर्म करने पर हमने यौगिक पाया, जिसका गुण मिले हुए तत्वों से पूरी तरह भिन्न है।
 - यौगिक का संघटन पूरे पदार्थ में समान है। हम यह भी देख सकते हैं कि यौगिक की बनावट और रंग भी सभी स्थानों पर समान है।
- इस प्रकार संक्षेप में हम पदार्थ की भौतिक और रासायनिक प्रकृति को निम्न आरेख द्वारा व्यवस्थित कर सकते हैं।



क्या हमारे आस-पास के पदार्थ शुद्ध हैं



आपने क्या सीखा

- मिश्रण में एक से अधिक पदार्थ (तत्व तथा/अथवा यौगिक) किसी भी अनुपात में मिले होते हैं।
- मिश्रणों को पृथक् करने के लिए उचित विधियों से शुद्ध पदार्थों में पृथक्करण किया जा सकता है।
- विलयन दो या दो से अधिक पदार्थों का समांगी मिश्रण है। विलयन के बड़े अवयव को विलायक कहते हैं तथा अवयव को विलेय कहते हैं।
- विलयन की सांद्रता उसके इकाई आयतन या विलायक के इकाई द्रव्यमान में उपस्थित विलेय की मात्रा है।
- वह पदार्थ जो विलायक में अधुलनशील तथा आँखों से देखा जा सकता है, निलंबन कहलाता है। निलंबन एक विषमांगी मिश्रण होता है।
- कोलाइड एक विषमांगी मिश्रण है, जिसके कणों का आकार इतना छोटा है कि उन्हें सरलता से देखा नहीं जा सकता, किंतु इतना बड़ा है कि ये प्रकाश का फैलाव कर सकने में सक्षम होते हैं। कोलाइड उद्योगों में तथा दैनिक जीवन में महत्वपूर्ण है। विलेय कणों को परिक्षिप्त प्रावस्था कहते हैं और विलायक जिसमें ये पूरी तरह से वितरित रहते हैं, उसे परिक्षेपण माध्यम कहते हैं।
- शुद्ध पदार्थ तत्व या यौगिक हो सकते हैं। तत्व पदार्थ का मूल रूप होता है, जिसे रासायनिक क्रिया द्वारा सरल पदार्थों में विभाजित नहीं किया जा सकता है। यौगिक वह पदार्थ है जो दो या दो से अधिक तत्वों के स्थिर अनुपात में रासायनिक रूप में संयोजन से निर्मित होता है।
- यौगिकों के गुण उसमें निहित तत्वों के गुणों से भिन्न होते हैं, जबकि मिश्रण में उपस्थित तत्व और यौगिक अपने-अपने गुणों को दर्शाते हैं।

अभ्यास



1. निम्नलिखित को पृथक् करने के लिए आप किन विधियों को अपनाएँगे?
 - (a) सोडियम क्लोराइड को जल के विलयन से पृथक् करने में।
 - (b) अमोनियम क्लोराइड को सोडियम क्लोराइड तथा अमोनियम क्लोराइड के मिश्रण से पृथक् करने में।
 - (c) धातु के छोटे टुकड़े को कार के इंजन आयल से पृथक् करने में।
 - (d) दही से मक्खन निकालने के लिए।

- (e) जल से तेल निकालने के लिए।
 - (f) चाय से चाय की पत्तियों को पृथक् करने में।
 - (g) बालू से लोहे की पिनों को पृथक् करने में।
 - (h) भूसे से गेहूँ के दानों को पृथक् करने में।
 - (i) पानी में तैरते हुए महीन मिट्टी के कण को पानी से अलग करने के लिए।
 - (j) पुष्प की पंखुड़ियों के निचोड़ से विभिन्न रंजकों को पृथक् करने में।
2. चाय तैयार करने के लिए आप किन-किन चरणों का प्रयोग करेंगे। विलयन, विलायक, विलेय, घुलना, घुलनशील, अघुलनशील, घुलेय (फ़िल्ट्रेट) तथा अवशेष शब्दों का प्रयोग करें।
 3. प्रज्ञा ने तीन अलग-अलग पदार्थों की घुलनशीलताओं को विभिन्न तापमान पर जाँचा तथा नीचे दिए गए आँकड़ों को प्राप्त किया। प्राप्त हुए परिणामों को 100 g जल में विलेय पदार्थ की मात्रा, जो संतृप्त विलयन बनाने हेतु पर्याप्त है, निम्नलिखित तालिका में दर्शाया गया है।

विलेय पदार्थ	तापमान K में				
	283	293	313	333	353
पोटैशियम नाइट्रेट	21	32	62	106	167
सोडियम क्लोराइड	36	36	36	37	37
पोटैशियम क्लोराइड	35	35	40	46	54
अमोनियम क्लोराइड	24	37	41	55	66

- (a) 50 g जल में 313 K पर पोटैशियम नाइट्रेट के संतृप्त विलयन को प्राप्त करने हेतु कितने ग्राम पोटैशियम नाइट्रेट की आवश्यकता होगी?
 - (b) प्रज्ञा 353 K पर पोटैशियम क्लोराइड का एक संतृप्त विलयन तैयार करती है और विलयन को कमरे के तापमान पर ठंडा होने के लिए छोड़ देती है। जब विलयन ठंडा होगा तो वह क्या अवलोकित करेगी? स्पष्ट करें।
 - (c) 293 K पर प्रत्येक लवण की घुलनशीलता का परिकलन करें। इस तापमान पर कौन-सा लवण सबसे अधिक घुलनशील होगा?
 - (d) तापमान में परिवर्तन से लवण की घुलनशीलता पर क्या प्रभाव पड़ता है?
4. निम्न की उदाहरण सहित व्याख्या करें:
 - (a) संतृप्त विलयन
 - (b) शुद्ध पदार्थ

- (c) कोलाइड
(d) निलंबन
5. निम्नलिखित में से प्रत्येक को समांगी और विषमांगी मिश्रणों में वर्गीकृत करें:
सोडा जल, लकड़ी, बर्फ, वायु, मिट्टी, सिरका, छनी हुई चाय।
6. आप किस प्रकार पुष्टि करेंगे कि दिया हुआ रंगहीन द्रव शुद्ध जल है?
7. निम्नलिखित में से कौन-सी वस्तुएँ शुद्ध पदार्थ हैं?
- (a) बर्फ
(b) दूध
(c) लोहा
(d) हाइड्रोक्लोरिक अम्ल
(e) कैल्सियम ऑक्साइड
(f) पारा
(g) ईट
(h) लकड़ी
(i) वायु
8. निम्नलिखित मिश्रणों में से विलयन की पहचान करें।
- (a) मिट्टी
(b) समुद्री जल
(c) वायु
(d) कोयला
(e) सोडा जल
9. निम्नलिखित में से कौन टिनडल प्रभाव को प्रदर्शित करेगा?
- (a) नमक का घोल
(b) दूध
(c) कॉपर सल्फेट का विलयन
(d) स्टार्च विलयन
10. निम्नलिखित को तत्व, यौगिक तथा मिश्रण में वर्गीकृत करें:
- (a) सोडियम
(b) मिट्टी
(c) चीनी का घोल
(d) चाँदी
(e) कैल्सियम कार्बोनेट
(f) टिन
(g) सिलिकन

- (h) कोयला
 - (i) वायु
 - (j) साबुन
 - (k) मीथेन
 - (l) कार्बन डाइऑक्साइड
 - (m) रक्त
11. निम्नलिखित में से कौन-कौन से परिवर्तन रासायनिक हैं?
- (a) पौधों की वृद्धि
 - (b) लोहे में जंग लगना
 - (c) लोहे के चूर्ण तथा बालू को मिलाना
 - (d) खाना पकाना
 - (e) भोजन का पाचन
 - (f) जल से बर्फ बनना
 - (g) मोमबत्ती का जलना

समूह क्रियाकलाप



एक मिट्टी का मटका, बालू तथा कुछ कंकड़ लें। मटमैले जल को साफ़ करने हेतु छोटे स्तर पर एक छानक युक्ति (Filtration plant) की डिज़ाइन बनाएँ।

अध्याय 3

परमाणु एवं अणु (Atoms and Molecules)

प्राचीन भारतीय एवं ग्रीक दार्शनिक द्रव्य के अज्ञात एवं अदृश्य रूपों से सदैव चकित होते रहे। पदार्थ की विभाज्यता के मत के बारे में भारत में बहुत पहले, लगभग 500 ईसा पूर्व विचार व्यक्त किया गया था।

भारतीय दार्शनिक महर्षि कनाड (Maharshi Kanad) ने प्रतिपादित किया था कि यदि हम द्रव्य (पदार्थ) को विभाजित करते जाएँ तो हमें छोटे-छोटे कण प्राप्त होते जाएँगे तथा अंत में एक सीमा आएगी जब प्राप्त कण को पुनः विभाजित नहीं किया जा सकेगा अर्थात् वह सूक्ष्मतम कण अविभाज्य रहेगा। इस अविभाज्य सूक्ष्मतम कण को उन्होंने परमाणु कहा। एक अन्य भारतीय दार्शनिक पकुधा कात्यायाम (Pakudha Katyayama) ने इस मत को विस्तृत रूप से समझाया तथा कहा कि ये कण सामान्यतः संयुक्त रूप में पाए जाते हैं, जो हमें द्रव्यों के भिन्न-भिन्न रूपों को प्रदान करते हैं।

लगभग इसी समय ग्रीक दार्शनिक डेमोक्रीटस (Democritus) एवं लियुसीपस (Leucippus) ने सुझाव दिया था कि यदि हम द्रव्य को विभाजित करते जाएँ, तो एक ऐसी स्थिति आएगी जब प्राप्त कण को पुनः विभाजित नहीं किया जा सकेगा। उन्होंने इन अविभाज्य कणों को परमाणु (अर्थात् अविभाज्य) कहा था। ये सभी सुझाव दार्शनिक विचारों पर आधारित थे। इन विचारों की वैधता सिद्ध करने के लिए 18वीं शताब्दी तक कोई अधिक प्रयोगात्मक कार्य नहीं हुए थे।

18वीं शताब्दी के अंत तक वैज्ञानिकों ने तत्वों एवं यौगिकों के बीच भेद को समझा तथा स्वाभाविक रूप से यह पता करने के इच्छुक हुए कि तत्व कैसे

तथा क्यों संयोग करते हैं? जब तत्व परस्पर संयोग करते हैं, तब क्या होता है?

वैज्ञानिक आंतवाँ एल. लवाइजिए (Antonie L. Lavoisier) ने रासायनिक संयोजन के दो महत्वपूर्ण नियमों को स्थापित किया जिसने रसायन विज्ञान को महत्वपूर्ण आधार प्रदान किया।

3.1 रासायनिक संयोजन के नियम

लवाइजिए एवं जोजफ एल. प्राउस्ट (Joseph L. Proust) ने बहुत अधिक प्रायोगिक कार्यों के पश्चात् रासायनिक संयोजन के निम्नलिखित दो नियम प्रतिपादित किए।

3.1.1 द्रव्यमान संरक्षण का नियम

जब रासायनिक परिवर्तन (रासायनिक अभिक्रिया) संपन्न होता है, तब क्या द्रव्यमान में कोई परिवर्तन होता है?

क्रियाकलाप 3.1

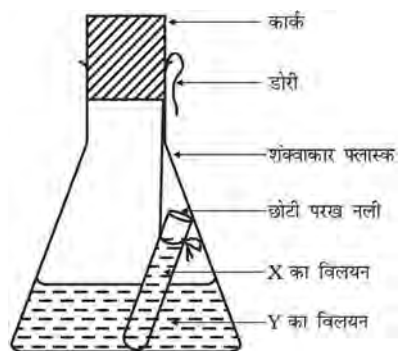
- निम्न X एवं Y रसायनों का एक युगल लीजिए।

X	Y
(i) कॉपर सल्फेट 1.25g	सोडियम कार्बोनेट 1.43g
(ii) बेरियम क्लोराइड 1.22g	सोडियम सल्फेट 1.53g
(iii) लेड नाइट्रेट 2.07g	सोडियम क्लोराइड 1.17g

- X एवं Y युगलों की सूची में से किसी एक युगल के रसायनों के अलग-अलग विलयन 10 mL जल में तैयार कीजिए।
- उपरोक्त तैयार युगल विलयनों में से Y के

विलयन को एक शंक्वाकार फ्लास्क में लीजिए एवं X के विलयन को एक छोटी परख नली में लीजिए।

- छोटी परख नली को विलय युक्त फ्लास्क में इस प्रकार लटकाइए ताकि दोनों विलयन परस्पर मिश्रित न हों। तत्पश्चात् फ्लास्क के मुख पर एक कार्क चित्र 3.1 की भाँति लगाइए।



चित्र 3.1: Y के विलयन युक्त शंक्वाकार फ्लास्क में डूबी हुई X के विलयन युक्त छोटी परख नली।

- अंतर्वस्तु युक्त फ्लास्क को सावधानीपूर्वक तौल लीजिए।
- अब फ्लास्क को झुकाकर इस प्रकार घुमाएँ जिससे X एवं Y के विलयन परस्पर मिश्रित हो जाएँ।
- अब इस फ्लास्क को पुनः तौल लीजिए।
- शंक्वाकार फ्लास्क में क्या अभिक्रिया हुई?
- क्या आप सोचते हैं कि कोई रासायनिक अभिक्रिया हुई?
- फ्लास्क के मुख पर कार्क क्यों लगाते हैं?
- क्या फ्लास्क के द्रव्यमान एवं अंतर्वस्तुओं में कोई परिवर्तन हुआ?

द्रव्यमान संरक्षण के नियम के अनुसार किसी रासायनिक अभिक्रिया में द्रव्यमान का न तो सृजन किया जा सकता है न ही विनाश।

3.1.2 स्थिर अनुपात का नियम

लवाइजिए एवं अन्य वैज्ञानिकों ने इस बात पर प्रकाश डाला कि कोई भी यौगिक दो या दो से अधिक तत्वों

परमाणु एवं अणु

से निर्मित होता है। इस प्रकार प्राप्त यौगिकों में, इन तत्वों का अनुपात स्थिर होता है चाहे इसे किसी स्थान से प्राप्त किया गया हो अथवा किसी ने भी इसे बनाया हो।

यौगिक जल में हाइड्रोजन एवं ऑक्सीजन के द्रव्यमानों का अनुपात सदैव 1:8 होता है चाहे जल का स्रोत कोई भी हो। इसी प्रकार यदि 9 g जल का अपघटन करें तो सदैव 1 g हाइड्रोजन तथा 8g ऑक्सीजन ही प्राप्त होगी। इसी प्रकार अमोनिया (NH_3) में, नाइट्रोजन एवं हाइड्रोजन द्रव्यमानों के अनुसार सदैव 14:3 के अनुपात में विद्यमान रहते हैं, चाहे अमोनिया किसी भी प्रकार से निर्मित हुई हो अथवा किसी भी स्रोत से ली गई हो।

उपरोक्त उदाहरणों से स्थिर अनुपात के नियम की व्याख्या होती है जिसे निश्चित अनुपात का नियम भी कहते हैं। प्राउस्ट ने इस नियम को इस प्रकार से व्यक्त किया था “किसी भी यौगिक में तत्व सदैव एक निश्चित द्रव्यमानों के अनुपात में विद्यमान होते हैं”।



जॉन डाल्टन

जॉन डाल्टन का जन्म सन् 1766 में इंग्लैंड के एक गरीब जुलाहा परिवार में हुआ था। बारह वर्ष की आयु में उन्होंने एक शिक्षक के रूप में अपनी जीविका शुरू की। सात साल बाद वह एक स्कूल के प्रिंसिपल बन गए। सन् 1793 में जॉन डाल्टन एक कॉलेज में गणित, भौतिकी एवं रसायन शास्त्र पढ़ाने के लिए मैनचेस्टर चले गए। वहाँ पर उन्होंने अपने जीवन का अधिकांश समय शिक्षण एवं शोधकार्य में व्यतीत किया। सन् 1808 में इन्होंने अपने परमाणु सिद्धांत को प्रस्तुत किया, जो द्रव्यों के अध्ययन के लिए एक महत्वपूर्ण सिद्धांत साबित हुआ।

वैज्ञानिकों की अगली समस्या इन नियमों की उचित व्याख्या करने की थी। अंग्रेज रसायनज्ञ, जॉन

डाल्टन ने द्रव्यों की प्रकृति के बारे में एक आधारभूत सिद्धांत प्रस्तुत किया। डाल्टन ने द्रव्यों की विभाज्यता का विचार प्रदान किया जिसे उस समय तक दार्शनिकता माना जाता था। ग्रीक दार्शनिकों के द्वारा द्रव्यों के सूक्ष्मतम अविभाज्य कण, जिसे परमाणु नाम दिया था, उसे डाल्टन ने भी परमाणु नाम दिया। डाल्टन का यह सिद्धांत रासायनिक संयोजन के नियमों पर आधारित था। डाल्टन के परमाणु सिद्धांत ने द्रव्यमान के संरक्षण के नियम एवं निश्चित अनुपात के नियम की युक्तिसंगत व्याख्या की।

डाल्टन के परमाणु सिद्धांत के अनुसार सभी द्रव्य चाहे तत्व, यौगिक या मिश्रण हो, सूक्ष्म कणों से बने होते हैं जिन्हें परमाणु कहते हैं। डाल्टन के सिद्धांत की विवेचना निम्न प्रकार से कर सकते हैं :

- सभी द्रव्य परमाणुओं से निर्मित होते हैं।
- परमाणु अविभाज्य सूक्ष्मतम कण होते हैं जो रासायनिक अभिक्रिया में न तो सृजित होते हैं न ही उनका विनाश होता है।
- दिए गए तत्व के सभी परमाणुओं का द्रव्यमान एवं रासायनिक गुणधर्म समान होते हैं।
- भिन्न-भिन्न तत्वों के परमाणुओं के द्रव्यमान एवं रासायनिक गुणधर्म भिन्न-भिन्न होते हैं।
- भिन्न-भिन्न तत्वों के परमाणु परस्पर छोटी पूर्ण संख्या के अनुपात में संयोग कर यौगिक निर्मित करते हैं।
- किसी भी यौगिक में परमाणुओं की सापेक्ष संख्या एवं प्रकार निश्चित होते हैं।

आप अगले अध्याय में यह अध्ययन करेंगे कि परमाणु में और भी छोटे-छोटे कण विद्यमान होते हैं।

प्रश्न

- एक अभिक्रिया में 5.3 g सोडियम कार्बोनेट एवं 6.0 g एथेनॉइक अम्ल अभिकृत होते हैं। 2.2 g कार्बन डाइऑक्साइड, 8.2 g सोडियम

एथेनॉएट एवं 0.9 g जल उत्पाद के रूप में प्राप्त होते हैं। इस अभिक्रिया द्वारा दिखाइए कि यह परीक्षण द्रव्यमान संरक्षण के नियम के अनुरूप है।

सोडियम कार्बोनेट + एथेनॉइक अम्ल →
सोडियम एथेनॉएट + कार्बन डाइऑक्साइड +
जल

- हाइड्रोजन एवं ऑक्सीजन द्रव्यमान के अनुसार 1:8 के अनुपात में संयोग करके जल निर्मित करते हैं। 3 g हाइड्रोजन गैस के साथ पूर्ण रूप से संयोग करने के लिए कितने ऑक्सीजन गैस के द्रव्यमान की आवश्यकता होगी?
- डाल्टन के परमाणु सिद्धांत का कौन-सा अभिग्रहीत द्रव्यमान के संरक्षण के नियम का परिणाम है?
- डाल्टन के परमाणु सिद्धांत का कौन-सा अभिग्रहीत निश्चित अनुपात के नियम की व्याख्या करता है?

3.2 परमाणु क्या होता है?

क्या आपने कभी किसी इमारत की दीवार बनते देखी है? इन दीवारों से एक कमरा एवं कई कमरों के समूह से एक इमारत निर्मित होती है। उस विशाल इमारत की रचनात्मक इकाई क्या है? किसी बाँबी (Ant-Hill) की रचनात्मक इकाई क्या होती है? यह रेत का छोटा-सा कण होता है। इसी प्रकार, सभी द्रव्यों की रचनात्मक इकाई परमाणु होती है।


परमाणु कितने बड़े होते हैं?

परमाणु बहुत छोटे होते हैं। ये किसी भी वस्तु, जिसकी हम कल्पना या तुलना कर सकते हैं, से भी छोटे होते हैं। लाखों परमाणुओं को जब एक के ऊपर एक चट्टे के रूप में रखें, तो बड़ी कठिनाई से कागज की एक शीट जितनी मोटी परत बन पाएगी।

परमाणु त्रिज्या को नैनोमीटर (nm) में मापा जाता है।
 $10^{-9} \text{ m} = 1 \text{ nm}$
 $1 \text{ m} = 10^9 \text{ nm}$

सापेक्ष आकार	
त्रिज्या (मीटर में)	उदाहरण
10^{-10}	हाइड्रोजन परमाणु
10^{-9}	जल अणु
10^{-8}	हीमोग्लोबिन अणु
10^{-4}	रेत कण
10^{-2}	चींटी
10^{-1}	तरबूज

जब परमाणु का आकार इतना सूक्ष्म है कि हम इसे नगण्य मान सकते हैं, तो हम इसके बारे में क्यों सोचें? हम इसके बारे में इसलिए सोचते हैं क्योंकि हमारा पूरा विश्व ही परमाणुओं से बना है। चाहे हम उन्हें देख नहीं सकें, फिर भी वे यहाँ विद्यमान हैं तथा हमारे प्रत्येक क्रियाकलापों पर उनका प्रभाव पड़ता रहता है। अब हम आधुनिक तकनीकों की सहायता से तत्वों की सतहों के आवर्धित प्रतिबिंबों को दिखा सकते हैं, जिनमें उपस्थित परमाणु स्पष्ट दिखाई देते हैं।



चित्र 3.2: सिलिकॉन सतह का प्रतिबिंब

3.2.1 विभिन्न तत्वों के परमाणुओं के आधुनिक प्रतीक क्या हैं?

डाल्टन ऐसे प्रथम वैज्ञानिक थे, जिन्होंने तत्वों के प्रतीकों का प्रयोग अत्यंत विशिष्ट अर्थ में किया। जब

परमाणु एवं अणु

उन्होंने किसी तत्व के प्रतीक का प्रयोग किया, तो यह प्रतीक उस तत्व की एक निश्चित मात्रा की ओर इंगित करता था अर्थात् यह प्रतीक तत्व के एक परमाणु को प्रदर्शित करता था। बर्जिलियस ने तत्वों के ऐसे प्रतीकों का सुझाव दिया, जो उन तत्वों के नामों के एक या दो अक्षरों से प्रदर्शित होता था।

	हाइड्रोजन		कार्बन		ऑक्सीजन
	फ्लोरोस		सल्फर		आयरन
	कॉपर		सीसा		सिल्वर
	गोल्ड		प्लैटिना		पारा

चित्र 3.3: डाल्टन द्वारा सुझाए गए कुछ तत्वों के प्रतीक

प्रारंभ में तत्वों के नामों की व्युत्पत्ति उन स्थानों के नामों से की गई, जहाँ वे सर्वप्रथम पाए गए थे। उदाहरणस्वरूप, कॉपर (Copper) का नाम साइप्रस (Cyprus) से व्युत्पन्न हुआ। कुछ तत्वों के नामों को विशिष्ट रंगों से लिया गया। उदाहरणस्वरूप, स्वर्ण (gold) का नाम अंग्रेजी के उस शब्द से लिया गया, जिसका अर्थ होता है पीला।

आजकल इंटरनेशनल यूनियन ऑफ प्योर एंड एप्लाइड केमिस्ट्री (IUPAC) तत्वों के नामों को स्वीकृति प्रदान करती है। अधिकतर तत्वों के प्रतीक उन तत्वों के अंग्रेजी नामों के एक या दो अक्षरों से बने होते हैं। किसी प्रतीक के पहले अक्षर को सदैव बड़े अक्षर (capital letter) में तथा दूसरे अक्षर को छोटे अक्षर (small letter) में लिखा जाता है।

उदाहरणार्थ

- हाइड्रोजन, H
- ऐलुमिनियम, Al न कि AL
- कोबाल्ट, Co न कि CO

कुछ तत्वों के प्रतीक उनके अंग्रेजी नामों के प्रथम अक्षर तथा बाद में आने वाले किसी एक अक्षर को संयुक्त करके बनाते हैं। उदाहरण : (i) क्लोरीन, Cl, (ii) जिंक, Zn इत्यादि।

अन्य तत्वों के प्रतीकों को लैटिन, जर्मन या ग्रीक भाषाओं में उनके नामों से बनाया गया है। उदाहरणार्थ: लौह (Iron) का प्रतीक Fe है, जो उसके लैटिन नाम फेरम से व्युत्पन्न किया गया है। इसी प्रकार सोडियम का प्रतीक Na तथा पोटैशियम का प्रतीक K क्रमशः नैट्रियम एवं केलियम से व्युत्पन्न हैं। इस प्रकार प्रत्येक तत्व का एक नाम एवं एक अद्वितीय रासायनिक प्रतीक होता है।

3.2.2 परमाणु द्रव्यमान

डाल्टन के परमाणु सिद्धांत की सबसे विशिष्ट संकल्पना परमाणु द्रव्यमान की थी। उनके अनुसार प्रत्येक तत्व का एक अभिलाक्षणिक परमाणु द्रव्यमान होता है। डाल्टन का सिद्धांत स्थिर अनुपात के नियम को इतनी भली-भाँति समझाने में समर्थ था कि वैज्ञानिक इससे प्रेरित होकर परमाणु द्रव्यमान को मापने की ओर अग्रसर हुए। चूँकि एक परमाणु के द्रव्यमान को ज्ञात करना अपेक्षाकृत कठिन कार्य था इसलिए रासायनिक संयोजन के नियमों के उपयोग एवं उत्पन्न यौगिकों के द्वारा सापेक्ष परमाणु द्रव्यमानों को ज्ञात किया गया। हम यहाँ पर एक यौगिक, कार्बन मोनोक्साइड

सारणी 3.1: कुछ तत्वों के प्रतीक

तत्व	प्रतीक	तत्व	प्रतीक	तत्व	प्रतीक
एलुमिनियम	Al	कॉपर	Cu	नाइट्रोजन	N
आर्गन	Ar	फ्लुओरीन	F	ऑक्सीजन	O
बेरियम	Ba	स्वर्ण (गोल्ड)	Au	पोटैशियम	K
बोरॉन	B	हाइड्रोजन	H	सिलिकॉन	Si
ब्रोमीन	Br	आयोडीन	I	चाँदी (सिल्वर)	Ag
कैल्सियम	Ca	आयरन	Fe	सोडियम	Na
कार्बन	C	सीसा	Pb	सल्फर	S
क्लोरीन	Cl	मैग्नीशियम	Mg	यूरेनियम	U
कोबाल्ट	Co	नियॉन	Ne	जिंक	Zn

(जब कभी आप तत्वों का अध्ययन करें, तो आपके संदर्भ के लिए उपरोक्त सारणी दी गई है। इस पूरी सारणी को एक बार में याद करने की आवश्यकता नहीं है। समय-समय पर एवं बार-बार उपयोग करते रहने से आप स्वतः ही इन प्रतीकों को निर्मित करना सीख जाएँगे।)

(CO) का उदाहरण लेते हैं, जो कार्बन एवं ऑक्सीजन द्वारा निर्मित होता है। प्रायोगिक तौर पर यह निरीक्षित किया गया कि 3 g कार्बन तथा 4 g ऑक्सीजन के संयोजन से कार्बन मोनोक्साइड निर्मित हुई है। दूसरे शब्दों में कहा जा सकता है कि कार्बन अपने 4/3 गुणा अधिक द्रव्यमान वाले ऑक्सीजन के साथ संयुक्त

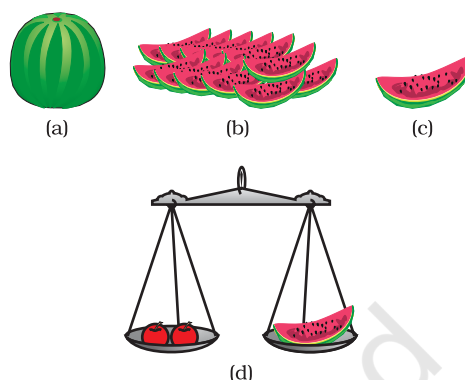
होती है। मान लीजिए, हम परमाणु द्रव्यमान की इकाई को एक कार्बन परमाणु द्रव्यमान के बराबर मानते हैं तो कार्बन परमाणु को 1.0 u तथा ऑक्सीजन परमाणु द्रव्यमान को 1.33 u निर्दिष्ट करेंगे। (प्रारंभ में परमाणु द्रव्यमान को amu द्वारा संक्षेप में लिखते थे, लेकिन आजकल IUPAC के नवीनतम अनुमोदन द्वारा इसको 'u' -यूनीफाइड द्रव्यमान द्वारा प्रदर्शित करते हैं।) लेकिन द्रव्यमानों की इकाई को यथासंभव पूर्णांक या लगभग पूर्णांक में व्यक्त करना अधिक सुविधाजनक होता है। आगे चलकर वैज्ञानिकों ने परमाणु द्रव्यमानों की भिन्न-भिन्न इकाइयों के बारे में विचार व्यक्त किए। वैज्ञानिक जब विभिन्न परमाणु द्रव्यमानों की इकाइयों के बारे में शोधरत थे तो उन्होंने प्रारंभ में प्रकृतिजन्य ऑक्सीजन परमाणु के द्रव्यमान के 1/16 भाग को इकाई के रूप में लिया। दो कारणों से इसे सुसंगत समझा गया:

- ऑक्सीजन अनेक तत्वों के साथ अभिक्रिया करके यौगिक बनाता है।
- इस परमाणु द्रव्यमान इकाई द्वारा अधिकांश तत्वों के परमाणु द्रव्यमान पूर्णांक में प्राप्त होते हैं।

तथापि, 1961 में परमाणु द्रव्यमानों को ज्ञात करने के लिए परमाणु द्रव्यमान इकाई कार्बन-12 समस्थानिक (आइसोटोप) को मानक संदर्भ के रूप में सार्वभौमिक रूप से स्वीकार किया गया था। कार्बन-12 समस्थानिक के एक परमाणु द्रव्यमान के 1/12 वें भाग को मानक परमाणु द्रव्यमान इकाई के रूप में लेते हैं। कार्बन-12 समस्थानिक के एक परमाणु द्रव्यमान के सापेक्ष सभी तत्वों के परमाणु द्रव्यमान प्राप्त किए गए।

कल्पना कीजिए कि एक फल विक्रेता बिना मानक भार के फल बेच रहा है। वह एक तरबूज लेकर कहता है कि “इसका द्रव्यमान 12 इकाई है” (12 तरबूजीय इकाई अथवा 12 फल द्रव्यमान इकाई)। वह तरबूज के 12 बराबर टुकड़े करता है तथा पाता है कि उसके द्वारा बेचे जा रहे प्रत्येक फल का द्रव्यमान तरबूज के एक टुकड़े के द्रव्यमान के सापेक्ष

है। जैसा कि चित्र 3.4 में दिखाया गया है, अब वह फलों को सापेक्ष फल द्रव्यमान इकाई (fmu) में बेचता है।



चित्र 3.4 : (a) तरबूज (b) 12 टुकड़े (c) तरबूज का 1/12 वाँ भाग (d) तरबूज के टुकड़ों का उपयोग करके वह फल विक्रेता फलों को कैसे तौल सकता है

किसी तत्व के सापेक्षिक परमाणु द्रव्यमान को उसके परमाणुओं के औसत द्रव्यमान का कार्बन-12 परमाणु के द्रव्यमान के 1/12वें भाग के अनुपात द्वारा परिभाषित किया जाता है।

सारणी 3.2: कुछ तत्वों के परमाणु द्रव्यमान

तत्व	परमाणु द्रव्यमान (u)
हाइड्रोजन	1
कार्बन	12
नाइट्रोजन	14
ऑक्सीजन	16
सोडियम	23
मैग्नीशियम	24
सल्फर	32
क्लोरीन	35.5
कैल्सियम	40

3.2.3 परमाणु किस प्रकार अस्तित्व में रहते हैं?

अधिकांश तत्वों के परमाणु स्वतंत्र रूप से अस्तित्व में नहीं रह पाते। परमाणु अणु एवं आयन बनाते हैं। ये अणु अथवा आयन अत्यधिक संख्या में पुंजित होकर वह द्रव्य बनाते हैं, जिसे हम देख सकते हैं, अनुभव कर सकते हैं अथवा छू सकते हैं।

प्रश्न

1. परमाणु द्रव्यमान इकाई को परिभाषित कीजिए।
2. एक परमाणु को आँखों द्वारा देखना क्या संभव नहीं होता है?

3.3. अणु क्या है?

साधारणतया अणु ऐसे दो या दो से अधिक परमाणुओं का समूह होता है जो आपस में रासायनिक बंध द्वारा जुड़े होते हैं अथवा वे परस्पर आकर्षण बल के द्वारा कसकर जुड़े होते हैं। अणु को किसी तत्व अथवा यौगिक के उस सूक्ष्मतम कण के रूप में परिभाषित कर सकते हैं जो स्वतंत्र रूप से अस्तित्व में रह सकता है तथा जो उस यौगिक के सभी गुणधर्म को प्रदर्शित करता है। एक ही तत्व के परमाणु अथवा भिन्न-भिन्न तत्वों के परमाणु परस्पर संयोग करके अणु निर्मित करते हैं।

3.3.1 तत्वों के अणु

किसी तत्व के अणु एक ही प्रकार के परमाणुओं द्वारा संरचित होते हैं। आर्गन (Ar), हीलियम (He) इत्यादि जैसे अनेक तत्वों के अणु उसी तत्व के केवल एक परमाणु द्वारा निर्मित होते हैं। लेकिन अधिकांश अधातुओं में ऐसा नहीं होता है। उदाहरणार्थ, ऑक्सीजन अणु दो ऑक्सीजन परमाणुओं से बनता है, इसलिए इसे द्वि-परमाणुक अणु, O_2 कहते हैं। यदि सामान्यतः 2 के स्थान पर 3 ऑक्सीजन परमाणु परस्पर संयोग करते हैं तो हमें ओजोन प्राप्त होता है। किसी अणु की संरचना

में प्रयुक्त होने वाले परमाणुओं की संख्या को उस अणु की परमाणुकता कहते हैं।

धातु अणुओं एवं कुछ अन्य तत्वों के अणुओं जैसे कि कार्बन के अणुओं की सरल संरचना नहीं होती है किंतु उनके अणुओं में असीमित परमाणु परस्पर बँधे होते हैं।

आइए, कुछ तत्वों की परमाणुकता का अवलोकन करें।

सारणी 3.3: कुछ तत्वों की परमाणुकता

तत्वों के प्रकार	नाम	परमाणुकता
अधातु	आर्गन	एक परमाणुक
	हीलियम	एक परमाणुक
	ऑक्सीजन	द्विपरमाणुक
	हाइड्रोजन	द्विपरमाणुक
	नाइट्रोजन	द्विपरमाणुक
	क्लोरीन	द्विपरमाणुक
	फॉस्फोरस	चतुर्परमाणुक
धातु	सल्फर	बहुपरमाणुक
	सोडियम	एकपरमाणुक
	आयरन	एकपरमाणुक
	एलुमिनियम	एकपरमाणुक
	कॉपर	एकपरमाणुक

3.3.2 यौगिकों के अणु

भिन्न-भिन्न तत्वों के परमाणु एक निश्चित अनुपात में परस्पर जुड़कर यौगिकों के अणु निर्मित करते हैं। सारणी 3.4 में कुछ उदाहरण दिए गए हैं।

सारणी 3.4: कुछ यौगिकों के अणु

यौगिक	संयुक्त तत्व	द्रव्यमान अनुपात
जल	हाइड्रोजन, ऑक्सीजन	1:8
अमोनिया	नाइट्रोजन, हाइड्रोजन	14:3
कार्बन		
डाइऑक्साइड	कार्बन, ऑक्सीजन	3:8

क्रियाकलाप 3.2

- अणुओं में विद्यमान परमाणुओं के द्रव्यमान अनुपातों के लिए सारणी 3.4 एवं तत्वों के परमाणु द्रव्यमानों के लिए सारणी 3.2 देखिए। सारणी 3.4 में दिए गए यौगिकों के अणुओं में प्रयुक्त तत्वों के परमाणुओं की संख्या के अनुपातों को ज्ञात कीजिए।
- जल अणु में प्रयुक्त परमाणुओं की संख्याओं का अनुपात निम्न प्रकार से प्राप्त किया जा सकता है :

तत्व	द्रव्यमान अनुपात	परमाणु द्रव्यमान (u)	द्रव्यमान अनुपात/परमाणु द्रव्यमान	सरलतम अनुपात
H	1	1	$\frac{1}{1} = 1$	2
O	8	16	$\frac{8}{16} = \frac{1}{2}$	1

- इस प्रकार, जल अणु में प्रयुक्त परमाणुओं की संख्याओं का अनुपात H:O = 2:1

3.3.3 आयन क्या होता है?

धातु एवं अधातु युक्त यौगिक आवेशित कणों से बने होते हैं। इन आवेशित कणों को आयन कहते हैं। आयन आवेशित कण होते हैं तथा इन पर ऋण अथवा धन आवेश होता है। ऋण आवेशित कण को ऋणायन (anion) तथा धन आवेशित कण को धनायन (cation)

परमाणु एवं अणु

कहते हैं। उदाहरण के लिए सोडियम क्लोराइड (NaCl) को लीजिए। इसमें धनात्मक सोडियम आयन (Na⁺) तथा ऋणात्मक क्लोराइड आयन (Cl⁻) संघटक कण के रूप में विद्यमान होते हैं। आयन एक आवेशित परमाणु अथवा परमाणुओं का एक ऐसा समूह होता है जिस पर नेट आवेश विद्यमान होता है। परमाणुओं के समूह जिन पर नेट आवेश विद्यमान हो उसे बहुपरमाणुक आयन कहते हैं (सारणी 3.6)। हम आयनों के निर्माण के बारे में अध्याय-4 में और अधिक जानकारी प्राप्त करेंगे।

सारणी 3.5: कुछ आयनिक यौगिक

आयनिक यौगिक	संघटक तत्व	द्रव्यमान अनुपात
कैल्सियम ऑक्साइड	कैल्सियम एवं ऑक्सीजन	5:2
मैग्नीशियम सल्फाइड	मैग्नीशियम एवं सल्फर	3:4
सोडियम क्लोराइड	सोडियम एवं क्लोरीन	23:35.5

3.4 रासायनिक सूत्र लिखना

किसी यौगिक का रासायनिक सूत्र उसके संघटक का प्रतीकात्मक निरूपण होता है। भिन्न-भिन्न यौगिकों के रासायनिक सूत्र सरलतापूर्वक लिखे जा सकते हैं। इस अभ्यास के लिए हमें तत्वों के प्रतीकों एवं उनकी संयोजन क्षमताएँ ज्ञात होनी चाहिए।

किसी तत्व की संयोजन शक्ति (अथवा क्षमता) उस तत्व की संयोजकता कहलाती है। किसी एक तत्व के परमाणु दूसरे तत्व के परमाणुओं के साथ किस प्रकार से संयुक्त होकर एक रासायनिक यौगिक का निर्माण करते हैं? इसको ज्ञात करने के लिए संयोजकता का उपयोग करते हैं। किसी तत्व के परमाणु की संयोजकता को उसके हाथ अथवा भुजा के रूप में विचार किया जा सकता है।

सारणी 3.6: कुछ सामान्य, सरल एवं बहुपरमाणुक आयन

संयोजकता	आयन का नाम	संकेत	अधात्विक तत्व	संकेत	बहुपरमाणुक आयन	संकेत
1.	सोडियम	Na ⁺	हाइड्रोजन	H ⁺	अमोनियम	NH ₄ ⁺
	पोटेशियम	K ⁺	हाइड्राइड	H ⁻	हाइड्रॉक्साइड	OH ⁻
	सिल्वर	Ag ⁺	क्लोराइड	Cl ⁻	नाइट्रेट	NO ₃ ⁻
	कॉपर (I)*	Cu ⁺	ब्रोमाइड	Br ⁻	हाइड्रोजन	
2.			आयोडाइड	I ⁻	कार्बोनेट	HCO ₃ ⁻
	मैग्नीशियम	Mg ²⁺	ऑक्साइड	O ²⁻	कार्बोनेट	CO ₃ ²⁻
	कैल्सियम	Ca ²⁺	सल्फाइड	S ²⁻	सल्फाइड	SO ₃ ²⁻
	ज़िंक	Zn ²⁺			सल्फेट	SO ₄ ²⁻
	आयरन (II)*	Fe ²⁺				
कॉपर (II)*	Cu ²⁺					
3.	ऐलुमिनियम	Al ³⁺	नाइट्राइड	N ³⁻	फॉस्फेट	PO ₄ ³⁻
	आयरन (III)*	Fe ³⁺				

* कुछ तत्व एक से अधिक संयोजकता दर्शाते हैं। संयोजकता को कोष्ठकों में रोमन संख्यांक द्वारा प्रदर्शित करते हैं।

मानव की दो भुजाएँ तथा ऑक्टोपस की आठ भुजाएँ होती हैं। ऑक्टोपस की एक भुजा मानव की केवल एक भुजा पकड़ सकती है। यदि एक ऑक्टोपस को कुछ मानवों को इस प्रकार से पकड़ना है कि उसकी आठ भुजाएँ मानवों की दोनों भुजाओं के साथ प्रयुक्त हो जाएँ तो आपके विचार में ऑक्टोपस कुल कितने मानवों को पकड़ सकता है? अब ऑक्टोपस को O तथा मानव को H से निरूपित कीजिए। क्या आप इस संयोजन के लिए सूत्र लिख सकते हैं? क्या आप OH₄ को सूत्र के रूप में प्राप्त करेंगे? पादांक 4 ऑक्टोपस द्वारा पकड़े गए मानवों की संख्या को प्रदर्शित करता है।

सारणी 3.6 में कुछ सरल एवं बहुपरमाणुक आयनों की संयोजकताएँ दी गई हैं। संयोजकता के बारे में हम और अधिक जानकारी अगले अध्याय में प्राप्त करेंगे। रासायनिक सूत्र लिखते समय आपको निम्न नियमों का पालन करना चाहिए:

- आयन की संयोजकता अथवा आवेश संतुलित होना चाहिए।
- जब एक यौगिक किसी धातु एवं अधातु के संयोग से निर्मित होता है तो धातु के नाम अथवा उसके प्रतीक को रासायनिक सूत्र में पहले लिखते हैं। उदाहरणार्थ: कैल्सियम ऑक्साइड (CaO), सोडियम क्लोराइड (NaCl), आयरन सल्फाइड (FeS), कॉपर ऑक्साइड (CuO) ... इत्यादि, जहाँ पर ऑक्सीजन, क्लोरीन, सल्फर अधातुएँ हैं तथा उन्हें दायीं तरफ लिखते हैं, जबकि कैल्सियम, सोडियम, आयरन एवं कॉपर धातुएँ हैं तथा उन्हें बायीं तरफ लिखते हैं।
- बहुपरमाणुक आयनों द्वारा निर्मित यौगिकों में आयन को पहले कोष्ठक में रखते हैं। तत्पश्चात् अनुपातों को दर्शाने वाली संख्या को लिखते हैं। यदि बहुपरमाणुक आयन की संख्या 1 हो तो कोष्ठक की आवश्यकता नहीं होती। उदाहरण के लिए NaOH।

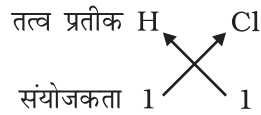
3.4.1 सरल यौगिकों के सूत्र

दो भिन्न-भिन्न तत्वों से निर्मित सरलतम यौगिकों को द्विअंगी यौगिक कहते हैं। सारणी 3.6 में कुछ आयनों की संयोजकताएँ दी गई हैं। आप इनका उपयोग यौगिकों के सूत्रों को लिखने के लिए कर सकते हैं।

आण्विक यौगिकों के रासायनिक सूत्र लिखते समय हम पहले संघटक तत्वों के प्रतीक लिखकर उनकी संयोजकताएँ लिखते हैं जैसा कि निम्न उदाहरणों में दर्शाया गया है। तत्पश्चात् संयोजित परमाणुओं की संयोजकताओं को क्रॉस करके (cross over) अणु सूत्र लिखते हैं।

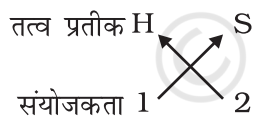
उदाहरण

1. हाइड्रोजन क्लोराइड का सूत्र



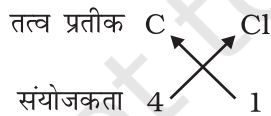
अतः हाइड्रोजन क्लोराइड का रासायनिक सूत्र HCl है।

2. हाइड्रोजन सल्फाइड के सूत्र



अतः हाइड्रोजन सल्फाइड का सूत्र : H₂S है।

3. कार्बन टेट्राक्लोराइड का सूत्र

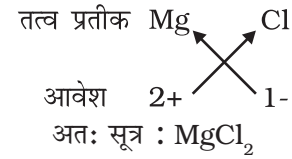


अतः कार्बन टेट्राक्लोराइड का सूत्र : CCl₄ है।

मैग्नीशियम क्लोराइड का सूत्र ज्ञात करने के लिए पहले हम धनायन का संकेत (Mg²⁺) लिखते हैं इसके पश्चात् ऋणायन क्लोराइड (Cl⁻) लिखते हैं। तत्पश्चात् इनके आवेशों को आड़ा-तिरछा (criss-cross) करके हम सूत्र प्राप्त करते हैं।

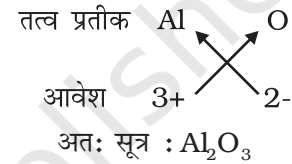
परमाणु एवं अणु

4. मैग्नीशियम क्लोराइड का सूत्र

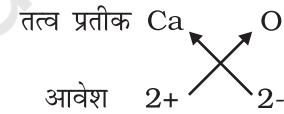


इस प्रकार हम देखते हैं कि मैग्नीशियम क्लोराइड के अणु में दो क्लोराइड आयन (Cl⁻) प्रत्येक मैग्नीशियम आयन (Mg²⁺) के लिए होता है। इस प्रकार के आयनिक यौगिकों में धनात्मक तथा ऋणात्मक आवेशों का संतुलन होना चाहिए तथा संपूर्ण संरचना उदासीन होनी चाहिए। ध्यान देने योग्य बात यह है कि इस प्रकार के सूत्रों में आयनों के आवेशों को नहीं दर्शाया जाता है।

5. ऐलुमिनियम ऑक्साइड का सूत्र:



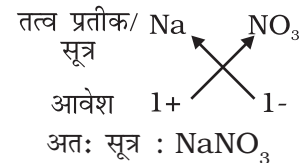
6. कैल्सियम ऑक्साइड का सूत्र:



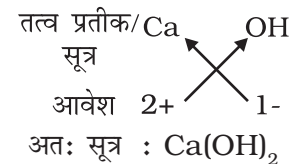
यहाँ पर दोनों तत्वों की संयोजकताएँ समान हैं। अतः इसका सूत्र Ca₂O₂ प्राप्त होगा, किंतु हम इस सूत्र को CaO के रूप में सरलीकृत करते हैं।

बहुपरमाणुक आयनों वाले यौगिक

सोडियम नाइट्रेट का सूत्र:

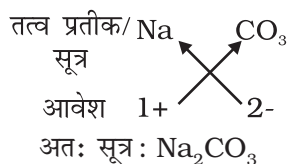


कैल्सियम हाइड्रॉक्साइड का सूत्र:



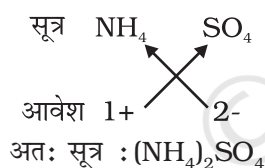
ध्यान देने योग्य बात यह है कि कैल्सियम हाइड्रॉक्साइड का सूत्र $\text{Ca}(\text{OH})_2$ है न कि CaOH_2 । जब सूत्र में एक ही आयन के दो या दो से अधिक आयन होते हैं तो हम उनके लिए कोष्ठक का उपयोग करते हैं। यहाँ पर OH को कोष्ठक में रखकर पादांक 2 लगाते हैं जो यह निर्दिष्ट करता है कि एक कैल्सियम परमाणु के साथ दो हाइड्रॉक्सील समूह जुड़े हैं। दूसरे शब्दों में, कैल्सियम हाइड्रॉक्साइड में ऑक्सीजन एवं हाइड्रोजन प्रत्येक के दो-दो परमाणु हैं।

सोडियम कार्बोनेट का सूत्र:



उपरोक्त उदाहरण में कोष्ठक के उपयोग की आवश्यकता नहीं है क्योंकि बहुपरमाणुक आयन कार्बोनेट का एक ही आयन विद्यमान है।

अमोनियम सल्फेट का सूत्र:



प्रश्न

- निम्न के सूत्र लिखिए:
 - सोडियम ऑक्साइड
 - ऐलुमिनियम क्लोराइड
 - सोडियम सल्फाइड
 - मैग्नीशियम हाइड्रॉक्साइड
- निम्नलिखित सूत्रों द्वारा प्रदर्शित यौगिकों के नाम लिखिए :
 - $\text{Al}_2(\text{SO}_4)_3$
 - CaCl_2
 - K_2SO_4
 - KNO_3
 - CaCO_3

- रासायनिक सूत्र का क्या तात्पर्य है?
- निम्न में कितने परमाणु विद्यमान हैं?
 - H_2S अणु एवं
 - PO_4^{3-} आयन?

3.5 आण्विक द्रव्यमान एवं मोल संकल्पना

3.5.1 आण्विक द्रव्यमान

अनुभाग 3.2.2 में हम परमाणु द्रव्यमान की अवधारणा की विवेचना कर चुके हैं। इस अवधारणा का विस्तार आण्विक द्रव्यमानों का परिकलन करने के लिए किया जा सकता है। किसी पदार्थ का आण्विक द्रव्यमान उसके सभी संघटक परमाणुओं के द्रव्यमानों का योग होता है। इस प्रकार यह अणु का वह सापेक्ष द्रव्यमान है जिसे परमाणु द्रव्यमान इकाई (u) द्वारा व्यक्त किया जाता है।

- उदाहरण 3.1** (a) जल (H_2O) के सापेक्ष आण्विक द्रव्यमान का परिकलन कीजिए।
 (b) नाइट्रिक अम्ल (HNO_3) के आण्विक द्रव्यमान का परिकलन कीजिए।

हल:

- (a) हाइड्रोजन का परमाणु द्रव्यमान = 1 u तथा ऑक्सीजन का परमाणु द्रव्यमान = 16 u है।
 अतः जल, जिसमें दो परमाणु हाइड्रोजन एवं एक परमाणु ऑक्सीजन होते हैं, का आण्विक द्रव्यमान
 $= 2 \times 1 + 1 \times 16 = 18 \text{ u}$ होगा।
- (b) नाइट्रिक अम्ल (HNO_3) के आण्विक द्रव्यमान = H का परमाणु द्रव्यमान + N का परमाणु द्रव्यमान + 3 × O का परमाणु द्रव्यमान
 हाइड्रोजन का परमाणु द्रव्यमान = 1 u
 ऑक्सीजन का परमाणु द्रव्यमान = 16 u तथा
 नाइट्रोजन का परमाणु द्रव्यमान = 14 u होता है।
 अतः HNO_3 का आण्विक द्रव्यमान
 $= 1 \text{ u} + 14 \text{ u} + 3 \times 16 \text{ u} = 63 \text{ u}$ है।

3.5.2 सूत्र इकाई द्रव्यमान

किसी पदार्थ का सूत्र इकाई द्रव्यमान उसके सभी संघटक परमाणुओं के परमाणु द्रव्यमानों का योग होता है। सूत्र द्रव्यमान का परिकलन उसी प्रकार से करते हैं जिस प्रकार से हमने आण्विक द्रव्यमान का परिकलन किया है। अंतर केवल इतना होता है कि यहाँ पर हम उस पदार्थ के लिए सूत्र इकाई का उपयोग करते हैं, जिसके संघटक आयन होते हैं। उदाहरणार्थ: सोडियम क्लोराइड (इकाई सूत्र NaCl)। इसके इकाई सूत्र द्रव्यमान का परिकलन निम्न प्रकार से करते हैं:

$$1 \times 23 \text{ u} + 1 \times 35.5 \text{ u} = 58.5 \text{ u}$$

उदाहरण 3.2 CaCl_2 के सूत्र इकाई द्रव्यमान का परिकलन कीजिए

हल:

कैल्सियम क्लोराइड का सूत्र इकाई द्रव्यमान CaCl_2 है।

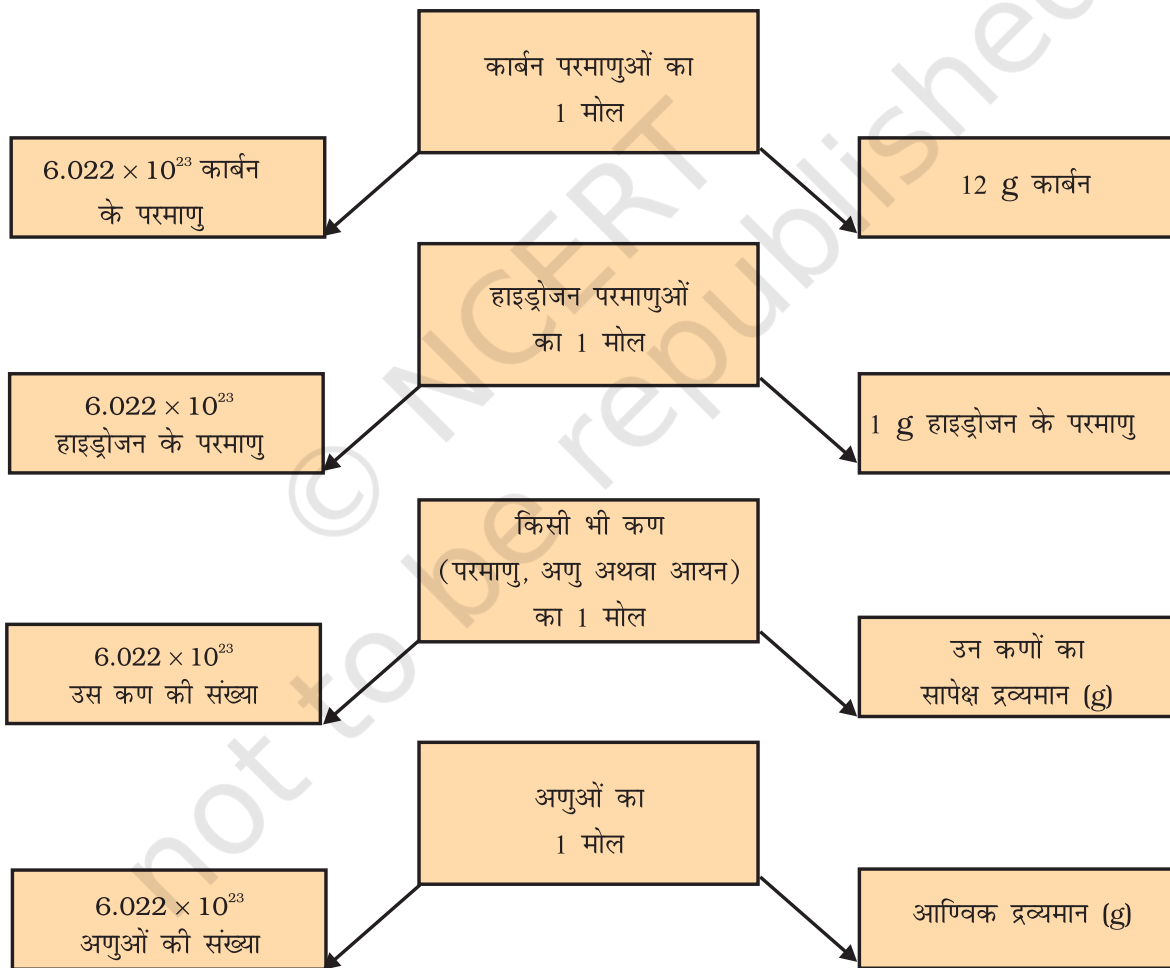
कैल्सियम (Ca) का परमाणु द्रव्यमान = 40 u

क्लोरीन (Cl) का परमाणु द्रव्यमान = 35.5 u

अतः CaCl_2 का सूत्र इकाई द्रव्यमान

$$= 1 \times 40 \text{ u} + 2 \times 35.5 \text{ u} = 40 \text{ u} + 71 \text{ u}$$

$$= 111 \text{ u}$$



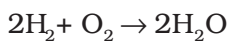
चित्र 3.5 : मोल, आवोगाद्रो संख्या एवं द्रव्यमान के बीच संबंध

प्रश्न

- निम्न यौगिकों के आण्विक द्रव्यमान का परिकलन कीजिए:
 $H_2, O_2, Cl_2, CO_2, CH_4, C_2H_6, C_2H_4, NH_3$ एवं CH_3OH
- निम्न यौगिकों के सूत्र इकाई द्रव्यमान का परिकलन कीजिए:
 ZnO, Na_2O एवं K_2CO_3
दिया गया है:
 Zn का परमाणु द्रव्यमान = 65 u
 Na का परमाणु द्रव्यमान = 23 u
 K का परमाणु द्रव्यमान = 39 u,
 C का परमाणु द्रव्यमान = 12 u एवं
 O का परमाणु द्रव्यमान = 16 u है।

3.5.3 मोल संकल्पना

यहाँ हम हाइड्रोजन एवं ऑक्सीजन की किसी अभिक्रिया का उदाहरण लेते हैं, जिसमें जल निर्मित होता है।



उपरोक्त अभिक्रिया यह निर्दिष्ट करती है कि

- हाइड्रोजन के दो अणु ऑक्सीजन के एक अणु के साथ अभिक्रिया करके जल के दो अणु निर्मित करते हैं, अथवा
- हाइड्रोजन अणु के 4 u ऑक्सीजन अणु के 32 u के साथ संयोग करके 36 u जल अणु निर्मित करते हैं।

उपरोक्त समीकरण से यह निष्कर्ष निकाल सकते हैं कि हम किसी पदार्थ की मात्रा उसके द्रव्यमान से अथवा उसके परमाणुओं की संख्या से अभिलक्षित कर सकते हैं। परंतु एक रासायनिक अभिक्रिया समीकरण से अभिक्रिया में भाग लेने वाले परमाणुओं अथवा अणुओं की संख्याएँ सीधे प्राप्त हो जाती हैं। इसलिए पदार्थों की मात्राओं का ज्ञान, उनके द्रव्यमानों के आधार की अपेक्षा उनके अणुओं अथवा परमाणुओं

की संख्या के आधार पर प्राप्त करना अधिक सुविधाजनक होता है। अतः एक नई इकाई 'मोल' (Mole) प्रस्तावित की गई। किसी स्पीशीज (परमाणु, अणु, आयन अथवा कण) के एक मोल में मात्राओं की वह संख्या है जो ग्राम में उसके परमाणु अथवा आण्विक द्रव्यमान के बराबर होती है।

किसी पदार्थ के एक मोल में कणों (परमाणु, अणु अथवा आयन) की संख्या निश्चित होती है जिसका मान 6.022×10^{23} होता है। यह मान प्रायोगिक विधि से प्राप्त किया गया है। इसको आवोगाद्रो स्थिरांक अथवा आवोगाद्रो संख्या कहते हैं जिसको N_0 से निरूपित करते हैं। यह नाम इतालवी वैज्ञानिक ऐमीडीओ आवोगाद्रो (Amedeo Avogadro) के सम्मान में रखा गया है।

1 मोल (किसी पदार्थ का) = 6.022×10^{23} संख्या में,

$$\text{जैसे 1 दर्जन} = 12$$

$$1 \text{ ग्रुस} = 144$$

यद्यपि मोल एक संख्या से संबंधित है, परंतु दर्जन या ग्रुस की तुलना में इसका एक और लाभ है। वह यह है कि किसी विशिष्ट पदार्थ के एक मोल में द्रव्यमान निश्चित होता है।

किसी पदार्थ के एक मोल का द्रव्यमान उसके सापेक्ष परमाणु एवं अणु द्रव्यमान (ग्राम में) के बराबर होता है। किसी तत्व का परमाणु द्रव्यमान, उस तत्व के द्रव्यमान को परमाणु द्रव्यमान इकाई (u) में प्रदान करता है। किसी तत्व के परमाणुओं के एक मोल का द्रव्यमान जिसको मोलर द्रव्यमान कहते हैं, हमें उसी संख्यात्मक मान को लेना पड़ेगा परंतु इकाई को u से g में परिवर्तित करना होगा। परमाणुओं के मोलर द्रव्यमान को ग्राम परमाणु द्रव्यमान भी कहते हैं। उदाहरणार्थ— हाइड्रोजन परमाणु का द्रव्यमान = 1u होता है। अतः हाइड्रोजन का ग्राम परमाणु द्रव्यमान = 1 g होगा।

1u हाइड्रोजन में केवल 1 हाइड्रोजन परमाणु होता है तथा 1 g हाइड्रोजन में उसके 1 मोल परमाणु होते हैं। अर्थात् उसमें 6.022×10^{23} हाइड्रोजन के परमाणु होंगे।

इसी प्रकार, 16 u ऑक्सीजन में केवल 1 ऑक्सीजन परमाणु होता है। अतः 16 g ऑक्सीजन में उसके 1 मोल परमाणु होंगे। अर्थात् उसमें 6.022×10^{23} ऑक्सीजन के परमाणु होंगे।

किसी अणु के ग्राम अणु द्रव्यमान अथवा मोलर द्रव्यमान को प्राप्त करने के लिए हम उसके संख्यात्मक मान जो उसके अणु द्रव्यमान के बराबर होता है, को उपरोक्त की तरह रखते हैं। परंतु हमें इकाई को u से g में परिवर्तित करना होगा।

उदाहरणार्थ: जैसा कि हम पहले ही जल (H_2O) के अणु द्रव्यमान का परिकलन कर चुके हैं जिसका मान 18 u होता है। यहाँ से हमें यह प्राप्त होता है कि 18 u जल में जल का केवल एक अणु होता है। 18 g जल में जल के 1 मोल अणु होते हैं। अर्थात् उसमें 6.022×10^{23} जल के अणु होते हैं।

रसायनज्ञों को अभिक्रियाओं को संपन्न कराने के लिए परमाणुओं एवं अणुओं की संख्याओं की आवश्यकता होती है, इसके लिए उन्हें द्रव्यमानों को ग्रामों में संख्याओं के साथ संबंधित करना पड़ता है। इसको निम्न प्रकार से करते हैं :

$$1 \text{ मोल} = 6.022 \times 10^{23}$$

$$= \text{ग्राम सापेक्ष द्रव्यमान}$$

अतः रसायनज्ञों के परिकलन की इकाई मोल हुई।

सन् 1896 में विल्हेल्म ओस्टवाल्ड (Wilhelm Ostwald) ने मोल शब्द प्रस्तावित किया था जो एक लैटिन शब्द मोल्स (Moles) से व्युत्पन्न होता है जिसका अर्थ होता है ढेर (heap or pile)। किसी पदार्थ को परमाणुओं अथवा अणुओं के ढेर के रूप में विचार किया जा सकता है। सन् 1967 में मोल इकाई स्वीकार कर ली गई, जो परमाणुओं एवं अणुओं की बृहत् संख्या को निरूपित करने का सरलतम उपाय है।

परमाणु एवं अणु

उदाहरण 3.3

1. निम्नलिखित में मोलों की संख्या का परिकलन कीजिए

(i) 52 g हीलियम (द्रव्यमान से मोल प्राप्त कीजिए)

(ii) 12.044×10^{23} हीलियम परमाणुओं की संख्या (कणों की संख्या से मोल प्राप्त कीजिए)

हल:

$$\text{मोलों की संख्या} = n$$

$$\text{दिया गया द्रव्यमान} = m$$

$$\text{मोलर द्रव्यमान} = M$$

$$\text{दिए गए कणों की संख्या} = N$$

$$\text{कणों की आवोगाद्रो संख्या} = N_0$$

(i) He का परमाणु

$$\text{द्रव्यमान} = 4 \text{ u}$$

He का मोलर

$$\text{द्रव्यमान} = 4 \text{ g}$$

अतः मोलों की संख्या

$$= \frac{\text{दिया गया द्रव्यमान}}{\text{मोलर द्रव्यमान}}$$

$$\Rightarrow n = \frac{m}{M} = \frac{52}{4} = 13$$

(ii) हम जानते हैं कि :

$$1 \text{ मोल} = 6.022 \times 10^{23}$$

मोलों की संख्या

$$= \frac{\text{दिये गए कणों की संख्या}}{\text{आवोगाद्रो संख्या}}$$

$$\Rightarrow n = \frac{N}{N_0} = \frac{12.044 \times 10^{23}}{6.022 \times 10^{23}} = 2$$

उदाहरण 3.4 निम्नलिखित द्रव्यमानों का परिकलन कीजिए :

(i) 0.5 मोल N_2 गैस (अणु के मोल से द्रव्यमान)

- (ii) 0.5 मोल N परमाणु (परमाणु के मोल से द्रव्यमान)
 (iii) 3.011×10^{23} N परमाणुओं की संख्या (संख्या से द्रव्यमान)
 (iv) 6.022×10^{23} N₂ अणुओं की संख्या (संख्या से द्रव्यमान)

हल:

- (i) द्रव्यमान = मोलर द्रव्यमान \times मोलों की संख्या
 $\Rightarrow m = M \times n = 28 \times 0.5 = 14 \text{ g}$
- (ii) द्रव्यमान = मोलर द्रव्यमान \times मोलों की संख्या
 $\Rightarrow m = M \times n = 14 \times 0.5 = 7 \text{ g}$
- (iii) मोलों की संख्या n
 $= \frac{\text{दिए गए कणों की संख्या}}{\text{आवोगाद्रो संख्या}} = \frac{N}{N_0}$
 $= \frac{3.011 \times 10^{23}}{6.022 \times 10^{23}}$
 $\Rightarrow m = M \times n = 14 \times \frac{3.011 \times 10^{23}}{6.022 \times 10^{23}}$
 $= 14 \times 0.5 = 7 \text{ g}$
- (iv) $n = \frac{N}{N_0}$
 $\Rightarrow m = M \times \frac{N}{N_0} = 28 \times \frac{6.022 \times 10^{23}}{6.022 \times 10^{23}}$
 $= 28 \times 1 = 28 \text{ g}$

उदाहरण 3.5 निम्नलिखित प्रत्येक में कणों की संख्या का परिकलन कीजिए :

- (i) 46 g सोडियम परमाणु (द्रव्यमान से संख्या)
 (ii) 8 g ऑक्सीजन अणु (द्रव्यमान से अणुओं की संख्या)

- (iii) 0.1 मोल कार्बन परमाणु (दिए गये मोल से संख्या)

हल:

- (i) परमाणुओं की संख्या
 $= \frac{\text{दिया गया द्रव्यमान}}{\text{मोलर द्रव्यमान}} \times \text{आवोगाद्रो संख्या}$
 $\Rightarrow N = \frac{m}{M} \times N_0$
 $\Rightarrow N = \frac{46}{23} \times 6.022 \times 10^{23}$
 $\Rightarrow N = 12.044 \times 10^{23}$
- (ii) अणुओं की संख्या
 $= \frac{\text{दिया गया द्रव्यमान}}{\text{मोलर द्रव्यमान}} \times \text{आवोगाद्रो संख्या}$
 $\Rightarrow N = \frac{m}{M} \times N_0$
 ऑक्सीजन का परमाणु द्रव्यमान = 16 u
 \therefore ऑक्सीजन अणुओं का मोलर द्रव्यमान
 $= 16 \times 2 = 32 \text{ g}$
 $\Rightarrow N = \frac{8}{32} \times 6.022 \times 10^{23}$
 $\Rightarrow N = 1.5055 \times 10^{23}$
 $\approx 1.51 \times 10^{23}$
- (iii) कणों (परमाणु) की संख्या = कण के मोलों की संख्या \times आवोगाद्रो संख्या
 $N = n \times N_0 = 0.1 \times 6.022 \times 10^{23}$
 $= 6.022 \times 10^{22}$

प्रश्न

- यदि कार्बन परमाणुओं के एक मोल का द्रव्यमान 12 g है तो कार्बन के एक परमाणु का द्रव्यमान क्या होगा?
- किस में अधिक परमाणु होंगे : 100 g सोडियम अथवा 100 g लोहा (Fe)? (Na का परमाणु द्रव्यमान = 23 u, Fe का परमाणु द्रव्यमान = 56 u)



आपने क्या सीखा

- किसी भी अभिक्रिया में, अभिकारकों और उत्पादों के द्रव्यमानों का योग अपरिवर्तनीय होता है। यह द्रव्यमान के संरक्षण का नियम कहलाता है।
- एक शुद्ध रासायनिक यौगिक में तत्व हमेशा द्रव्यमानों के निश्चित अनुपात में विद्यमान होते हैं, इसे निश्चित अनुपात का नियम कहते हैं।
- तत्व का सूक्ष्मतम कण परमाणु होता है, जो स्वतंत्र रूप से प्रायः नहीं रह सकता है तथा उसके सभी रासायनिक गुणधर्मों को प्रदर्शित करता है।
- अणु, किसी तत्व अथवा यौगिक का वह सूक्ष्मतम कण होता है जो सामान्य दशाओं में स्वतंत्र रह सकता है। यह पदार्थ के सभी गुणधर्मों को प्रदर्शित करता है।
- किसी यौगिक का रासायनिक सूत्र उसके सभी संघटक तत्वों तथा संयोग करने वाले सभी तत्वों के परमाणुओं की संख्या को दर्शाता है।
- परमाणुओं का वह पुंज जो आयन की तरह व्यवहार करता है, उसे बहुपरमाणुक आयन कहते हैं। उनके ऊपर एक निश्चित आवेश होता है।
- आण्विक यौगिकों के रासायनिक सूत्र प्रत्येक तत्व की संयोजकता द्वारा निर्धारित होते हैं।
- आयनिक यौगिकों में, प्रत्येक आयन के ऊपर आवेशों की संख्या द्वारा यौगिक के रासायनिक सूत्र ज्ञात करते हैं।
- वैज्ञानिक भिन्न-भिन्न तत्वों के परमाणुओं के द्रव्यमानों की तुलना करने के लिए सापेक्ष परमाणु द्रव्यमान स्केल का उपयोग करते हैं। कार्बन-12 समस्थानिक (आइसोटोप) के परमाणु का सापेक्ष द्रव्यमान 12 निर्दिष्ट किया जाता है। अन्य सभी तत्वों के परमाणुओं का सापेक्ष द्रव्यमान कार्बन-12 परमाणु के द्रव्यमान के साथ तुलना करके प्राप्त करते हैं।
- 6.022×10^{23} आवोगाद्रो स्थिरांक है जो कि 12 g में विद्यमान कार्बन-12 के परमाणुओं की संख्या है।
- मोल पदार्थ की वह मात्रा है जिसमें कणों की संख्या (परमाणु, आयन, अणु या सूत्र इकाई इत्यादि) कार्बन-12 के ठीक 12 g में विद्यमान परमाणुओं के बराबर होती है।
- पदार्थ के एक मोल अणुओं का द्रव्यमान उसका मोलर द्रव्यमान कहलाता है।



अभ्यास

- 0.24 g ऑक्सीजन एवं बोरॉन युक्त यौगिक के नमूने में विश्लेषण द्वारा यह पाया गया कि उसमें 0.096 g बोरॉन एवं 0.144 g ऑक्सीजन है। उस यौगिक के प्रतिशत संघटन का भारात्मक रूप में परिकलन कीजिए।
- 3.0 g कार्बन 8.00 g ऑक्सीजन में जलकर 11.00 g कार्बन डाइऑक्साइड निर्मित करता है। जब 3.00 g कार्बन को 50.00 g ऑक्सीजन में जलाएँगे तो कितने ग्राम कार्बन डाइऑक्साइड का निर्माण होगा? आपका उत्तर रासायनिक संयोजन के किस नियम पर आधारित होगा?
- बहुपरमाणुक आयन क्या होते हैं? उदाहरण दीजिए।
- निम्नलिखित के रासायनिक सूत्र लिखिए :
 - मैग्नीशियम क्लोराइड
 - कैल्सियम क्लोराइड
 - कॉपर नाइट्रेट
 - ऐलुमिनियम क्लोराइड
 - कैल्सियम कार्बोनेट
- निम्नलिखित यौगिकों में विद्यमान तत्वों का नाम दीजिए:
 - बुझा हुआ चूना
 - हाइड्रोजन ब्रोमाइड
 - बेकिंग पाउडर (खाने वाला सोडा)
 - पोटैशियम सल्फेट
- निम्नलिखित पदार्थों के मोलर द्रव्यमान का परिकलन कीजिए:
 - एथाइन, C_2H_2
 - सल्फर अणु, S_8
 - फॉस्फोरस अणु, P_4 (फॉस्फोरस का परमाणु द्रव्यमान = 31)
 - हाइड्रोक्लोरिक अम्ल, HCl
 - नाइट्रिक अम्ल, HNO_3
- निम्न का द्रव्यमान क्या होगा:
 - 1 मोल नाइट्रोजन परमाणु?
 - 4 मोल ऐलुमिनियम परमाणु (ऐलुमिनियम का परमाणु द्रव्यमान = 27)?
 - 10 मोल सोडियम सल्फाइट (Na_2SO_3)?

8. मोल में परिवर्तित कीजिए:
- 12 g ऑक्सीजन गैस
 - 20 g जल
 - 22 g कार्बन डाइऑक्साइड
9. निम्न का द्रव्यमान क्या होगा:
- 0.2 मोल ऑक्सीजन परमाणु?
 - 0.5 मोल जल अणु?
10. 16 g ठोस सल्फर में सल्फर (S_8) के अणुओं की संख्या का परिकलन कीजिए।
11. 0.051 g ऐलुमिनियम ऑक्साइड (Al_2O_3) में ऐलुमिनियम आयन की संख्या का परिकलन कीजिए।
- (संकेत: किसी आयन का द्रव्यमान उतना ही होता है जितना कि उसी तत्व के परमाणु का द्रव्यमान होता है। ऐलुमिनियम का परमाणु द्रव्यमान = 27 u है।)



समूह क्रियाकलाप



सूत्र लिखने के लिए एक खेल खेलिए

उदाहरण 1 : तत्वों के संकेतों एवं संयोजकताओं से युक्त अलग-अलग ताश के पत्ते बनाइए। प्रत्येक विद्यार्थी दो ताश के पत्तों को जिसमें से एक संकेत युक्त ताश के पत्ते को दाँए हाथ में तथा दूसरा संयोजकता युक्त ताश के पत्ते को बाँए हाथ में लीजिए। संकेतों को ध्यान में रखते हुए विद्यार्थी अपने ताश के पत्तों को अन्योन्य (criss-cross) (तिर्यक) करके यौगिक का सूत्र बनाएँगे।

उदाहरण 2 : सूत्र लिखने का एक सस्ता मॉडल: दवाओं के उस पैक को जिसमें से गोलियाँ निकाल ली गई हों, लीजिए। जैसा कि चित्र में दिखाया गया है, तत्व की संयोजकता के अनुसार उसे समूह में काट लीजिए। अब आप एक प्रकार के आयन को दूसरे प्रकार के आयनों में लगाकर सूत्र बना सकते हैं।

उदाहरणार्थ :



सोडियम सल्फेट के सूत्र के लिए:

2 सोडियम आयनों को एक सल्फेट आयन पर लगाइए। अतः सूत्र Na_2SO_4 होगा।

अपने आप कीजिए : सोडियम फॉस्फेट का सूत्र लिखिए।

अध्याय 4

परमाणु की संरचना (Structure of the Atom)

अध्याय 3 में हम पढ़ चुके हैं कि पदार्थ, परमाणुओं और अणुओं से मिलकर बने हैं। विभिन्न प्रकार के पदार्थों का अस्तित्व उन परमाणुओं के कारण होता है, जिनसे वे बने हैं। अब प्रश्न उठता है कि : (i) किसी एक तत्व का परमाणु दूसरे तत्व के परमाणुओं से भिन्न क्यों होता है? और (ii) क्या परमाणु वास्तव में अविभाज्य होते हैं, जैसा कि डाल्टन ने प्रतिपादित किया था या परमाणुओं के भीतर छोटे अन्य घटक भी विद्यमान होते हैं? इस अध्याय में हमें इस प्रश्न का उत्तर मिलेगा। हम अवपरमाणुक कणों और परमाणु के विभिन्न प्रकार के मॉडलों के बारे में पढ़ेंगे, जिनसे यह पता चलता है कि ये कण परमाणु के भीतर किस प्रकार व्यवस्थित होते हैं।

19वीं शताब्दी के अंत में वैज्ञानिकों के समक्ष सबसे बड़ी चुनौती थी, परमाणु की संरचना और उसके गुणों के बारे में पता लगाना। परमाणुओं की संरचना को अनेक प्रयोगों के आधार पर समझाया गया है।

परमाणुओं के अविभाज्य न होने के संकेतों में से एक संकेत स्थिर-विद्युत तथा विभिन्न पदार्थों द्वारा विद्युत चालन की परिस्थितियों के अध्ययन से मिला।

4.1 पदार्थों में आवेशित कण

पदार्थों में आवेशित कणों की प्रकृति को जानने के लिए, आइए हम निम्न क्रियाकलाप करें।

क्रियाकलाप _____ 4.1

- A. सूखे बालों पर कंघी कीजिए। क्या कंघी कागज के छोटे-छोटे टुकड़ों को आकर्षित करती है?

- B. काँच की एक छड़ को सिल्क के कपड़े पर रगड़िए और इस छड़ को हवा से भरे गुब्बारे के पास लाइए। क्या होता है, ध्यान से देखिए।

इन क्रियाकलापों से क्या हम यह निष्कर्ष निकाल सकते हैं कि दो वस्तुओं को आपस में रगड़ने से उनमें विद्युत आवेश आ जाता है? यह आवेश कहाँ से आता है? इसका उत्तर तब मिला जब यह पता चला कि परमाणु विभाज्य है और आवेशित कणों से बना है।

परमाणु में उपस्थित आवेशित कणों का पता लगाने में कई वैज्ञानिकों ने योगदान दिया।

19वीं शताब्दी तक यह जान लिया गया था कि परमाणु साधारण और अविभाज्य कण नहीं है, बल्कि इसमें कम से कम एक अवपरमाणुक कण इलेक्ट्रॉन विद्यमान होता है, जिसका पता जे. जे. टॉमसन ने लगाया था। इलेक्ट्रॉन के संबंध में जानकारी प्राप्त होने के पहले, ई. गोल्डस्टीन ने 1886 में एक नए विकिरण की खोज की, जिसे उन्होंने 'केनाल रे' का नाम दिया। ये किरणें धनावेशित विकिरण थीं, जिसके द्वारा अंततः दूसरे अवपरमाणुक कणों की खोज हुई। इन कणों का आवेश इलेक्ट्रॉन के आवेश के बराबर, किंतु विपरीत था। इनका द्रव्यमान इलेक्ट्रॉनों की अपेक्षा लगभग 2000 गुणा अधिक होता है। उनको प्रोटॉन नाम दिया गया। सामान्यतः इलेक्ट्रॉन को e^- के द्वारा और प्रोटॉन को p^+ के द्वारा दर्शाया जाता है। प्रोटॉन का द्रव्यमान 1 इकाई और इसका आवेश +1 लिया जाता है। इलेक्ट्रॉन का द्रव्यमान नगण्य और आवेश -1 माना जाता है।

ऐसा माना गया कि परमाणु प्रोटॉन और इलेक्ट्रॉन से बने हैं, जो परस्पर आवेशों को संतुलित करते हैं। यह भी प्रतीत हुआ कि प्रोटॉन परमाणु के सबसे भीतरी भाग में होते हैं। इलेक्ट्रॉनों को आसानी से निकाला जा सकता है लेकिन प्रोटॉनों को नहीं। अब सबसे बड़ा प्रश्न यह था कि ये कण परमाणु की संरचना किस प्रकार करते हैं? हमें इस प्रश्न का उत्तर नीचे मिलेगा।

प्रश्न

1. केनाल किरणें क्या हैं?
2. यदि किसी परमाणु में एक इलेक्ट्रॉन और एक प्रोटॉन है, तो इसमें कोई आवेश होगा या नहीं?

4.2 परमाणु की संरचना

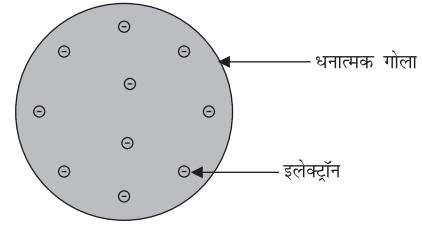
हमने अध्याय 3 में डाल्टन के परमाणु सिद्धांत के बारे में पढ़ा है, जिसके अनुसार परमाणु अविभाज्य और अविनाशी था। लेकिन परमाणु के भीतर दो मूल कणों, इलेक्ट्रॉन और प्रोटॉन की खोज ने डाल्टन के परमाणु सिद्धांत की इस धारणा को गलत साबित कर दिया। अब यह जानना आवश्यक था कि इलेक्ट्रॉन और प्रोटॉन परमाणु के भीतर किस तरह व्यवस्थित हैं। इसको समझाने के लिए बहुत से वैज्ञानिकों ने भिन्न-भिन्न प्रकार के मॉडलों को प्रस्तुत किया। जे. जे. टॉमसन पहले वैज्ञानिक थे जिन्होंने परमाणुओं की संरचना से संबंधित पहला मॉडल प्रस्तुत किया।

4.2.1 टॉमसन का परमाणु मॉडल

टॉमसन ने परमाणुओं की संरचना से संबंधित एक मॉडल प्रस्तुत किया, जो क्रिसमस केक की तरह था। इनके अनुसार परमाणु एक धनावेशित गोला था, जिसमें इलेक्ट्रॉन क्रिसमस केक में लगे सूखे मेवों की तरह थे। तरबूज का उदाहरण भी ले सकते हैं, जिसके अनुसार परमाणु में धन आवेश तरबूज के खाने वाले

परमाणु की संरचना

लाल भाग की तरह बिखरा है, जबकि इलेक्ट्रॉन धनावेशित गोले में तरबूज के बीज की भांति धँसे हैं (चित्र 4.1)।



चित्र 4.1: टॉमसन का परमाणु मॉडल

ब्रिटिश भौतिकशास्त्री, जे. जे. टॉमसन (1856-1940), का जन्म 18 दिसंबर, 1856 में मैनचेस्टर के कीचम हिल क्षेत्र में हुआ था। इलेक्ट्रॉन की खोज के कारण 1906 में उनको भौतिकशास्त्र में नोबेल पुरस्कार मिला। 35 वर्ष तक वे कैम्ब्रिज में कैवेन्डिश प्रयोगशाला के निदेशक थे और उनके शोध के सात सहयोगियों को भी आगे चलकर नोबेल पुरस्कार मिला।



टॉमसन ने प्रस्तावित किया कि:

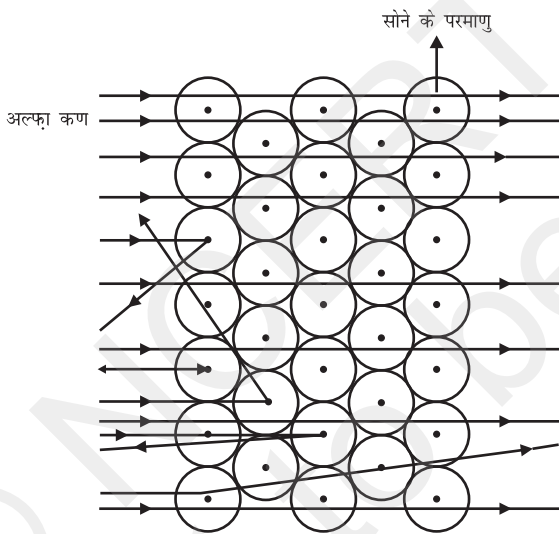
- (i) परमाणु धन आवेशित गोले का बना होता है और इलेक्ट्रॉन उसमें धँसे होते हैं।
- (ii) ऋणात्मक और धनात्मक आवेश परिमाण में समान होते हैं। इसलिए परमाणु वैद्युतीय रूप से उदासीन होते हैं।

यद्यपि टॉमसन के मॉडल से परमाणु के उदासीन होने की व्याख्या हो गई किंतु दूसरे वैज्ञानिकों द्वारा किए गए प्रयोगों के परिणामों को इस मॉडल के द्वारा समझाया नहीं जा सका, जैसा कि हम आगे देखेंगे।

4.2.2 रदरफ़ोर्ड का परमाणु मॉडल

अरनेस्ट रदरफ़ोर्ड यह जानने के इच्छुक थे कि इलेक्ट्रॉन परमाणु के भीतर कैसे व्यवस्थित हैं। उन्होंने एक प्रयोग किया। इस प्रयोग में, तेज़ गति से चल रहे अल्फ़ा कणों को सोने की पन्नी पर टकराया गया।

- इन्होंने सोने की पन्नी इसलिए चुनी क्योंकि वे बहुत पतली परत चाहते थे। सोने की यह पन्नी 1000 परमाणुओं के बराबर मोटी थी।
- अल्फ़ा कण द्विआवेशित हिलीयम कण होते हैं अतः ये धनावेशित होते हैं। चूँकि इनका द्रव्यमान $4u$ होता है इसलिए तीव्र गति से चल रहे इन अल्फ़ा कणों में पर्याप्त ऊर्जा होती है।
- यह अनुमान था कि अल्फ़ा कण सोने के परमाणुओं में विद्यमान अवपरमाणुक कणों के द्वारा विक्षेपित होंगे। चूँकि अल्फ़ा कण प्रोटॉन से बहुत अधिक भारी थे, इसलिए उन्होंने इनके अधिक विक्षेपण की आशा नहीं की थी।



चित्र 4.2: सोने की परत द्वारा अल्फ़ा कणों का प्रकीर्णन

लेकिन अल्फ़ा कण-प्रकीर्णन प्रयोग ने आशा के बिल्कुल विपरीत परिणाम दिया (चित्र 4.2)। इससे निम्नलिखित परिणाम मिले -

- (i) तेज़ गति से चल रहे अधिकतर अल्फ़ा कण सोने की पन्नी से सीधे निकल गए।

(ii) कुछ अल्फ़ा कण पन्नी के द्वारा बहुत छोटे कोण से विक्षेपित हुए।

(iii) आश्चर्यजनक रूप से प्रत्येक 12000 कणों में से एक कण वापस आ गया।

रदरफ़ोर्ड के अनुसार, “यह परिणाम उसी प्रकार अविश्वसनीय था, जैसे अगर आप एक 15 इंच के तोप के गोले को टिशू पेपर के टुकड़े पर मारते हैं और वह लौटकर आपको ही चोट पहुँचाता है।”

ई. रदरफ़ोर्ड (1871-1937) का जन्म 30 अगस्त, 1871 में स्प्रींग ग्रोव में हुआ था। उनको नाभिकीय भौतिकी का जनक माना जाता था। रेडियोधर्मिता पर अपने योगदान और सोने की पन्नी के द्वारा परमाणु के नाभिक की खोज के लिए वे बहुत प्रसिद्ध हुए। 1908 में उनको नोबेल पुरस्कार मिला।



इस प्रयोग के निष्कर्ष को समझने के लिए खुले मैदान में एक क्रियाकलाप करते हैं। मान लें कि एक बच्चा अपनी आँखों को बंद किए हुए एक दीवार के सामने खड़ा है। उसे दीवार पर कुछ दूरी से पत्थर फेंकने को कहें। प्रत्येक पत्थर के दीवार से टकराने के साथ ही वह एक आवाज़ सुनेगा। अगर वह इसे दस बार दोहराएगा तो वह दस बार आवाज़ सुनेगा। लेकिन जब आँख बंद किया हुआ बच्चा तार से घिरी हुई चारदिवारी पर पत्थर फेंकेगा तो अधिकतर पत्थर उस घेरे पर नहीं टकराएँगे और कोई आवाज़ सुनाई नहीं पड़ेगी। क्योंकि घेरे के बीच में बहुत सारे खाली स्थान हैं, जिनके बीच से पत्थर निकल जाता है।

इसी तर्क के अनुसार, अल्फ़ा कण-प्रकीर्णन प्रयोग के आधार पर रदरफ़ोर्ड ने निम्न परिणाम निकाले-

- (i) परमाणु के भीतर का अधिकतर भाग खाली है क्योंकि अधिकतर अल्फ़ा कण बिना विक्षेपित हुए सोने की पन्नी से बाहर निकल जाते हैं।

- (ii) बहुत कम कण अपने मार्ग से विक्षेपित होते हैं जिससे यह ज्ञात होता है कि परमाणु में धनावेशित भाग बहुत कम है।
- (iii) बहुत कम अल्फा कण 180° पर विक्षेपित हुए थे, जिससे यह संकेत मिलता है कि सोने के परमाणु का पूर्ण धनावेशित भाग और द्रव्यमान, परमाणु के भीतर बहुत कम आयतन में सीमित है। प्राप्त आँकड़ों के आधार पर उन्होंने यह निष्कर्ष निकाला कि नाभिक की त्रिज्या परमाणु की त्रिज्या से 10^5 गुणा छोटी है।

अपने प्रयोगों के आधार पर रदरफ़ोर्ड ने परमाणु का नाभिकीय-मॉडल प्रस्तुत किया, जिसके निम्नलिखित लक्षण थे:

- (i) परमाणु का केंद्र धनावेशित होता है जिसे नाभिक कहा जाता है। एक परमाणु का लगभग संपूर्ण द्रव्यमान नाभिक में होता है।
- (ii) इलेक्ट्रॉन नाभिक के चारों ओर वर्तुलाकार मार्ग में चक्कर लगाते हैं।
- (iii) नाभिक का आकार परमाणु के आकार की तुलना में काफी कम होता है।

रदरफ़ोर्ड के परमाणु मॉडल की कमियाँ

वर्तुलाकार मार्ग में चक्रण करते हुए इलेक्ट्रॉन का स्थायी हो पाना संभावित नहीं है। कोई भी आवेशित कण गोलाकार कक्ष में त्वरित होगा। त्वरण के दौरान आवेशित कणों से ऊर्जा का विकिरण होगा। इस प्रकार स्थायी कक्ष में घूमता हुआ इलेक्ट्रॉन अपनी ऊर्जा विकिरित करेगा और नाभिक से टकरा जाएगा। अगर ऐसा होता, तो परमाणु अस्थिर होता जबकि हम जानते हैं कि परमाणु स्थायी होते हैं।

4.2.3 बोर का परमाण्विक मॉडल

रदरफ़ोर्ड के मॉडल पर उठी आपत्तियों को दूर करने के लिए, नील्स बोर ने परमाणु की संरचना के बारे में परमाणु की संरचना

निम्नलिखित अवधारणाएँ प्रस्तुत कीं-

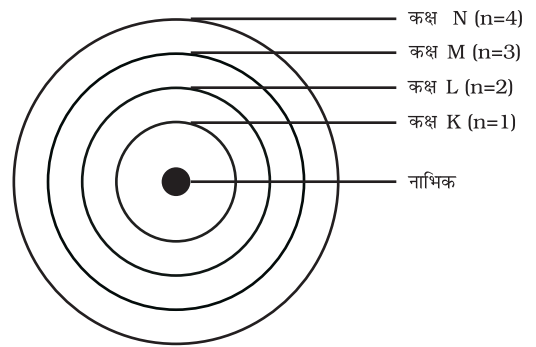
- (i) इलेक्ट्रॉन केवल कुछ निश्चित कक्षाओं में ही चक्कर लगा सकते हैं, जिन्हें इलेक्ट्रॉन की विविक्त कक्षा कहते हैं।
- (ii) जब इलेक्ट्रॉन इस विविक्त कक्षा में चक्कर लगाते हैं, तो उनकी ऊर्जा का विकिरण नहीं होता है।

नील्स बोर (1885-1962) का जन्म 7 अक्टूबर, 1885 में कोपेनहेगन में हुआ था। 1916 में कोपेनहेगन विश्वविद्यालय में उनको भौतिकशास्त्र का प्रोफ़ेसर नियुक्त किया गया। 1922 में उनको परमाणु की संरचना पर अपने योगदान के लिए नोबेल पुरस्कार मिला। प्रोफ़ेसर बोर के विविध लेखों पर आधारित तीन पुस्तकें प्रकाशित हुईं-



- (i) दि थ्योरी ऑफ़ स्पेक्ट्र एंड एटॉमिक कॉन्स्टीट्यूशन
(ii) एटॉमिक थ्योरी, और
(iii) दि डिस्क्रिप्शन ऑफ़ नेचर।

इन कक्षाओं (या कोशों) को ऊर्जा-स्तर कहते हैं। चित्र 4.3 में एक परमाणु के ऊर्जा स्तरों को दिखाया गया है।



चित्र 4.3: किसी परमाणु में कुछ ऊर्जा स्तर

ये कक्षाएँ (या कोश) K, L, M, N,..... या संख्याओं, 1, 2, 3, 4,..... के द्वारा दिखाई जाती हैं।

प्रश्न

1. परमाणु उदासीन है, इस तथ्य को टॉमसन के मॉडल के आधार पर स्पष्ट कीजिए।
2. रदरफोर्ड के परमाणु मॉडल के अनुसार, परमाणु के नाभिक में कौन सा अवपरमाणुक कण विद्यमान है?
3. तीन कक्षाओं वाले बोर के परमाणु मॉडल का चित्र बनाइए।
4. क्या अल्फ़ा कणों का प्रकीर्णन प्रयोग सोने के अतिरिक्त दूसरी धातु की पन्नी से संभव होगा?

4.2.4 न्यूट्रॉन

1932 में जे. चैडविक ने एक और अवपरमाणुक कण को खोज निकाला, जो अनावेशित और द्रव्यमान में प्रोटॉन के बराबर था। अंततः इसका नाम न्यूट्रॉन पड़ा। हाइड्रोजन को छोड़कर ये सभी परमाणुओं के नाभिक में होते हैं। समान्यतः, न्यूट्रॉन को 'n' से दर्शाया जाता है। परमाणु का द्रव्यमान नाभिक में उपस्थित प्रोटॉन और न्यूट्रॉन के द्रव्यमान के योग के द्वारा प्रकट किया जाता है।



चित्र 4.4: पहले अठारह तत्वों की परमाण्विक संरचना का व्यवस्था चित्र

प्रश्न

1. परमाणु के तीन अवपरमाणुक कणों के नाम लिखें।
2. हीलियम परमाणु का परमाणु द्रव्यमान 4 u है और उसके नाभिक में दो प्रोटॉन होते हैं। इसमें कितने न्यूट्रॉन होंगे?

4.3 विभिन्न कक्षाओं में इलेक्ट्रॉन कैसे वितरित होते हैं?

परमाणुओं की विभिन्न कक्षाओं में इलेक्ट्रॉनों के वितरण के लिए बोर और बरी ने कुछ नियम प्रस्तुत किए।

- (i) इन नियमों के अनुसार किसी कक्षा में उपस्थित अधिकतम इलेक्ट्रॉनों की संख्या को सूत्र $2n^2$ से दर्शाया जाता है, जहाँ 'n' कक्षा की संख्या या ऊर्जा स्तर है। इसलिए इलेक्ट्रॉनों की अधिकतम संख्या पहले कक्ष या K कोश में होगी $= 2 \times 1^2 = 2$, दूसरे कक्ष या L कोश में होगी $= 2 \times 2^2 = 8$, तीसरे कक्ष या M कोश में होगी $= 2 \times 3^2 = 18$, चौथे कक्ष या N कोश में होगी $= 2 \times 4^2 = 32$ ।

- (ii) सबसे बाहरी कोश में इलेक्ट्रॉनों की अधिकतम संख्या 8 हो सकती है।
- (iii) किसी परमाणु के दिए गए कोश में इलेक्ट्रॉन तब तक स्थान नहीं लेते हैं जब तक कि उससे पहले वाले भीतरी कक्ष पूर्ण रूप से भर नहीं जाते। इससे स्पष्ट होता है कि कक्षाएँ क्रमानुसार भरती हैं।

पहले 18 तत्वों की परमाणु संरचना के व्यवस्था चित्र को चित्र 4.4 में दिखाया गया है।

क्रियाकलाप _____ 4.2

- स्थायी परमाण्विक मॉडल तैयार करें तथा पहले अठारह तत्वों के इलेक्ट्रॉनिक विन्यास को दिखाएँ।
- पहले अठारह तत्वों के परमाणुओं की संयोजन सारणी 4.1 में दी गई है।

प्रश्न

1. कार्बन और सोडियम के परमाणुओं के लिए इलेक्ट्रॉन-वितरण लिखिए।
2. अगर किसी परमाणु का K और L कोश भरा है, तो उस परमाणु में इलेक्ट्रॉनों की संख्या क्या होगी?

4.4 संयोजकता

हम पढ़ चुके हैं कि परमाणुओं की विभिन्न कक्षाओं (या कोशों) में इलेक्ट्रॉन किस प्रकार व्यवस्थित होते हैं। किसी परमाणु की सबसे बाहरी कक्षा में उपस्थित इलेक्ट्रॉनों को संयोजकता-इलेक्ट्रॉन कहा जाता है।

बोर-बरी स्कीम से हम जानते हैं कि किसी परमाणु का बाह्यतम कक्ष अधिकतम 8 इलेक्ट्रॉन रख सकता है। यह देखा गया था कि जिन तत्वों के परमाणुओं के बाह्यतम कक्ष पूर्ण रूप से भरे होते हैं वे रासायनिक रूप से सक्रिय नहीं होते हैं। दूसरे शब्दों में, उनकी संयोजन-शक्ति या संयोजकता शून्य होती

है। इन अक्रिय तत्वों में से हीलियम-परमाणु के बाह्यतम कक्ष में दो (2) इलेक्ट्रॉन होते हैं और अन्य में आठ (8) होते हैं। सक्रिय तत्वों के परमाणुओं की संयोजन-शक्ति अर्थात् अपने समान या अन्य किसी तत्व के परमाणुओं से मिलकर अणु बनाने की प्रवृत्ति, अपने बाह्यतम कक्ष को पूर्ण रूप से भरने का प्रयास माना जाता है। आठ इलेक्ट्रॉन वाले सबसे बाहरी (बाह्यतम) कक्ष को अष्टक माना जाता है। परमाणु अपने अंतिम कक्ष में अष्टक प्राप्त करने के लिए क्रिया करते हैं। यह आपस में इलेक्ट्रॉनों की साझेदारी करने, उनको ग्रहण करने या उनका त्याग करने से होता है। परमाणु के बाह्यतम कक्ष में इलेक्ट्रॉनों के अष्टक बनाने के लिए जितनी संख्या में इलेक्ट्रॉनों की साझेदारी या स्थानांतरण होता है, वही उस तत्व की संयोजकता-शक्ति अर्थात् संयोजकता होती है, जिसकी चर्चा पिछले अध्याय में की गई है। उदाहरण के लिए, हाइड्रोजन, लीथियम या सोडियम प्रत्येक के परमाणुओं के बाह्यतम कक्ष में एक-एक इलेक्ट्रॉन होता है। अतः यह एक इलेक्ट्रॉन का त्याग कर सकते हैं। इसलिए उनकी संयोजकता एक (1) कही जाती है। क्या आप बता सकते हैं कि मैग्नीशियम और एल्युमिनियम की संयोजकता क्या है? यह क्रमशः 2 और 3 है क्योंकि मैग्नीशियम के बाह्यतम कक्ष में 2 तथा एल्युमिनियम के 3 इलेक्ट्रॉन होते हैं।

यदि किसी परमाणु के बाह्यतम कक्ष में इलेक्ट्रॉनों की संख्या उसकी क्षमता के अनुसार लगभग पूरी है तो संयोजकता एक अन्य प्रकार से प्राप्त की जाती है। उदाहरण के लिए, फ्लोरीन परमाणु के बाह्यतम कक्ष में सात (7) इलेक्ट्रॉन होते हैं और इसकी संयोजकता सात (7) हो सकती है किंतु बाह्यतम कक्ष में अष्टक बनाने के लिए फ्लोरीन के लिए 7 इलेक्ट्रॉनों का त्याग करने की अपेक्षा एक (1) इलेक्ट्रॉन प्राप्त करना अधिक आसान है। अतः इसकी संयोजकता,

सारणी 4.1: विभिन्न शैलों में इलेक्ट्रॉनों के वितरण के साथ पहले अठारह तत्वों के परमाणुओं का संयोजन

तत्व का नाम	प्रतीक	परमाणु संख्या	प्रोटॉनों की संख्या	न्यूट्रॉनों की संख्या	इलेक्ट्रॉनों की संख्या	इलेक्ट्रॉनों का वितरण				संयोजकता
						K	L	M	N	
हाइड्रोजन	H	1	1	-	1	1	-	-	-	1
हीलियम	He	2	2	2	2	2	-	-	-	0
लीथियम	Li	3	3	4	3	2	1	-	-	1
बेरिलियम	Be	4	4	5	4	2	2	-	-	2
बोरान	B	5	5	6	5	2	3	-	-	3
कार्बन	C	6	6	6	6	2	4	-	-	4
नाइट्रोजन	N	7	7	7	7	2	5	-	-	3
ऑक्सीजन	O	8	8	8	8	2	6	-	-	2
फ्लोरीन	F	9	9	10	9	2	7	-	-	1
नियॉन	Ne	10	10	10	10	2	8	-	-	0
सोडियम	Na	11	11	12	11	2	8	1	-	1
मैग्नीशियम	Mg	12	12	12	12	2	8	2	-	2
ऐलुमिनियम	Al	13	13	14	13	2	8	3	-	3
सिलिकॉन	Si	14	14	14	14	2	8	4	-	4
फॉस्फोरस	P	15	15	16	15	2	8	5	-	3,5
सल्फर	S	16	16	16	16	2	8	6	-	2
क्लोरीन	Cl	17	17	18	17	2	8	7	-	1
आर्गन	Ar	18	18	22	18	2	8	8	-	0

अष्टक (8) में से सात (7) घटाकर प्राप्त की जाती है और इस तरह फ्लोरीन की संयोजकता एक (1) है। ऑक्सीजन की संयोजकता का परिकलन भी इसी प्रकार किया जा सकता है। इस परिकलन से ऑक्सीजन की संयोजकता कितनी होगी?

अतः प्रत्येक तत्व के परमाणु की एक निश्चित संयोजन-शक्ति होती है, जिसे संयोजकता कहते हैं।

पहले 18 तत्वों की संयोजकता सारणी 4.1 के अंतिम स्तंभ में दी गई है।

प्रश्न

- क्लोरीन, सल्फर और मैग्नीशियम की परमाणु संख्या से आप इनकी संयोजकता कैसे प्राप्त करेंगे?

4.5 परमाणु संख्या तथा द्रव्यमान संख्या

4.5.1 परमाणु संख्या

हम जानते हैं कि परमाणु के नाभिक में प्रोटॉन विद्यमान होते हैं। एक परमाणु में उपस्थित प्रोटॉनों की संख्या उसकी परमाणु संख्या को बताती है। इसे Z के द्वारा दर्शाया जाता है। किसी तत्व के सभी अणुओं की परमाणु संख्या (Z) समान होती है। वास्तव में तत्वों को उनके परमाणु में विद्यमान प्रोटॉनों की संख्या से परिभाषित किया जाता है। हाइड्रोजन के लिए $Z = 1$, क्योंकि हाइड्रोजन परमाणु के नाभिक में केवल एक प्रोटॉन होता है। इसी प्रकार, कार्बन के लिए $Z = 6$ । इस प्रकार, एक परमाणु के नाभिक में उपस्थित प्रोटॉनों की कुल संख्या को परमाणु संख्या कहते हैं।

4.5.2 द्रव्यमान संख्या

एक परमाणु के अवपरमाणुक कणों के अध्ययन के बाद हम इस निष्कर्ष पर पहुँच सकते हैं कि व्यावहारिक रूप में परमाणु का द्रव्यमान उसमें विद्यमान प्रोटॉनों और न्यूट्रॉनों के द्रव्यमान के कारण होता है। ये परमाणु के नाभिक में विद्यमान होते हैं इसलिए इन्हें न्यूक्लियॉन भी कहते हैं। परमाणु का लगभग संपूर्ण द्रव्यमान उसके नाभिक में होता है। उदाहरण के लिए, कार्बन का द्रव्यमान $12u$ है क्योंकि इसमें 6 प्रोटॉन और 6 न्यूट्रॉन होते हैं, $6u + 6u = 12u$ । इसी प्रकार, ऐलुमिनियम का द्रव्यमान $27u$ है (13 प्रोटॉन + 14 न्यूट्रॉन)। एक परमाणु के नाभिक में उपस्थित प्रोटॉनों और न्यूट्रॉनों की कुल संख्या के योग को द्रव्यमान संख्या कहा जाता है।

किसी परमाणु को दर्शाने के लिए परमाणुक संख्या, द्रव्यमान-संख्या और तत्व का प्रतीक इस प्रकार से लिखा जाता है।

द्रव्यमान संख्या

तत्व का
प्रतीक

परमाणु संख्या

परमाणु की संरचना

उदाहरण के लिए, नाइट्रोजन को इस प्रकार लिखा जाता है, ${}^{14}_7\text{N}$ ।

प्रश्न

1. यदि किसी परमाणु में इलेक्ट्रॉनों की संख्या 8 है और प्रोटॉनों की संख्या भी 8 है तब,
(a) परमाणु की परमाणुक संख्या क्या है?
(b) परमाणु का क्या आवेश है?
2. सारणी 4.1 की सहायता से ऑक्सीजन और सल्फर-परमाणु की द्रव्यमान संख्या ज्ञात कीजिए।

4.6 समस्थानिक

प्रकृति में, कुछ तत्वों के परमाणुओं की पहचान की गई है, जिनकी परमाणु संख्या समान लेकिन द्रव्यमान संख्या अलग-अलग होती है। उदाहरण के लिए, हाइड्रोजन परमाणु को लें। इसके तीन परमाण्विक स्पीशीज़ होते हैं: प्रोटियम ${}^1_1\text{H}$, ड्यूटीरियम (${}^2_1\text{H}$ या D), ट्राइटियम (${}^3_1\text{H}$ या T), प्रत्येक की परमाणु संख्या समान है। लेकिन द्रव्यमान संख्या क्रमशः 1, 2 और 3 है। इस तरह के अन्य उदाहरण हैं: (1) कार्बन, ${}^{12}_6\text{C}$ और ${}^{14}_6\text{C}$; (2) क्लोरीन, ${}^{35}_{17}\text{Cl}$ और ${}^{37}_{17}\text{Cl}$ ।

इन उदाहरणों के आधार पर समस्थानिकों को इस प्रकार परिभाषित किया जा सकता है, “एक ही तत्व के परमाणु जिनकी परमाणु संख्या समान लेकिन द्रव्यमान संख्या भिन्न होती है।” इस तरह हम कह सकते हैं कि हाइड्रोजन परमाणु के तीन समस्थानिक प्रोटियम, ड्यूटीरियम और ट्राइटियम होते हैं।

बहुत से तत्वों में समस्थानिक का मिश्रण भी होता है। किसी तत्व का प्रत्येक समस्थानिक शुद्ध पदार्थ होता है। समस्थानिकों के रासायनिक गुण समान लेकिन भौतिक गुण अलग-अलग होते हैं।

प्रकृति में क्लोरीन दो समस्थानिक रूपों में पाया जाता है, जिसका द्रव्यमान $35u$ और $37u$, जो 3:1 के अनुपात में होते हैं। अब यह प्रश्न उठता है कि

किस द्रव्यमान को क्लोरीन परमाणु का द्रव्यमान मानना चाहिए? आइए इसका पता लगाएँ।

किसी प्राकृतिक तत्व के एक परमाणु का द्रव्यमान उस तत्व में विद्यमान सभी प्राकृतिक रूप से पाए जाने वाले परमाणुओं के औसत द्रव्यमान के बराबर होता है। अगर किसी एक तत्व का कोई समस्थानिक नहीं है तो परमाणु का द्रव्यमान उसमें उपस्थित प्रोटॉन और न्यूट्रॉनों के द्रव्यमान का योग होता है लेकिन अगर एक तत्व समस्थानिक रूप में उपस्थित होता है तो हमें प्रत्येक समस्थानिक रूप का प्रतिशत जानना होगा और औसत द्रव्यमान की गणना करनी होगी।

क्लोरीन का औसत परमाणु द्रव्यमान होगा,

$$35 \frac{75}{100} + 37 \frac{25}{100}$$

$$\frac{105}{4} + \frac{37}{4} = \frac{142}{4} = 35.5 \text{ u}$$

इसका मतलब यह नहीं है कि क्लोरीन के परमाणु का द्रव्यमान एक भिन्नात्मक संख्या 35.5u है। इसका तात्पर्य यह हुआ कि अगर आप क्लोरीन की कुछ मात्रा लेते हैं तो इसमें क्लोरीन के समस्थानिक होंगे और औसत द्रव्यमान 35.5 u होगा।

समस्थानिकों के अनुप्रयोग

कुछ समस्थानिकों के विशेष गुण होते हैं, जिनका उपयोग हम विभिन्न क्षेत्रों में करते हैं। उनमें से कुछ

निम्नलिखित हैं:

- यूरेनियम के एक समस्थानिक का उपयोग परमाणु भट्टी (atomic reactor) में ईंधन के रूप में होता है।
- कैंसर के उपचार में कोबाल्ट के समस्थानिक का उपयोग होता है।
- घेंघा रोग के इलाज में आयोडीन के समस्थानिक का उपयोग होता है।

4.6.1 समभारिक

दो तत्वों- कैल्शियम, परमाणु संख्या 20 और आर्गन परमाणु संख्या 18 के बारे में विचार कीजिए। परमाणुओं में इलेक्ट्रॉनों की संख्या भिन्न-भिन्न है, दोनों तत्वों की द्रव्यमान संख्या 40 है। यानी, तत्वों के इस जोड़े के अणुओं में कुल न्यूक्लियॉनों की संख्या समान है। अलग-अलग परमाणु संख्या वाले तत्वों को जिनकी द्रव्यमान संख्या समान होती है, समभारिक कहा जाता है।

प्रश्न

- चिह्न H, D और T के लिए प्रत्येक में पाए जाने वाले तीन अवपरमाणुक कणों को सारणीबद्ध कीजिए।
- समस्थानिक और समभारिक के किसी एक युग्म का इलेक्ट्रॉनिक विन्यास लिखिए।

आपने क्या सीखा

- इलेक्ट्रॉन और प्रोटॉन की खोज क्रमशः जे. जे. टॉमसन और ई. गोल्डस्टीन ने की।
- जे. जे. टॉमसन ने यह प्रस्तावित किया था कि इलेक्ट्रॉन धनात्मक गोले में धँसे होते हैं।

- रदरफ़ोर्ड के अल्फ़ा कणों के प्रकीर्णन प्रयोग ने परमाणु केंद्रक की खोज की।
- रदरफ़ोर्ड के परमाणु मॉडल ने प्रस्तावित किया कि परमाणु के अंदर बहुत छोटा केंद्रक होता है और इलेक्ट्रॉन केंद्रक के चारों ओर घूमते हैं। परमाणु की स्थिरता की इस मॉडल से व्याख्या नहीं की जा सकी है।
- नील बोर द्वारा दिया गया परमाणु का मॉडल अधिक सफल था। उन्होंने प्रस्तावित किया कि इलेक्ट्रॉन केंद्रक के चारों ओर निश्चित ऊर्जा के साथ अलग-अलग कक्षाओं में वितरित हैं। अगर परमाणु की सबसे बाहरी कक्षाएँ भर जाती हैं, तो परमाणु स्थिर होगा और कम क्रियाशील होगा।
- जे. चैडविक ने परमाणु के अंदर न्यूट्रॉन की उपस्थिति को खोजा। इस प्रकार परमाणु के तीन अवपरमाणुक कण हैं- इलेक्ट्रॉन, प्रोटॉन और न्यूट्रॉन। इलेक्ट्रॉन ऋण आवेशित होते हैं, प्रोटॉन धनावेशित होते हैं और न्यूट्रॉन अनावेशित होते हैं। इलेक्ट्रॉन का द्रव्यमान हाइड्रोजन परमाणु के द्रव्यमान के $1/2000$ गुणा होता है। प्रोटॉन और न्यूट्रॉन में प्रत्येक का द्रव्यमान एक इकाई लिया जाता है।
- परमाणु के कक्षों को K, L, M, N..... नाम दिया गया है।
- संयोजकता परमाणु की संयोजन शक्ति है।
- एक तत्व की परमाणु संख्या केंद्रक में विद्यमान प्रोटॉनों की संख्या के बराबर होती है।
- परमाणु की द्रव्यमान संख्या केंद्रक में विद्यमान न्यूक्लियानों की संख्या के बराबर होती है।
- समस्थानिक एक ही तत्व के परमाणु हैं जिनकी द्रव्यमान संख्या भिन्न-भिन्न होती है।
- समभारिक वे परमाणु हैं जिनकी द्रव्यमान संख्या समान लेकिन परमाणु संख्या भिन्न-भिन्न होती है।
- तत्वों को उनके प्रोटॉनों की संख्या के आधार पर परिभाषित किया जा सकता है।

अभ्यास



1. इलेक्ट्रॉन, प्रोटॉन और न्यूट्रॉन के गुणों की तुलना कीजिए।
2. जे. जे. टॉमसन के परमाणु मॉडल की क्या सीमाएँ हैं?
3. रदरफ़ोर्ड के परमाणु मॉडल की क्या सीमाएँ हैं?
4. बोर के परमाणु मॉडल की व्याख्या कीजिए।
5. इस अध्याय में दिए गए सभी परमाणु मॉडलों की तुलना कीजिए।
6. पहले अठारह तत्वों के विभिन्न कक्षों में इलेक्ट्रॉन वितरण के नियम को लिखिए।

7. सिलिकॉन और ऑक्सीजन का उदाहरण लेते हुए संयोजकता की परिभाषा दीजिए।
8. उदाहरण के साथ व्याख्या कीजिए- परमाणु संख्या, द्रव्यमान संख्या, समस्थानिक और समभारिक समस्थानिकों के कोई दो उपयोग लिखिए।
9. Na^+ के पूरी तरह से भरे हुए K व L कोश होते हैं- व्याख्या कीजिए।
10. अगर ब्रोमीन परमाणु दो समस्थानिकों [$^{79}_{35}\text{Br}$ (49.7%) तथा $^{81}_{35}\text{Br}$ (50.3%)] के रूप में है, तो ब्रोमीन परमाणु के औसत परमाणु द्रव्यमान की गणना कीजिए।
11. एक तत्व X का परमाणु द्रव्यमान 16.2 u है तो इसके किसी एक नमूने में समस्थानिक $^{16}_8\text{X}$ और $^{18}_8\text{X}$ का प्रतिशत क्या होगा?
12. यदि तत्व का $Z = 3$ हो तो तत्व की संयोजकता क्या होगी? तत्व का नाम भी लिखिए।
13. दो परमाणु स्पीशीज़ के केंद्रकों का संघटन नीचे दिया गया है
- | | X | Y |
|-----------|---|---|
| प्रोटॉन | 6 | 6 |
| न्यूट्रॉन | 6 | 8 |
- X और Y की द्रव्यमान संख्या ज्ञात कीजिए। इन दोनों स्पीशीज़ में क्या संबंध है?
14. निम्नलिखित वक्तव्यों में गलत के लिए F और सही के लिए T लिखें।
- (a) जे. जे. टॉमसन ने यह प्रस्तावित किया था कि परमाणु के केंद्रक में केवल न्यूक्लियोन्स होते हैं।
- (b) एक इलेक्ट्रॉन और प्रोटॉन मिलकर न्यूट्रॉन का निर्माण करते हैं इसलिए यह अनावेशित होता है।
- (c) इलेक्ट्रॉन का द्रव्यमान प्रोटॉन से लगभग $\frac{1}{2000}$ गुणा होता है।
- (d) आयोडीन के समस्थानिक का इस्तेमाल टिंक्चर आयोडीन बनाने में होता है। इसका उपयोग दवा के रूप में होता है।
- प्रश्न संख्या 15, 16 और 17 में सही के सामने (✓) का चिह्न और गलत के सामने (×) का चिह्न लगाइए।
15. रदरफ़ोर्ड का अल्फ़ा कण प्रकीर्णन प्रयोग किसकी खोज के लिए उत्तरदायी था-
- (a) परमाणु केंद्रक (b) इलेक्ट्रॉन
(c) प्रोटॉन (d) न्यूट्रॉन

16. एक तत्व के समस्थानिक में होते हैं-
- (a) समान भौतिक गुण (b) भिन्न रासायनिक गुण
(c) न्यूट्रॉनों की अलग-अलग संख्या (d) भिन्न परमाणु संख्या
17. Cl^- आयन में संयोजकता-इलेक्ट्रॉनों की संख्या है-
- (a) 16 (b) 8 (c) 17 (d) 18
18. सोडियम का सही इलेक्ट्रॉनिक विन्यास निम्न में कौन सा है?
- (a) 2,8 (b) 8,2,1 (c) 2,1,8 (d) 2,8,1
19. निम्नलिखित सारणी को पूरा कीजिए-

परमाणु संख्या	द्रव्यमान संख्या	न्यूट्रॉनों की संख्या	प्रोटॉनों की संख्या	इलेक्ट्रॉनों की संख्या	परमाणु स्पीशीज़
9	-	10	-	-	-
16	32	-	-	-	सल्फर
-	24	-	12	-	-
-	2	-	1	-	-
-	1	0	1	0	-

अध्याय 5

जीवन की मौलिक इकाई (The Fundamental Unit of Life)

कार्क की पतली काट के अवलोकन पर राबर्ट हुक ने पाया कि इनमें अनेक छोटे-छोटे प्रकोष्ठ हैं, जिसकी संरचना मधुमक्खी के छत्ते जैसी प्रतीत होती है। कार्क एक पदार्थ है जो वृक्ष की छाल से प्राप्त होता है। सन् 1665 में हुक ने इसे स्वनिर्मित सूक्ष्मदर्शी से देखा था। राबर्ट हुक ने इन प्रकोष्ठकों को कोशिका कहा। Cell (कोशिका) लैटिन शब्द है जिसका अर्थ है “छोटा कमरा”।

उपरोक्त घटना छोटी तथा अर्थहीन लगती हो लेकिन विज्ञान के इतिहास में यह एक बहुत ही महत्वपूर्ण घटना है। इस प्रकार सबसे पहले हुक ने देखा कि सजीवों में अलग-अलग एकक होते हैं। इन एककों का वर्णन करने के लिए जीव विज्ञान में कोशिका शब्द का उपयोग आज तक किया जाता है।

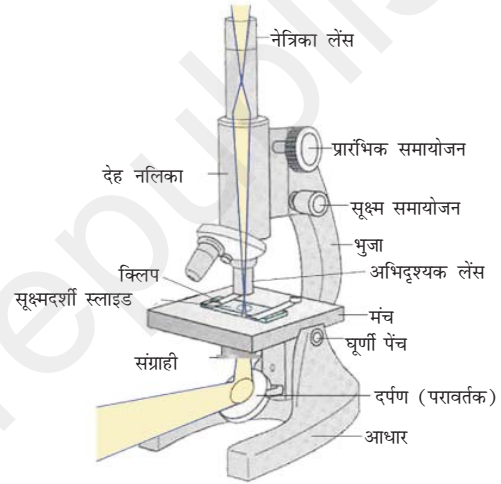
आओ, कोशिका के विषय में और जानकारी प्राप्त करें।

5.1 सजीव किससे बने होते हैं?

क्रियाकलाप 5.1

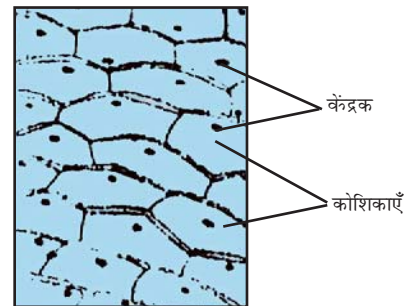
- प्याज का एक छोटा टुकड़ा लो। चिमटी की सहायता से हम प्याज की अवतल सतह की ओर (भीतरी सतह) से झिल्ली उतार सकते हैं। इस झिल्ली को तुरंत पानी वाले वाँच ग्लास में रख लेते हैं। इससे झिल्ली मुड़ने अथवा सूखने से बच जाएगी। हम इस झिल्ली से क्या करें?
- एक काँच की स्लाइड लो। इस पर पानी की एक बूँद डालो। अब वाँच ग्लास में रखी झिल्ली के इस छोटे टुकड़े को इस स्लाइड पर रख दो। यह ध्यान रखें कि झिल्ली बिलकुल सीधी हो। एक पतला पेंट ब्रुश इस झिल्ली को स्लाइड पर रखने में आपकी सहायता कर सकता है। अब इस पर एक बूँद सेफ्रामाइन की डालो और इसे कवर

स्लिप से ढक दो। कवर स्लिप को सुई की सहायता से इस प्रकार रखें जिससे कि इसमें वायु के बुलबुले न आने पाएँ। अपने अध्यापक से सहायता लें। हमने प्याज की झिल्ली की अस्थायी स्लाइड बनाई है। अब हम इसे पहले कम शक्ति वाले तथा उसके बाद उच्च शक्ति वाले संयुक्त सूक्ष्मदर्शी से देखते हैं।



चित्र 5.1: संयुक्त सूक्ष्मदर्शी

आपने क्या देखा? क्या आप जो संरचना सूक्ष्मदर्शी के द्वारा देखते हैं उसे कागज पर खींच सकते हैं? क्या यह चित्र 5.2 जैसी दिखाई देती है?



चित्र 5.2: प्याज की झिल्ली की कोशिकाएँ

अब हम विभिन्न आकार वाली प्याज की झिल्लियों से अस्थायी स्लाइड बनाएँगे। हम क्या देखते हैं? क्या हम एकसमान संरचनाओं को देखते हैं अथवा भिन्न-भिन्न?

ये संरचनाएँ क्या हैं?

ये सभी संरचनाएँ एक जैसी दिखाई देती हैं। ये सभी मिलकर एक बड़ी संरचना (शल्क कंद) बनाते हैं जैसे प्याज। इस क्रियाकलाप से हमें पता चलता है कि विभिन्न आकार के प्याज में सूक्ष्मदर्शी द्वारा देखने पर एक जैसी संरचनाएँ दिखाई देती हैं। प्याज की झिल्ली की कोशिकाएँ एकसमान हैं। प्याज के आकार से इसका कोई संबंध नहीं है।

ये छोटी-छोटी संरचनाएँ जो हम देख रहे हैं शल्क कंद प्याज की मूलभूत इकाई है। इन संरचनाओं को कोशिका कहते हैं। न केवल प्याज बल्कि जितने भी जीव-जंतु हम अपने आस-पास देखते हैं वे सभी कोशिकाओं से बनते हैं। यद्यपि, कुछ जीव एककोशिक भी होते हैं।

आवर्धक लेंस की खोज के बाद सूक्ष्मदर्शी का आविष्कार संभव हो सका। यह पता चला है कि एक मात्र कोशिका स्वयं में ही एक संपूर्ण जीव जैसे अमीबा, क्लैमिडोमोनास, पैरामीशियम तथा बैक्टीरिया हो सकती है। इन सजीवों को एककोशिक जीव कहते हैं। इसके अतिरिक्त बहुकोशिक जीवों में अनेक कोशिकाएँ समाहित होकर विभिन्न कार्यों को सम्पन्न करने हेतु विभिन्न अंगों का निर्माण करती हैं। इसके कुछ उदाहरण हैं फंजाई (कवक), पादप तथा जंतु। क्या हम कुछ और एककोशिक जीवों के विषय में पता कर सकते हैं?

प्रत्येक बहुकोशिक जीव एक कोशिका से ही विकसित हुआ है। कैसे? कोशिकाएँ विभाजित होकर अपनी ही जैसी कोशिकाएँ बनाती हैं। इस प्रकार सभी कोशिकाएँ अपनी पूर्ववर्ती कोशिकाओं से उत्पन्न होती हैं।

जीवन की मौलिक इकाई

कोशिका का सबसे पहले पता रॉबर्ट हुक ने 1665 में लगाया था। उसने कोशिका को कार्क की पतली काट में अनगढ़ सूक्ष्मदर्शी की सहायता से देखा। ल्यूवेनहक (1674) ने सबसे पहले उन्नत सूक्ष्मदर्शी से तालाब के जल में स्वतंत्र रूप से जीवित कोशिकाओं का पता लगाया। रॉबर्ट ब्राउन ने 1831 में कोशिका में केंद्रक का पता लगाया। जे. ई. पुरोकंज ने 1839 में कोशिका में स्थित तरल जैविक पदार्थ को जीवद्रव्य का नाम दिया। दो जीव वैज्ञानिक - एम. स्लीडन (1838) तथा टी. स्वान (1839) ने कोशिका सिद्धांत के विषय में बताया। इस सिद्धांत के अनुसार सभी पौधे तथा जंतु कोशिकाओं से बने हैं और वे जीवन की मूलभूत इकाई हैं। विरचो (1855) ने कोशिका सिद्धांत को और आगे बढ़ाया। उन्होंने बताया कि सभी कोशिकाएँ पूर्ववर्ती कोशिकाओं से बनती हैं। 1940 में इलेक्ट्रॉन सूक्ष्मदर्शी की खोज के बाद कोशिका की जटिल संरचना तथा बहुत से अंगकों को समझना संभव हो सका।

इसे भी जाने

क्रियाकलाप _____ 5.2

- हम पत्ती की झिल्ली, प्याज की मूलाग्र अथवा विभिन्न आकार के प्याज की झिल्ली की अस्थायी स्लाइड बना सकते हैं।
- उपरोक्त क्रियाकलाप करने के बाद निम्नलिखित प्रश्नों के उत्तर दीजिए :
 - (i) क्या सभी कोशिकाएँ आकार तथा आकृति की दृष्टि से एक जैसी दिखाई देती हैं?
 - (ii) क्या सभी कोशिकाओं की संरचना एक जैसी दिखाई देती है?
 - (iii) क्या पादप के विभिन्न भागों में पायी जाने वाली कोशिकाओं में कोई अंतर है?
 - (iv) हमें कोशिकाओं में क्या समानता दिखाई देती है?

कुछ जीवों में विभिन्न प्रकार की कोशिकाएँ भी हो सकती हैं। निम्नलिखित तस्वीर को देखो। ये मानव शरीर की कुछ कोशिकाएँ हैं।



चित्र 5.3: मानव शरीर की विभिन्न कोशिकाएँ

कोशिकाओं की आकृति तथा आकार उनके विशिष्ट कार्यों के अनुरूप होते हैं। कुछ कोशिकाएँ अपना आकार बदलती रहती हैं जैसे एककोशिक अमीबा। कुछ जीवों में कोशिका का आकार लगभग स्थिर रहता है और प्रत्येक प्रकार की कोशिका के लिए विशिष्ट होता है; उदाहरण के लिए तंत्रिका कोशिका।

प्रत्येक जीवित कोशिका में कुछ मूलभूत कार्य करने की क्षमता होती है, जो सभी सजीवों का गुण है। एक जीवित कोशिका ये मूलभूत कार्य कैसे करती है? हम जानते हैं कि बहुकोशिक जीवों में श्रम विभाजन होता है जैसा कि मनुष्यों में। इसका अर्थ यह है कि शरीर के विभिन्न अंग विभिन्न कार्य करते हैं। जैसे मनुष्य के शरीर में हृदय रुधिर को पम्प करता है तथा आमाशय भोजन का पाचन आदि। इसी प्रकार एककोशिक में भी श्रम विभाजन होता है। वास्तव में ऐसी प्रत्येक कोशिका में कुछ विशिष्ट घटक होते हैं जिन्हें कोशिकांग कहते हैं। प्रत्येक कोशिकांग एक विशिष्ट कार्य करता है जैसे कोशिका में नए पदार्थ का निर्माण, अपशिष्ट पदार्थों का निष्कासन आदि। इन

कोशिकांगों के कारण ही एक कोशिका जीवित रहती है और अपने सभी कार्य करती है। ये कोशिकांग मिलकर एक मूलभूत इकाई बनाते हैं जिसे कोशिका कहते हैं। यह बड़ा रुचिकर है कि सभी कोशिकाओं में एक ही प्रकार के कोशिकांग होते हैं। इससे कोई फर्क नहीं पड़ता कि उसके कार्य क्या हैं अथवा वे किस जीव में पाई जाती हैं।

प्रश्न

1. कोशिका की खोज किसने और कैसे की?
2. कोशिका को जीवन की संरचनात्मक व क्रियात्मक इकाई क्यों कहते हैं?

5.2 कोशिका किससे बनी होती है? कोशिका का संरचनात्मक संगठन क्या है?

हमने देखा कि कोशिका में विशिष्ट घटक होते हैं जिन्हें कोशिकांग कहते हैं। कोशिका कैसे संगठित होती है?

यदि हम कोशिका का अध्ययन सूक्ष्मदर्शी से करें तो हमें लगभग प्रत्येक कोशिकाओं में तीन गुण दिखाई देंगे; **प्लैज्मा झिल्ली**, **केंद्रक** तथा **कोशिकाद्रव्य**। कोशिका के अंदर होने वाले समस्त क्रियाकलाप तथा उसकी बाह्य पर्यावरण से पारस्परिक क्रियाएँ इन्हीं गुणों के कारण संभव हैं। आओ देखें कैसे?

5.2.1 प्लैज्मा झिल्ली अथवा कोशिका झिल्ली

यह कोशिका की सबसे बाहरी परत है जो कोशिका के घटकों को बाहरी पर्यावरण से अलग करती है। प्लैज्मा झिल्ली कुछ पदार्थों को अंदर अथवा बाहर आने-जाने देती है। यह अन्य पदार्थों की गति को भी रोकती है। कोशिका झिल्ली को इसलिए वर्णात्मक पारगम्य झिल्ली कहते हैं।

कोशिका में पदार्थों की गति कैसे होती है? पदार्थ कोशिका से बाहर कैसे आते हैं?

कुछ पदार्थ जैसे कार्बन डाइऑक्साइड अथवा ऑक्सीजन कोशिका झिल्ली के आर-पार विसरण प्रक्रिया द्वारा आ-जा सकते हैं। हम पिछले अध्यायों में विसरण की प्रक्रिया के विषय में पढ़ चुके हैं। हमने देखा है कि पदार्थों की गति उच्च सांद्रता से निम्न सांद्रता की ओर होती है।

कुछ इसी प्रकार की प्रक्रिया कोशिका में होती है, उदाहरण के लिए, जब कुछ पदार्थ जैसे CO_2 (जो एक कोशिकीय अपशिष्ट है और जिसका निष्कासन आवश्यक है) कोशिका में एकत्र हो जाती है तो उसकी सांद्रता बढ़ जाती है। कोशिका के बाह्य पर्यावरण में CO_2 की सांद्रता कोशिका में स्थित CO_2 की सांद्रता की अपेक्षा कम होती है। जैसे ही कोशिका के अंदर और बाहर CO_2 की सांद्रता में अंतर आता है उसी समय उच्च सांद्रता से निम्न सांद्रता की ओर विसरण द्वारा कोशिका से CO_2 बाहर निकल जाती है। इसी प्रकार जब कोशिका में ऑक्सीजन की सांद्रता कम हो जाती है तो O_2 बाहर से कोशिका में विसरण द्वारा अंदर चली जाती है। अतः कोशिका तथा बाह्य पर्यावरण में गैसों के आदान-प्रदान में विसरण एक महत्वपूर्ण भूमिका निभाती है।

जल भी विसरण के नियमों के अनुकूल व्यवहार करता है। जल के अणुओं की गति जब वर्णात्मक पारगम्य झिल्ली द्वारा हो तो उसे परासरण कहते हैं। प्लैज्मा झिल्ली से जल की गति जल में घुले पदार्थों की मात्रा के कारण भी प्रभावित होती है। इस प्रकार परासरण में जल के अणु वर्णात्मक पारगम्य झिल्ली द्वारा उच्च जल की सांद्रता से निम्न जल की सांद्रता की ओर जाते हैं।

यदि हम किसी जंतु कोशिका अथवा पादप कोशिका को शक्कर अथवा नमक के विलयन में रखें तो क्या होगा? निम्नलिखित तीन घटनाओं में से एक घटना हो सकती है:

1. यदि कोशिका को तनु विलयन वाले माध्यम अर्थात् जल में शक्कर अथवा नमक की मात्रा कम और जल की मात्रा ज्यादा है, में रखा गया है तो जल परासरण विधि द्वारा कोशिका के अंदर चला जाएगा। ऐसे विलयन को अल्पपरासरण दाबी विलयन कहते हैं।

जल के अणु कोशिका झिल्ली के दोनों ओर आवागमन करने के लिए स्वतंत्र होते हैं, लेकिन कोशिका के अंदर जाने वाले जल की मात्रा कोशिका से बाहर आने वाले जल की मात्रा से अधिक होगी। इस प्रकार शुद्ध परिणाम यह होगा कि जल कोशिका के अंदर गया। इससे कोशिका फूलने लगेगी।

2. यदि कोशिका को ऐसे माध्यम विलयन में रखा जाए जिसमें बाह्य जल की सांद्रता कोशिका में स्थित जल की सांद्रता के ठीक बराबर हो तो कोशिका झिल्ली से जल में कोई शुद्ध गति नहीं होगी। ऐसे विलयन को समपरासारी विलयन कहते हैं।

जल कोशिका झिल्ली के दोनों ओर आता-जाता है, लेकिन जल की जो मात्रा अंदर गई उतनी ही बाहर आ जाती है। इस प्रकार व्यापक रूप से जल की कोई गति नहीं हुई। इसलिए कोशिका के माप में कोई परिवर्तन नहीं आएगा।

3. यदि कोशिका के बाहर वाला विलयन अंदर के घोल से अधिक सांद्र है तो जल परासरण द्वारा कोशिका से बाहर आ जाएगा। ऐसे विलयन को अतिपरासरणदाबी विलयन कहते हैं।

पुनः जल कोशिका झिल्ली के दोनों ओर आ-जा सकता है, लेकिन इस स्थिति में कोशिका से अधिक जल बाहर आएगा और कम जल अंदर जाएगा। इसलिए कोशिका सिकुड़ जाएगी।

परासरण इस प्रकार विसरण की एक विशिष्ट विधि है जिसमें वर्णात्मक झिल्ली द्वारा गति होती है। आओ, निम्नलिखित क्रियाकलाप करें।

क्रियाकलाप _____ 5.3

अंडे से परासरण

- (a) अंडे को तनु हाइड्रोक्लोरिक अम्ल में डालकर उसके कवच को हटाओ। इसका कवच अधि कांशतः कैल्सियम कार्बोनेट का बना होता है। एक पतली बाह्य त्वचा (झिल्ली) अब अंडे को

घेरे रखती है। अंडे को शुद्ध जल में रखो और 5 मिनट के बाद इसका अवलोकन करो। आप क्या देखते हैं?

अंडा फूल जाता है क्योंकि परासरण द्वारा जल अंडे के अंदर चला जाता है।

- (b) इसी प्रकार का एक कवचरहित अंडा नमक के सांद्रित विलयन में रखो और 5 मिनट तक उसका अवलोकन करो। अंडा सिकुड़ जाता है। क्यों? जल अंडे से निकलकर नमक के विलयन में आ जाता है, क्योंकि नमक का घोल अधिक सांद्रित है।

इस प्रकार का क्रियाकलाप हम सूखी किशमिश अथवा खूबानी से भी करने का प्रयत्न कर सकते हैं।

क्रियाकलाप _____ 5.4

- सूखी किशमिश अथवा खूबानी को केवल जल में रखो और उसे कुछ समय के लिए छोड़ दो। उसके बाद उसे शक्कर अथवा नमक के सांद्रित विलयन में रखो। आप निम्नलिखित अंतर देखेंगे।
 - (a) जब उन्हें जल में रखा गया तो वे जल ग्रहण करके फूल गईं।
 - (b) जब उन्हें सांद्रित घोल में रखा गया तो वे जल को बाहर निकाल कर सिकुड़ गईं।

एककोशिकीय अलवणीय जलीय जीवों तथा अधिकांश पादप कोशिकाएँ परासरण द्वारा जल ग्रहण करते हैं। पौधों के मूल द्वारा जल का अवशोषण परासरण का एक उदाहरण है।

इस प्रकार कोशिका के जीवन में विसरण जल तथा गैसों के आदान-प्रदान की प्रक्रिया में महत्वपूर्ण भूमिका निभाता है। इसके अतिरिक्त विसरण, कोशिका को अपने बाहरी पर्यावरण से पोषण ग्रहण करने में सहायता करता है। कोशिका से विभिन्न अणुओं का अंदर आना तथा बाहर निकलना भी विसरण द्वारा ही होता है। इस प्रकार के परिवहन में ऊर्जा की आवश्यकता होती है।

प्लैज्मा झिल्ली लचीली होती है और कार्बनिक अणुओं जैसे लिपिड तथा प्रोटीन की बनी होती है।

प्लैज्मा झिल्ली की रचना हम केवल इलेक्ट्रॉन सूक्ष्मदर्शी से देख सकते हैं।

कोशिका झिल्ली का लचीलापन एककोशिक जीवों में कोशिका के बाह्य पर्यावरण से अपना भोजन तथा अन्य पदार्थ ग्रहण करने में सहायता करता है। ऐसी प्रक्रिया को एन्डोसाइटोसिस कहते हैं। अमीबा अपना भोजन इसी प्रक्रिया द्वारा प्राप्त करता है।

क्रियाकलाप _____ 5.5

- विद्यालय के पुस्तकालय अथवा इंटरनेट से इलेक्ट्रॉन सूक्ष्मदर्शी के विषय में पता करें। इसके विषय में अपने अध्यापक से चर्चा करें।

प्रश्न

1. CO_2 तथा पानी जैसे पदार्थ कोशिका से कैसे अंदर तथा बाहर जाते हैं? इस पर चर्चा करें।
2. प्लैज्मा झिल्ली को वर्णात्मक पारगम्य झिल्ली क्यों कहते हैं?

5.2.2 कोशिका भित्ति

पादप कोशिकाओं में प्लैज्मा झिल्ली के अतिरिक्त कोशिका भित्ति भी होती है। पादप कोशिका भित्ति मुख्यतः सेल्यूलोज की बनी होती है। सेल्यूलोज एक बहुत जटिल पदार्थ है और यह पौधों को संरचनात्मक दृढ़ता प्रदान करता है।

जब किसी पादप कोशिका में परासरण द्वारा पानी की हानि होती है तो कोशिका झिल्ली सहित आंतरिक पदार्थ संकुचित हो जाते हैं। इस घटना को जीवद्रव्य कुंचन कहते हैं। हम इस परिघटना को निम्न क्रियाकलाप द्वारा देख सकते हैं।

क्रियाकलाप _____ 5.6

- रिओ की पत्ती की झिल्ली को पानी में रखकर एक स्लाइड बनाओ। इसे उच्च शक्ति वाले सूक्ष्मदर्शी से देखो। छोटे-छोटे हरे कण दिखाई देंगे। इन्हें क्लोरोप्लास्ट कहते हैं। इनमें एक हरा पदार्थ होता है जिसे क्लोरोफिल कहते हैं। इस

स्लाइड पर शक्कर अथवा नमक का सांद्र विलयन डालो। एक मिनट प्रतीक्षा करो और इसे सूक्ष्मदर्शी से देखो। हम क्या देखते हैं?

- अब रिओ की पत्तियों को कुछ मिनट तक जल में उबालो। इससे पत्तियों की सभी कोशिकाएँ मर जाएँगी। अब एक पत्तियों को स्लाइड पर रखो और उसे सूक्ष्मदर्शी से देखो। स्लाइड पर रखी इस पत्ती पर शक्कर अथवा नमक का सांद्र विलयन डालो। एक मिनट प्रतीक्षा करो और पुनः सूक्ष्मदर्शी से देखो। हम क्या देखते हैं? क्या अब जीवद्रव्य कुंचन हुआ?

इस क्रियाकलाप से क्या निष्कर्ष निकलता है? इससे पता लगता है कि केवल जीवित कोशिकाओं में ही परासरण द्वारा जल अवशोषण की क्षमता होती है न कि मृत कोशिकाओं में।

कोशिका भित्ति पौधों, कवक तथा बैक्टीरिया की कोशिकाओं को अपेक्षाकृत कम तनु विलयन (अल्पपरासरण दाबी विलयन) में बिना फटे बनाए रखती है। ऐसे माध्यम से कोशिका परासरण विधि द्वारा पानी लेती है। कोशिका फूल जाती है और कोशिका भित्ति के ऊपर दबाव डालती है। कोशिका भित्ति भी फूली हुई कोशिका के प्रति समान रूप से दबाव डालती है। कोशिका भित्ति के कारण पादप कोशिकाएँ परिवर्तनीय माध्यम को जंतु कोशिका की अपेक्षा आसानी से सहन कर सकती है।

5.2.3 केंद्रक

आपको याद होगा कि हमने प्याज की झिल्ली की अस्थायी स्लाइड बनाई थी। हमने इस झिल्ली पर आयोडीन की बूँद डाली थी। क्यों? यदि हम बिना आयोडीन के स्लाइड देखें तो हम क्या देखेंगे? प्रयत्न करो और देखो कि क्या अंतर है। जब हमने आयोडीन का घोल डाला तो क्या प्रत्येक कोशिका समान रूप से रंगीन हो गई?

कोशिका के विभिन्न भाग रासायनिक संघटन के आधार पर विभिन्न रंगों से रंगे जाते हैं। कुछ क्षेत्र अधिक गहरे रंग के प्रतीत होते हैं तथा कुछ कम।

जीवन की मौलिक इकाई

कोशिका को रँगने के लिए हम आयोडीन विलयन के अतिरिक्त सैफ्रानिन अथवा मेथलीन ब्लू विलयन का भी उपयोग कर सकते हैं।

हमने प्याज की कोशिका को देखा है; आओ, अब हम अपने शरीर से ली गई कोशिकाओं को देखें।

क्रियाकलाप 5.7

- काँच की एक स्लाइड लो और उस पर एक बूँद पानी रखो। आइसक्रीम खाने वाले चम्मच से अपने गाल के अंदर की खाल को धीरे से खुरचो। क्या चम्मच पर कोई वस्तु चिपक गई है? सूई की सहायता से इसे स्लाइड पर समान रूप से फैला कर रखो। इसे रँगने के लिए एक बूँद मेथलीन ब्लू की डालें। सूक्ष्मदर्शी द्वारा अवलोकन के लिए स्लाइड तैयार है। इस पर कवर स्लिप रखना ना भूलें।
- हम क्या देखते हैं? कोशिकाओं की आकृति कैसी है? इस आकृति को एक पेपर (कागज) पर बनाएँ।
- क्या आप कोशिका के मध्य में एक गहरे रंग वाली गोलाकार अथवा अंडाकार, डॉट की तरह की संरचना देख रहे हैं? इस संरचना को केंद्रक कहते हैं। क्या इसी प्रकार की संरचना प्याज की झिल्ली में भी थी?

केंद्रक के चारों ओर दोहरे परत का एक स्तर होता है जिसे केंद्रक झिल्ली कहते हैं। केंद्रक झिल्ली में छोटे-छोटे छिद्र होते हैं। इन छिद्रों के द्वारा केंद्रक के अंदर का कोशिकाद्रव्य केंद्रक के बाहर जा पाता है। कोशिकाद्रव्य के विषय में हम अनुभाग 5.2.4 में पढ़ेंगे।

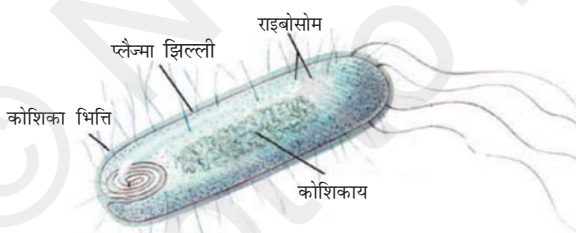
केंद्रक में क्रोमोसोम होते हैं जो कोशिका विभाजन के समय छड़ाकार दिखाई पड़ते हैं। क्रोमोसोम में आनुवांशिक गुण होते हैं जो माता-पिता से DNA (डिऑक्सी राइबो न्यूक्लीक अम्ल) अणु के रूप में अगली संतति में जाते हैं। क्रोमोसोम DNA तथा प्रोटीन के बने होते हैं। DNA अणु में कोशिका के निर्माण व संगठन की सभी आवश्यक सूचनाएँ होती हैं। DNA के क्रियात्मक खंड को जीन कहते हैं। जो कोशिका विभाजित नहीं हो रही होती है उसमें यह DNA

क्रोमैटिन पदार्थ के रूप में विद्यमान रहता है। क्रोमैटिन पदार्थ धागे की तरह की रचनाओं के एक जाल का पिंड होता है। जब कभी भी कोशिका विभाजित होने वाली होती है, तब यह क्रोमोसोम में संगठित हो जाता है।

कुछ जीवों में कोशिकीय जनन में केंद्रक महत्वपूर्ण भूमिका निभाता है। इस प्रक्रिया में एक अकेली कोशिका विभाजित होकर दो नयी कोशिकाएँ बनाती हैं। यह कोशिका के विकास व परिपक्वण को निर्धारित करता है तथा साथ ही सजीव कोशिका की रासायनिक क्रियाओं को भी निर्देशित करता है।

बैक्टीरिया जैसे कुछ जीवों में कोशिका का केंद्रकीय क्षेत्र बहुत कम स्पष्ट होता है क्योंकि इसमें केंद्रक झिल्ली नहीं होती। ऐसे अस्पष्ट केंद्रक क्षेत्र में केवल क्रोमैटिन पदार्थ होता है। ऐसे क्षेत्र को केंद्रकाय कहते हैं। ऐसे जीव जिसकी कोशिकाओं में केंद्रक झिल्ली नहीं होती उन्हें प्रोकैरियोट (प्रो-आदि अथवा पूर्व; कैरियोट = कैरियोन = केंद्रक)। जिन जीवों की कोशिकाओं में केंद्रक झिल्ली होती है उन्हें यूकैरियोट कहते हैं।

प्रोकैरियोटी कोशिकाओं (चित्र 5.4) में और भी अन्य अधिकांश द्रव्य अंगक नहीं होते हैं जो कि यूकैरियोटी कोशिकाओं में होते हैं। ऐसे अंगकों के अनेक कार्य भी कोशिका द्रव्य के असंगठित भागों द्वारा ही किए जाते हैं (अनुभाग 5.2.4 पढ़ें)। प्रकाश संश्लेषी बैक्टीरिया में क्लोरोफिल झिल्लीदार पुटिका (थैले की तरह की संरचना) के साथ होता है जबकि यूकैरियोटी कोशिकाओं में क्लोरोफिल प्लैस्टिड में होता है (अनुभाग 5.2.5 देखें)।



चित्र 5.4: प्रोकैरियोटी कोशिका

5.2.4 कोशिका द्रव्य

जब हमने प्याज की झिल्ली तथा मनुष्य के गाल की कोशिकाओं की स्लाइड को देखा, तब हमें प्रत्येक

कोशिका में एक बड़ा क्षेत्र दिखा जो कोशिका झिल्ली से घिरा हुआ था। इस क्षेत्र में बहुत हलका धब्बा था। इसे कोशिका द्रव्य कहते हैं। प्लैज्मा झिल्ली के अंदर कोशिका द्रव्य एक तरल पदार्थ है। इसमें बहुत से विशिष्ट कोशिका के घटक होते हैं जिन्हें कोशिक का अंगक कहते हैं। प्रत्येक अंगक कोशिका के लिए विशिष्ट कार्य करते हैं। कोशिका द्रव्य तथा केंद्रक दोनों को मिलाकर जीवद्रव्य कहते हैं।

कोशिका अंगक झिल्ली युक्त होते हैं। प्रोकैरियोटी कोशिकाओं में वास्तविक केंद्रक के अतिरिक्त झिल्ली युक्त अंगक भी नहीं होते। जबकि यूकैरियोटी कोशिकाओं में केंद्रकीय झिल्ली तथा झिल्ली युक्त अंगक होते हैं।

झिल्ली की सार्थकता वाइरस के उदाहरण से स्पष्ट कर सकते हैं। वाइरस में किसी भी प्रकार की झिल्ली नहीं होती और इसलिए इसमें जीवन के गुण तब तक लक्षित नहीं होते जब तक कि यह किसी सजीव के शरीर में प्रविष्ट करके कोशिका की मशीनरी का उपयोग कर अपना बहुगुणन नहीं कर लेता।

प्रश्न

1. क्या अब आप निम्नलिखित तालिका में दिए गए रिक्त स्थानों को भर सकते हैं, जिससे कि प्रोकैरियोटी तथा यूकैरियोटी कोशिकाओं में अंतर स्पष्ट हो सके:

प्रोकैरियोटी कोशिका	यूकैरियोटी कोशिका
1. आकार प्रायः छोटा (1 – 10 μm) 1 μm = 10 ⁻⁶ m	1. आकार प्रायः बड़ा (5 – 100 μm)
2. केंद्रकीय क्षेत्र : _____	2. केंद्रकीय क्षेत्र : सुस्पष्ट जो चारों ओर से केंद्रकीय झिल्ली से घिरा रहता है।
3. क्रोमोसोम : एक	3. क्रोमोसोम: एक से अधिक
4. झिल्ली युक्त कोशिका अंगक अनुपस्थित	4. _____

5.2.5 कोशिका अंगक

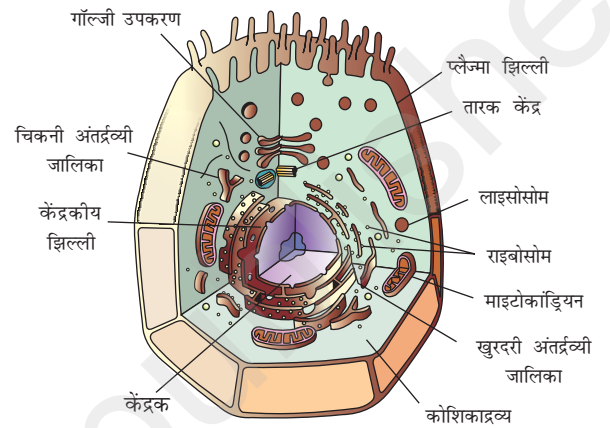
प्रत्येक कोशिका के चारों ओर अपनी झिल्ली होती है जिससे कि उसमें स्थित पदार्थ बाह्य पर्यावरण से अलग रहे। बड़ी तथा जटिल कोशिकाओं, जिसमें बहुकोशिक जीवों की कोशिकाएँ भी शामिल हैं, को भी उपापचयी क्रियाओं की बहुत आवश्यकता होती है जिससे कि वे जटिल संरचना तथा कार्य को सहारा दे सकें। इन विभिन्न प्रकार की उपापचयी क्रियाओं को अलग-अलग रखने के लिए, ये कोशिकाएँ झिल्लीयुक्त छोटी-छोटी संरचनाओं (अंगक) का उपयोग करती हैं। यह यूकैरियोटी कोशिकाओं का एक ऐसा गुण है जो उन्हें प्रोकैरियोटी कोशिकाओं से अलग करता है। इनमें से कुछ अंगक केवल इलेक्ट्रॉन सूक्ष्मदर्शी से ही देखे जा सकते हैं।

हमने पिछले अनुभाग में केंद्रक के विषय में पढ़ा है। अंतर्द्रव्यी जालिका, गॉल्जी उपकरण, लाइसोसोम, माइटोकॉन्ड्रिया, प्लैस्टिड तथा रसधानी; कोशिका अंगकों के महत्वपूर्ण उदाहरण हैं जिन पर हम विचार करेंगे। ये इसलिए महत्वपूर्ण हैं क्योंकि ये कोशिकाओं के बहुत निर्णायक कार्य करते हैं।

5.2.5 (i) अंतर्द्रव्यी जालिका (ER)

अंतर्द्रव्यी जालिका झिल्ली युक्त नलिकाओं तथा शीट का एक बहुत बड़ा तंत्र है। ये लंबी नलिका अथवा गोल या आयताकार थैलों (पुटिकाओं) की तरह दिखाई देती हैं। अंतर्द्रव्यी जालिका की रचना भी प्लैज्मा झिल्ली के समरूप होती है। अंतर्द्रव्यी जालिका दो प्रकार की होती है: खुरदरी अंतर्द्रव्यी जालिका (RER) तथा चिकनी अंतर्द्रव्यी जालिका (SER)। RER सूक्ष्मदर्शी से देखने पर खुरदरी दिखाई पड़ती है क्योंकि इस पर राइबोसोम लगे होते हैं। राइबोसोम पर प्रोटीन संश्लेषित होती है। RER तैयार प्रोटीन को आवश्यकतानुसार ER के द्वारा कोशिका के अन्य भागों में भेज देता है। SER वसा अथवा लिपिड

अणुओं के बनाने में सहायता करती है। यह कोशिकीय क्रिया के लिए बहुत महत्वपूर्ण है। कुछ प्रोटीन तथा वसा कोशिका झिल्ली को बनाने में सहायता करते हैं। इस प्रक्रिया को झिल्ली जीवात्-जनन कहते हैं। कुछ अन्य प्रोटीन तथा वसा, एंजाइम एवं हार्मोन की भाँति कार्य करते हैं। यद्यपि विभिन्न कोशिकाओं में ER भिन्न रूपों में दिखाई देती है परंतु सदैव एक जालिका तंत्र का निर्माण करती है।



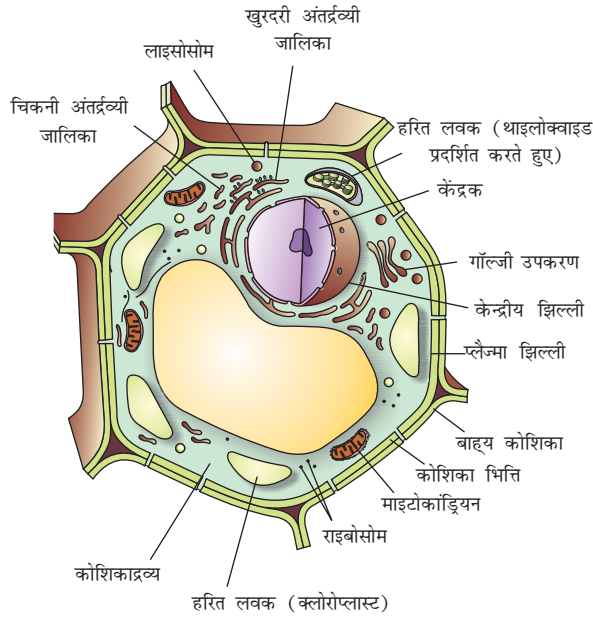
चित्र 5.5 : जंतु कोशिका

इस प्रकार ER का एक कार्य कोशिकाद्रव्य के विभिन्न क्षेत्रों के मध्य अथवा कोशिकाद्रव्य के विभिन्न क्षेत्रों तथा केंद्रक के मध्य पदार्थों (मुख्यतः प्रोटीन) के परिवहन के लिए नलिका के रूप में कार्य करना है। ER कोशिका की कुछ जैव रासायनिक क्रियाओं के लिए कोशिका द्रव्यी ढाँचे का कार्य भी करती है। एक वर्ग के जंतुओं, जिन्हें कशेरुकी भी कहते हैं (अध्याय-7 देखें), के यकृत की कोशिकाओं में SER विष तथा दवा को निराविषीकरण करने में महत्वपूर्ण भूमिका निभाते हैं।

5.2.5 (ii) गॉल्जी उपकरण

गॉल्जी उपकरण का सबसे पहले विवरण कैमिलो गॉल्जी ने किया था। गॉल्जी उपकरण झिल्ली युक्त पुटिका है जो एक-दूसरे के ऊपर समानांतर रूप से

सजी रहती है। जिन्हें कुंडिका कहते हैं। इन झिल्लियों का संपर्क ER झिल्लियों से होता है और इसलिए जटिल कोशिकीय झिल्ली तंत्र के दूसरे भाग को बनाती है।



चित्र 5.6 : पादप कोशिका


ER में संश्लेषित पदार्थ गॉल्जी उपकरण में पैक किए जाते हैं और उन्हें कोशिका के बाहर तथा अंदर विभिन्न क्षेत्रों में भेज दिया जाता है। इस कार्य में शामिल हैं पुटिका में पदार्थों का संचयन, रूपांतरण तथा बंद करना। कुछ परिस्थिति में गॉल्जी उपकरण में सामान्य शक्कर से जटिल शक्कर बनती है। गॉल्जी उपकरण के द्वारा लाइसोसोम को भी बनाया जाता है।

5.2.5 (iii) लाइसोसोम

लाइसोसोम कोशिका का अपशिष्ट निपटाने वाला तंत्र है। लाइसोसोम बाहरी पदार्थ के कोशिका अंगकों के टूटे-फूटे भागों को पाचित करके कोशिका को साफ करते हैं। कोशिका के अंदर आने वाले बाहरी पदार्थ जैसे बैक्टीरिया अथवा भोजन तथा पुराने अंगक लाइसोसोम में चले जाते हैं जो उन्हें छोटे-छोटे टुकड़ों में तोड़ देते हैं। लाइसोसोम में बहुत शक्तिशाली पाचनकारी एंजाइम होते हैं जो सभी कार्बनिक पदार्थों को तोड़ सकने में

सक्षम होते हैं। कोशिकीय चयापचय (metabolism) में व्यवधान के कारण जब कोशिका क्षतिग्रस्त या मृत हो जाती है, तो लाइसोसोम फट जाते हैं और एंजाइम अपनी ही कोशिकाओं को पाचित कर देते हैं इसलिए लाइसोसोम को कोशिका की 'आत्मघाती थैली' भी कहते हैं। संरचनात्मक दृष्टि से, लाइसोसोम में झिल्ली से घिरी हुई संरचना होती है जिनमें पाचक एंजाइम होते हैं। RER इन एंजाइमों को बनाते हैं।

कैमिलो गॉल्जी का जन्म 7 जुलाई, 1843 को ब्रेसिका के समीप कोर्टनो में हुआ था। उन्होंने पाविआ विश्वविद्यालय से मेडिसिन का अध्ययन किया। 1865 में स्नातक के बाद उन्होंने पाविआ के सेंट मेटिओ के अस्पताल में



अध्ययन जारी रखा। उस समय उनकी सारी खोज तंत्रिका तंत्र से संबंधित थी। 1872 में उन्होंने एबियाट्रेग्रेसो के एक दीर्घकालिक रोग के अस्पताल में मुख्य चिकित्सा पदाधिकारी का पदभार ग्रहण किया। उन्होंने सबसे पहले अपनी खोज इस अस्पताल के किचन में तंत्रिका तंत्र पर की। उन्होंने इस छोटी-सी किचन को प्रयोगशाला बना लिया था। उनका सबसे महत्वपूर्ण कार्य यह था कि उन्होंने अकेली तंत्रिका तथा कोशिका संरचनाओं को अभिरंगित करने की क्रांतिकारी विधि प्रदान की। इस विधि को "ब्लैक रिएक्शन" के नाम से जाना गया। इस विधि में उन्होंने सिल्वर नाइट्रेट के तनु घोल का उपयोग किया था और विशेषतः यह कोशिकाओं की कोमल शाखाओं की प्रक्रियाओं का मार्ग पता लगाने में महत्वपूर्ण था। सारा जीवन वे इसी दिशा में कार्य करते रहे और इस विधि में सुधार करते रहे। गॉल्जी ने अपने शोध के लिए उच्चतम उपाधि तथा पुरस्कार प्राप्त किए। सन् 1906 में इन्हें सैंटियागो रैमोनी कजाल के साथ संयुक्त रूप से तंत्रिका तंत्र की संरचना कार्य के लिए नोबेल पुरस्कार से सम्मानित किया गया।

5.2.5 (iv) माइटोकॉन्ड्रिया

माइटोकॉन्ड्रिया कोशिका का बिजलीघर है। जीवन के लिए आवश्यक विभिन्न रासायनिक क्रियाओं को करने के लिए माइटोकॉन्ड्रिया ATP (एडिनोसिन ट्राइफॉस्फेट) के रूप में ऊर्जा प्रदान करते हैं। ATP कोशिका की ऊर्जा है। शरीर नए रासायनिक यौगिकों को बनाने तथा यांत्रिक कार्य के लिए ATP में संचित ऊर्जा का उपयोग करता है। माइटोकॉन्ड्रिया में दोहरी झिल्ली होती है। बाहरी झिल्ली छिद्रित होती है। भीतरी झिल्ली बहुत अधिक वलित होती है। ये वलय ATP-बनाने वाली रासायनिक क्रियाओं के लिए एक बड़ा क्षेत्र बनाते हैं।

माइटोकॉन्ड्रिया बहुत अद्भुत अंगक है क्योंकि इसमें उसका अपना DNA तथा राइबोसोम होते हैं। अतः माइटोकॉन्ड्रिया अपना कुछ प्रोटीन स्वयं बनाते हैं।

5.2.5 (v) प्लैस्टिड

प्लैस्टिड केवल पादप कोशिकाओं में स्थित होते हैं। प्लैस्टिड दो प्रकार के होते हैं: क्रोमोप्लास्ट (रंगीन प्लैस्टिड) तथा ल्यूकोप्लास्ट (श्वेत तथा रंगहीन प्लैस्टिड)। जिस प्लैस्टिड में क्लोरोफिल वर्णक होता है उसे क्लोरोप्लास्ट कहते हैं। पौधों में क्लोरोप्लास्ट प्रकाश संश्लेषण के लिए बहुत आवश्यक है। क्लोरोप्लास्ट में क्लोरोफिल के अतिरिक्त विभिन्न पीले अथवा नारंगी रंग के वर्णक भी होते हैं। ल्यूकोप्लास्ट प्राथमिक रूप से अंगक है जिसमें स्टार्च, तेल तथा प्रोटीन जैसे पदार्थ संचित होते हैं।

प्लैस्टिड की भीतरी रचना में बहुत-सी झिल्ली वाली परतें होती हैं जो स्ट्रोमा में स्थित होती हैं। प्लैस्टिड बाह्य रचना में माइटोकॉन्ड्रिया की तरह होते हैं। माइटोकॉन्ड्रिया की तरह प्लैस्टिड में भी अपना DNA तथा राइबोसोम होते हैं।

5.2.5 (vi) रसधानियाँ

रसधानियाँ ठोस अथवा तरल पदार्थों की संग्राहक थैलियाँ हैं। जंतु कोशिकाओं में रसधानियाँ छोटी होती हैं जबकि पादप कोशिकाओं में रसधानियाँ बहुत बड़ी होती हैं। कुछ पौधों की कोशिकाओं की केंद्रीय रसधानी की माप कोशिका के आयतन का 50% से 90% तक होता है।


पादप कोशिकाओं की रसधानियों में कोशिका द्रव्य भरा रहता है और ये कोशिकाओं को स्फीति तथा कठोरता प्रदान करती हैं। पौधों के लिए आवश्यक बहुत से पदार्थ रसधानी में स्थित होते हैं। ये अमीनो अम्ल, शर्करा, विभिन्न कार्बनिक अम्ल तथा कुछ प्रोटीन हैं। एककोशिक जीवों, जैसे अमीबा, की खाद्य रसधानी में उनके द्वारा उपभोग में लाए गए खाद्य पदार्थ होते हैं। कुछ एककोशिक जीवों में विशिष्ट रसधानियाँ अतिरिक्त जल तथा कुछ अपशिष्ट पदार्थों को शरीर से बाहर निकालने में महत्वपूर्ण भूमिकाएँ निभाती हैं।

प्रश्न

1. क्या आप दो ऐसे अंगकों का नाम बता सकते हैं जिनमें अपना आनुवंशिक पदार्थ होता है?
2. यदि किसी कोशिका का संगठन किसी भौतिक अथवा रासायनिक प्रभाव के कारण नष्ट हो जाता है, तो क्या होगा?
3. लाइसोसोम को आत्मघाती थैली क्यों कहते हैं?
4. कोशिका के अंदर प्रोटीन का संश्लेषण कहाँ होता है?

प्रत्येक कोशिका की अपनी एक संरचना होती है, जिसके द्वारा वे विशिष्ट कार्य जैसे श्वसन, पोषण तथा अपशिष्ट पदार्थों का उत्सर्जन अथवा नई प्रोटीन बनाने में सहायता करते हैं। ऐसा उनकी झिल्ली तथा अंगकों की विशिष्ट संरचना के कारण संभव हो पाता है।

अतः कोशिका सजीवों की एक मूलभूत संरचनात्मक इकाई है। यह जीवन की एक मूलभूत क्रियात्मक इकाई भी है।



आपने क्या सीखा

- कोशिका जीवन की मूलभूत संरचनात्मक इकाई है।
- कोशिका के चारों ओर प्लैज्मा झिल्ली होती है। ये झिल्लियाँ लिपिड तथा प्रोटीन की बनी होती हैं।
- कोशिका झिल्ली कोशिका का सक्रिय भाग है। यह पदार्थों की गति को कोशिका के भीतर तथा बाहरी वातावरण से नियमित करती है।
- पादप कोशिका में कोशिका झिल्ली के चारों ओर एक कोशिका भित्ति होती है। कोशिका भित्ति सेल्यूलोज की बनी होती है।
- पादप की कोशिकाओं में स्थित कोशिका भित्ति फंजाई तथा बैक्टीरिया को अल्प परासरण दाबी घोल (माध्यम) में बिना फटे जीवित रहने देती है।
- यूकैरियोट में केंद्रक दोहरी झिल्ली द्वारा कोशिकाद्रव्य से अलग होता है। यह कोशिका की जीवन प्रक्रियाओं को निर्देशित करता है।
- ER अंतःकोशिकीय परिवहन तथा उत्पादक सतह के रूप में कार्य करता है।
- गॉल्जी उपकरण झिल्ली युक्त पुटिकाओं का स्तंभ है। यह कोशिका में बने पदार्थों का संचयन, रूपांतरण तथा पैकेजिंग करता है।
- अधिकांश पादप कोशिकाओं में झिल्ली युक्त अंगक जैसे प्लैस्टिड होते हैं। ये दो प्रकार के होते हैं - क्रोमोप्लास्ट तथा ल्यूकोप्लास्ट।
- क्रोमोप्लास्ट जिसमें क्लोरोफिल होता है उन्हें क्लोरोप्लास्ट कहते हैं। ये प्रकाश संश्लेषण करते हैं।
- ल्यूकोप्लास्ट का प्राथमिक कार्य संचय करना है।
- अधिकांश परिपक्व पादप कोशिकाओं में एक बड़ी केंद्रीय रसधानी होती है। यह कोशिका की स्फीति को बनाए रखती है और यह अपशिष्ट पदार्थों सहित महत्वपूर्ण पदार्थों का संचय करती है।
- प्रोकैरियोटी कोशिकाओं में कोई भी झिल्ली युक्त अंगक नहीं होता। उनके क्रोमोसोम के स्थान पर न्यूक्लीक अम्ल होता है और उनमें केवल छोटे राइबोसोम अंगक के रूप में होते हैं।



अभ्यास

1. पादप कोशिकाओं तथा जंतु कोशिकाओं में तुलना करो।
2. प्रोकैरियोटी कोशिकाएँ यूकैरियोटी कोशिकाओं से किस प्रकार भिन्न होती हैं?
3. यदि प्लैज्मा झिल्ली फट जाए अथवा टूट जाए तो क्या होगा?
4. यदि गॉल्जी उपकरण न हो तो कोशिका के जीवन में क्या होगा?
5. कोशिका का कौन-सा अंगक बिजलीघर है? और क्यों?
6. कोशिका झिल्ली को बनाने वाले लिपिड तथा प्रोटीन का संश्लेषण कहाँ होता है?
7. अमीबा अपना भोजन कैसे प्राप्त करता है?
8. परासरण क्या है?
9. निम्नलिखित परासरण प्रयोग करें :

छिले हुए आधे-आधे आलू के चार टुकड़े लो, इन चारों को खोखला करो जिससे कि आलू के कप बन जाएँ। इनमें से एक कप को उबले आलू में बनाना है। आलू के प्रत्येक कप को जल वाले बर्तन में रखो। अब

(a) कप 'A' को खाली रखो,

(b) कप 'B' में एक चम्मच चीनी डालो,

(c) कप 'C' में एक चम्मच नमक डालो तथा

(d) उबले आलू से बनाए गए कप 'D' में एक चम्मच चीनी डालो।

आलू के इन चारों कपों को दो घंटे तक रखने के पश्चात् उनका अवलोकन करो तथा निम्न प्रश्नों का उत्तर दो :

(i) 'B' तथा 'C' के खाली भाग में जल क्यों एकत्र हो गया? इसका वर्णन करो।

(ii) 'A' आलू इस प्रयोग के लिए क्यों महत्वपूर्ण है?

(iii) 'A' तथा 'D' आलू के खाली भाग में जल एकत्र क्यों नहीं हुआ? इसका वर्णन करो।

अध्याय 6

ऊतक (Tissues)

हमने पिछले अध्याय में हमने पढ़ा कि सभी जीवित प्राणी या पौधे कोशिकाओं के बने होते हैं। एक कोशिक जीवों में, सभी मौलिक कार्य एक ही कोशिका द्वारा किए जाते हैं। उदाहरण के लिए, अमीबा में एक ही कोशिका द्वारा गति, भोजन लेने की क्रिया, श्वसन क्रिया और उत्सर्जन क्रिया संपन्न की जाती है। लेकिन बहुकोशिक जीवों में लाखों कोशिकाएँ होती हैं। इनमें से अधिकतर कोशिकाएँ कुछ ही कार्यों को संपन्न करने में सक्षम होती हैं। प्रत्येक विशेष कार्य कोशिकाओं के विभिन्न समूहों द्वारा किया जाता है। कोशिकाओं के ये समूह एक विशिष्ट कार्य को ही अति दक्षता पूर्वक संपन्न करने के लिए सक्षम होते हैं। मनुष्यों में, पेशीय कोशिका फैलती और सिकुड़ती है, जिससे गति होती है, तंत्रिका कोशिकाएँ संदेशों की वाहक होती हैं; रक्त, ऑक्सीजन, भोजन, हॉर्मोन और अपशिष्ट पदार्थों का वहन करता है। पौधों में, वाहक नलियों से संबंधित कोशिकाएँ भोजन और पानी को एक जगह से दूसरी जगह ले जाती हैं। अतः बहुकोशिक जीवों में श्रम विभाजन होता है। शरीर के अंदर ऐसी कोशिकाएँ जो एक तरह के कार्य को संपन्न करने में दक्ष होती हैं, सदैव एक समूह में होती हैं। इससे ज्ञात होता है कि शरीर के अंदर एक निश्चित कार्य एक निश्चित स्थान पर कोशिकाओं के एक विशिष्ट समूह द्वारा संपन्न किया जाता है। कोशिकाओं का यह समूह ऊतक कहलाता है। ये ऊतक अधिकतम दक्षता के साथ कार्य कर सकने के लिए एक विशिष्ट क्रम में व्यवस्थित होते हैं। रक्त, फ्लोएम तथा पेशी ऊतक के उदाहरण हैं।

वे कोशिकाएँ जो आकृति में एक समान होती हैं तथा किसी कार्य को एक साथ संपन्न करती हैं, समूह में एक ऊतक का निर्माण करती हैं।

6.1 क्या पौधे और जंतु एक ही तरह के ऊतकों से बने होते हैं?

आइए हम विभिन्न ऊतकों की संरचनाओं तथा उनके कार्यों की तुलना करें। क्या पौधों और जंतुओं की संरचनाएँ समान होती हैं? क्या दोनों समरूप कार्य करते हैं?

दोनों में स्पष्ट अंतर होता है। पौधे स्थिर होते हैं—वे गति नहीं करते हैं। उनके अधिकांश ऊतक सहारा देने वाले होते हैं तथा पौधों को संरचनात्मक शक्ति प्रदान करते हैं। ऐसे अधिकांश ऊतक मृत होते हैं। ये मृत ऊतक जीवित ऊतकों के समान ही यांत्रिक शक्ति प्रदान करते हैं तथा उन्हें कम अनुरक्षण की आवश्यकता होती है।

दूसरी ओर, जंतु भोजन, साथी और आश्रय की खोज में इधर-उधर विचरण करते हैं। ये पौधों की अपेक्षा ऊर्जा का अधिक उपभोग करते हैं। जंतुओं के अधिकांश ऊतक जीवित होते हैं।

जंतु और पौधों के बीच उनकी वृद्धि के प्रतिरूप में एक और भिन्नता है। पौधों की वृद्धि कुछ क्षेत्रों में ही सीमित रहती है जबकि जंतुओं में ऐसा नहीं होता। पौधों के कुछ ऊतक जीवन भर विभाजित होते रहते हैं। ऐसे ऊतक कुछ क्षेत्रों में ही सीमित रहते हैं। ऊतकों की विभाजन-क्षमता के आधार पर

ही पौधों के ऊतकों (पादप ऊतकों) का वर्गीकरण किया जाता है: वृद्धि अथवा विभज्योतक तथा स्थायी ऊतक। जंतुओं में कोशिका वृद्धि अधिक एकरूप होती है। अतः जंतुओं में विभाज्य तथा अविभाज्य क्षेत्रों की कोई निश्चित सीमा नहीं होती।

अंगों और अंग-तंत्रों का संरचनात्मक संगठन जटिल पौधों की अपेक्षा जटिल जंतुओं में अति विशिष्ट तथा सीमित होता है। यह मूल अंतर जीवधारियों के दो महत्वपूर्ण समूहों के जीवनयापन के विभिन्न तरीकों को दर्शाता है, विशेषकर इनके भोजन करने की प्रक्रिया में। संरचनात्मक संगठन, एक ओर पौधों के गतिहीन अस्तित्व तथा दूसरी ओर जंतुओं के प्रचलन के लिए अंगतंत्रों के विकास हेतु विभिन्न प्रकार से अनुकूलित होते हैं।

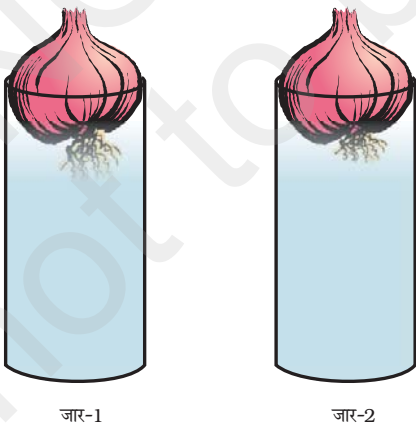
जटिल जंतुओं तथा पौधों के संदर्भ में अब हम ऊतकों की अवधारणा के बारे में विस्तृत चर्चा करेंगे।

प्रश्न

1. ऊतक क्या है?
2. बहुकोशिक जीवों में ऊतकों का क्या उपयोग है?

6.2 पादप ऊतक

6.2.1 विभज्योतक



चित्र 6.1: प्याज के मूल में वृद्धि

क्रियाकलाप 6.1

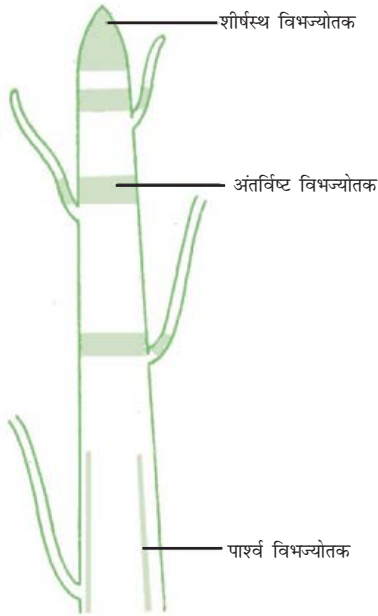
- दो शीशे के जार लेते हैं और उनमें पानी भर देते हैं।
- अब दो प्याज लेते हैं और दोनों जारों पर एक-एक प्याज रख देते हैं, जैसा कि चित्र 6.1 में दिखाया गया है।
- कुछ दिनों तक दोनों प्याजों की मूलों की लंबाई मापते हैं।
- पहले, दूसरे और तीसरे दिनों में मूल की लंबाई को माप लेते हैं।
- दूसरे जार में रखी प्याज की मूल को चौथे दिन 1 cm काट लेते हैं। इसके बाद दोनों जार में रखी प्याज की मूलों की लंबाइयों का पाँच दिनों तक निरीक्षण करें और उनमें हुई प्रत्येक दिन की वृद्धि की माप को नीचे दी गई तालिका में लिखें।

लंबाई	दिन-1	दिन-2	दिन-3	दिन-4	दिन-5
जार-1					
जार-2					

- ऊपर के निरीक्षणों को देखते हुए नीचे दिए गए प्रश्नों के उत्तर दें:
 1. किस जार में रखी हुई प्याज की मूल लंबी है?
 2. हमारे द्वारा मूल के ऊपरी हिस्से को काट लेने के बाद भी क्या वह वृद्धि करती रहती है?
 3. जब हम जार-2 में रखी प्याज की मूल के ऊपरी हिस्से को काटते हैं तो वे वृद्धि करना बंद कर देंगी, क्यों?

पौधों में वृद्धि कुछ निश्चित क्षेत्रों में ही होती है। ऐसा विभाजित ऊतकों के उन भागों में पाए जाने के कारण होता है। ऐसे ऊतकों को विभज्योतक (Meristematic tissue) भी कहा जाता है। ये विभज्योतक किस भाग में स्थित हैं, विभज्योतक की उपस्थिति वाले क्षेत्रों के आधार पर इन्हें शीर्षस्थ, केंबियम (पार्श्वीय) तथा अंतर्विष्ट भागों में वर्गीकृत किया जाता है (चित्र 6.2)। विभज्योतक के द्वारा तैयार नई कोशिकाएँ प्रारंभ में विभज्योतक की तरह

होती हैं लेकिन जैसे ही ये बढ़ती और परिपक्व होती हैं, इनके गुणों में धीरे-धीरे परिवर्तन होता है और ये दूसरे ऊतकों के घटकों के रूप में विभाजित हो जाती हैं।



चित्र 6.2: किसी पौधे में विभज्योतक की स्थिति

प्ररोह के शीर्षस्थ विभज्योतक जड़ों एवं तनों की वृद्धि वाले भाग में विद्यमान रहता है तथा वह इनकी लंबाई में वृद्धि करता है। तने की परिधि या मूल में वृद्धि पार्श्व विभज्योतक (कैंबियम) के कारण होती है।

अंतर्विष्ट विभज्योतक पत्तियों के आधार में या टहनी के पर्व (internode) के दोनों ओर उपस्थित होते हैं।

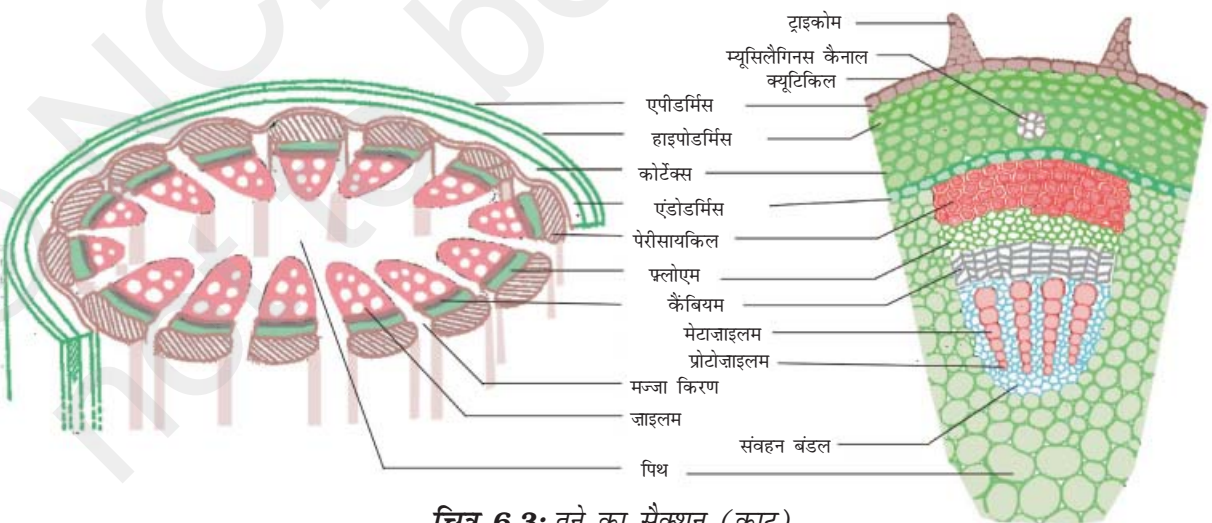
इस ऊतक की कोशिकाएँ अत्यधिक क्रियाशील होती हैं, उनके पास बहुत अधिक कोशिकाद्रव्य, पतली कोशिका भित्ति, और स्पष्ट केंद्रक होते हैं। उनके पास रसधानी नहीं होती है। क्या हम सोच सकते हैं कि उनके पास रसधानी क्यों नहीं होती है? (आप कोशिकाओं पर आधारित अध्याय में उल्लेखित रसधानियों के कार्यों का संज्ञान ले सकते हैं।)

6.2.2 स्थायी ऊतक

विभज्योतक द्वारा बनी कोशिकाओं का क्या होता है? ये एक विशिष्ट कार्य करती हैं और विभाजित होने की शक्ति को खो देती हैं जिसके फलस्वरूप वे स्थायी ऊतक का निर्माण करती हैं। इस प्रकार एक विशिष्ट कार्य करने के लिए स्थायी रूप और आकार लेने की क्रिया को विभेदीकरण कहते हैं। विभज्योतक की कोशिकाएँ विभाजित होकर विभिन्न प्रकार के स्थायी ऊतकों का निर्माण करती हैं।

क्रियाकलाप _____ 6.2

- एक पौधे के तने को लीजिए तथा अपने शिक्षक की सहायता से उसके पतले सैक्शन काटिए।



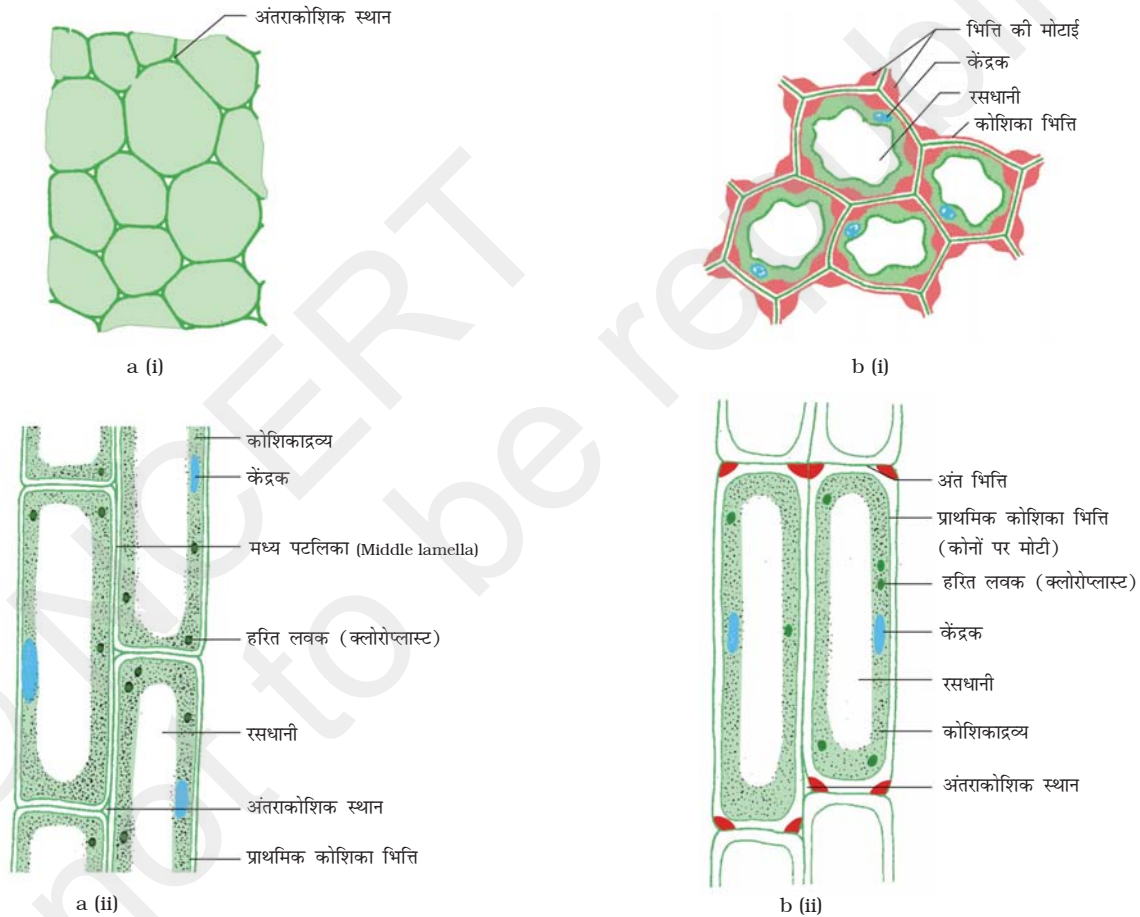
चित्र 6.3: तने का सैक्शन (काट)

- अब सभी सैक्शन को सेफ्रेनिन से रंजित करें। एक अच्छे से कटे हुए सैक्शन को स्लाइड पर रखें और उस पर ग्लिसरीन की एक बूँद डालें।
- उसको कवर-स्लिप से ढक दें और स्लाइड का निरीक्षण सूक्ष्मदर्शी से करें। विभिन्न प्रकार की कोशिकाओं का अध्ययन करें और उनके विन्यास को देखें। चित्र 6.3 से इसकी तुलना करें।
- अब नीचे दिए गए प्रश्नों पर विचार करें और निरीक्षण के आधार पर उनके उत्तर दें:
 1. क्या सभी कोशिकाओं की संरचनाएँ समान हैं?
 2. कितने प्रकार की कोशिकाओं को देखा जा सकता है?
 3. क्या हम उन कारणों पर विचार कर सकते हैं कि कोशिकाओं के इतने प्रकार क्यों हैं?

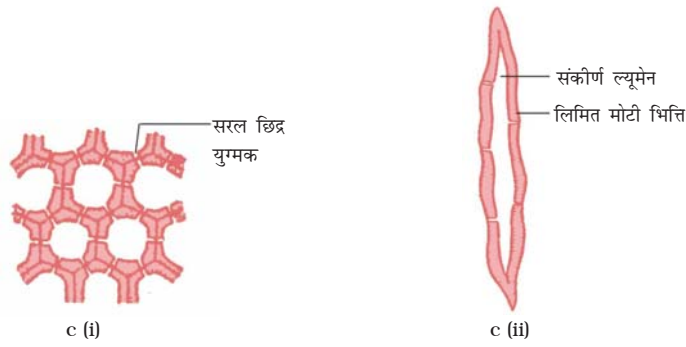
- हम पौधे की मूलों का सैक्शन काटने की कोशिश कर सकते हैं। हम विभिन्न पौधों के मूल और तने का सैक्शन भी काट सकते हैं।

6.2.2 (i) सरल स्थायी ऊतक

कोशिकाओं की कुछ परतें ऊतक के आधारीय पैकिंग का निर्माण करती हैं। इन्हें पैरेन्काइमा ऊतक कहते हैं, जो स्थायी ऊतक का एक प्रकार है। यह पतली कोशिका भित्ति वाली सरल कोशिकाओं का बना होता है। ये कोशिकाएँ जीवित हैं। ये प्रायः बंधन मुक्त होती हैं तथा इस प्रकार के ऊतक की कोशिकाओं के मध्य काफी रिक्त स्थान पाया जाता है [चित्र 6.4 a(i)]। यह ऊतक पौधे को सहायता प्रदान करता है और भोजन



चित्र 6.4: विभिन्न प्रकार के सरल ऊतक: (a) पैरेन्काइमा (i) अनुप्रस्थ सैक्शन, (ii) अनुदैर्घ्य सैक्शन; (b) कॉलेन्काइमा (i) अनुप्रस्थ सैक्शन, (ii) अनुदैर्घ्य सैक्शन



चित्र 6.4: (c) स्क्लेरेंकाइमा (i) अनुप्रस्थ सैक्शन (ii) अनुदैर्घ्य सैक्शन

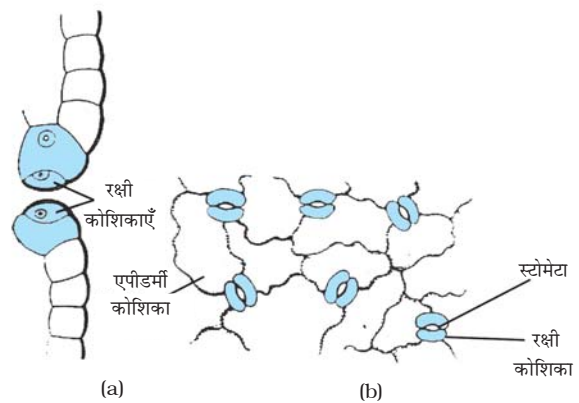
का भंडारण करता है। कुछ पैरेन्काइमा ऊतकों में क्लोरोफिल पाया जाता है, जिसके कारण प्रकाश संश्लेषण की क्रिया संपन्न होती है। स्थितियों में इन ऊतकों को क्लोरेन्काइमा (हरित ऊतक) कहा जाता है। जलीय पौधों में पैरेन्काइमा की कोशिकाओं के मध्य हवा की बड़ी गुहिकाएँ (cavities) होती हैं, जो पौधों को तैरने के लिए उत्प्लावन बल प्रदान करती हैं। इस प्रकार के पैरेन्काइमा को ऐरेन्काइमा कहते हैं। तने और जड़ों के पैरेन्काइमा पोषण करने वाले पदार्थ और जल का भी संग्रह करते हैं। पौधों में लचीलेपन का गुण एक अन्य स्थायी ऊतक, कॉलेन्काइमा के कारण होता है। यह पौधों के विभिन्न भागों (पत्ती, तना) में बिना टूटे हुए लचीलापन लाता है। यह पौधों को यांत्रिक सहायता भी प्रदान करता है। हम इस ऊतक को एपिडर्मिस के नीचे पर्णवृत्त में पा सकते हैं। इस ऊतक की कोशिकाएँ जीवित, लंबी और अनियमित ढंग से कोनों पर मोटी होती हैं तथा कोशिकाओं के बीच बहुत कम स्थान होता है [चित्र 6.4 (b)]।

एक अन्य प्रकार का ऊतक स्क्लेरेन्काइमा होता है। यह ऊतक पौधे को कठोर एवं मज़बूत बनाता है। हमने नारियल के रेशेयुक्त छिलके को देखा है। यह स्क्लेरेन्काइमा ऊतक से बना होता है। इस ऊतक की कोशिकाएँ मृत होती हैं। ये लंबी और पतली होती हैं क्योंकि इस ऊतक की भित्ति लिग्निन के कारण मोटी

होती है। (लिग्निन कोशिकाओं को दृढ़ बनाने के लिए सीमेंट का कार्य करने वाला एक रासायनिक पदार्थ है।) ये भित्तियाँ प्रायः इतनी मोटी होती हैं कि कोशिका के भीतर कोई आंतरिक स्थान नहीं होता है [चित्र 6.4(c)]। यह ऊतक तने में, संवहन बंडल के समीप, पत्तों की शिराओं में तथा बीजों और फलों के कठोर छिलके में उपस्थित होता है। यह पौधों के भागों को मज़बूती प्रदान करता है।

क्रियाकलाप 6.3

- रियो की ताज़ा तोड़ी हुई पत्ती लीजिए।
- इसे दबाव लगाकर इस तरह तोड़िए कि पत्ती का छिलका अलग निकल आए।



चित्र 6.5: द्वार कोशिकाएँ तथा एपीडर्मिस कोशिकाएँ: (a) पार्श्व दृश्य, (b) पृष्ठ दृश्य

- इस छिलके को अलग करके जल से भरी हुई पैट्रिडिश में रखें।
- इसमें कुछ बूँद सेफ्रेनिन विलयन की डालिए।
- कुछ समय (लगभग दो मिनट) पश्चात् छिलके को स्लाइड पर रख दीजिए तथा इसे धीरे से कवर स्लिप से ढकें।
- इसका सूक्ष्मदर्शी द्वारा अवलोकन कीजिए।

जो आप देख रहे हैं वह कोशिकाओं की सबसे बाहरी परत एपीडर्मिस है। शुष्क स्थानों पर मिलने वाले पदों में एपीडर्मिस मोटी हो सकती है। यह जल की हानि कम करके पादपों की रक्षा करती है। पौधे की पूरी सतह एपीडर्मिस से ढकी रहती है। यह पौधे के सभी भागों की रक्षा करती है। एपीडर्मल कोशिका पौधों की बाह्य सतह पर प्रायः एक मोम जैसी जल प्रतिरोधी परत बनाती है। यह जल हानि के विरुद्ध यांत्रिक आघात तथा परजीवी कवक के प्रवेश से पौधों की रक्षा करती है। क्योंकि एपीडर्मल कोशिकाओं का उत्तरदायित्व रक्षा करने का है, अतः इसकी कोशिकाएँ बिना किसी अंतर्कोशिकीय स्थान के अछिन्न परत बनाती हैं। अधिकांश एपीडर्मल कोशिकाएँ अपेक्षाकृत चपटी होती हैं। सामान्यतः उनकी बाह्य तथा पार्श्व भित्तियाँ उनकी आंतरिक भित्तियों से मोटी होती हैं।

पत्ती की एपीडर्मिस में हम छोटे-छोटे छिद्रों को देख सकते हैं। इन छिद्रों को स्टोमेटा कहते हैं (चित्र 6.5)। स्टोमेटा को दो वृक्क के आकार की कोशिकाएँ घेरे रहती हैं, जिन्हें रक्षी कोशिकाएँ कहते हैं। ये कोशिकाएँ वायुमंडल से गैसों का आदान-प्रदान करने के लिए आवश्यक हैं। वाष्पोत्सर्जन (वाष्प के रूप में पानी का निकलना) की क्रिया भी स्टोमेटा के द्वारा होती है।

प्रश्न

1. प्रकाश संश्लेषण के लिए किस गैस की आवश्यकता होती है?
2. पौधों में वाष्पोत्सर्जन के कार्यों का उल्लेख करें।

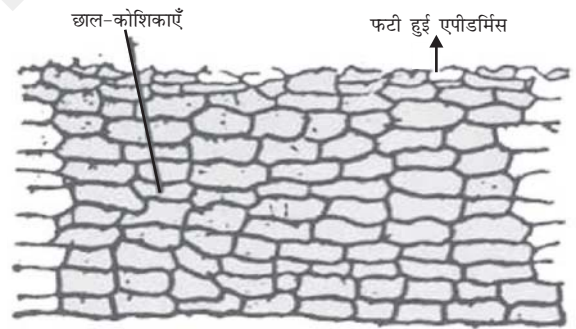
ऊतक

जड़ों की एपीडर्मल कोशिकाएँ पानी को सोंखने का कार्य करती हैं। साधारणतः उनमें बाल जैसे प्रवर्ध होते हैं, जिससे जड़ों की कुल अवशोषक सतह बढ़ जाती है तथा उनकी पानी सोंखने की क्षमता में वृद्धि होती है।

मरुस्थलीय पौधों की बाहरी सतह वाले एपीडर्मिस में क्यूटिन (एक जल अवरोधक रासायनिक पदार्थ) का लेप होता है। क्या हम इसका कारण सोच सकते हैं?

क्या एक पेड़ की बाहरी शाखा की परत नए तने की बाह्य परत से भिन्न होती है?

जैसे-जैसे वृक्ष की आयु बढ़ती है, उसके बाह्य सुरक्षात्मक ऊतकों में कुछ परिवर्तन होता है। एक दूसरे विभज्योतक की पट्टी तने के एपीडर्मिस का स्थान ले लेती है। बाहरी सतह की कोशिकाएँ इस सतह से अलग हो जाती हैं। यह पौधों पर बहुत परतों वाली मोटी छाल का निर्माण करती हैं। इन छालों की कोशिकाएँ मृत होती हैं, ये बिना अंतःकोशिकीय स्थानों (चित्र 6.6) के व्यवस्थित होती हैं। इनकी भित्ति पर सुबरिन (suberin) नामक रसायन होता है जो इन छालों को हवा एवं पानी के लिए अभेद्य बनाता है।



चित्र 6.6: रक्षी ऊतक

6.2.2 (ii) जटिल स्थायी ऊतक

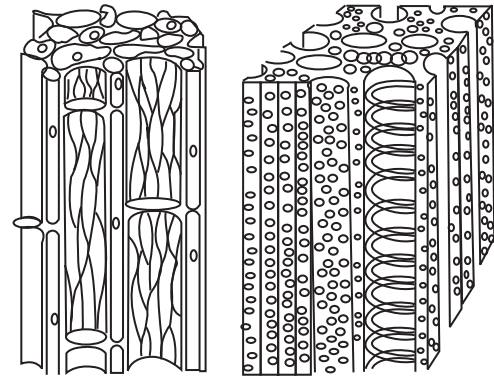
अब तक हम एक ही प्रकार की कोशिकाओं से बने हुए भिन्न-भिन्न प्रकार के ऊतकों पर विचार कर

चुके हैं, जो कि एक ही तरह के दिखाई देते हैं। ऐसे ऊतकों को साधारण स्थायी ऊतक कहते हैं। अन्य प्रकार के स्थायी ऊतक को जटिल ऊतक कहते हैं। जटिल ऊतक एक से अधिक प्रकार की कोशिकाओं से मिलकर बने होते हैं और ये सभी एक साथ मिलकर एक इकाई की तरह कार्य करते हैं। ज़ाइलम और फ़्लोएम इसी प्रकार के जटिल ऊतकों के उदाहरण हैं।

इन दोनों को संवहन ऊतक भी कहते हैं और ये मिलकर संवहन बंडल का निर्माण करते हैं। यह ऊतक बड़े पौधों की एक विशेषता है, जो कि उनको स्थलीय वातावरण में रहने के अनुकूल बनाती है। चित्र 6.3 में तने का एक भाग दिखाया गया है। क्या हम संवहन बंडल में मौजूद विभिन्न प्रकार की कोशिकाओं को देख सकते हैं?

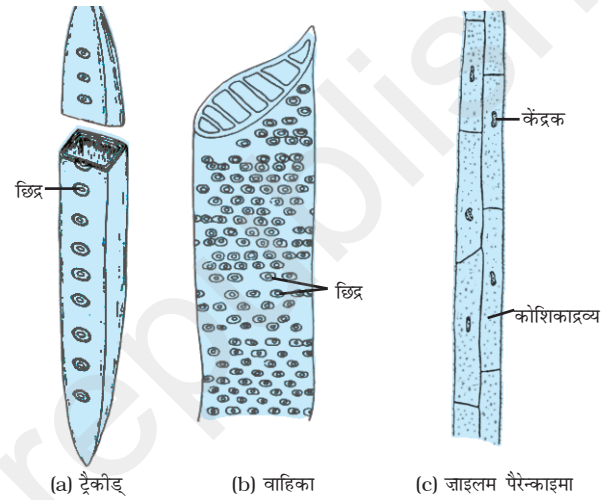
ज़ाइलम ट्रैकीड (वाहिनिका), वाहिका, ज़ाइलम पैरेन्काइमा [चित्र 6.7(a), (b) तथा (c)] और ज़ाइलम फ़ाइबर (रेशे) से मिलकर बना होता है। इन कोशिकाओं की कोशिका भित्ति मोटी होती है और इनमें से अधिकतर कोशिकाएँ मृत होती हैं। ट्रैकीड और वाहिकाओं की संरचना नलिकाकार होती है। इनके द्वारा पानी और खनिज लवण का ऊर्ध्वाधर संवहन होता है। पैरेन्काइमा भोजन का संग्रह करता है और यह किनारे की ओर पानी के पार्श्वीय संवहन में मदद करता है। फ़ाइबर (रेशे) मुख्यतः सहारा देने का कार्य करते हैं।

फ़्लोएम चार प्रकार के अवयवों: चालनी नलिका, (sieve tubes), साथी कोशिकाएँ, फ़्लोएम पैरेन्काइमा तथा फ़्लोएम रेशों से मिलकर बना होता है [चित्र 6.7(d)]। चालनी नलिका छिद्रित भित्ति वाली तथा नलिकाकार कोशिका होती है। फ़्लोएम, ज़ाइलम के असमान पदार्थों को कोशिकाओं में दोनों दिशाओं में गति करा सकते हैं। फ़्लोएम पत्तियों से भोजन को पौधे के विभिन्न भागों तक पहुँचाता है। फ़्लोएम रेशों को छोड़कर, फ़्लोएम कोशिकाएँ जीवित कोशिकाएँ हैं।



फ़्लोएम

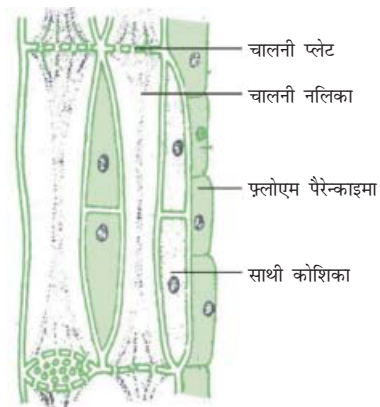
ज़ाइलम



(a) ट्रैकीड

(b) वाहिका

(c) ज़ाइलम पैरेन्काइमा



(d) फ़्लोएम-सैक्शन

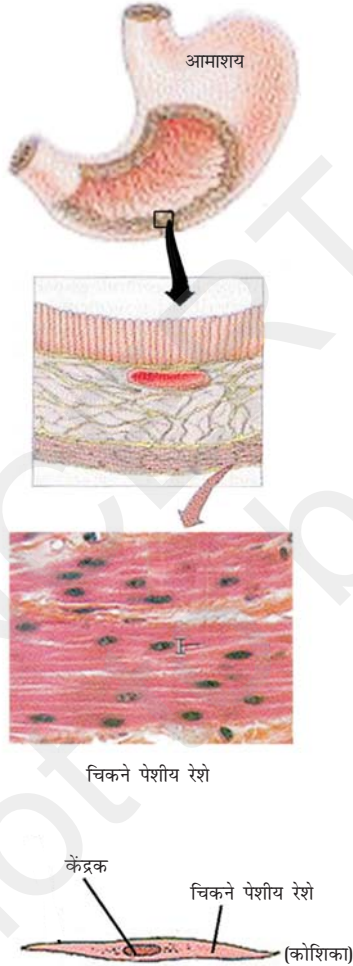
चित्र 6.7: जटिल ऊतकों के प्रकार

प्रश्न

1. सरल ऊतकों के कितने प्रकार हैं?
2. प्ररोह का शीर्षस्थ विभज्योतक कहाँ पाया जाता है?
3. नारियल का रेशा किस ऊतक का बना होता है?
4. प्लोएम के संघटक कौन-कौन से हैं?

6.3 जंतु ऊतक

जब हम साँस लेते हैं तब हम अपनी छाती की गति को महसूस कर सकते हैं। शरीर के ये अंग कैसे गति करते हैं? इसके लिए हमारे पास कुछ विशेष कोशिकाएँ होती हैं जिन्हें हम पेशीय कोशिकाएँ कहते



चित्र 6.8: पेशीय रेशे

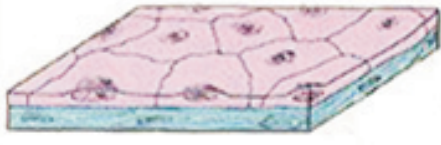
हैं (चित्र 6.8)। इन कोशिकाओं का फैलना और सिकुड़ना अंगों को गति प्रदान करता है।

साँस लेते समय हम ऑक्सीजन लेते हैं। यह ऑक्सीजन कहाँ जाती है? यह फेफड़ों के द्वारा अवशोषित की जाती है तथा रक्त के साथ शरीर की सभी कोशिकाओं तक पहुँच जाती है। कोशिकाओं को ऑक्सीजन की आवश्यकता क्यों होती है? माइटोकॉन्ड्रिया का कार्य इस प्रश्न के हल के लिए एक संकेत देता है, जिसके बारे में हम पहले पढ़ चुके हैं। रक्त अपने साथ विभिन्न पदार्थों को शरीर में एक स्थान से दूसरे स्थान तक ले जाता है। उदाहरण के लिए यह भोजन और ऑक्सीजन को सभी कोशिकाओं तक पहुँचाता है। यह शरीर के सभी भागों से अपशिष्ट पदार्थों को एकत्र कर यकृत तथा वृक्क तक उत्सर्जन के लिए पहुँचाता है।


रक्त और पेशियाँ दोनों ही हमारे शरीर में पाए जाने वाले ऊतकों के उदाहरण हैं। उनके कार्य के आधार पर हम विभिन्न प्रकार के जंतु ऊतकों के बारे में विचार कर सकते हैं जैसे कि एपिथीलियमी ऊतक, संयोजी ऊतक, पेशीय ऊतक तथा तंत्रिका ऊतक। रक्त, संयोजी ऊतक का एक प्रकार है तथा पेशी, पेशीय ऊतक का।

6.3.1 एपिथीलियमी ऊतक

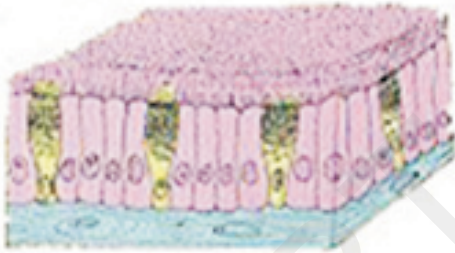
जंतु के शरीर को ढकने या बाह्य रक्षा प्रदान करने वाले ऊतक एपिथीलियमी ऊतक हैं। एपिथीलियम शरीर के अंदर स्थित बहुत से अंगों और गुहिकाओं को ढकते हैं। ये भिन्न-भिन्न प्रकार के शारीरिक तंत्रों को एक-दूसरे से अलग करने के लिए अवरोध का निर्माण करते हैं। त्वचा, मुँह, आहारनली, रक्त वाहिनी नली का अस्तर, फेफड़ों की कूपिका, वृक्कीय नली आदि सभी एपिथीलियमी ऊतक से बने होते हैं। एपिथीलियमी ऊतक की कोशिकाएँ एक-दूसरे से सटी होती हैं और ये एक अनवरत परत का निर्माण



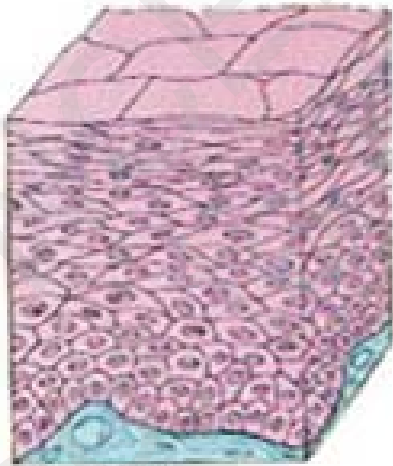
(a) शल्की



(b) घनाकार



(c) स्तंभाकार (पक्ष्माभी)



(d) स्तरित शल्की

चित्र 6.9: विभिन्न प्रकार के एपिथीलियम ऊतक

करती हैं। इन परतों के बीच चिपकाने वाले पदार्थ कम होते हैं तथा कोशिकाओं के बीच बहुत कम स्थान होता है। स्पष्टतः जो भी पदार्थ शरीर में प्रवेश करता है या बाहर निकलता है, वह एपिथीलियम की किसी परत से होकर अवश्य गुजरता है। इसके फलस्वरूप विभिन्न प्रकार की एपिथीलियमी कोशिकाओं के बीच की पारगम्यता शरीर तथा बाहरी वातावरण और शरीर के विभिन्न अंगों के बीच पदार्थों के आदान-प्रदान में महत्वपूर्ण भूमिका निभाती है। सामान्यतः सभी एपिथीलियमों को एक बाह्य रेशेदार आधार झिल्ली उसे नीचे रहने वाले ऊतकों से अलग करती है।

चित्र 6.9 में दर्शाए अनुसार, विभिन्न एपिथीलियम की संरचनाएँ विभिन्न प्रकार की होती हैं, जो उनके कार्यों पर निर्भर करती हैं। उदाहरण के लिए, कोशिकाओं में रक्त नलिका अस्तर या कूपिका, जहाँ पदार्थों का संवहन वरणात्मक पारगम्य झिल्ली द्वारा होता है, वहाँ पर चपटी एपिथीलियमी ऊतक कोशिकाएँ होती हैं। इनको सरल शल्की एपिथीलियम कहते हैं। ये अत्यधिक पतली और चपटी होती हैं तथा कोमल अस्तर का निर्माण करती हैं। आहारनली तथा मुँह का अस्तर शल्की एपिथीलियम से ढका होता है। शरीर का रक्षात्मक कवच अर्थात् त्वचा इन्हीं शल्की एपिथीलियम से बनी होती है। त्वचा की एपिथीलियमी कोशिकाएँ इनको कटने तथा फटने से बचाने के लिए कई परतों में व्यवस्थित होती हैं। चूँकि ये कई परतों के पैटर्न में व्यवस्थित होती हैं इसलिए इन एपिथीलियम को स्तरित शल्की एपिथीलियम कहते हैं।

जहाँ अवशोषण और स्राव होता है, जैसे आँत के भीतरी अस्तर (lining) में, वहाँ लंबी एपिथीलियमी कोशिकाएँ मौजूद होती हैं। यह स्तंभाकार एपिथीलियम, एपिथीलियमी अवरोध को पार करने में सहायता प्रदान करता है। श्वास नली में, स्तंभाकार एपिथीलियमी ऊतक में पक्ष्माभ (Cilia) होते हैं, जो कि एपिथीलियमी ऊतक की कोशिकाओं की सतह पर बाल जैसी रचनाएँ होती हैं। ये पक्ष्माभ गति कर सकते हैं तथा

इनकी गति श्लेष्मा को आगे स्थानांतरित करके साफ़ करने में सहायता करती हैं। इस प्रकार के एपिथीलियम को पक्ष्माभी स्तंभाकार एपिथीलियम कहते हैं।

घनाकार एपिथीलियम वृक्कीय नली तथा लार ग्रंथी की नली के अस्तर का निर्माण करता है, जहाँ यह उसे यांत्रिक सहारा प्रदान करता है। ये एपिथीलियम कोशिकाएँ प्रायः ग्रंथि कोशिका के रूप में अतिरिक्त विशेषता अर्जित करती हैं, जो एपिथीलियमी ऊतक की सतह पर पदार्थों का स्राव कर सकती हैं। कभी-कभी एपिथीलियमी ऊतक का कुछ भाग अंदर की ओर मुड़ा होता है तथा एक बहुकोशिक ग्रंथि का निर्माण करता है। यह ग्रंथिल एपिथीलियम कहलाता है।

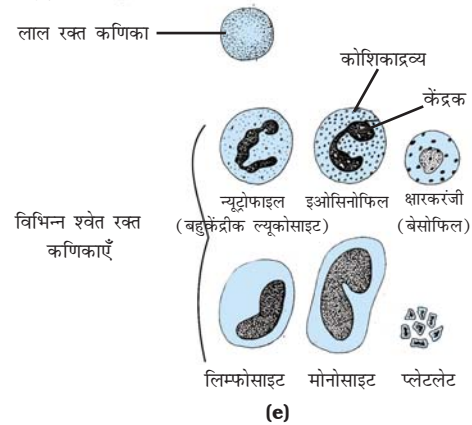
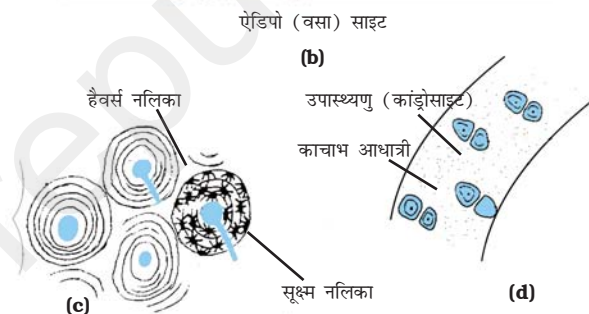
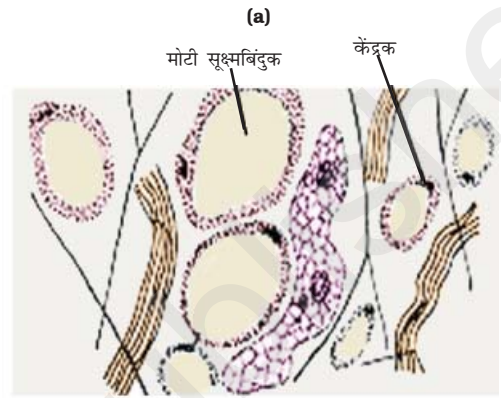
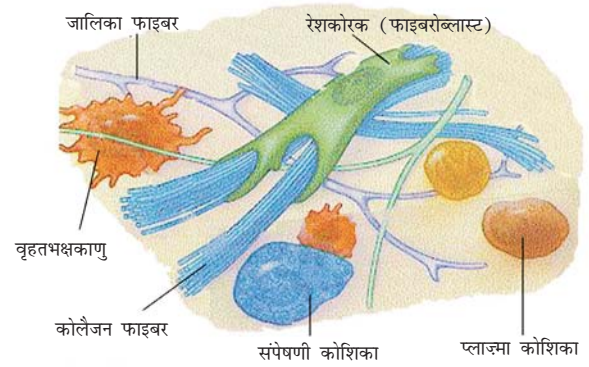
6.3.2 संयोजी ऊतक

रक्त एक प्रकार का संयोजी ऊतक है। इसे संयोजी ऊतक क्यों कहते हैं? इस अध्याय की भूमिका में इस संबंध में एक संकेत दिया गया है। आइए अब हम इस तरह के ऊतक के बारे में विस्तृत जानकारी लें। संयोजी ऊतक की कोशिकाएँ आपस में कम जुड़ी होती हैं और अंतरकोशिकीय आधात्री (matrix) में धँसी होती हैं (चित्र 6.10)। यह आधात्री जैली की तरह, तरल, सघन या कठोर हो सकती है। आधात्री की प्रकृति, विशिष्ट संयोजी ऊतक के कार्य के अनुसार बदलती रहती है।

रक्त की एक बूँद स्लाइड पर लें और उसमें मौजूद विभिन्न कोशिकाओं को सूक्ष्मदर्शी में देखें।

रक्त के तरल आधात्री भाग को प्लाज़्मा कहते हैं, प्लाज़्मा में लाल रक्त कोशिकाएँ (RBC), श्वेत रक्त कोशिकाएँ (WBC) तथा प्लेटलेट्स निलंबित होते हैं। प्लाज़्मा में प्रोटीन, नमक तथा हॉर्मोन भी होते हैं। रक्त गैसों, शरीर के पचे हुए भोजन, हॉर्मोन और उत्सर्जी पदार्थों को शरीर के एक भाग से दूसरे भाग में संवहन करता है।

अस्थि संयोजी ऊतक का एक अन्य उदाहरण है। यह पंजर का निर्माण कर शरीर को आकार प्रदान



चित्र 6.10: संयोजी ऊतकों के प्रकार: (a) एरिओलर ऊतक, (b) वसामय (एडीपोज़) ऊतक, (c) संहत अस्थि ऊतक, (d) काचाभ स्नायु ऊतक, (e) विभिन्न रक्त कोशिकाएँ

करती है। यह मांसपेशियों को सहारा देती है और शरीर के मुख्य अंगों को सहारा देती है। यह ऊतक मजबूत और कठोर होता है। (अस्थि कार्यों के लिए इन गुणों के क्या उपयोग हैं।) अस्थि कोशिकाएँ कठोर आधात्री में धँसी होती हैं, जो कैल्सियम तथा फॉस्फोरस से बनी होती हैं।

दो अस्थियाँ आपस में एक-दूसरे से, एक अन्य संयोजी ऊतक जिसे स्नायु (अस्थि बंधान तंतु) कहते हैं, से जुड़ी होती हैं। यह ऊतक बहुत लचीला एवं मजबूत होता है। स्नायु में बहुत कम आधात्री होती है। एक अन्य प्रकार का संयोजी ऊतक कंडरा (tendon) है, जो अस्थियों से मांसपेशियों को जोड़ता है। कंडरा मजबूत तथा सीमित लचीलेपन वाले रेशेदार ऊतक होते हैं।

उपास्थि (cartilage) एक अन्य प्रकार का संयोजी ऊतक होता है, जिसमें कोशिकाओं के बीच पर्याप्त स्थान होता है। इसकी ठोस आधात्री प्रोटीन और शर्करा की बनी होती है। यह अस्थियों के जोड़ों को चिकना बनाती है। उपास्थि नाक, कान, कंठ और श्वास नली में भी उपस्थित होती है। हम कान की उपास्थि को मोड़ सकते हैं, परंतु हाथ की अस्थि को नहीं। सोचिए, ये दो ऊतक किस प्रकार भिन्न हैं!

एरिओलर संयोजी ऊतक त्वचा और मांसपेशियों के बीच, रक्त नलिका के चारों ओर तथा नसों और अस्थि मज्जा में पाया जाता है। यह अंगों के भीतर की खाली जगह को भरता है, आंतरिक अंगों को सहारा प्रदान करता है और ऊतकों की मरम्मत में सहायता करता है।

हमारे शरीर में वसा कहाँ संचित होता है? वसा का संग्रह करने वाला वसामय ऊतक त्वचा के नीचे आंतरिक अंगों के बीच पाया जाता है। इस ऊतक की कोशिकाएँ वसा की गोलिकाओं से भरी होती हैं। वसा संग्रहित होने के कारण यह ऊष्मीय कुचालक का कार्य भी करता है।

6.3.3 पेशीय ऊतक

पेशीय ऊतक लंबी कोशिकाओं का बना होता है जिसे पेशीय रेशा (muscle fibre) भी कहा जाता है। यह हमारे शरीर में गति के लिए उत्तरदायी है। पेशियों में एक विशेष प्रकार की प्रोटीन होती है, जिसे सिकुड़ने वाला प्रोटीन कहते हैं, जिसके संकुचन एवं प्रसार के कारण गति होती है।

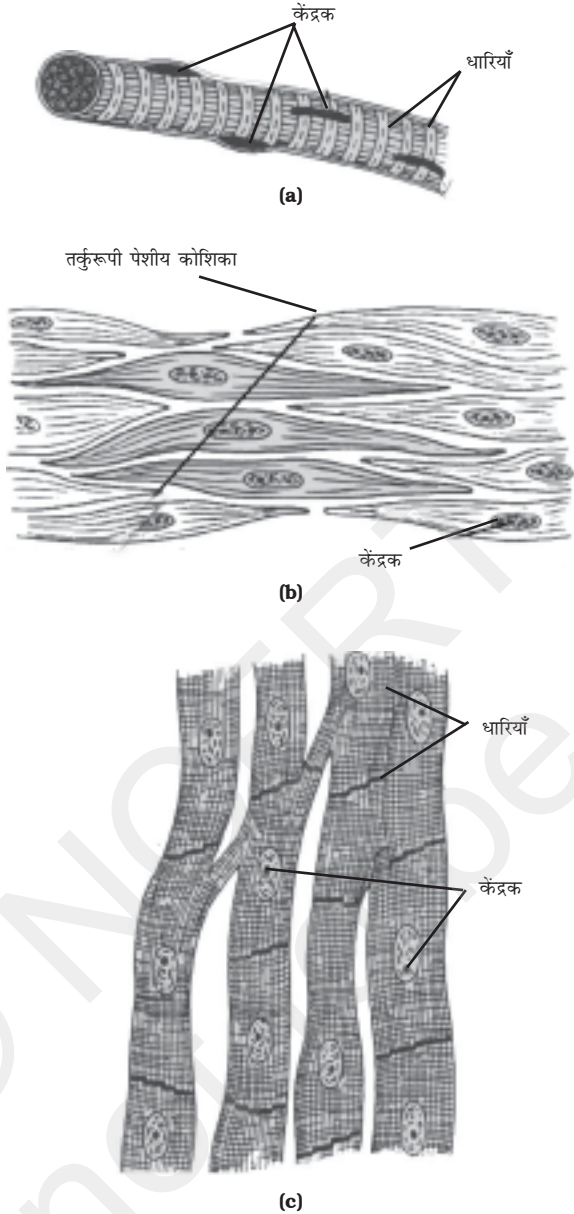
कुछ पेशियों की हम इच्छानुसार गति करा सकते हैं। हाथ और पैर में विद्यमान पेशियों को हम अपनी इच्छानुसार आवश्यकता पड़ने पर गति करा सकते हैं या उनकी गति को रोक सकते हैं। इस तरह की पेशियों को ऐच्छिक पेशी (voluntary muscle) कहा जाता है [चित्र 6.11(a)]। इन पेशियों को कंकाल पेशी भी कहा जाता है क्योंकि ये अधिकतर हड्डियों से जुड़ी होती हैं तथा शारीरिक गति में सहायक होती हैं। सूक्ष्मदर्शी से देखने पर ये पेशियाँ हलके तथा गहरे रंगों में एक के बाद एक रेखाओं या धारियों की तरह प्रतीत होती हैं। इसी कारण इसे रेखित पेशी भी कहते हैं। इस ऊतक की कोशिकाएँ लंबी, बेलनाकार, शाखारहित और बहुनाभीय होती हैं।

आहारनली में भोजन का प्रवाह या रक्त नलिका का प्रसार एवं संकुचन जैसी गतियाँ ऐच्छिक नहीं हैं। इन गतिविधियों को हम स्वयं संचालित नहीं कर सकते हैं, अर्थात् हम इन गतियों को इच्छानुसार प्रारंभ या बंद नहीं कर सकते हैं। चिकनी पेशियाँ [चित्र 6.11(b)] अथवा अनैच्छिक पेशियाँ इनकी गति को नियंत्रित करती हैं। ये आँख की पलक, मूत्रवाहिनी और फेफड़ों की श्वसनी में भी पाया जाता है। कोशिकाएँ लंबी और इनका आखिरी सिरा नुकीला (तर्कुरूपी - spindle shaped) होता है। ये एक-केंद्रकीय होती हैं। इनको आरेखित पेशी भी कहा जाता है। इनका नाम आरेखित क्यों है?

हृदय की पेशियाँ जीवन भर लयबद्ध होकर प्रसार एवं संकुचन करती रहती हैं। इन अनैच्छिक पेशियों

को कार्डिक (हृदयक) पेशी कहा जाता है [चित्र 6.11(c)]। हृदय की पेशी कोशिकाएँ बेलनाकार, शाखाओं वाली और एक-केंद्रकीय होती हैं।

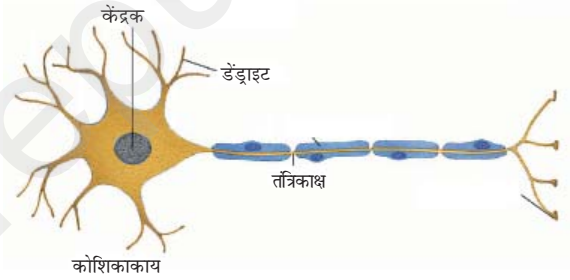
विभिन्न प्रकार की पेशीय ऊतकों की संरचना की तुलना करें। उनके आकार, केंद्रक की संख्या तथा कोशिका में केंद्रक की स्थिति को नोट करें।



चित्र 6.11: पेशीय ऊतक: (a) रेखित पेशी, (b) चिकनी पेशी, (c) कार्डिक (हृदयक) पेशी

6.3.4 तंत्रिका ऊतक

सभी कोशिकाओं में उत्तेजना के अनुकूल प्रतिक्रिया करने की क्षमता होती है। यद्यपि, तंत्रिका ऊतक की कोशिकाएँ बहुत शीघ्र उत्तेजित होती हैं और इस उत्तेजना को बहुत ही शीघ्र पूरे शरीर में एक स्थान से दूसरे स्थान तक पहुँचाती हैं। मस्तिष्क, मेरुरज्जु तथा तंत्रिकाएँ सभी तंत्रिका ऊतकों की बनी होती हैं। तंत्रिका ऊतक की कोशिकाओं को तंत्रिका कोशिका या न्यूरॉन कहा जाता है। न्यूरॉन में कोशिकाएँ केंद्रक तथा कोशिकाद्रव्य (साइटोप्लाज़्म) होते हैं। इससे लंबे, पतले बालों जैसी शाखाएँ निकली होती हैं (चित्र 6.12)। प्रायः प्रत्येक न्यूरॉन में इस तरह का एक लंबा प्रवर्ध होता है, जिसको एक्सॉन कहते हैं तथा बहुत सारे छोटी शाखा वाले प्रवर्ध (डेंड्राइट्स) होते हैं। एक तंत्रिका कोशिका 1 मीटर तक लंबी हो सकती है। बहुत सारे तंत्रिका रेशे संयोजी ऊतक के द्वारा एक साथ मिलकर एक तंत्रिका का निर्माण करते हैं।



चित्र 6.12: न्यूरॉन-तंत्रिका ऊतक की इकाई

तंत्रिका का स्पंदन हमें इच्छानुसार अपनी पेशियों की गति करने में सहायता करता है। तंत्रिका तथा पेशीय ऊतकों का कार्यात्मक संयोजन प्रायः सभी जीवों में मौलिक है। साथ ही, यह संयोजन उत्तेजना के अनुसार जंतुओं को तेज़ गति प्रदान करता है।

प्रश्न

1. उस ऊतक का नाम बताएँ जो हमारे शरीर में गति के लिए उत्तरदायी है।
2. न्यूरॉन देखने में कैसा लगता है?
3. हृदय पेशी के तीन लक्षणों को बताएँ।
4. एरिओलर ऊतक के क्या कार्य हैं?



आपने क्या सीखा

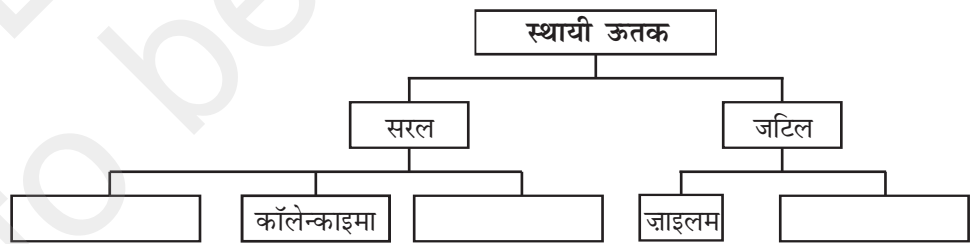
- ऊतक कोशिकाओं का समूह होता है जिसमें कोशिकाओं की संरचना तथा कार्य एकसमान होते हैं।
- पौधों के ऊतक (पादप ऊतक) दो प्रकार के होते हैं — विभज्योतक तथा स्थायी ऊतक।
- विभज्योतक (मेरिस्टेमेटिक) ऊतक एक विभाज्य ऊतक है तथा यह पौधों के वृद्धि वाले क्षेत्रों में पाए जाते हैं।
- स्थायी ऊतक विभज्योतक से बनते हैं, जो एक बार विभाजित होने की क्षमता को खो देते हैं। इनको सरल तथा जटिल ऊतकों में वर्गीकृत किया जाता है।
- पैरेन्काइमा, कॉलेन्काइमा तथा स्क्लेरेन्काइमा सरल ऊतकों के तीन प्रकार हैं। ज़ाइलम और फ्लोएम जटिल ऊतकों के प्रकार हैं।
- एपिथीलियमी, पेशीय, संयोजी तथा तंत्रिका ऊतक जंतु ऊतक होते हैं।
- आकृति और कार्य के आधार पर एपिथीलियमी ऊतक को शल्की, घनाकार, स्तंभाकार, रोमीय तथा ग्रंथिल श्रेणियों में वर्गीकृत किया जाता है।
- हमारे शरीर में विद्यमान संयोजी ऊतक के विभिन्न प्रकार हैं: एरिओलर ऊतक, एडीपोज़ (वसामय) ऊतक, अस्थि, कंडरा, स्नायु, उपास्थि तथा रक्त (रुधिर)।
- पेशीय ऊतक के तीन प्रकार होते हैं — रेखित, आरेखित और कार्डिक (हृदयक पेशी)।
- तंत्रिका ऊतक न्यूरॉन का बना होता है, जो संवेदना को प्राप्त और संचालित करता है।

अभ्यास



1. ऊतक को परिभाषित करें।
2. कितने प्रकार के तत्व मिलकर ज़ाइलम ऊतक का निर्माण करते हैं? उनके नाम बताएँ।
3. पौधों में सरल ऊतक जटिल ऊतक से किस प्रकार भिन्न होते हैं?
4. कोशिका भित्ति के आधार पर पैरेन्काइमा, कॉलेन्काइमा और स्क्लेरेन्काइमा के बीच भेद स्पष्ट करें।

5. रंध्र के क्या कार्य हैं?
6. तीनों प्रकार के पेशीय रेशों में चित्र बनाकर अंतर स्पष्ट करें।
7. कार्डिक (हृदयक) पेशी का विशेष कार्य क्या है?
8. रेखित, अरेखित तथा कार्डिक (हृदयक) पेशियों में शरीर में स्थित कार्य और स्थान के आधार पर अंतर स्पष्ट करें।
9. न्यूरोन का एक चिह्नित चित्र बनाएँ।
10. निम्नलिखित के नाम लिखें:
 - (a) ऊतक जो मुँह के भीतरी अस्तर का निर्माण करता है।
 - (b) ऊतक जो मनुष्य में पेशियों को अस्थि से जोड़ता है।
 - (c) ऊतक जो पौधों में भोजन का संवहन करता है।
 - (d) ऊतक जो हमारे शरीर में वसा का संचय करता है।
 - (e) तरल आधात्री सहित संयोजी ऊतक।
 - (f) मस्तिष्क में स्थित ऊतक।
11. निम्नलिखित में ऊतक के प्रकार की पहचान करें:
त्वचा, पौधे का वल्क, अस्थि, वृक्कीय नलिका अस्तर, संवहन बंडल।
12. पैरेन्काइमा ऊतक किस क्षेत्र में स्थित होते हैं?
13. पौधों में एपिडर्मिस की क्या भूमिका है?
14. छाल (कॉर्क) किस प्रकार सुरक्षा ऊतक के रूप में कार्य करता है?
15. निम्न दी गई तालिका को पूर्ण करें



अध्याय 7

जीवों में विविधता

(Diversity in Living Organisms)

क्या आपने कभी सोचा है कि हमारे चारों ओर कितने प्रकार के जीव समूह पाए जाते हैं। सभी जीवधारी एक-दूसरे से किसी न किसी रूप में भिन्न हैं। आप स्वयं को और अपने एक मित्र को ही लीजिए।

- क्या दोनों की लंबाई एकसमान है?
- क्या आपकी नाक बिलकुल आपके मित्र की नाक जैसी दिखती है?
- क्या आपकी और आपके मित्र की हथेली का आकार समान है?

यदि हम अपनी और अपने मित्र की तुलना किसी बंदर से करें, तो हम क्या देखेंगे? निश्चित रूप से, हम पाते हैं कि हममें और हमारे मित्रों के बीच बंदर की अपेक्षा अधिक समानताएँ हैं। परंतु जब हम अपनी तुलना गाय और बंदर दोनों से करते हैं, तब हम देखते हैं कि गाय की तुलना में बंदर और हममें अधिक समानताएँ हैं।

क्रियाकलाप 7.1

- हमने देसी और जर्सी गाय के बारे में सुना है।
- क्या एक देसी गाय जर्सी गाय जैसी दिखती है?
- क्या सभी देसी गायें एक जैसी दिखती हैं?
- क्या हम देसी गायों के झुंड में जर्सी गाय को पहचान सकेंगे?
- पहचानने का हमारा आधार क्या होगा?

अब हम लोगों को तय करना है कि कौन-से विशिष्ट लक्षण वांछित समूह के जीवों के लिए अधिक महत्वपूर्ण हैं। इसके बाद हम यह भी तय करेंगे कि किन लक्षणों को छोड़ा जा सकता है।

अब पृथ्वी पर रहने वाले जीवों के विभिन्न समूहों के बारे में सोचें। हम एक ओर जहाँ सूक्ष्मदर्शी से देखे जाने वाले बैक्टीरिया, जिनका आकार कुछ माइक्रोमीटर होता है, वहीं दूसरी ओर 30 मीटर लंबे नीले हेल या कैलिफोर्निया के 100 मीटर लंबे रेडवुड पेड़ भी पाए जाते हैं। कुछ चीड़ के वृक्ष हजारों वर्ष तक जीवित रहते हैं, जबकि कुछ कीट जैसे मच्छरों का जीवनकाल कुछ ही दिनों का होता है। जैव विविधता रंगहीन जीवधारियों, पारदर्शी कीटों और विभिन्न रंगों वाले पक्षियों और फूलों में भी पाई जाती है।

हमारे चारों ओर की इस असीमित विभिन्नता को विकसित होने में लाखों वर्ष का समय लगा है। इन सभी जीवधारियों को जानने और समझने के लिए हमारे पास समय का बहुत छोटा हिस्सा है, इसलिए उनके बारे में हम एक-एक कर विचार नहीं कर सकते हैं। इसकी जगह हम जीवधारियों की समानता का अध्ययन करेंगे, जिससे हम उनको विभिन्न वर्गों में रख सकेंगे, फिर विभिन्न वर्गों व समूहों का अध्ययन करेंगे।

जीवन के इन विभिन्न रूपों की विभिन्नता का अध्ययन करने के अनुरूप समूह बनाने के क्रम में, हमें यह सुनिश्चित करना होगा कि वे कौन-से विशिष्ट लक्षण हैं, जो जीवधारियों में अधिक मौलिक अंतर पैदा करते हैं। इसी पर जीवधारियों के मुख्य विस्तृत समूहों का निर्धारण निर्भर करेगा। इन समूहों में से छोटे समूहों का निर्णय अपेक्षाकृत कम महत्वपूर्ण लक्षणों के आधार पर किया जाएगा।

प्रश्न

1. हम जीवधारियों का वर्गीकरण क्यों करते हैं?
2. अपने चारों ओर फैले जीव रूपों की विभिन्नता के तीन उदाहरण दें।

7.1 वर्गीकरण का आधार क्या है?

जीवों के समूहों के वर्गीकरण का प्रयास प्राचीन समय से किया जाता रहा है। यूनानी विचारक अरस्तू ने जीवों का वर्गीकरण उनके स्थल, जल एवं वायु में रहने के आधार पर किया था। यह जीवन को देखने का बहुत ही सरल किंतु भ्रामक तरीका है। उदाहरण के लिए, समुद्रों में रहने वाले जीव; जैसे - प्रवाल (coral), द्वेल, ऑक्टोपस, स्टारफिश और शॉर्क। ये कई मायने में एक-दूसरे से काफ़ी अलग हैं। इन सभी में एक मात्र समानता इनका आवास है। अध्ययन एवं विचार के लिए इस आधार पर जीवधारियों को समूहों में बाँटना ठीक नहीं है।

इसलिए हमें अब यह निर्णय करना है कि किन विशिष्ट अभिलक्षणों के आधार पर वृहद् वर्ग का निर्माण किया गया। उसके बाद हम अन्य लक्षणों के आधार पर किसी वर्ग को उपसमूहों में बाँट सकते हैं। नए लक्षणों के आधार पर समूहों के भीतर इस तरह के वर्गीकरण की प्रक्रिया जारी रह सकती है।

इस विषय में आगे बढ़ने से पहले हमें लक्षणों का अर्थ समझना पड़ेगा। जब हम जीव के किसी विविध समूह को वर्गीकृत करते हैं, तो सबसे पहले हमें यह जानना होता है कि इस समूह के सदस्यों में क्या-क्या समानताएँ हैं जिसके आधार पर कुछ को एक साथ रखा जा सके? वास्तव में, यही उनका लक्षण और व्यवहार होता है या यह कहें कि यही उन जीवों का रूप और कार्य होता है।

किसी जीव के लक्षण से तात्पर्य उस जीव का कोई विशिष्ट रूप या विशिष्ट कार्य है। उदाहरण के लिए, हममें से ज्यादातर लोगों के एक हाथ में पाँच अंगुलियाँ होती हैं, जो एक लक्षण है। उसी तरह हमारे

दौड़ने की क्षमता और बरगद के पेड़ के न दौड़ पाने की क्षमता भी एक लक्षण है।

अब हम देखेंगे कि कुछ लक्षणों को कैसे अन्य की तुलना में ज्यादा मौलिक लक्षणों के रूप में वर्गीकृत किया जाता है। हम विचार करें कि एक पत्थर की दीवार कैसे बनती है। दीवार में प्रयोग में लाए गए पत्थर विभिन्न आकार-प्रकार के होते हैं। यहाँ ध्यान देने की बात है कि ऊपर की ओर लगे पत्थरों का आकार-प्रकार नीचे के पत्थरों को प्रभावित नहीं करेगा, लेकिन निचले स्तर के पत्थरों के आकार से उनके ऊपर वाले पत्थरों का आकार अवश्य प्रभावित होता है।

यहाँ पर सबसे निचले स्तर पर लगे पत्थर, जीवों के उन लक्षणों के समान हैं जो जीवों के वृहद्वर्ग को निर्धारित करते हैं। ये लक्षण जीव के दूसरे किसी भी संरचनात्मक तथा क्रियात्मक लक्षण से स्वतंत्र होते हैं। लेकिन उसके बाद के स्तर के लक्षण पहले के स्तर के लक्षण पर तो निर्भर रहते हैं तथा बाद के स्तर के प्रकार को निर्धारित करते हैं। ठीक इसी तरह हम जीवों के वर्गीकरण के लिए भी परस्पर संबंधी लक्षणों का एक पदानुक्रम बना लेते हैं।

आजकल हम जीवों के वर्गीकरण के लिए कोशिका की प्रकृति से प्रारम्भ करके विभिन्न परस्पर-संबंधित अभिलक्षणों को दृष्टिगत रखते हैं। आइए हम ऐसे लक्षणों पर गौर करें।

- एक यूकैरियोटी कोशिका में केंद्रक समेत कुछ झिल्ली से घिरे कोशिकांग होते हैं जिसके कारण कोशिकीय क्रिया अलग-अलग कोशिकाओं में दक्षतापूर्वक होती रहती है। यही कारण है कि जिन कोशिकाओं में झिल्लीयुक्त कोशिकांग और केंद्रक नहीं होते हैं, उनकी जैव रासायनिक प्रक्रियाएँ भिन्न होती हैं। इसका असर कोशिकीय संरचना के सभी पहलुओं पर पड़ता है। इसके अतिरिक्त केंद्रकयुक्त कोशिकाओं में बहुकोशिक जीव के निर्माण की क्षमता होती है, क्योंकि वे

किसी खास कार्यों के लिए विशिष्टीकृत हो सकते हैं। इसलिए कोशिकीय संरचना और कार्य वर्गीकरण का आधारभूत लक्षण है।

- प्रश्न उठता है कि क्या कोशिकाएँ अकेले पाई जाती हैं या फिर एक साथ समूहों में पाई जाती हैं या अविभाज्य समूह में मिलती हैं? जो कोशिकाएँ एक साथ समूह बनाकर किसी जीव का निर्माण करती हैं, उनमें श्रम-विभाजन पाया जाता है। शारीरिक संरचना में सभी कोशिकाएँ एकसमान नहीं होती हैं बल्कि कोशिकाओं के समूह कुछ खास कार्यों के लिए विशिष्टीकृत हो जाते हैं। यही वजह है कि जीवों की शारीरिक संरचना में इतनी विभिन्नता होती है। इसी के परिणामस्वरूप, हम पाते हैं कि एक अमीबा और एक कृमि की शारीरिक बनावट में कितना अंतर है।
- क्या जीव प्रकाश-संश्लेषण की क्रिया द्वारा अपना भोजन स्वयं बनाते हैं? स्वयं भोजन बनाने की क्षमता रखने वाले और बाहर से भोजन प्राप्त करने वाले जीवों की शारीरिक संरचना में आवश्यक भिन्नता पाई जाती है।
- जो जीव प्रकाश-संश्लेषण करते हैं, उन्हें पौधे कहते हैं। पौधों का शारीरिक संगठन किस स्तर का होता है?
- उसी तरह जंतुओं में किस तरह शरीर विकसित होता है और शरीर के विभिन्न अंग बनते हैं। इसके अतिरिक्त विभिन्न कार्यों के लिए विशिष्ट अंग कौन-कौन से हैं।

इन प्रश्नों के माध्यम से हम देख सकते हैं कि किस तरह विभिन्न लक्षणों का पदानुक्रम विकसित होता है। वर्गीकरण के लिए पौधों के शरीर के विभिन्न लक्षण किस प्रकार जंतुओं से भिन्न होते हैं। इसकी वजह यह है कि पौधों का शरीर भोजन बनाने की क्षमता के अनुसार विकसित होता है, जबकि जंतुओं का शरीर बाहर से भोजन ग्रहण करने के

अनुसार विकसित होता है। यही लक्षण, वर्गीकरण के दौरान उपसमूह और फिर बाद में बड़े समूहों में विभाजन का आधार बनते हैं।

प्रश्न

1. जीवों के वर्गीकरण के लिए सर्वाधिक मूलभूत लक्षण क्या हो सकता है?
(a) उनका निवास स्थान
(b) उनकी कोशिका संरचना
2. जीवों के प्रारंभिक विभाजन के लिए किस मूल लक्षण को आधार बनाया गया?
3. किस आधार पर जंतुओं और वनस्पतियों को एक-दूसरे से भिन्न वर्ग में रखा जाता है?

7.2 वर्गीकरण और जैव विकास

सभी जीवधारियों को उनकी शारीरिक संरचना और कार्य के आधार पर पहचाना जाता है और उनका वर्गीकरण किया जाता है। शारीरिक बनावट में कुछ लक्षण अन्य लक्षणों की तुलना में ज्यादा परिवर्तन लाते हैं। इसमें समय की भी बहुत महत्वपूर्ण भूमिका होती है। अतः जब कोई शारीरिक बनावट अस्तित्व में आती है, तो यह शरीर में बाद में होने वाले कई परिवर्तनों को प्रभावित करती है। दूसरे शब्दों में, शरीर की बनावट के दौरान जो लक्षण पहले दिखाई पड़ते हैं, उन्हें मूल लक्षण के रूप में जाना जाता है।

इससे यह पता चलता है कि जीवों के वर्गीकरण का जैव विकास से कितना नजदीकी संबंध है। जैव विकास क्या है? हम जितने भी जीवों को देखते हैं वे सभी निरंतर होने वाले परिवर्तनों की उस प्रक्रिया के स्वाभाविक परिणाम हैं जो उनके बेहतर जीवन-यापन के लिए आवश्यक थे। जैव विकास की इस अवधारणा को सबसे पहले चार्ल्स डार्विन ने 1859 में अपनी पुस्तक “दि ओरिजिन ऑफ स्पीशीज़” में दिया।

जैव विकास की इस अवधारणा को वर्गीकरण से जोड़कर देखने पर हम पाते हैं कि कुछ जीव समूहों

की शारीरिक संरचना में प्राचीन काल से लेकर आज तक कोई खास परिवर्तन नहीं हुआ है। लेकिन कुछ जीव समूहों की शारीरिक संरचना में पर्याप्त परिवर्तन दिखाई पड़ते हैं। पहले प्रकार के जीवों को आदिम अथवा निम्न जीव कहते हैं, जबकि दूसरे प्रकार के जीवों को उन्नत अथवा उच्च जीव कहते हैं। लेकिन ये शब्द उपयुक्त नहीं हैं क्योंकि इससे उनकी भिन्नताओं का ठीक से पता नहीं चलता है। इसके बजाय हम इनके लिए पुराने जीव और नये जीव शब्द का प्रयोग कर सकते हैं। चूँकि विकास के दौरान जीवों में जटिलता की संभावना बनी रहती है, इसलिए पुराने जीवों को साधारण और नये जीवों को अपेक्षाकृत जटिल भी कहा जा सकता है।

प्रश्न

1. आदिम जीव किन्हें कहते हैं? ये तथाकथित उन्नत जीवों से किस प्रकार भिन्न हैं?
2. क्या उन्नत जीव और जटिल जीव एक होते हैं?

73 वर्गीकरण समूहों की पदानुक्रमित संरचना

अर्न्सट हेकेल (1894), राबर्ट व्हिटेकर (1959), और कार्ल वोस (1977) नामक जैव वैज्ञानिकों ने सारे सजीवों को जगत (Kingdom) नामक बड़े वर्गों में विभाजित करने का प्रयास किया है। व्हिटेकर द्वारा प्रस्तावित वर्गीकरण में पाँच जगत हैं— मोनेरा, प्रोटिस्टा, फंजाई, प्लांटी और एनीमेलिया। ये समूह कोशिकीय संरचना पोषण के स्रोत और तरीके तथा शारीरिक संगठन के आधार पर बनाए गए हैं। वोस ने अपने वर्गीकरण में मोनेरा जगत को आर्कीबैक्टीरिया और यूबैक्टीरिया में बाँट दिया, जो प्रयोग में लाया जाता है।

पुनः विभिन्न स्तरों पर जीवों को उप समूहों में वर्गीकृत किया गया है। जैसे—

जीवों में विविधता

इसे भी जानें

जैव विविधता से तात्पर्य, विभिन्न जीव रूपों में पाई जाने वाली विविधता से है। यह शब्द किसी विशेष क्षेत्र में पाये जाने वाले विभिन्न जीवरूपों की ओर इंगित करता है। ये विभिन्न जीव न सिर्फ एकसमान पर्यावरण में रहते हैं बल्कि एक-दूसरे को प्रभावित भी करते हैं। इसके परिणामस्वरूप विभिन्न प्रजातियों का स्थायी समुदाय अस्तित्व में आता है। आधुनिक समय में मनुष्य ने इस समुदाय के संतुलन को बदलने में महत्वपूर्ण भूमिका निभाई है। वास्तव में किसी समुदाय की विविधता भूमि, जल, जलवायु जैसी कई चीजों से प्रभावित होती है। एक मोटे अनुमान के मुताबिक पृथ्वी पर जीवों की करीब 1 करोड़ प्रजातियाँ पाई जाती हैं, जबकि हमें सिर्फ 10 लाख या 20 लाख प्रजातियों की ही जानकारी है। पृथ्वी पर कर्क रेखा और मकर रेखा के बीच के क्षेत्र में जो गर्मी और नमी वाला भाग है, वहाँ पौधों और जंतुओं में काफी विविधता पाई जाती है। अतः यह क्षेत्र मेगाडाइवर्सिटी क्षेत्र कहलाता है। पृथ्वी पर जैव विविधता का आधे से ज्यादा भाग कुछेक देशों; जैसे—ब्राजील कोलंबिया, इक्वाडोर, पेरू, मेक्सिको, जायरे, मेडागास्कर, ऑस्ट्रेलिया, चीन, भारत, इंडोनेशिया और मलेशिया में केंद्रित है।

जगत (किंगडम) – फ़ाइलम (जंतु)/डिवीज़न (पादप)
वर्ग (क्लास)

गण (ऑर्डर)

कुल (फैमिली)

वंश (जीनस)

जाति (स्पीशीज़)

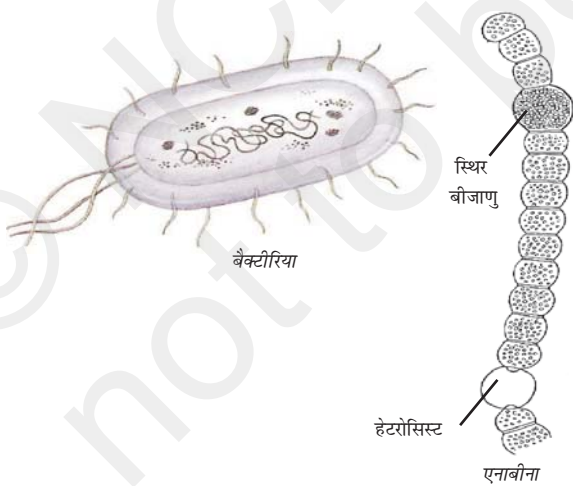
इस प्रकार, वर्गीकरण के पदानुक्रम में जीवों को विभिन्न लक्षणों के आधार पर छोटे से छोटे समूहों में

बाँटते हुए हम वर्गीकरण की आधारभूत इकाई तक पहुँचते हैं। वर्गीकरण की आधारभूत इकाई जाति (स्पीशीज़) है। अतः किन जीवों को हम एक जाति के जीव कहेंगे? एक ही जाति के जीवों में बाह्य रूप से काफ़ी समानता होती है तथा वे जनन कर सकते हैं।

व्हिटेकर द्वारा प्रस्तुत जगत वर्गीकरण की पाँच प्रमुख विशेषताएँ निम्नवत हैं -

7.3.1 मोनेरा

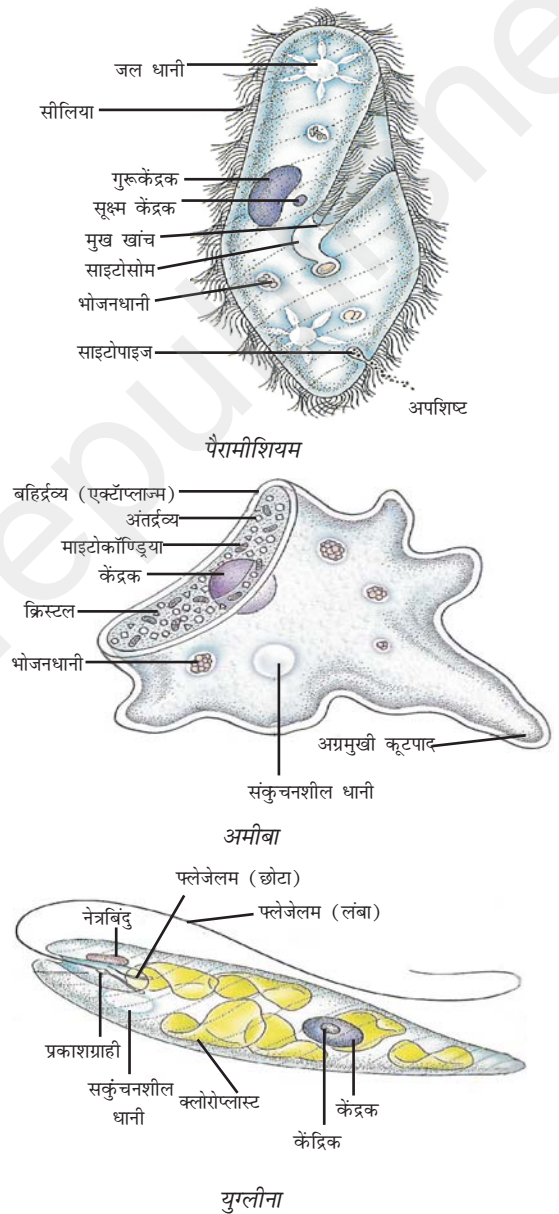
इन जीवों में ना तो संगठित केंद्रक और कोशिकांग होते हैं और न ही उनके शरीर बहुकोशिक होते हैं। इनमें पाई जाने वाली विविधता अन्य लक्षणों पर निर्भर करती है। इनमें कुछ में कोशिका भित्ति पाई जाती है तथा कुछ में नहीं। कोशिका भित्ति के होने या न होने के कारण मोनेरा वर्ग के जीवों की शारीरिक संरचना में आए परिवर्तन तुलनात्मक रूप से बहुकोशिक जीवों में कोशिका भित्ति के होने या न होने के कारण आए परिवर्तनों से भिन्न होते हैं। पोषण के स्तर पर ये स्वपोषी अथवा विषमपोषी दोनों हो सकते हैं। उदाहरणार्थ- जीवाणु, नील-हरित शैवाल अथवा सायनोबैक्टीरिया, माइकोप्लाज्मा। कुछ उदाहरणों को चित्र 7.1 में दिखाया गया है।



चित्र 7.1: मोनेरा

7.3.2 प्रोटिस्टा

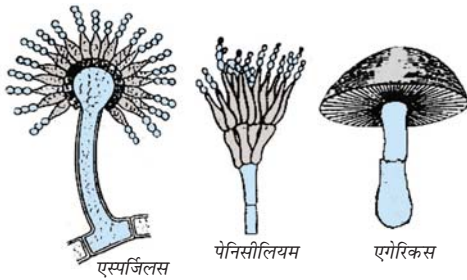
इसमें एककोशिक, यूकैरियोटी जीव आते हैं। इस वर्ग के कुछ जीवों में गमन के लिए सीलिया, फ्लैजेला, नामक संरचनाएँ पाई जाती हैं। ये स्वपोषी और विषमपोषी दोनों तरह के होते हैं। उदाहरणार्थ, एककोशिक शैवाल, डाइएटम, प्रोटोजोआ इत्यादि। उदाहरणों के लिए चित्र 7.2 देखें।



चित्र 7.2: प्रोटोजोआ

7.3.3 फ़ंजाई

ये विषमपोषी यूकैरियोटी जीव हैं। ये पोषण के लिए सड़े गले कार्बनिक पदार्थों पर निर्भर रहते हैं, इसलिए इन्हें मृतजीवी कहा जाता है। इनमें से कई अपने जीवन की विशेष अवस्था में बहुकोशिक क्षमता प्राप्त कर लेते हैं। फ़ंजाई अथवा कवक में काइटिन नामक जटिल शर्करा की बनी हुई कोशिका भित्ति पाई जाती है। उदाहरणार्थ, यीस्ट, मशरूम। उदाहरण के लिए चित्र 7.3 देखें।

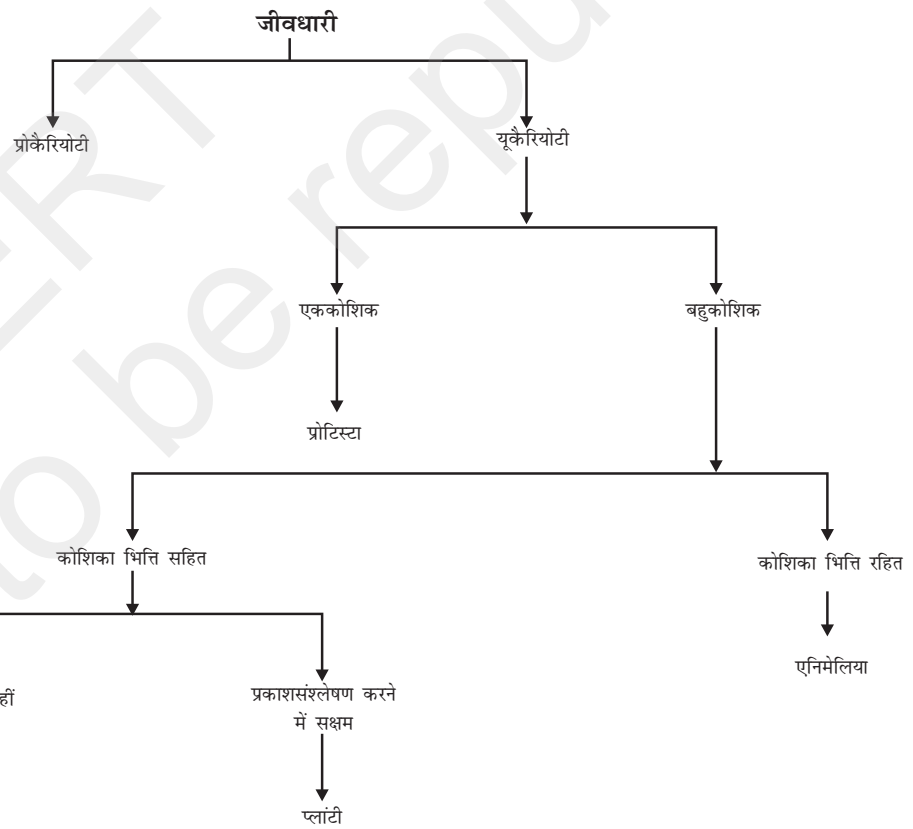


चित्र 7.3: फ़ंजाई

कवकों की कुछ प्रजातियाँ नील-हरित शैवाल (साइनोबैक्टीरिया) के साथ स्थायी अंतर्संबंध बनाती हैं, जिसे सहजीविता कहते हैं। ऐसे सहजीवी जीवों को लाइकेन कहा जाता है। ये लाइकेन अक्सर पेड़ों की छालों पर रंगीन धब्बों के रूप में दिखाई देते हैं।

7.3.4 प्लांटी

इस वर्ग में कोशिका भित्ति वाले बहुकोशिक यूकैरियोटी जीव आते हैं। ये स्वपोषी होते हैं और प्रकाश-संश्लेषण के लिए क्लोरोफ़िल का प्रयोग करते हैं। इस वर्ग में सभी पौधों को रखा गया है। चूँकि पौधे और जंतु सर्वाधिक दृष्टिगोचर होते हैं, अतः इन उपवर्गों की चर्चा बाद में (खंड 7.4) में करेंगे।



चित्र 7.4: पाँच जगत वर्गीकरण

7.3.5 एनिमेलिया

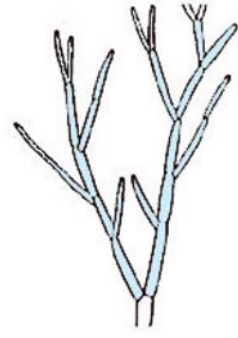
इस वर्ग में ऐसे सभी बहुकोशिक यूकैरियोटी जीव आते हैं, जिनमें कोशिका भित्ति नहीं पाई जाती है। इस वर्ग के जीव विषमपोषी होते हैं। इस उपवर्ग की चर्चा हम बाद में (खंड 7.5) में करेंगे।

प्रश्न

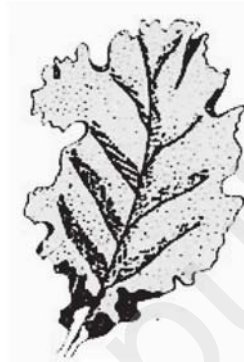
1. मोनेरा अथवा प्रोटिस्टा जैसे जीवों के वर्गीकरण के मापदंड क्या हैं?
2. प्रकाश-संश्लेषण करने वाले एककोशिक यूकैरियोटी जीव को आप किस जगत में रखेंगे?
3. वर्गीकरण के विभिन्न पदानुक्रमों में किस समूह में सर्वाधिक समान लक्षण वाले सबसे कम जीवों को और किस समूह में सबसे ज्यादा संख्या में जीवों को रखा जाएगा?



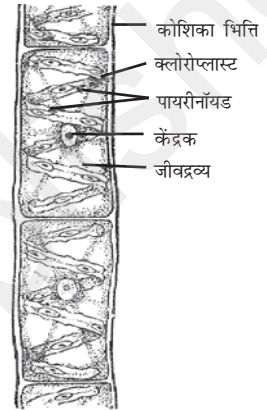
यूलोथ्रिक्स



क्लैडोफोरा



अल्वा



स्पाइरोगाइरा

7.4 प्लांटी

पौधों में प्रथम स्तर का वर्गीकरण इन तथ्यों पर आधारित है कि पादप शरीर के प्रमुख घटक पूर्णरूपेण विकसित एवं विभेदित हैं, अथवा नहीं। वर्गीकरण का अगला स्तर पादप शरीर में जल और अन्य पदार्थों को संवहन करने वाले विशिष्ट ऊतकों की उपस्थिति के आधार पर होता है। तत्पश्चात् वर्गीकरण प्रक्रिया के अंतर्गत यह देखा जाता है कि पौधे में बीजधारण की क्षमता है अथवा नहीं। यदि बीजधारण की क्षमता है तो बीज फल के अंदर विकसित है, अथवा नहीं।

7.4.1 थैलोफ्राइटा

इन पौधों की शारीरिक संरचना में विभेदीकरण नहीं पाया जाता है। इस वर्ग के पौधों को समान्यतया शैवाल कहा जाता है। ये मुख्य रूप से जल में पाए जाते हैं। उदाहरणार्थ, यूलोथ्रिक्स, स्पाइरोगाइरा, कारा इत्यादि (चित्र 7.5 देखें)।



कारा

चित्र 7.5: थैलोफ्राइटा (शैवाल)

7.4.2 ब्रायोफ़ाइटा

इस वर्ग के पौधों को पादप वर्ग का उभयचर कहा जाता है। यह पादप, तना और पत्तों जैसी संरचना में विभाजित होता है। इसमें पादप शरीर के एक भाग से दूसरे भाग तक जल तथा दूसरी चीज़ों के संवहन के लिए विशिष्ट ऊतक नहीं पाए जाते हैं। उदाहरणार्थ, मॉस (फ्यूनेरिया), मार्केशिया (चित्र 7.6 देखें)।



चित्र 7.6: कुछ सामान्य ब्रायोफ़ाइटा

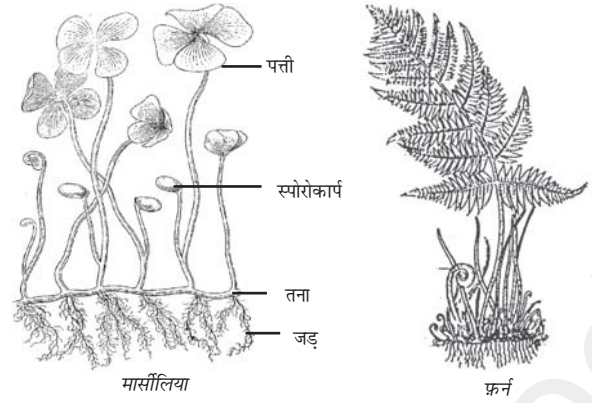
7.4.3 टेरिडोफ़ाइटा

इस वर्ग के पौधों का शरीर जड़, तना तथा पत्ती में विभाजित होता है। इनमें शरीर के एक भाग से दूसरे भाग तक जल तथा अन्य पदार्थों के संवहन के लिए संवहन ऊतक भी पाए जाते हैं। उदाहरणार्थ- मार्सीलिया, फ़र्न, हॉर्स-टेल इत्यादि।

थैलोफ़ाइटा, ब्रायोफ़ाइटा और टेरिडोफ़ाइटा में नग्न भ्रूण पाए जाते हैं, जिन्हें बीजाणु (spore) कहते हैं। इन तीन समूह के पौधों में जननांग अप्रत्यक्ष होते हैं तथा इनमें बीज उत्पन्न करने की क्षमता नहीं होती है। अतः ये क्रिप्टोगैम कहलाते हैं।

दूसरी ओर, वे पौधे जिनमें जनन ऊतक पूर्ण विकसित एवं विभेदित होते हैं तथा जनन प्रक्रिया के पश्चात् बीज उत्पन्न करते हैं, फ़ैनरोगैम कहलाते हैं।

जीवों में विविधता



चित्र 7.7: कुछ टेरिडोफ़ाइटा


बीज के अंदर भ्रूण के साथ संचित खाद्य पदार्थ होता है, जिसका उपयोग भ्रूण के प्रारंभिक विकास एवं अंकुरण के समय होता है। बीज की अवस्था के आधार पर इस वर्ग के पौधों को पुनः दो वर्गों में विभक्त किया जाता है।

जिम्नोस्पर्म: नग्न बीज उत्पन्न करने वाले पौधे

एंजियोस्पर्म: फल के अंदर (बंद) बीज उत्पन्न करने वाले पौधे।

7.4.4 जिम्नोस्पर्म

यह शब्द दो ग्रीक शब्दों जिम्नो तथा स्पर्मा से मिल कर बना है, जिसमें जिम्नो का अर्थ है नग्न तथा स्पर्मा का अर्थ है बीज अर्थात् इन्हें नग्नबीजी पौधे भी कहा जाता है। ये पौधे बहुवर्षी सदाबहार तथा काष्ठीय होते हैं। उदाहरणार्थ- पाइनस तथा साइकस (चित्र 7.8 देखें)।



चित्र 7.8: कुछ नग्नबीजी (जिम्नोस्पर्म)

7.4.5 एंजियोस्पर्म

यह दो ग्रीक शब्दों 'एंजियो और स्पर्मा' से मिलकर बना है। एंजियो का अर्थ है ढका हुआ और स्पर्मा का अर्थ है बीज, अर्थात् इन पौधों के बीज फलों के अंदर ढके होते हैं। इनके बीजों का विकास अंडाशय के अंदर होता है, जो बाद में फल बन जाता है। इन्हें पुष्पी पादप भी कहा जाता है। इनमें भोजन का संचय

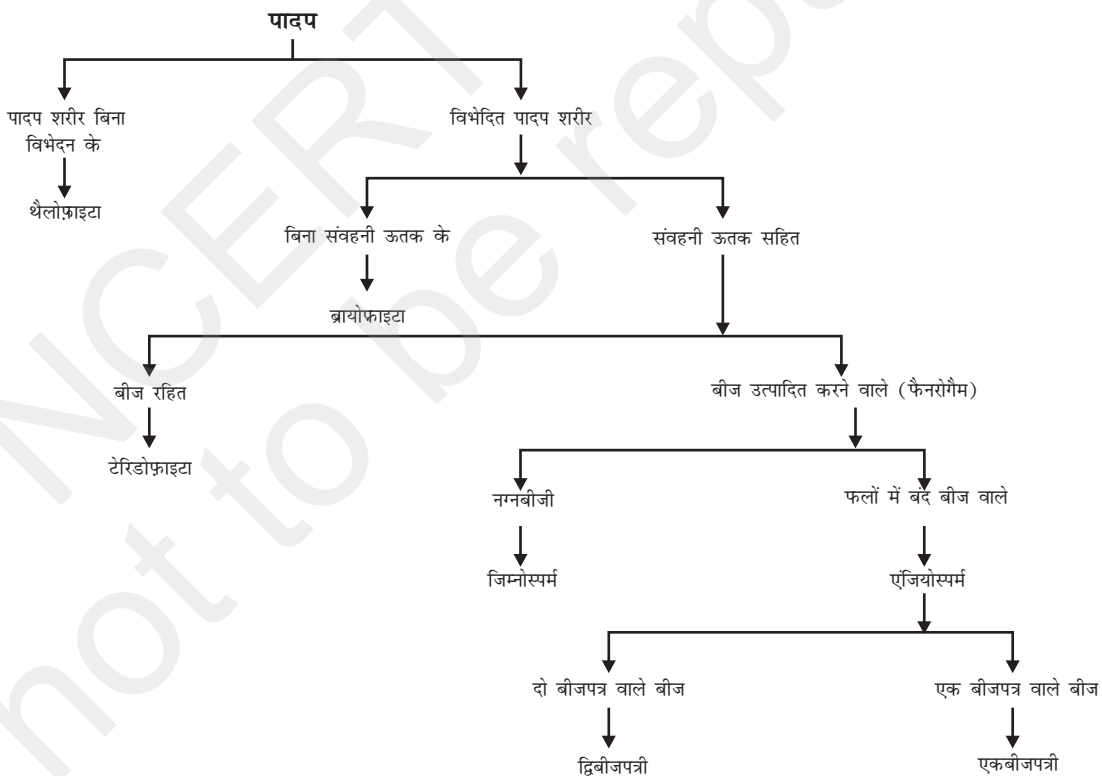


चित्र 7.9: एकबीजपत्री (पैफियोपेडिलम)

या तो बीजपत्रों में होता है या फिर भ्रूणपोष में। बीजपत्रों की संख्या के आधार पर एंजियोस्पर्म वर्ग को दो भागों में बाँटा गया है - एक बीजपत्र वाले पौधों को एकबीजपत्री और दो बीजपत्र वाले पौधों को द्विबीजपत्री कहा जाता है (चित्र 7.9 एवं 7.10 देखें)। पौधों के वर्गीकरण का आलेख चित्र 7.11 में दर्शाया गया है।



चित्र 7.10: द्विबीजपत्री (आइपोमिया)



चित्र 7.11: पादपों का वर्गीकरण

क्रियाकलाप 7.2

- भिगोए हुए चने, गेहूँ, मक्का, मटर और इमली के बीज लीजिए। भीगे हुए बीज जल अवशोषण के कारण नरम हो जाते हैं। इन बीजों को दो भाग में बाँटने का प्रयास कीजिए। क्या इनमें सभी के बीज फटकर दो बराबर भागों में बँट जाते हैं?
- जिन बीजों में दो दालें दिखाई देती हैं, वे द्विबीजपत्री और जो नहीं फूटते और दालें नहीं दिखाई देती, वे एकबीजपत्री कहलाते हैं। अब इन पौधों की जड़ों, पत्तियों और फूलों को देखें—
- क्या ये जड़ें मूसला हैं या फिर रेशेदार?
- क्या पत्तियों में समानांतर अथवा जालिकावत् शिरा विन्यास है?
- इन पौधों के फूलों में कितनी पंखुड़ियाँ हैं?
- क्या आप एक बीजपत्री और द्विबीजपत्री पौधों के और अधिक लक्षण अपने अवलोकन के आधार पर लिख सकते हैं?

प्रश्न

1. सरलतम पौधों को किस वर्ग में रखा गया है?
2. टेरेडोफ्राइट और फैनरोगैम में क्या अंतर है?
3. जिम्नोस्पर्म और एंजियोस्पर्म एक-दूसरे से किस प्रकार भिन्न हैं?

7.5 एनिमेलिया

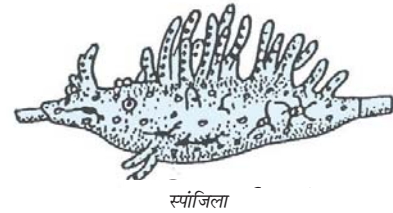
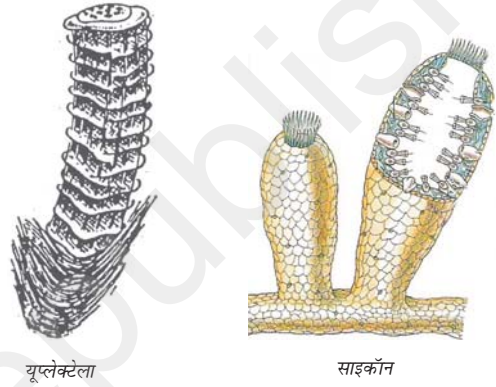
इस वर्ग में यूकैरियोटी, बहुकोशिक और विषमपोषी जीवों को रखा गया है। इनकी कोशिकाओं में कोशिका भित्ति नहीं पाई जाती। अधिकतर जंतु चलायमान होते हैं। शारीरिक संरचना एवं विभेदीकरण के आधार पर इनका आगे वर्गीकरण किया गया है।

7.5.1 पोरीफेरा

पोरीफेरा का अर्थ— छिद्र युक्त जीवधारी है। ये अचल जीव हैं, जो किसी आधार से चिपके रहते हैं। इनके

जीवों में विविधता

पूरे शरीर में अनेक छिद्र पाए जाते हैं। ये छिद्र शरीर में उपस्थित नाल प्रणाली से जुड़े होते हैं, जिसके माध्यम से शरीर में जल, ऑक्सीजन और भोज्य पदार्थों का संचरण होता है। इनका शरीर कठोर आवरण अथवा बाह्य कंकाल से ढका होता है। इनकी शारीरिक संरचना अत्यंत सरल होती है, जिनमें ऊतकों का विभेदन नहीं होता है। इन्हें सामान्यतः स्पंज के नाम से जाना जाता है, जो बहुधा समुद्री आवास में पाए जाते हैं। उदाहरणार्थ, साइकॉन, यूप्लेक्टेला, स्पॉंजिला इत्यादि। कुछ उदाहरण चित्र 7.12 में दर्शाए गए हैं।

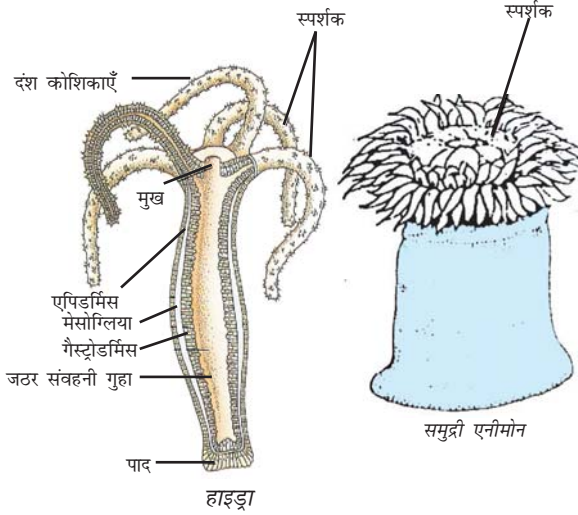


चित्र 7.12: पोरिफेरा

7.5.2 सीलेटरेटा

ये जलीय जंतु हैं। इनका शारीरिक संगठन ऊतकीय स्तर का होता है। इनमें एक देहगुहा पाई जाती है। इनका शरीर कोशिकाओं की दो परतों (आंतरिक एवं बाह्य परत) का बना होता है। इनकी कुछ जातियाँ समूह में रहती हैं, (जैसे - कोरल) और कुछ एकाकी होती हैं।

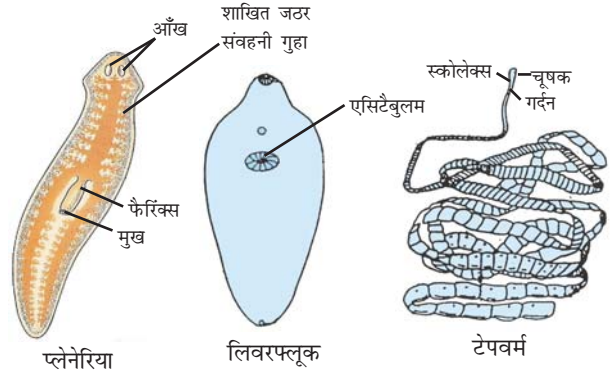
(जैसे - हाइड्रा)। उदाहरणार्थ, हाइड्रा, समुद्री एनीमोन, जेलीफिश इत्यादि (चित्र 7.13 में देखें)।



चित्र 7.13: सीलेंटरेटा

7.5.3 प्लेटीहेल्मिन्थीज

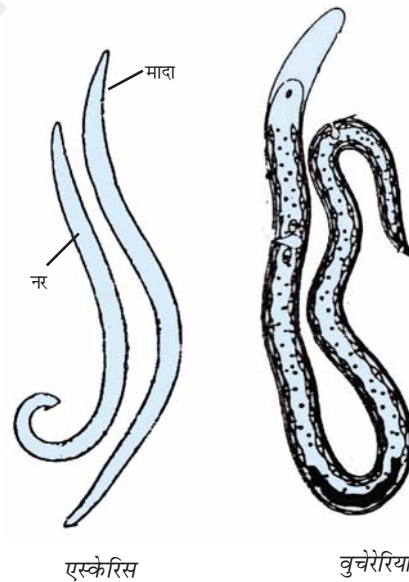
पूर्ववर्णित वर्गों की अपेक्षा इस वर्ग के जंतुओं की शारीरिक संरचना अधिक जटिल होती है। इनका शरीर द्विपार्श्वसममित होता है अर्थात् शरीर के दाएँ और बाएँ भाग की संरचना समान होती है। इनका शरीर त्रिकोरक (Triploblastic) होता है अर्थात् इनका ऊतक विभेदन तीन कोशिकीय स्तरों से हुआ है। इससे शरीर में बाह्य तथा आंतरिक दोनों प्रकार के अस्तर बनते हैं तथा इनमें कुछ अंग भी बनते हैं। इनमें वास्तविक देहगुहा का अभाव होता है जिसमें सुविकसित अंग व्यवस्थित हो सकें। इनका शरीर पृष्ठधारीय एवं चपटा होता है। इसलिए इन्हें चपटे कृमि भी कहा जाता है। इनमें प्लेनेरिया जैसे कुछ स्वच्छंद जंतु तथा लिवरफ्लूक, जैसे परजीवी हैं। उदाहरण के लिए चित्र 7.14 देखें।



चित्र 7.14: कुछ प्लेटीहेल्मिन्थीज

7.5.4 निमेटोडा

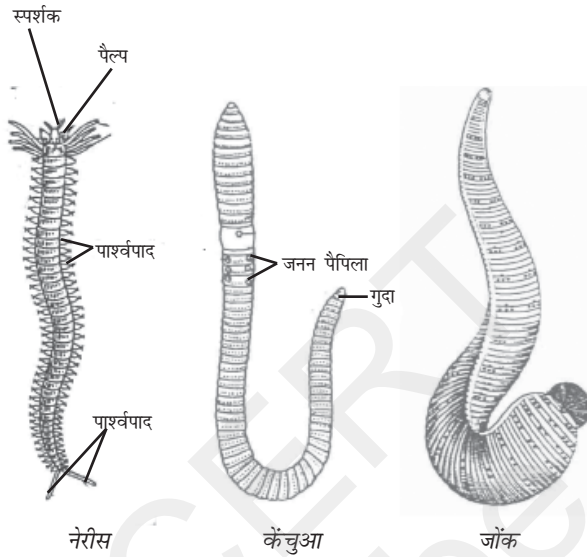
ये भी त्रिकोरक जंतु हैं तथा इनमें भी द्विपार्श्व सममिति पाई जाती है, लेकिन इनका शरीर चपटा ना होकर बेलनाकार होता है। इनके देहगुहा को कूटसीलोम कहते हैं। इसमें ऊतक पाए जाते हैं परंतु अंगतंत्र पूर्ण विकसित नहीं होते हैं। इनकी शारीरिक संरचना भी त्रिकोरिक होती है। ये अधिकांशतः परजीवी होते हैं। परजीवी के तौर पर ये दूसरे जंतुओं में रोग उत्पन्न करते हैं। उदाहरणार्थ- गोल कृमि, फाइलेरिया कृमि, पिन कृमि इत्यादि। कुछ उदाहरण चित्र 7.15 में दिखाए गए हैं।



चित्र 7.15: कुछ निमेटोड (एस्कहेल्मिन्थीज)

7.5.5 एनीलिडा

एनीलिड जंतु द्विपार्श्वसममित एवं त्रिकोरिक होते हैं। इनमें वास्तविक देहगुहा भी पाई जाती है। इससे वास्तविक अंग शारीरिक संरचना में निहित रहते हैं। अतः अंगों में व्यापक भिन्नता होती है। यह भिन्नता इनके शरीर के सिर से पूँछ तक एक के बाद एक खंडित रूप में उपस्थित होती है। जलीय एनीलिड अलवण एवं लवणीय जल दोनों में पाए जाते हैं। इनमें संवहन, पाचन, उत्सर्जन और तंत्रिका तंत्र पाए जाते हैं। ये जलीय और स्थलीय दोनों होते हैं। उदाहरणार्थ, केंचुआ, नेरीस, जोंक इत्यादि (चित्र 7.16 देखें)।

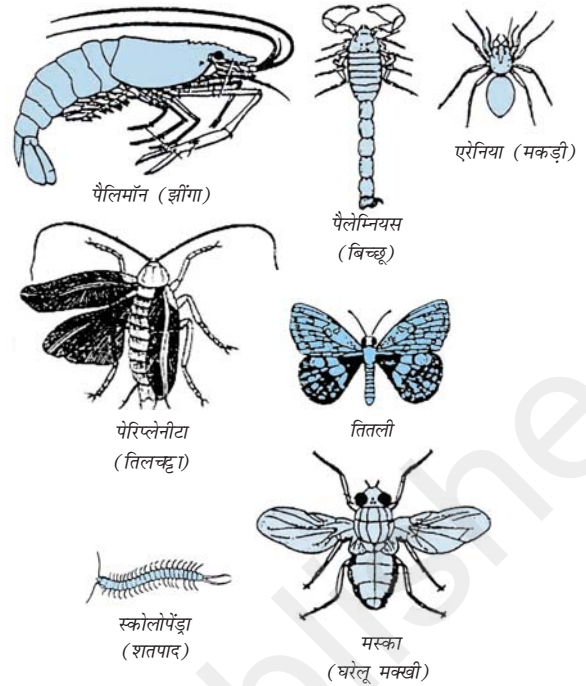


चित्र 7.16: कुछ एनीलिड जंतु

7.5.6 आर्थ्रोपोडा

यह जंतु जगत का सबसे बड़ा संघ है। इनमें द्विपार्श्व सममिति पाई जाती है और शरीर खंडयुक्त होता है। इनमें खुला परिसंचरण तंत्र पाया जाता है। अतः रुधिर वाहिकाओं में नहीं बहता। देहगुहा रक्त से भरी होती है। इनमें जुड़े हुए पैर पाए जाते हैं। कुछ सामान्य उदाहरण हैं- झींगा, तितली, मक्खी, मकड़ी, बिच्छू केकड़े इत्यादि (चित्र 7.17 देखें)।

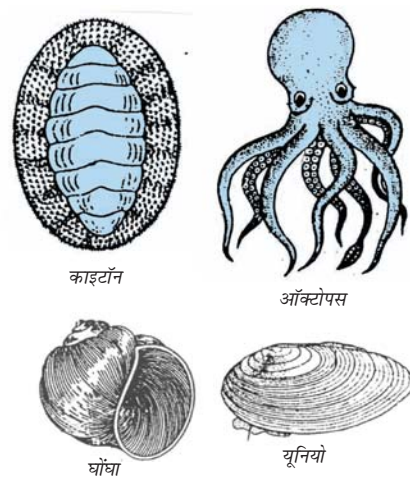
जीवों में विविधता



चित्र 7.17: कुछ आर्थ्रोपोड जंतु

7.5.7 मोलस्का

इनमें भी द्विपार्श्वसममिति पाई जाती है। इनकी देहगुहा बहुत कम होती है तथा शरीर में थोड़ा विखंडन होता है। अधिकांश मोलस्क जंतुओं में कवच पाया जाता है। इनमें खुला संवहनी तंत्र तथा उत्सर्जन के लिए गुर्दे जैसी संरचना पाई जाती है। उदाहरणार्थ, घोंघा, सीप इत्यादि (चित्र 7.18 देखें)।



चित्र 7.18: कुछ मोलस्क जंतु

7.5.8 इकाइनोडर्मेटा

ग्रीक में इकाइनॉस का अर्थ है, जाहक (हेजहॉग) तथा डर्मा का अर्थ है, त्वचा। अतः इन जंतुओं की त्वचा काँटों से आच्छादित होती है। ये मुक्तजीवी समुद्री जंतु हैं। ये देहगुहायुक्त त्रिकोरिक जंतु हैं। इनमें विशिष्ट जल संवहन नाल तंत्र पाया जाता है, जो उनके चलन में सहायक हैं। इनमें कैल्सियम कार्बोनेट का कंकाल एवं काँटे पाए जाते हैं। उदाहरणार्थ- स्टारफिश, समुद्री अर्चिन, इत्यादि (चित्र 7.19 देखें)।

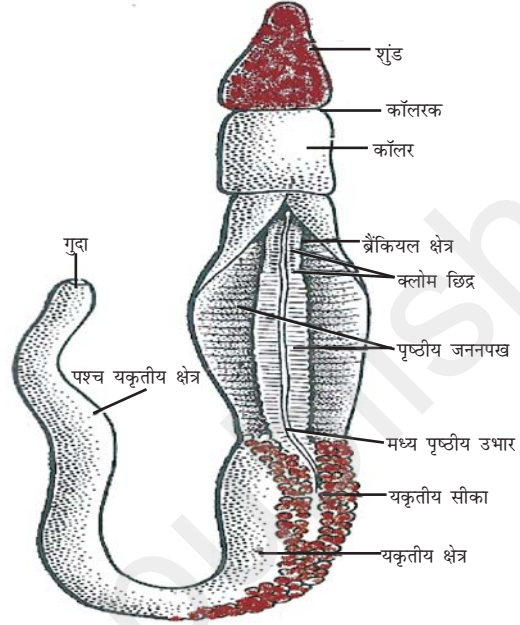


चित्र 7.19: कुछ इकाइनोडर्म जंतु

7.5.9 प्रोटोकॉर्डेटा

ये द्विपार्श्वसममित, त्रिकोरिक एवं देहगुहा युक्त जंतु हैं। इसके अतिरिक्त ये शारीरिक संरचनाओं के कुछ नए लक्षण दर्शाते हैं, जैसे कि नोटोकॉर्ड। ये नए लक्षण इनके जीवन की कुछ अवस्थाओं में निश्चित रूप से उपस्थित होती है। नोटोकॉर्ड छड़ की तरह की एक लंबी संरचना है जो जंतुओं के पृष्ठ भाग पर पाई जाती है। यह तंत्रिका ऊतक को आहार नाल से अलग करती है। यह पेशियों के जुड़ने का स्थान भी प्रदान

करती है जिससे चलन में आसानी हो। प्रोटोकॉर्डेट जंतुओं में जीवन की सभी अवस्थाओं में नोटोकॉर्ड नहीं उपस्थित रह सकता है। ये समुद्री जंतु हैं। उदाहरणार्थ, बैलैनाग्लोसस, हर्डमेनिया, एम्फियोक्सस, इत्यादि (चित्र 7.20 देखें)।



चित्र 7.20: एक प्रोटोकॉर्डेट (बैलैनाग्लोसस)

7.5.10 वर्टीब्रेटा (कशेरुकी)

इन जंतुओं में वास्तविक मेरुदंड एवं अंतःकंकाल पाया जाता है। इस कारण जंतुओं में पेशियों का वितरण अलग होता है एवं पेशियाँ कंकाल से जुड़ी होती हैं, जो इन्हें चलने में सहायता करती हैं।

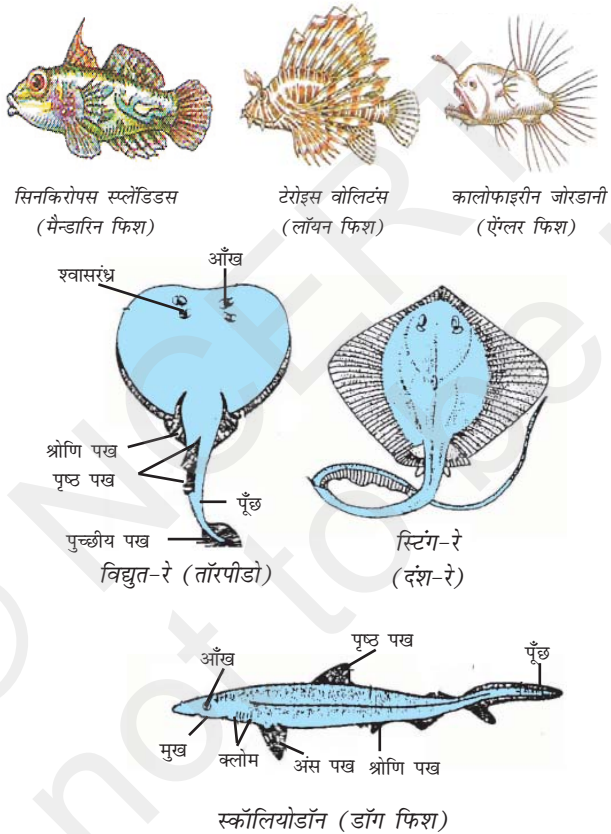
वर्टीब्रेट द्विपार्श्वसममित, त्रिकोरिक, देहगुहा वाले जंतु हैं। इनमें ऊतकों एवं अंगों का जटिल विभेदन पाया जाता है। सभी कशेरुकी जीवों में निम्नलिखित लक्षण पाए जाते हैं —

- नोटोकॉर्ड
- पृष्ठनलीय कशेरुक दंड एवं मेरुरज्जु
- त्रिकोरिक शरीर
- युग्मित क्लोम थैली
- देहगुहा

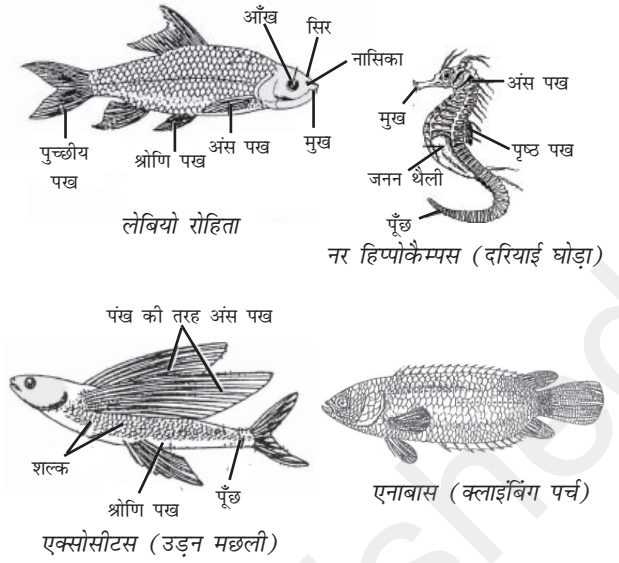
वर्टीब्रेटा को पाँच वर्गों में विभाजित किया गया है—

7.5.10 (i) मत्स्य

ये मछलियाँ हैं, जो समुद्र और मीठे जल दोनों जगहों पर पाई जाती हैं। इनकी त्वचा शल्क (scales) अथवा प्लेटों से ढकी होती है तथा ये अपनी मांसल पूँछ का प्रयोग तैरने के लिए करती हैं। इनका शरीर धारारेखीय होता है। इनमें श्वसन क्रिया के लिए क्लोम पाए जाते हैं, जो जल में विलीन ऑक्सीजन का उपयोग करते हैं। ये असमतापी होते हैं तथा इनका हृदय द्विकक्षीय होता है। ये अंडे देती हैं। कुछ मछलियों में कंकाल केवल उपास्थि का बना होता है; जैसे- शार्क। अन्य प्रकार की मछलियों में कंकाल अस्थि का बना होता है; जैसे - ट्युना, रोहू। उदाहरण के लिए चित्र 7.21(a) तथा 7.21(b) देखें।




चित्र 7.21 (a): कुछ मत्स्य



चित्र 7.21 (b): कुछ मत्स्य

7.5.10 (ii) जल-स्थलचर (Amphibia)

ये मत्स्यों से भिन्न होते हैं क्योंकि इनमें शल्क नहीं पाए जाते। इनकी त्वचा पर श्लेष्म ग्रंथियाँ पाई जाती हैं तथा हृदय त्रिकक्षीय होता है। इनमें बाह्य कंकाल नहीं होता है। वृक्क पाए जाते हैं। श्वसन क्लोम अथवा फेफड़ों द्वारा होता है। ये अंडे देने वाले जंतु हैं। ये जल तथा स्थल दोनों पर रह सकते हैं। उदाहरण- मेंढक, सैलामेंडर, टोड इत्यादि (चित्र 7.22 देखें)।



चित्र 7.22: कुछ जल-स्थलचर जंतु

7.5.10 (iii) सरीसृप


ये असमतापी जंतु हैं। इनका शरीर शल्कों द्वारा ढका होता है। इनमें श्वसन फेफड़ों द्वारा होता है। हृदय सामान्यतः त्रिकक्षीय होता है, लेकिन मगरमच्छ का हृदय चार कक्षीय होता है। वृक्क पाया जाता है। ये भी अंडे देने वाले प्राणी हैं। इनके अंडे कठोर कवच से ढके होते हैं तथा जल-स्थलचर की तरह इन्हें जल में अंडे देने की आवश्यकता नहीं पड़ती है। उदाहरणार्थ- कछुआ, साँप, छिपकली, मगरमच्छ (चित्र 7.23 देखें)।



चित्र 7.23: कुछ सरीसृप

7.5.10 (iv) पक्षी

ये समतापी प्राणी हैं। इनका हृदय चार कक्षीय होता है। इनके दो जोड़ी पैर होते हैं। इनमें आगे वाले दो पैर उड़ने के लिए पंखों में परिवर्तित हो जाते हैं। शरीर परों से ढका होता है। श्वसन फेफड़ों द्वारा होता है। इस वर्ग में सभी पक्षियों को रखा गया है (उदाहरण के लिए चित्र 7.24 देखें)।



चित्र 7.24: कुछ पक्षी

7.5.10 (घ) स्तनपायी

ये समतापी प्राणी हैं। हृदय चार कक्षीय होता है। इस वर्ग के सभी जंतुओं में नवजात के पोषण के लिए दुग्ध ग्रंथियाँ पाई जाती हैं। इनकी त्वचा पर बाल, स्वेद और तेल ग्रंथियाँ पाई जाती हैं। इस वर्ग के जंतु शिशुओं को जन्म देने वाले होते हैं। हालांकि, कुछ जंतु अपवाद स्वरूप अंडे भी देते हैं जैसे इकिडना, प्लेटिपस। कंगारू जैसे कुछ स्तनपायी में अविकसित बच्चे मार्सूपियम नामक थैली में तब तक लटके रहते हैं जब तक कि उनका पूर्ण विकास नहीं हो जाता है। कुछ उदाहरण चित्र 7.25 में दिखाए गए हैं।



चित्र 7.25: कुछ स्तनपायी

प्रश्न

1. पोरीफेरा और सिलेंटेरेटा वर्ग के जंतुओं में क्या अंतर है?
2. एनीलिडा के जंतु, आर्थ्रोपोडा के जंतुओं से किस प्रकार भिन्न हैं?
3. जल-स्थलचर और सरीसृप में क्या अंतर है?
4. पक्षी वर्ग और स्तनपायी वर्ग के जंतुओं में क्या अंतर है?

7.6 नामपद्धति

जीवों के वर्गीकृत नाम की क्या आवश्यकता है?

जीवों में विविधता

केरोलस लीनियस (कार्लवॉन लिने)का जन्म स्वीडन में हुआ था। वे पेशे से डॉक्टर थे लेकिन पौधों के अध्ययन में उनकी खासी दिलचस्पी थी। बाईस वर्ष की आयु में पौधों पर उनका पहला शोधपत्र प्रकाशित हुआ।



केरोलस लीनियस
(1707-1778)

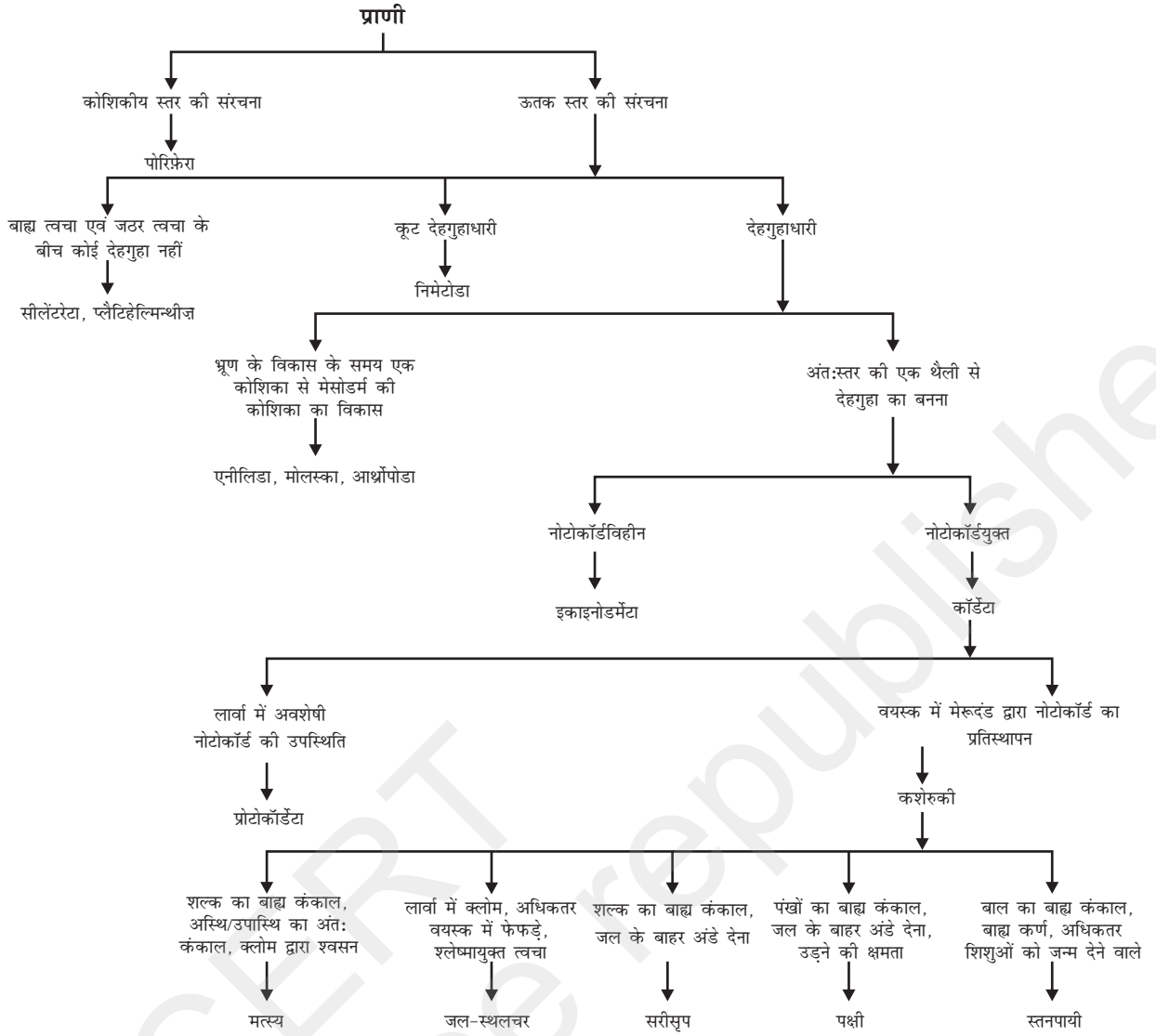
एक धनी अधिकारी के यहाँ नौकरी करते हुए उन्होंने अपने मालिक के बगीचे में पौधों की विविधता का अध्ययन किया। इसके बाद उन्होंने *सिस्टेमा नेचुरी* नामक पुस्तक लिखी, जो आगे चलकर विभिन्न वर्गीकरण प्रणालियों का आधार बनी। इस विषय पर उनके 14 शोधपत्र भी प्रकाशित हुए। उनके द्वारा दी गई वर्गीकरण प्रणाली में पौधों को सरल क्रम में इस प्रकार व्यवस्थित किया जा सकता है जिससे उनकी पहचान हो सके।

क्रियाकलाप 7.3

- निम्नलिखित जंतुओं और पौधों के नाम जितनी भाषाओं में संभव हो सके आप बताएँ—
 1. चीता
 2. मोर
 3. चींटी
 4. नीम
 5. कमल
 6. आलू

इनमें सभी के नाम भिन्न-भिन्न भाषाओं में अलग-अलग दिए गए हैं। इसलिए जब कोई एक भाषा में जीव की बात कर रहा हो तो हो सकता है कि दूसरी भाषा जानने वाला समझ ही न पाए। इस समस्या का हल वैज्ञानिकों ने सभी जीवों को एक वैज्ञानिक नाम देकर उसी प्रकार हल किया जैसे विभिन्न रासायनिक तत्वों को संकेत में निरूपित करके किया गया। इसी प्रकार किसी जीव का केवल एक ही वैज्ञानिक नाम होता है और पूरे संसार में वह उसी नाम से जाना जाता है।

नामपद्धति के लिए हम जिस वैज्ञानिक पद्धति का प्रयोग करते हैं, वह सबसे पहले केरोलस लीनियस द्वारा अठारहवीं शताब्दी में शुरू की गई। वैज्ञानिक



चित्र 7.26: जंतुओं का वर्गीकरण

नामपद्धति प्रणाली जीवों की एक-दूसरे में पायी जाने वाली समानता और असमानता पर निर्भर करती है। हालांकि नामपद्धति में हम जीव के वर्गीकरण के सभी पदानुक्रम को ध्यान में नहीं रखते हैं, बल्कि केवल जीनस एवं स्पीशीज़ का ही ध्यान रखा जाता है। नामपद्धति के लिए कुछ विशेष बातों पर विचार किया जाता है, जैसे-

1. जीनस का नाम अंग्रेजी के बड़े अक्षर से शुरू होना चाहिए।
2. प्रजाति का नाम छोटे अक्षर से शुरू होना चाहिए।

3. छपे हुए रूप में वैज्ञानिक नाम इटैलिक से लिखे जाते हैं।
4. जब इन्हें हाथ से लिखा जाता है तो जीनस और स्पीशीज़ दोनों को अलग-अलग रेखांकित कर दिया जाता है।

क्रियाकलाप _____ 7.4

किन्हीं पाँच जंतुओं और पौधों के वैज्ञानिक नाम का पता लगाइए। क्या इनके वैज्ञानिक नामों और सामान्य नामों में कोई समानता है?



आपने क्या सीखा

- वर्गीकरण जीवों की विविधता को स्पष्ट करने में सहायक होता है।
- जीवों को पाँच जगत में वर्गीकृत करने के लिए निम्न विशेषताओं को ध्यान में रखा जाता है—
 - (a) कोशिकीय संरचना- प्रोकैरियोटी अथवा यूकैरियोटी
 - (b) जीव का शरीर एककोशिक अथवा बहुकोशिक है। बहुकोशिक जीवों की संरचना जटिल होती है।
 - (c) कोशिका भित्ति की उपस्थिति तथा स्वपोषण की क्षमता।
- उपरोक्त आधार पर सभी जीवों को पाँच जगत में बाँटा गया है— मोनेरा, प्रोटिस्टा, कवक (फ़ंजाई), प्लांटी और एनीमेलिया।
- जीवों का वर्गीकरण उनके विकास से संबंधित है।
- प्लांटी और एनिमेलिया को उनकी क्रमिक शारीरिक जटिलता के आधार पर वर्गीकृत किया गया है।
- पौधों को पाँच वर्गों में बाँटा गया है — शैवाल, ब्रायोफ़ाइटा, टेरिडोफ़ाइटा, जिम्नोस्पर्म और एंजियोस्पर्म।
- जंतुओं को दस फ़ाइलम में बाँटा गया है — पोरीफ़ेरा, सीलेंटेरेटा, प्लेटीहेल्मिन्थीज़, निमेटोडा, एनीलिडा, आर्थ्रोपोडा, मोलस्का, इकाइनोडर्मेटा, प्रोटोकॉर्डेटा और कॉर्डेटा।
- द्विपद-नामपद्धति जीवों की सही पहचान में सहायता करती है।
- द्विपद-नामपद्धति में पहला नाम जीनस और दूसरा स्पीशीज़ का होता है।



अभ्यास

1. जीवों के वर्गीकरण से क्या लाभ है?
2. वर्गीकरण में पदानुक्रम निर्धारण के लिए दो लक्षणों में से आप किस लक्षण का चयन करेंगे?
3. जीवों के पाँच जगत में वर्गीकरण के आधार की व्याख्या कीजिए।
4. पादप जगत के प्रमुख वर्ग कौन हैं? इस वर्गीकरण का क्या आधार है?
5. जंतुओं और पौधों के वर्गीकरण के आधारों में मूल अंतर क्या है?
6. वर्टीब्रेटा (कशेरुक प्राणी) को विभिन्न वर्गों में बाँटने के आधार की व्याख्या कीजिए।

अध्याय 8

गति (Motion)

दैनिक जीवन में हम कुछ वस्तुओं को विरामावस्था में तथा कुछ वस्तुओं को गतिमान अवस्था में देखते हैं। पक्षी उड़ते हैं, मछलियाँ तैरती हैं, रक्त का प्रवाह शिराओं और धमनियों में होता है तथा मोटरगाड़ियाँ चलती हैं। परमाणु, अणु, ग्रह, तारे और आकाशगंगाएँ सभी गतिमान हैं। हम प्रायः यह समझते हैं कि कोई वस्तु गति में तभी है जब वह समय के साथ अपनी स्थिति को परिवर्तित करती है। तथापि ऐसी कई अवस्थाएँ हैं, जिनमें गति के अस्तित्व के अप्रत्यक्ष साक्ष्य हैं। उदाहरण के लिए, हम हवा की गति का अनुमान धूल-कणों के उड़ने व पेड़ों की शाखाओं और पत्तियों के हिलने-डुलने से लगाते हैं। सूर्योदय, सूर्यास्त एवं मौसम परिवर्तन की परिघटनाओं के क्या कारण हैं? क्या यह पृथ्वी की गति के कारण हैं? यदि यह सही है तो हम पृथ्वी की गति का अनुमान प्रत्यक्ष रूप से क्यों नहीं लगा पाते हैं?

किसी व्यक्ति के लिए एक वस्तु गतिशील प्रतीत हो सकती है, जबकि दूसरे के लिए स्थिर। गति कर रही बस के यात्रियों के लिए, सड़क के किनारे लगे पेड़-पौधे पीछे की ओर गतिमान प्रतीत होते हैं। जबकि सड़क के किनारे खड़ा एक व्यक्ति बस के साथ यात्रियों को भी गति करते हुए पाता है। यद्यपि बस के अंदर बैठा हुआ एक यात्री अपने साथी यात्रियों को विरामावस्था में पाता है। ये अवलोकन क्या संकेत करते हैं?

बहुत-सी गतियाँ जटिल होती हैं। कुछ वस्तुएँ सीधी रेखा में, तो कुछ वस्तुएँ वृत्तीय पथ पर गतिमान

हो सकती हैं। कुछ घूर्णन कर सकती हैं एवं कुछ कंपन कर सकती हैं। ऐसी भी स्थिति हो सकती है जिसमें ये क्रियाएँ साथ-साथ हों। इस अध्याय में हम सबसे पहले सीधी रेखा में गतिमान वस्तुओं का वर्णन करेंगे। हम इस तरह की गति को साधारण समीकरणों और ग्राफों के माध्यम से व्यक्त करना भी सीखेंगे। बाद में, हम वृत्तीय गति के बारे में चर्चा करेंगे।

क्रियाकलाप _____ 8.1

- आपकी कक्षा की दीवार विरामावस्था में है या गति में, चर्चा करें।

क्रियाकलाप _____ 8.2

- क्या आपने कभी अनुभव किया है कि रेलगाड़ी, जिसमें आप बैठे हैं, गति करती हुई प्रतीत होती है जबकि वास्तव में वह विरामावस्था में है? इस बिंदु पर चर्चा करें और विचारों का आदान-प्रदान करें।

सोचें एवं करें

हम कभी-कभी अपने आस-पास की वस्तुओं की गति के कारण खतरों में घिर जाते हैं; विशेषतः यदि वह गति अनिश्चित व अनियंत्रित हो, जैसे- बाढ़ वाली नदी, तूफान या सुनामी में देखा गया है। दूसरी ओर, नियंत्रित गति मानव की सेवा में सहायक हो सकती है, जैसे- पानी के द्वारा विद्युत उत्पादन। क्या आप महसूस करते हैं कि कुछ वस्तुओं की अनियमित गति का अध्ययन करना तथा उन्हें नियंत्रित करने के विषय में जानना आवश्यक है?

8.1 गति का वर्णन

हम किसी वस्तु की स्थिति को, एक निर्देश बिंदु निर्धारित कर, व्यक्त करते हैं। आइए, हम इसे एक उदाहरण के द्वारा समझें। माना किसी गाँव में एक स्कूल रेलवे स्टेशन से 2 km उत्तर दिशा में है। हमने स्कूल की स्थिति को रेलवे स्टेशन के सापेक्ष निर्धारित किया है। इस उदाहरण में रेलवे स्टेशन निर्देश बिंदु है। हम दूसरे निर्देश बिंदुओं का भी अपनी सुविधानुसार चयन कर सकते हैं। इसलिए किसी वस्तु की स्थिति को बताने के लिए हमें एक निर्देश बिंदु की आवश्यकता होती है, जिसे मूल बिंदु कहा जाता है।

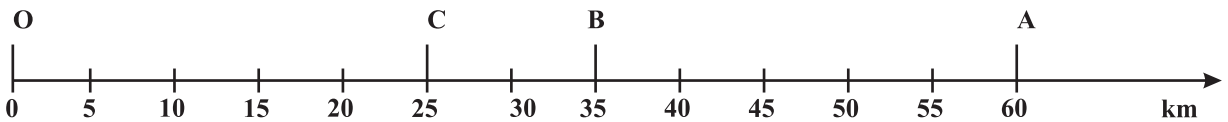
8.1.1 सरल रेखीय गति

गति का सबसे साधारण प्रकार सरल रेखीय गति है। हमें सबसे पहले एक उदाहरण के द्वारा इसे व्यक्त करना सीखना होगा। माना कोई वस्तु सरल रेखीय पथ पर गतिमान है। वस्तु अपनी गति बिंदु 'O' से प्रारंभ करती है, जिसे निर्देश बिंदु माना जा सकता है (चित्र 8.1)। माना कि भिन्न-भिन्न क्षणों में A, B और C वस्तु की स्थितियों को प्रदर्शित करते हैं। पहले यह C और B से गुजरती है तथा A पर पहुँचती है। इसके पश्चात् यह उसी पथ पर लौटती है और B से गुजरते हुए C तक पहुँचती है।

वस्तु के द्वारा तय की गई कुल दूरी $OA + AC$ है, अर्थात्, $60 \text{ km} + 35 \text{ km} = 95 \text{ km}$ । यह वस्तु के द्वारा तय की गई दूरी है। किसी वस्तु की दूरी को निर्धारित करने के लिए हमें केवल अंकीय मान की

आवश्यकता होती है, न कि गति की दिशा की। कुछ ऐसी राशियाँ होती हैं, जिन्हें केवल उनके अंकीय मान द्वारा व्यक्त किया जा सकता है। किसी भौतिक राशि का अंकीय मान उसका परिमाण है। इस उदाहरण के द्वारा क्या आप वस्तु के प्रारंभिक स्थिति O से उसकी अंतिम स्थिति C तक की दूरी ज्ञात कर सकते हैं? यह दूरी आपको, A से गुजरते हुए O से C तक के विस्थापन का अंकीय मान देगा। वस्तु की प्रारंभिक व अंतिम स्थिति के बीच की न्यूनतम दूरी को वस्तु का विस्थापन कहते हैं।

क्या विस्थापन का परिमाण वस्तु के द्वारा तय की गई दूरी के बराबर हो सकता है? चित्र 8.1 में दिए गए उदाहरण को लें। O से A तक वस्तु की गति के लिए तय की गई दूरी 60 km है तथा विस्थापन का परिमाण भी 60 km है। O से A तथा पुनः B तक गति के दौरान तय की गई दूरी = $60 \text{ km} + 25 \text{ km} = 85 \text{ km}$, जबकि विस्थापन का परिमाण 35 km होगा। इसलिए विस्थापन का परिमाण (35 km) तय की गई दूरी (85 km) के बराबर नहीं होगा। पुनः हम देखेंगे कि गति के दौरान विस्थापन का परिमाण शून्य (0) हो सकता है परंतु तय की गई दूरी शून्य नहीं होगी। यदि हम मान लेते हैं कि वस्तु गति करते हुए पुनः O तक जाती है, तो प्रारंभिक स्थिति और अंतिम स्थिति आपस में मिल जाती हैं। अतः विस्थापन शून्य है। यद्यपि इस यात्रा में तय की गई दूरी $OA + AO = 60 \text{ km} + 60 \text{ km} = 120 \text{ km}$ है। इस प्रकार



चित्र 8.1: किसी सरल रेखीय पथ पर गतिमान वस्तु की स्थितियाँ

दो विभिन्न भौतिक राशियों — दूरी एवं विस्थापन का प्रयोग वस्तु की पूरी गति प्रक्रिया को व्यक्त करने में तथा दिए गए समय में वस्तु की प्रारंभिक स्थिति के सापेक्ष अंतिम स्थिति ज्ञात करने में किया जाता है।

क्रियाकलाप _____ 8.3

- एक मीटर स्केल और एक लंबी रस्सी लीजिए। बास्केट बॉल कोर्ट के एक कोने से दूसरे कोने तक उसके किनारे से होते हुए जाएँ।
- अपने द्वारा तय की गई दूरी और विस्थापन के परिमाण को मापें।
- दोनों भौतिक राशियों के मापन में आप क्या अंतर पाते हैं?

क्रियाकलाप _____ 8.4

- स्वचलित वाहनों में एक यंत्र लगा होता है जो उनके द्वारा तय की गई दूरी को प्रदर्शित करता है। इस यंत्र को ओडोमीटर कहते हैं। एक कार को भुवनेश्वर से नयी दिल्ली ले जाया जाता है। ओडोमीटर के अंतिम पाठ्यांक और आरंभिक पाठ्यांकों के बीच का अंतर 1850 km है।
- भारत के सड़क मानचित्र की सहायता से भुवनेश्वर तथा नयी दिल्ली के बीच के विस्थापन के परिमाण को ज्ञात करें।

प्रश्न

1. एक वस्तु के द्वारा कुछ दूरी तय की गई। क्या इसका विस्थापन शून्य हो सकता है? अगर हाँ, तो अपने उत्तर को उदाहरण के द्वारा समझाएँ।
2. एक किसान 10 m की भुजा वाले एक वर्गाकार खेत की सीमा पर 40 s में चक्कर लगाता है। 2 minute 20 s के बाद किसान के विस्थापन का परिमाण क्या होगा?
3. विस्थापन के लिए निम्न में कौन सही है?
 - (a) यह शून्य नहीं हो सकता है।
 - (b) इसका परिमाण वस्तु के द्वारा तय की गई दूरी से अधिक है।

8.1.2 एकसमान गति और असमान गति

माना कि एक वस्तु एक सीधी रेखा पर चल रही है। माना पहले 1 सेकंड में यह 50 m, दूसरे सेकंड में 50 m, तीसरे सेकंड में 50 m तथा चौथे सेकंड में 50 m दूरी तय करती है। इस स्थिति में वस्तु प्रत्येक सेकंड में 50 m की दूरी तय करती है क्योंकि वस्तु समान समयांतराल में समान दूरी तय करती है तो उसकी गति को एकसमान गति कहते हैं। इस तरह की गति में समयांतराल छोटा होना चाहिए। हम दैनिक जीवन में कई बार देखते हैं कि वस्तुओं के द्वारा समान समयांतराल में असमान दूरी तय की जाती है। उदाहरण के लिए, भीड़ वाली सड़क पर जा रही कार या पार्क में दौड़ रहा एक व्यक्ति। ये असमान गति के कुछ उदाहरण हैं।

क्रियाकलाप _____ 8.5

- दो वस्तुओं A तथा B की गति से संबंधित आँकड़ों को सारणी 8.1 में दिया गया है।
- ध्यान से देखें और बताएँ कि वस्तुओं की गति एकसमान है या असमान।

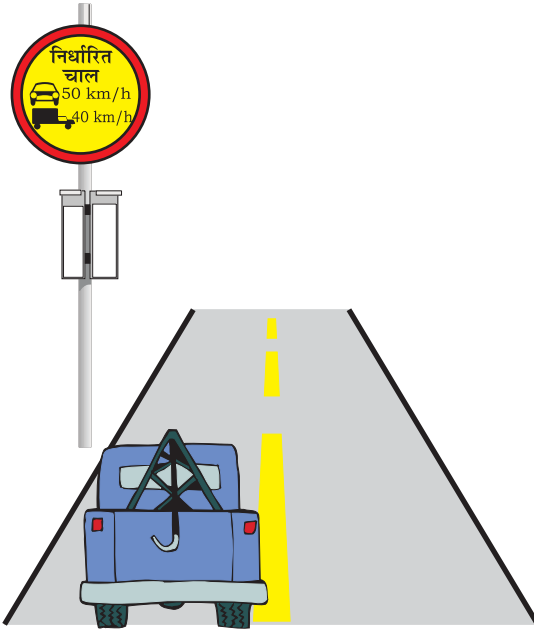
सारणी 8.1

समय	वस्तु A के द्वारा तय की गई दूरी मीटर में	वस्तु B के द्वारा तय की गई दूरी मीटर में
9:30 am	10	12
9:45 am	20	19
10:00 am	30	23
10:15 am	40	35
10:30 am	50	37
10:45 am	60	41
11:00 am	70	44

8.2 गति की दर का मापन



(a)



(b)

चित्र 8.2

चित्र 8.2 में दी गयी स्थिति को देखें। चित्र 8.2 (a) में यदि गेंद की गति 143 km/h है, तो इसका क्या अर्थ है? चित्र 8.2(b) में दिए गए साइन बोर्ड से आप क्या समझते हैं?

किसी दी गई निश्चित दूरी को तय करने के लिए अलग-अलग वस्तुएँ अलग-अलग समय लेंगी। इनमें

गति

से कुछ तेज चलती हैं तो कुछ धीमे। वस्तुओं की गति करने की दर अलग-अलग हो सकती है। अलग-अलग वस्तुएँ समान दर से भी गति कर सकती हैं। वस्तु द्वारा इकाई समय में तय की गई दूरी के उपयोग से उस वस्तु की गति की दर प्राप्त की जा सकती है। इस राशि को चाल कहा जाता है। चाल का मात्रक मीटर प्रति सेकंड है। यह $m s^{-1}$ चिह्न द्वारा प्रदर्शित की जाती है। चाल का अन्य मात्रक सेंटीमीटर प्रति सेकंड ($cm s^{-1}$) और किलोमीटर प्रति घंटा ($km h^{-1}$)। वस्तु की गति को व्यक्त करने के लिए हमें केवल उसके परिमाण की आवश्यकता होती है। यह आवश्यक नहीं है कि वस्तु की गति नियत हो। अधिकतर अवस्थाओं में वस्तुएँ असमान गति में होंगी। इसलिए हम उन वस्तुओं की गति की दर को उनकी औसत चाल के रूप में व्यक्त करते हैं। वस्तु की औसत चाल उसके द्वारा तय की गई कुल दूरी को कुल समयावधि से भाग देकर प्राप्त किया जा सकता है।

$$\text{औसत चाल} = \frac{\text{तय की गई कुल दूरी}}{\text{कुल समयावधि}}$$

यदि एक वस्तु t समय में s दूरी तय करती है तो इसकी चाल

$$v = \frac{s}{t} \quad (8.1)$$

आइए इसे उदाहरण के द्वारा समझें। एक कार 2 h में 100 km की दूरी तय करती है। इसकी औसत चाल 50 km/h है। कार पूरे समय 50 km/h की चाल से नहीं चली होगी। कुछ समय यह इससे अधिक तो कुछ समय इससे कम चाल से चली होगी।

उदाहरण 8.1 एक वस्तु 16 m की दूरी 4 s में तय करती है तथा पुनः 16 m की दूरी 2 s में तय करती है। वस्तु की औसत चाल क्या होगी?

हल:

$$\begin{aligned} \text{वस्तु के द्वारा तय की गई कुल दूरी} &= 16 \text{ m} + 16 \text{ m} = 32 \text{ m} \\ \text{लिया गया कुल समय} &= 4 \text{ s} + 2 \text{ s} = 6 \text{ s} \\ \text{औसत चाल} &= \frac{\text{तय की गई कुल दूरी}}{\text{लिया गया समय}} \\ &= \frac{32 \text{ m}}{6 \text{ s}} = 5.33 \text{ m s}^{-1} \end{aligned}$$

इसलिए वस्तु की औसत चाल 5.33 m s^{-1} है।

8.2.1 दिशा के साथ चाल

किसी वस्तु की गति की दर और भी अधिक व्यापक हो सकती है अगर हम उसकी चाल के साथ-साथ दिशा को भी व्यक्त करें। वह राशि जो इन दोनों पक्षों को व्यक्त करती है उसे वेग कहा जाता है। अतः, एक निश्चित दिशा में चाल को वेग कहते हैं। किसी वस्तु का वेग समान या असमान हो सकता है। यह वस्तु की चाल, गति की दिशा या दोनों के परिवर्तन के साथ परिवर्तित हो सकती है। जब एक वस्तु सीधी रेखा में बदलती हुई चाल के साथ गति कर रही है, तो हम इसके गति की दर के परिमाण को औसत वेग के द्वारा व्यक्त कर सकते हैं। इसकी गणना औसत चाल की गणना के समान ही होती है।

यदि वस्तु का वेग समान रूप से परिवर्तित हो रहा है, तब दिए गए प्रारंभिक वेग और अंतिम वेग के अंकगणितीय माध्य के द्वारा औसत वेग प्राप्त किया जा सकता है।

$$\begin{aligned} \text{औसत वेग} &= \frac{\text{प्रारंभिक वेग} + \text{अंतिम वेग}}{2} \\ v_{av} &= \frac{u + v}{2} \end{aligned} \quad (8.2)$$

जहाँ v_{av} औसत वेग है, u प्रारंभिक वेग है तथा v वस्तु का अंतिम वेग है। चाल तथा वेग दोनों का मात्रक समान होता है अर्थात्, m s^{-1} या m/s ।

क्रियाकलाप 8.6

- अपने घर से बस स्टॉप या स्कूल जाने में लगे समय को मापिए। यदि आप मान लें कि आपके पैदल चलने की औसत चाल 4 km/h है। तो अपने घर से बस स्टॉप या स्कूल की दूरी का आकलन कीजिए।

क्रियाकलाप 8.7

- जब आसमान में बादल छाए होते हैं, तो बिजली के चमकने और बादलों के गरजने की क्रिया बार-बार हो सकती है। पहले बिजली की चमक दिखाई देती है। उसके कुछ समय पश्चात् बादलों के गरजने की ध्वनि आप तक पहुँचती है।
- क्या आप बता सकेंगे, ऐसा क्यों होता है?
- इनके बीच के समयांतराल को एक डिजिटल कलाई घड़ी या स्टॉप घड़ी से मापें।
- बिजली की चमक के निकटतम बिंदु की दूरी का परिकलन कीजिए। (वायु में ध्वनि की चाल 346 m s^{-1} है।)

प्रश्न

- चाल एवं वेग में अंतर बताइए।
- किस अवस्था में किसी वस्तु के औसत वेग का परिमाण उसकी औसत चाल के बराबर होगा?
- एक गाड़ी का ओडोमीटर क्या मापता है?
- जब वस्तु एकसमान गति में होती है तब इसका मार्ग कैसा दिखाई पड़ता है?
- एक प्रयोग के दौरान, अंतरिक्षयान से एक सिग्नल को पृथ्वी पर पहुँचने में 5 मिनट का समय लगता है। पृथ्वी पर स्थित स्टेशन से उस अंतरिक्षयान की दूरी क्या है? (सिग्नल की चाल = प्रकाश की चाल = $3 \times 10^8 \text{ m s}^{-1}$)

उदाहरण 8.2 यात्रा शुरू होते समय कार का ओडोमीटर 2000 km प्रदर्शित करता है और यात्रा समाप्ति पर 2400 km प्रदर्शित करता

है। यदि इस यात्रा में 8 h लगते हैं, तो कार की औसत चाल को km h^{-1} और m s^{-1} में ज्ञात करें।

हल:

कार के द्वारा तय की गई दूरी
 $s = 2400 \text{ km} - 2000 \text{ km} = 400 \text{ km}$
 दूरी तय करने में लगा कुल समय $t = 8 \text{ h}$
 कार की औसत चाल

$$v_{av} = \frac{s}{t} = \frac{400 \text{ km}}{8 \text{ h}} = 50 \text{ km h}^{-1}$$

$$= 50 \frac{\text{km}}{\text{h}} \times \frac{1000 \text{ m}}{1 \text{ km}} \times \frac{1 \text{ h}}{3600 \text{ s}}$$

$$= 13.9 \text{ m s}^{-1}$$

कार की औसत चाल 50 km h^{-1} अथवा 13.9 m s^{-1} है।

उदाहरण 8.3 ऊषा 90 m लंबे तालाब में तैरती है। वह एक सिरे से दूसरे सिरे तक सरल रेखीय पथ पर जाती है तथा वापस आती है। इस दौरान वह कुल 180 m की दूरी 1 मिनट में तय करती है। ऊषा की औसत चाल और औसत वेग को ज्ञात कीजिए।

हल:

ऊषा द्वारा 1 मिनट में तय की गई कुल दूरी 180 m है।

1 मिनट में ऊषा का विस्थापन = 0 m

$$\text{औसत चाल} = \frac{\text{तय की गई कुल दूरी}}{\text{लिया गया कुल समय}}$$

$$= \frac{180 \text{ m}}{1 \text{ min}} = \frac{180 \text{ m}}{1 \text{ min}} \times \frac{1 \text{ min}}{60 \text{ s}}$$

$$= 3 \text{ m s}^{-1}$$

$$\text{औसत वेग} = \frac{\text{विस्थापन}}{\text{लिया गया कुल समय}}$$

$$= \frac{0 \text{ m}}{60 \text{ s}}$$

$$= 0 \text{ m s}^{-1}$$

अतः ऊषा की औसत चाल 3 m s^{-1} है और औसत वेग 0 m s^{-1} है।

8.3 वेग में परिवर्तन की दर

किसी वस्तु की एकसमान सरल रेखीय गति के दौरान, समय के साथ वेग नियत रहता है। इस अवस्था में किसी भी समयांतराल में वस्तु के वेग में परिवर्तन शून्य है। यद्यपि असमान गति में वेग समय के साथ परिवर्तित होता है। इसका मान विभिन्न समयों पर एवं विभिन्न बिंदुओं पर भिन्न-भिन्न होता है। इस प्रकार, किसी भी समयांतराल पर वस्तु के वेग में परिवर्तन शून्य नहीं होता है। क्या अब हम वस्तु के वेग में परिवर्तन को व्यक्त कर सकते हैं?

इस तरह के प्रश्नों का उत्तर देने के लिए हमें एक अन्य भौतिक राशि त्वरण के बारे में जानना होगा, जो कि एक वस्तु के प्रति इकाई समय में वेग परिवर्तन की माप है।

$$\text{अर्थात्, त्वरण} = \frac{\text{वेग में परिवर्तन}}{\text{लिया गया समय}}$$

यदि एक वस्तु का वेग प्रारंभिक वेग u से t समय में बदलकर v हो जाता है, तो त्वरण निम्न होगा।

$$a = \frac{v - u}{t} \quad (8.3)$$

इस प्रकार की गति को त्वरित गति कहा जाता है। यदि त्वरण, वेग की दिशा में है तो इसे धनात्मक लिया जाता है तथा यदि यह वेग के विपरीत दिशा में है तो इसे ऋणात्मक लिया जाता है। त्वरण का मात्रक m s^{-2} है।

यदि एक वस्तु सीधी रेखा में चलती है और इसका वेग समान समयांतराल में समान रूप से घटता

या बढ़ता है, तो वस्तु के त्वरण को एकसमान त्वरण कहा जाता है। स्वतंत्र रूप से गिर रही एक वस्तु की गति एकसमान त्वरित गति का उदाहरण है। दूसरी ओर, एक वस्तु असमान त्वरण से चल सकती है यदि उसका वेग असमान रूप से बदलता है। उदाहरण के लिए, यदि एक कार सीधी सड़क पर चलते हुए समान समयांतराल में असमान दर से चाल को परिवर्तित करती है, तब कहा जाता है कि कार असमान त्वरण के साथ गतिमान है।

Activity 8.8

- आप दैनिक जीवन में बहुत प्रकार की गतियों को देखते होंगे, जिनमें प्रमुख हैं:
 - (a) गति की दिशा में त्वरण है,
 - (b) त्वरण गति की दिशा के विरुद्ध है,
 - (c) एकसमान त्वरण है, तथा
 - (d) असमान त्वरण है।
- क्या आप ऊपर दिए गए प्रत्येक प्रकार की गति के लिए एक-एक उदाहरण दे सकते हैं?

उदाहरण 8.4 विरामावस्था से राहुल अपनी साइकिल को चलाना शुरू करता है और 30 s में 6 m s^{-1} का वेग प्राप्त करता है। वह इस प्रकार से ब्रेक लगाता है कि साइकिल का वेग अगले 5 s में कम होकर 4 m s^{-1} हो जाता है। दोनों स्थितियों में साइकिल के त्वरण की गणना करें।

हल:

पहली स्थिति में,
 प्रारंभिक वेग, $u = 0$;
 अंतिम वेग, $v = 6 \text{ m s}^{-1}$;
 समय, $t = 30 \text{ s}$.
 समीकरण (8.3), से,

$$a = \frac{v - u}{t}$$

u, v और t का दिया हुआ मान ऊपर दिए गए समीकरण में रखने पर,

$$a = \frac{6 \text{ m s}^{-1} - 0 \text{ m s}^{-1}}{30 \text{ s}}$$

$$= 0.2 \text{ m s}^{-2}$$

दूसरी अवस्था में,

प्रारंभिक वेग, $u = 6 \text{ m s}^{-1}$;

अंतिम वेग, $v = 4 \text{ m s}^{-1}$;

समय, $t = 5 \text{ s}$.

$$\text{तब, } a = \frac{4 \text{ m s}^{-1} - 6 \text{ m s}^{-1}}{5 \text{ s}}$$

$$= -0.4 \text{ m s}^{-2} .$$

साइकिल का त्वरण पहली स्थिति में 0.2 m s^{-2} है और दूसरी स्थिति में -0.04 m s^{-2} है।

प्रश्न

1. आप किसी वस्तु के बारे में कब कहेंगे कि,
 - (i) वह एकसमान त्वरण से गति में है?
 - (ii) वह असमान त्वरण से गति में है?
2. एक बस की गति 5 s में 80 km h^{-1} से घटकर 60 km h^{-1} हो जाती है। बस का त्वरण ज्ञात कीजिए।
3. एक रेलगाड़ी स्टेशन से चलना प्रारंभ करती है और एकसमान त्वरण के साथ चलते हुए 10 मिनट में 40 km h^{-1} की चाल प्राप्त करती है। इसका त्वरण ज्ञात कीजिए।

8.4 गति का ग्राफ़ीय प्रदर्शन

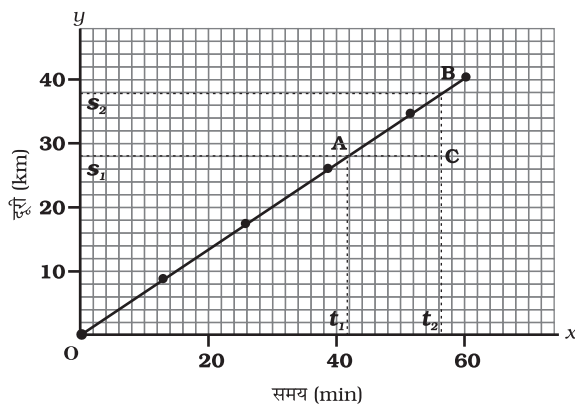
कई घटनाओं के बारे में मूल जानकारी सुविधाजनक विधि से ग्राफ़ द्वारा प्रदर्शित की जा सकती है। उदाहरण के लिए, किसी एक दिवसीय क्रिकेट मैच के प्रसारण में किसी टीम द्वारा प्रत्येक ओवर में बनाए गए रनों की दर को प्रायः ऊर्ध्वाधर बार ग्राफ़ से दिखाया जाता है। जैसा कि आपने गणित में पढ़ा है

कि एक सरल रेखीय ग्राफ़ की सहायता से दो चर युक्त रैखिक समीकरण का हल ज्ञात किया जाता है।

किसी वस्तु की गति को दर्शाने के लिए, एक रेखीय ग्राफ़ की आवश्यकता होती है। इस स्थिति में रेखा ग्राफ़ किसी एक भौतिक राशि पर निर्भरता को दर्शाता है जैसे दूरी या वेग का दूसरी राशि, जैसे समय पर।

8.4.1 दूरी-समय ग्राफ़

समय के साथ किसी वस्तु की स्थिति परिवर्तन को एक सुविधाजनक पैमाना अपनाकर दूरी-समय ग्राफ़ द्वारा व्यक्त किया जा सकता है। इस ग्राफ़ में समय को x -अक्ष और दूरी को y -अक्ष पर प्रदर्शित किया जाता है। दूरी-समय ग्राफ़ को विभिन्न अवस्थाओं में प्रदर्शित किया जा सकता है जैसे वस्तु एकसमान चाल या असमान चाल से चल रही है, विरामावस्था में है इत्यादि।



चित्र 8.3: एकसमान चाल से गतिमान किसी वस्तु का दूरी-समय ग्राफ़

हम जानते हैं कि जब कोई वस्तु समान दूरी समान समयांतराल में तय करती है, तब इसकी चाल एकसमान होती है। अतः वस्तु के द्वारा तय की गई दूरी, लिए गए समय के समानुपाती होती है। इस प्रकार एकसमान चाल के लिए, समय के साथ तय की गई दूरी का ग्राफ़ एक सरल रेखा है जैसा कि चित्र 8.3 में

गति

प्रदर्शित है। ग्राफ़ का OB भाग यह दर्शाता है कि दूरी, एकसमान दर से बढ़ रही है। यदि आप y -अक्ष पर विस्थापन का परिमाण, तय की गई दूरी के बराबर लेते हैं, तो आप एकसमान चाल के स्थान पर एकसमान वेग पद का भी प्रयोग कर सकते हैं।

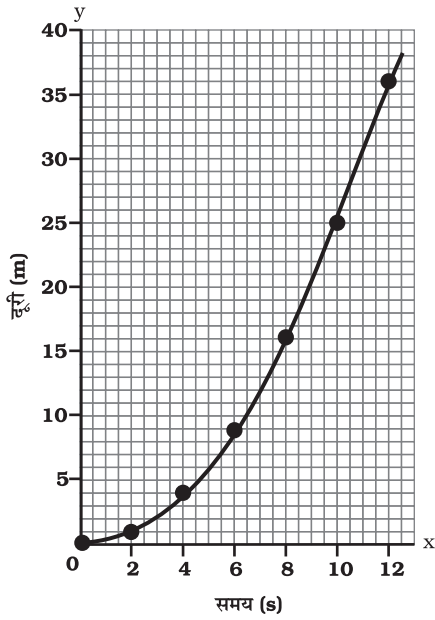
हम दूरी-समय ग्राफ़ का प्रयोग वस्तु की चाल ज्ञात करने के लिए कर सकते हैं। ऐसा करने के लिए, चित्र 8.3 में दिए गए दूरी समय ग्राफ़ के भाग AB को लें। बिंदु A से x -अक्ष के समानान्तर एक रेखा तथा बिंदु B से y -अक्ष के समानांतर एक रेखा खींचें। ये दोनों रेखाएँ बिंदु C पर मिलकर एक त्रिभुज ABC बनाती है। अब ग्राफ़ पर, AC समयांतराल ($t_2 - t_1$) को बताता है, जबकि BC दूरी ($s_2 - s_1$) को बताता है। हम ग्राफ़ से देख सकते हैं कि वस्तु A से B बिंदु तक जाने में ($t_2 - t_1$) समय में ($s_2 - s_1$) दूरी तय करती है। अतः वस्तु की चाल निम्न प्रकार से व्यक्त की जा सकती है:

$$v = \frac{s_2 - s_1}{t_2 - t_1} \quad (8.4)$$

हम त्वरित गति के लिए भी दूरी-समय ग्राफ़ अंकित कर सकते हैं। सारणी 8.2 एक कार के द्वारा 2 s के समयांतराल में तय की गई दूरियों को प्रदर्शित करती है।

सारणी 8.2: कार द्वारा नियमित समय में तय की गई दूरी

समय (s)	दूरी (m)
0	0
2	1
4	4
6	9
8	16
10	25
12	36

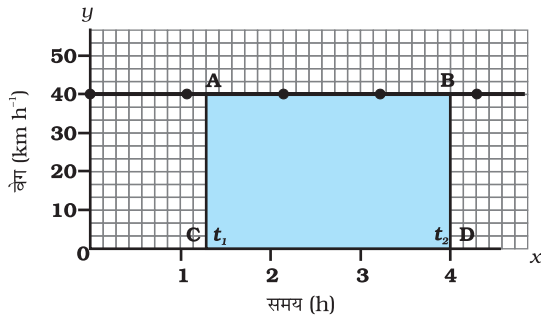


चित्र 8.4: असमान चाल से गतिमान किसी कार का दूरी-समय ग्राफ

कार की गति के लिए दूरी-समय ग्राफ चित्र 8.4 में दर्शाया गया है। ध्यान दें कि इस ग्राफ की आकृति चित्र 8.3 में दिए गए ग्राफ से भिन्न है। इस ग्राफ की प्रकृति समय के साथ कार द्वारा तय की गयी दूरी का आरेखीय परिवर्तन दर्शाता है। इस प्रकार, चित्र 8.4 में दिखाया गया ग्राफ असमान चाल को व्यक्त करता है।

8.4.2 वेग-समय ग्राफ

एक सरल रेखा में चल रही वस्तु के वेग में समय के साथ परिवर्तन को वेग-समय ग्राफ द्वारा दर्शाया जा



चित्र 8.5: एकसमान चाल से गतिमान किसी कार का वेग-समय ग्राफ

सकता है। इस ग्राफ में, समय को x -अक्ष पर और वेग को y -अक्ष पर दर्शाया जाता है। यदि वस्तु एकसमान वेग से गतिमान है, तो समय के साथ वेग-समय ग्राफ की ऊँचाई में कोई परिवर्तन नहीं होगा (चित्र 8.5)। यह x -अक्ष के समानांतर एक सीधी रेखा होगी। चित्र 8.5 में, एक कार जो कि 40 km h^{-1} के एकसमान वेग से गति कर रही है, के वेग समय-ग्राफ को दर्शाया गया है।

हम जानते हैं कि एकसमान वेग से चल रही किसी वस्तु के वेग तथा समय के गुणनफल से विस्थापन प्राप्त किया जाता है। वेग-समय ग्राफ तथा समय अक्ष के द्वारा घेरा गया क्षेत्र विस्थापन के परिमाण के बराबर होता है।

चित्र 8.5 से t_1 और t_2 समय के बीच कार द्वारा तय की गई दूरी को ज्ञात करने के लिए समय t_1 व t_2 के संगत बिंदुओं से ग्राफ पर लंब खींचें। 40 km h^{-1} के वेग को ऊँचाई AC या BD और समय $(t_2 - t_1)$ को लंबाई AB से प्रदर्शित किया गया है।

इसलिए समय $(t_2 - t_1)$ में कार द्वारा तय की गई दूरी को इस प्रकार व्यक्त किया जा सकता है,

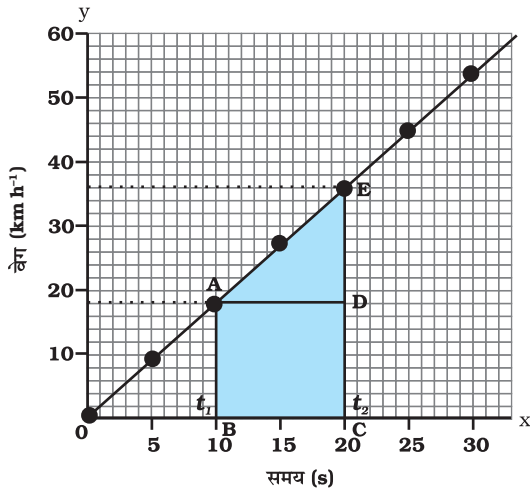
$$\begin{aligned} s &= AC \times CD \\ &= [(40 \text{ km h}^{-1}) \times (t_2 - t_1) \text{ h}] \\ &= 40 (t_2 - t_1) \text{ km} \\ &= \text{चतुर्भुज ABDC का क्षेत्रफल} \\ &\quad (\text{चित्र 8.5 में छायांकित}) \end{aligned}$$

वेग-समय ग्राफ के द्वारा हम एकसमान रूप से त्वरित गति का अध्ययन भी कर सकते हैं। मान लें कि एक कार के इंजन को जाँचने के लिए सीधे मार्ग पर चलाया जाता है। माना कि चालक के साथ में बैठा एक व्यक्ति प्रत्येक 5 s के बाद कार के स्पीडोमीटर का पाठ्यांक लेता है। कार का वेग विभिन्न समयों पर m s^{-1} व km h^{-1} में सारणी 8.3 में प्रदर्शित किया गया है।

सारणी 8.3: विभिन्न समय पर कार का वेग

समय (s)	कार का वेग	
	(m s ⁻¹)	(km h ⁻¹)
0	0	0
5	2.5	9
10	5.0	18
15	7.5	27
20	10.0	36
25	12.5	45
30	15.0	54

इस स्थिति में कार की गति के लिए समय-वेग ग्राफ चित्र 8.6 में प्रदर्शित किया गया है। ग्राफ की प्रकृति यह बताती है कि समान समयांतराल में वेग में परिवर्तन समान रूप से होता है। इस प्रकार सभी एकसमान त्वरित गतियों के लिए वेग-समय ग्राफ सीधी रेखा है।



चित्र 8.5: एकसमान त्वरित गति से गतिमान किसी कार का वेग-समय ग्राफ

आप कार के द्वारा तय की गई दूरी को वेग-समय ग्राफ द्वारा प्राप्त कर सकते हैं। वेग-समय ग्राफ का क्षेत्रफल दिए गए समयांतराल में कार द्वारा तय की गई दूरी (विस्थापन के परिमाण) को बताता है। यदि कार एकसमान वेग से गति करे, तो ग्राफ (चित्र 8.6) में दर्शाए गए क्षेत्र ABCD द्वारा तय की गई दूरी को दर्शाया जाएगा। चूँकि कार के वेग का परिमाण त्वरण

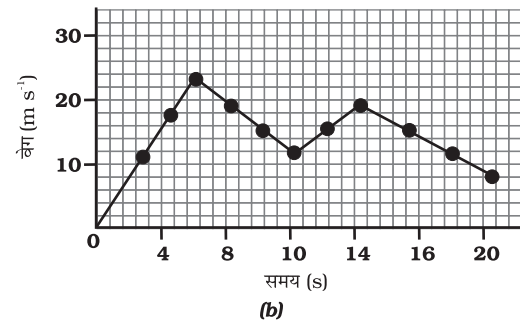
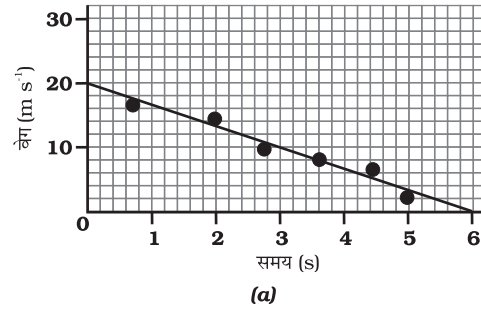
गति

के कारण परिवर्तित हो रहा है, अतः कार के द्वारा तय की गई दूरी s , वेग-समय ग्राफ (चित्र 8.6) में प्रदर्शित क्षेत्र ABCDE द्वारा व्यक्त की जाएगी।

$$\begin{aligned}
 s &= \text{ABCDE का क्षेत्रफल} \\
 &= \text{आयत ABCD का क्षेत्रफल} + \text{त्रिभुज ADE का क्षेत्रफल} \\
 &= AB \times BC + \frac{1}{2} (AD \times DE)
 \end{aligned}$$

असमान त्वरित गति की स्थिति में वेग-समय ग्राफ किसी भी आकृति का हो सकता है।

चित्र 8.7(a) वेग-समय ग्राफ को दर्शाता है, जो कि एक वस्तु के गति को प्रदर्शित करता है, जिसका वेग समय के साथ घटता है। जबकि चित्र 8.7(b) में किसी वस्तु के वेग में असमान परिवर्तन को वेग-समय ग्राफ द्वारा दर्शाया गया है।



चित्र 8.7: असमान त्वरित गति से गतिमान एक वस्तु के वेग-समय ग्राफ

क्रियाकलाप 8.9

- एक ट्रेन के तीन विभिन्न स्टेशनों A, B और C पर आगमन और प्रस्थान करने के समय एवं स्टेशन A से स्टेशन B व C की दूरी सारणी 8.4 में दी गई है।

सारणी 8.4: स्टेशन A से B तथा C की दूरी तथा ट्रेन के आगमन व प्रस्थान करने का समय

स्टेशन	A से दूरी (km)	आगमन का समय (घंटे)	प्रस्थान का समय (घंटे)
A	0	08:00	08:15
B	120	11:15	11:30
C	180	13:00	13:15

- मान लें कि किन्हीं दो स्टेशनों के बीच ट्रेन की गति एकसमान है तो इस आधार पर वेग-समय ग्राफ खींचें तथा इसकी व्याख्या करें।

क्रियाकलाप 8.10

- फ़िरोज़ और उसकी बहन सानिया अपनी साइकिलों से स्कूल जाते हैं। वे दोनों घर से एक ही समय पर प्रस्थान करते हैं एवं एक ही मार्ग से जाते हैं फिर भी अलग-अलग समय पर स्कूल पहुँचते हैं। सारणी 8.5 उन दोनों के द्वारा अलग-अलग समय में तय की गई दूरी को दर्शाती है। उन दोनों की गति के लिए एक ही पैमाने पर दूरी-समय ग्राफ खींचें तथा व्याख्या करें।

सारणी 8.5: फ़िरोज़ और सानिया द्वारा अपने साइकिलों पर अलग-अलग समय में तय की गई दूरी

समय	फ़िरोज़ के द्वारा तय की गई दूरी (km)	सानिया के द्वारा तय की गई दूरी (km)
8:00 am	0	0
8:05 am	1.0	0.8
8:10 am	1.9	1.6
8:15 am	2.8	2.3
8:20 am	3.6	3.0
8:25 am	-	3.6

प्रश्न

- किसी वस्तु के एकसमान व असमान गति के लिए समय-दूरी ग्राफ की प्रकृति क्या होती है?
- किसी वस्तु की गति के विषय में आप क्या कह सकते हैं, जिसका दूरी-समय ग्राफ समय अक्ष के समानांतर एक सरल रेखा है?
- किसी वस्तु की गति के विषय में आप क्या कह सकते हैं, जिसका चाल-समय ग्राफ समय अक्ष के समानांतर एक सरल रेखा है?
- वेग-समय ग्राफ के नीचे के क्षेत्र से मापी गई राशि क्या होती है?

8.5 ग्राफ़ीय विधि से गति के समीकरण

कोई वस्तु सीधी रेखा में एकसमान त्वरण से चलती है तो एक निश्चित समयांतराल में समीकरणों के द्वारा उसके वेग, गति के दौरान त्वरण व उसके द्वारा तय की गई दूरी में संबंध स्थापित करना संभव है, जिन्हें गति के समीकरण के नाम से जाना जाता है। इस प्रकार के तीन समीकरण निम्नलिखित हैं:

$$v = u + at \quad (8.5)$$

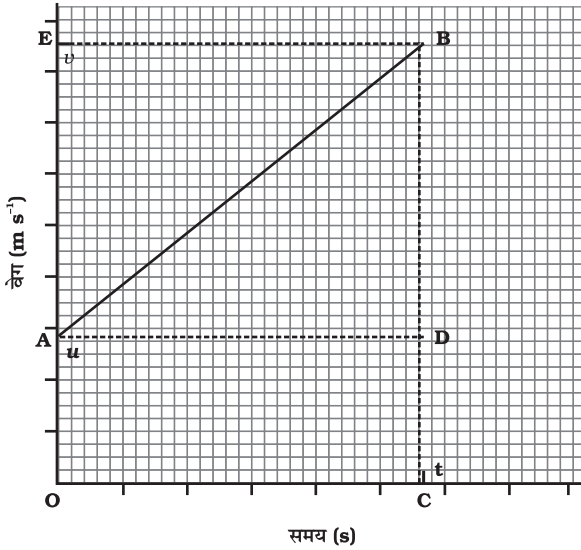
$$s = ut + \frac{1}{2} at^2 \quad (8.6)$$

$$2 as = v^2 - u^2 \quad (8.7)$$

जहाँ u वस्तु का प्रारंभिक वेग है जो कि t समय के लिये एकसमान त्वरण a से चलती है, v अंतिम वेग है तथा t समय में वस्तु के द्वारा तय की गई दूरी s है। समीकरण (8.5) वेग एवं समय में संबंध व्यक्त करती है तथा समीकरण (8.6) समय व स्थिति के बीच संबंध व्यक्त करती है। समीकरण (8.7) जो कि वेग एवं स्थिति के बीच संबंध व्यक्त करती है, जिसे समीकरण (8.5) एवं (8.6) से t को विलुप्त कर प्राप्त किया जा सकता है। इन तीनों समीकरणों को ग्राफ़ीय विधि से भी प्राप्त किया जा सकता है।

8.5.1 वेग-समय संबंध के लिए समीकरण

कोई वस्तु जो कि एकसमान त्वरण के साथ चलती है, उसके वेग-समय ग्राफ को लें, जैसा कि चित्र 8.8 में प्रदर्शित है (चित्र 8.6 के समकक्ष, किंतु अब $u = 0$)। इस ग्राफ से आप देख सकते हैं कि वस्तु का प्रारंभिक वेग u है (बिंदु A पर) और यह t समय में बढ़कर v (बिंदु B पर) हो जाता है। वेग, एकसमान दर a के साथ परिवर्तित होता है। चित्र 8.8 में, बिंदु B से दो लम्ब BC एवं BE क्रमशः समय- तथा वेग-अक्षों पर खींचे गए हैं। प्रारंभिक वेग OA के द्वारा, अंतिम वेग BC के द्वारा तथा समयांतराल t , OC के द्वारा प्रदर्शित किया गया है। $BD = BC - CD$ समयांतराल t में वेग में परिवर्तन को दर्शाता है। अब OC के समानांतर AD रेखा खींचें। ग्राफ से हम पाते हैं कि



चित्र 8.8: गति के समीकरणों को प्राप्त करने के लिए वेग-समय ग्राफ

$$\begin{aligned} BC &= BD + DC = BD + OA \\ \text{इसमें } BC &= v \text{ तथा } OA = u, \text{ रखने पर} \\ \text{हम पाते हैं, } & v = BD + u \\ \text{या, } & BD = v - u \end{aligned} \quad (8.8)$$

वेग समय ग्राफ से (चित्र 8.8), वस्तु के त्वरण को व्यक्त किया जाता है

$$a = \frac{\text{वेग में परिवर्तन}}{\text{लिया गया समय}}$$

$$= \frac{BD}{AD} = \frac{BD}{OC}$$

OC = t , रखने पर हम पाते हैं,

$$a = \frac{BD}{t}$$

$$\text{या } BD = at \quad (8.9)$$

समीकरण 8.8 तथा 8.9 से हम पाते हैं,

$$v = u + at$$

8.5.2 समय-स्थिति संबंध के लिए समीकरण

मान लें कि वस्तु ने एकसमान त्वरण a से t समय में s दूरी तय की। चित्र 8.8 में वस्तु के द्वारा तय की गई दूरी, वेग-समय ग्राफ AB के नीचे घिरे क्षेत्र OABC द्वारा प्राप्त की जाती है।

इस प्रकार, वस्तु के द्वारा तय की गई दूरी s निम्न प्रकार व्यक्त की जाती है,

$$\begin{aligned} s &= \text{OABC का क्षेत्रफल (जो एक समलंब है)} \\ &= \text{आयत OADC का क्षेत्रफल} + \text{त्रिभुज ABD का क्षेत्रफल} \end{aligned}$$

$$= OA \times OC + \frac{1}{2} (AD \times BD) \quad (8.10)$$

OA = u , OC = AD = t और BD = at , मान रखने पर हम पाते हैं,

$$s = u \times t + \frac{1}{2} (t \times at)$$

$$\text{या, } s = ut + \frac{1}{2} at^2$$

8.5.3 वेग-स्थिति संबंध के लिए समीकरण

चित्र 8.8 में प्रदर्शित वेग-समय ग्राफ़ से, वस्तु के द्वारा एकसमान त्वरण a से t समय में तय की गई दूरी s को ग्राफ़ के नीचे समलंब चतुर्भुज OABC द्वारा घेरे गए क्षेत्रफल द्वारा प्रदर्शित किया गया है। अर्थात्,

s = समलंब OABC का क्षेत्रफल

$$= \frac{OA + BC \times OC}{2}$$

OA = u , BC = v और OC = t रखने पर हम पाते हैं,

$$s = \frac{u + v}{2} t \quad (8.11)$$

वेग-समय संबंध [समीकरण (8.6)] से हम पाते हैं,

$$t = \frac{v - u}{a} \quad (8.12)$$

समीकरण (8.11) और समीकरण (8.12) से हम पाते हैं,

$$s = \frac{v + u}{2a} \frac{v - u}{1}$$

या $2as = v^2 - u^2$

उदाहरण 8.5 एक रेलगाड़ी विरामावस्था से चलना प्रारंभ करती है और 5 मिनट में 72 km/h का वेग प्राप्त कर लेती है। मान लें कि त्वरण एकसमान है, परिकलन कीजिए, (i) त्वरण, (ii) इस वेग को प्राप्त करने के लिए रेलगाड़ी द्वारा तय की गई दूरी।

हल:

दिया है,

$$u = 0 ; v = 72 \text{ km h}^{-1} = 20 \text{ m s}^{-1} \text{ और}$$

$$t = 5 \text{ min.} = 300 \text{ s.}$$

(i) समीकरण (8.5) से हम जानते हैं,

$$a = \frac{v - u}{t}$$

$$= \frac{20 \text{ m s}^{-1} - 0 \text{ m s}^{-1}}{300 \text{ s}}$$

$$= \frac{1}{15} \text{ m s}^{-2}$$

(ii) समीकरण (8.7) से हम जानते हैं,

$$2as = v^2 - u^2 = v^2 - 0$$

अतः

$$s = \frac{v^2}{2a}$$

$$= \frac{(20 \text{ m s}^{-1})^2}{2 \times (1/15) \text{ m s}^{-2}}$$

$$= 3000 \text{ m}$$

$$= 3 \text{ km}$$

रेलगाड़ी का त्वरण $\frac{1}{15} \text{ m s}^{-2}$ है तथा तय की गई दूरी 3 km है।

उदाहरण 8.6 कोई कार एकसमान रूप से त्वरित होकर 5 s में 18 km h⁻¹ से 36 km h⁻¹ की गति प्राप्त करती है। ज्ञात करें (i) त्वरण, (ii) उतने समय में कार के द्वारा तय की गई दूरी।

हल:

दिया गया है,

$$u = 18 \text{ km h}^{-1} = 5 \text{ m s}^{-1}$$

$$v = 36 \text{ km h}^{-1} = 10 \text{ m s}^{-1} \text{ और}$$

$$t = 5 \text{ s.}$$

(i) समीकरण (8.5) से हम जानते हैं,

$$a = \frac{v - u}{t}$$

$$= \frac{10 \text{ m s}^{-1} - 5 \text{ m s}^{-1}}{5 \text{ s}}$$

$$= 1 \text{ m s}^{-2}$$

(ii) समीकरण (8.6) से हम जानते हैं,

$$s = ut + \frac{1}{2} at^2$$

$$\begin{aligned}
&= 5 \text{ m s}^{-1} \times 5 \text{ s} + \frac{1}{2} \times 1 \text{ m s}^{-2} \times (5 \text{ s})^2 \\
&= 25 \text{ m} + 12.5 \text{ m} \\
&= 37.5 \text{ m}
\end{aligned}$$

कार का त्वरण 1 m s^{-2} तथा तय की गई दूरी 37.5 m है।

उदाहरण 8.7 किसी कार पर ब्रेक लगाने पर वह गति के विपरीत दिशा में 6 m s^{-2} का त्वरण उत्पन्न करती है। यदि कार ब्रेक लगाए जाने के बाद रुकने में 2 s का समय लेती है तो उतने समय में तय की गई दूरी की गणना करें।

हल:

दिया गया है,

$$a = -6 \text{ m s}^{-2} ; t = 2 \text{ s} \text{ तथा } v = 0 \text{ m s}^{-1}.$$

समीकरण 8.5 से हम जानते हैं,

$$v = u + at$$

$$0 = u + (-6 \text{ m s}^{-2}) \times 2 \text{ s}$$

$$\text{या } u = 12 \text{ m s}^{-1}.$$

समीकरण 8.6 से हम पाते हैं,

$$s = ut + \frac{1}{2} at^2$$

$$= (12 \text{ m s}^{-1}) \times (2 \text{ s}) + \frac{1}{2} (-6 \text{ m s}^{-2}) \times (2 \text{ s})^2$$

$$= 24 \text{ m} - 12 \text{ m}$$

$$= 12 \text{ m}$$

अतः कार रुकने के पहले 12 m की दूरी तय करेगी।

क्या अब आप इस महत्त्व को समझ सकते हैं कि चालक सड़क पर गाड़ी चलाते समय दूसरी गाड़ी से दूरी क्यों बना कर रखते हैं?

प्रश्न

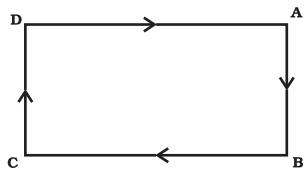
1. कोई बस विरामावस्था से चलना प्रारंभ करती है तथा 2 मिनट तक 0.1 m s^{-2} के एकसमान त्वरण से चलती है। परिकलन कीजिए, (a) प्राप्त की गई चाल तथा (b) तय की गई दूरी।

2. कोई रेलगाड़ी 90 km h^{-1} के चाल से चल रही है। ब्रेक लगाए जाने पर वह -0.5 m s^{-2} का एकसमान त्वरण उत्पन्न करती है। रेलगाड़ी विरामावस्था में आने के पहले कितनी दूरी तय करेगी?
3. एक ट्रॉली एक आनत तल पर 2 m s^{-2} के त्वरण से नीचे जा रही है। गति प्रारंभ करने के 3 s के पश्चात् उसका वेग क्या होगा?
4. एक रैसिंग कार का एकसमान त्वरण 4 m s^{-2} है। गति प्रारंभ करने के 10 s पश्चात् वह कितनी दूरी तय करेगी?
5. किसी पत्थर को ऊर्ध्वाधर ऊपर की ओर 5 m s^{-1} के वेग से फेंका जाता है। यदि गति के दौरान पत्थर का नीचे की ओर दिष्ट त्वरण 10 m s^{-2} है, तो पत्थर के द्वारा कितनी ऊँचाई प्राप्त की गई तथा उसे वहाँ पहुँचने में कितना समय लगा?

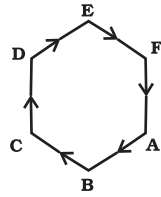
8.6 एकसमान वृत्तीय गति

जब वस्तु के वेग में परिवर्तन होता है तब हम कहते हैं कि वह वस्तु त्वरित हो रही है। वेग में यह परिवर्तन, वेग के परिमाण या गति की दिशा या दोनों के कारण हो सकता है। क्या आप एक उदाहरण के बारे में सोच सकते हैं, जिसमें एक वस्तु अपने वेग के परिमाण को नहीं बदलती, परंतु अपनी गति की दिशा को बदलती है?

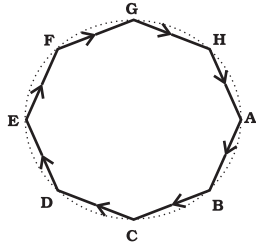
किसी बंद पथ (मार्ग) पर एक वस्तु की गति का उदाहरण लें चित्र 8.9(a)। किसी एथलीट (धावक) को एक आयताकार पथ ABCD के अनुदिश दर्शाता है। माना एथलीट पथ के सीधे भागों AB, BC, CD और DA पर एकसमान चाल से दौड़ता है। अपने आपको पथ पर बनाए रखने के लिए कोनों पर वह शीघ्रता से अपनी चाल बदलता है। एक चक्कर पूरा करने में उसे कितनी बार अपनी गति की दिशा बदलनी पड़ेगी? यह स्पष्ट है कि आयताकार पथ पर एक चक्कर लगाने के दौरान उसने चार बार अपनी गति की दिशा को बदला होगा।



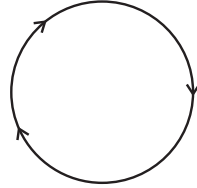
(a) आयताकार पथ



(b) षट्कोणीय पथ



(c) अष्टकोणीय पथ



(d) वृत्तीय पथ

चित्र 8.9: एक एथलीट (धावक) की विभिन्न आकृतियों के बंद पथ पर गति

अब मान लें कि एथलीट आयताकार पथ के स्थान पर षट्कोणीय पथ ABCDEF के अनुदिश दौड़ रहा है जैसा कि चित्र 8.9 (b) में प्रदर्शित है। इस स्थिति में, एथलीट को एक चक्कर पूरा करने में, छः बार अपनी दिशा को बदलना होगा। यदि पथ षट्भुजाकार न होकर सम अष्टभुजाकार पथ ABCDEFGH हो [चित्र 8.9(c)] तो क्या होगा? यह देखा गया है कि पथ की भुजाओं की संख्या में वृद्धि के साथ ही एथलीट को अपने मुड़ने की संख्या में वृद्धि करनी पड़ती है। अगर हम अनिश्चित रूप से पथ की भुजाओं की संख्या बढ़ाएँ तो उन भुजाओं का आकार कैसा होगा? यदि आप ऐसा करते हैं तो आप पाएँगे कि सभी भुजाओं की लंबाई घटकर एक बिंदु के समान हो जाएगी और पथ का आकार लगभग वृत्त के समान हो जाता है। अगर एथलीट एक वृत्तीय पथ पर नियत परिमाण वाले वेग के साथ दौड़ता है तो उसके वेग में परिवर्तन केवल गति की दिशा में परिवर्तन के कारण होता है। इसलिए वृत्तीय पथ पर दौड़ता हुआ एक एथलीट, त्वरित गति का एक उदाहरण है।

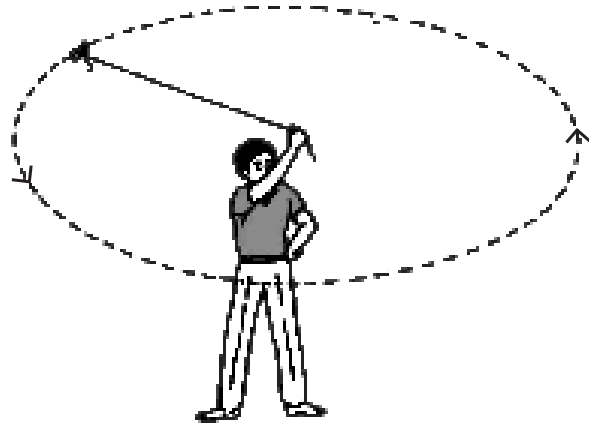
हम जानते हैं कि त्रिज्या r वाले वृत्त की परिधि $2\pi r$ होती है। अगर एथलीट r त्रिज्या वाले वृत्तीय पथ का एक चक्कर लगाने में t सेकंड का समय लेता है तो वेग v होगा,

$$v = \frac{2\pi r}{t} \quad (8.13)$$

जब एक वस्तु वृत्तीय रास्ते पर एकसमान चाल से चलती है तब उसकी गति को एकसमान वृत्तीय गति कहा जाता है।

क्रियाकलाप 8.11

- एक धागे का टुकड़ा लें और उसके एक छोर पर एक छोटे से पत्थर को बाँध दें। धागे के दूसरे छोर को पकड़कर पत्थर को वृत्तीय पथ पर नियत चाल से घुमाएँ जैसा कि चित्र 8.10 में दिखाया गया है।



चित्र 8.10: पत्थर नियत परिमाण के वेग से वृत्तीय पथ को निर्दिष्ट करता है

- अब पत्थर सहित धागे को छोड़ दें। क्या आप बता सकते हैं कि धागा छोड़ने के बाद पत्थर किस दिशा में जाएगा? इस क्रिया को बार-बार दोहराएँ और वृत्तीय पथ के अलग-अलग जगहों से पत्थर को छोड़ें और यह देखें कि पत्थर के गति करने की दिशा समान है या नहीं।

ध्यानपूर्वक देखने पर आप पाएँगे कि पत्थर वृत्तीय पथ के स्पर्शरेखीय सीधी रेखा के साथ गति करता है। ऐसा इसलिए क्योंकि जब पत्थर को छोड़ा जाता है तो वह उसी दिशा में गति जारी रखता है जिस दिशा में उस क्षण वह गति कर रहा है। इससे पता चलता है कि जब किसी पत्थर को वृत्तीय पथ पर घुमाया जाता है तो उसकी गति की दिशा प्रत्येक बिंदु पर परिवर्तित होती है।

जब कोई एथलीट खेल प्रतियोगिता में एक चक्र (डिस्क) या गोले को फेंकता है, तो वह उसे अपने

हाथ में पकड़ता है तथा अपने शरीर को घुमाकर उसे वृत्तीय गति प्रदान करता है। इच्छित दिशा में एक बार छूटने के बाद गोला या चक्र उसी दिशा में गति करता है जिस दिशा में वह छोड़ते समय गति कर रहा था। यह ठीक उसी प्रकार है जिस प्रकार उक्त क्रियाकलाप में पत्थर के लिए वर्णित है। वस्तुओं की एकसमान वृत्तीय गति के बहुत से चिरपरिचित उदाहरण हैं जैसे, चंद्रमा एवं पृथ्वी की गति, पृथ्वी के चारों ओर वृत्तीय कक्षा में घूर्णन करता हुआ एक उपग्रह, वृत्तीय पथ पर नियत चाल से चलता हुआ साइकिल सवार इत्यादि।



आपने क्या सीखा

- स्थिति में परिवर्तन एक गति है, इसकी व्याख्या तय की गई दूरी या विस्थापन के रूप में की जा सकती है।
- एक वस्तु की गति का समान या असमान होना उस वस्तु के वेग पर निर्भर करता है जो कि नियत है या बदल रहा है।
- प्रति इकाई समय में वस्तु के द्वारा तय की गई दूरी उसकी चाल है और प्रति इकाई समय में हुआ विस्थापन उसका वेग है।
- किसी वस्तु का त्वरण प्रति इकाई समय में उसके वेग में होने वाला परिवर्तन है।
- ग्राफों के द्वारा वस्तु की समान और असमान गति को दर्शाया जा सकता है।
- एकसमान त्वरण से चल रही एक वस्तु की गति की व्याख्या निम्न तीन समीकरणों के माध्यम से की जा सकती है:

$$v = u + at$$

$$s = ut + \frac{1}{2} at^2$$

$$2as = v^2 - u^2$$

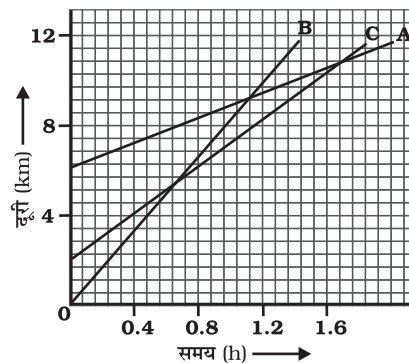
जहाँ u वस्तु का प्रारंभिक वेग है, जो कि t समय के लिए एकसमान त्वरण a से गति करती है, इसका अन्तिम वेग v है और t समय में तय की गई दूरी s है।

- अगर कोई वस्तु वृत्तीय पथ पर एकसमान चाल से चलती है तो उसकी गति को एकसमान वृत्तीय गति कहा जाता है।

अभ्यास



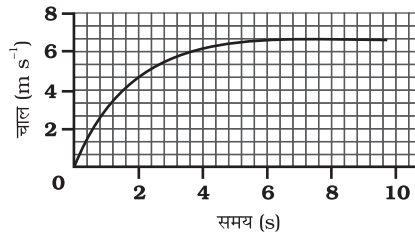
1. एक एथलीट वृत्तीय रास्ते, जिसका व्यास 200 m है, का एक चक्कर 40 s में लगाता है। 2 min 20 s के बाद वह कितनी दूरी तय करेगा और उसका विस्थापन क्या होगा?
2. 300 m सीधे रास्ते पर जोसेफ़ जॉगिंग करता हुआ 2 min 50 s में एक सिरे A से दूसरे सिरे B पर पहुँचता है और घूमकर 1 min. में 100 m पीछे बिंदु C पर पहुँचता है। जोसेफ़ की औसत चाल और औसत वेग क्या होंगे?
(a) सिरे A से सिरे B तक तथा (b) सिरे A से सिरे C तक।
3. अब्दुल गाड़ी से स्कूल जाने के क्रम में औसत चाल को 20 km h^{-1} पाता है। उसी रास्ते से लौटने के समय वहाँ भीड़ कम है और औसत चाल 40 km h^{-1} है। अब्दुल की इस पूरी यात्रा में उसकी औसत चाल क्या है?
4. कोई मोटरबोट झील में विरामावस्था से सरल रेखीय पथ पर 3.0 m s^{-2} की नियत त्वरण से 8.0 s तक चलती है। इस समय अंतराल में मोटरबोट कितनी दूरी तय करती है?
5. किसी गाड़ी का चालक 52 km h^{-1} की गति से चल रही कार में ब्रेक लगाता है तथा कार विपरीत दिशा में एकसमान दर से त्वरित होती है। कार 5 s में रुक जाती है। दूसरा चालक 30 km h^{-1} की गति से चलती हुई दूसरी कार पर धीमे-धीमे ब्रेक लगाता है तथा 10 s में रुक जाता है। एक ही ग्राफ़ पेपर पर दोनों कारों के लिए चाल-समय ग्राफ़ आलेखित करें। ब्रेक लगाने के पश्चात् दोनों में से कौन-सी कार अधिक दूरी तक जाएगी?
6. चित्र 8.11 में तीन वस्तुओं A, B और C के दूरी-समय ग्राफ़ प्रदर्शित हैं। ग्राफ़ का अध्ययन करके निम्न प्रश्नों के उत्तर दीजिए:



चित्र 8.11

- (a) तीनों में से कौन सबसे तीव्र गति से गतिमान है?
- (b) क्या ये तीनों किसी भी समय सड़क के एक ही बिंदु पर होंगे?

- (c) जिस समय B, A से गुजरती है उस समय तक C कितनी दूरी तय कर लेती है?
- (d) जिस समय B, C से गुजरती है उस समय तक यह कितनी दूरी तय कर लेती है?
7. 20 m की ऊँचाई से एक गेंद को गिराया जाता है। यदि उसका वेग 10 m s^{-2} के एकसमान त्वरण की दर से बढ़ता है तो यह किस वेग से धरातल से टकराएगी? कितने समय पश्चात् वह धरातल से टकराएगी?
8. किसी कार का चाल-समय ग्राफ़ चित्र 8.12 में दर्शाया गया है।



चित्र 8.12

- (a) पहले 4 s में कार कितनी दूरी तय करती है? इस अवधि में कार द्वारा तय की गई दूरी को ग्राफ़ में छायांकित क्षेत्र द्वारा दर्शाइए।
- (b) ग्राफ़ का कौन-सा भाग कार की एकसमान गति को दर्शाता है?
9. निम्नलिखित में से कौन-सी अवस्थाएँ संभव हैं तथा प्रत्येक के लिए एक उदाहरण दें:
- (a) कोई वस्तु जिसका त्वरण नियत हो परन्तु वेग शून्य हो।
- (b) कोई वस्तु किसी निश्चित दिशा में गति कर रही हो तथा त्वरण उसके लंबवत् हो।
10. एक कृत्रिम उपग्रह 42250 km त्रिज्या की वृत्ताकार कक्षा में घूम रहा है। यदि वह 24 घंटे में पृथ्वी की परिक्रमा करता है तो उसकी चाल का परिकलन कीजिए।

अध्याय 9


बल तथा गति के नियम (Force and Laws of Motion)

पिछले अध्याय में हमने एक सरल रेखा में वस्तु की स्थिति, वेग तथा त्वरण के आधार पर वस्तु की गति का वर्णन किया। हमने देखा कि ऐसी गति में कभी एकरूपता होती है तथा कभी नहीं। लेकिन अभी हमने ये चर्चा नहीं की कि गति का कारण क्या होता है। समय के साथ वस्तु की चाल क्यों बदलती है? क्या सभी प्रकार की गतियों का कोई कारण होता है? यदि ऐसा है, तो इस कारण का स्वभाव क्या है? इस अध्याय में हम ऐसी ही सभी जिज्ञासाओं को बुझाएँगे।

सदियों से गति और इसके कारणों ने वैज्ञानिकों और दार्शनिकों को उलझा रखा था। फ़र्श पर रखी एक गेंद को धीमे से ठोकर लगाने पर वह हमेशा के लिए गतिशील नहीं रहती। ऐसी परिस्थितियों से यह पता चलता है कि किसी वस्तु की विराम की अवस्था ही उसकी स्वाभाविक अवस्था है। ऐसी मान्यता तब तक बनी रही जब तक कि गैलीलियो और आइजक न्यूटन ने वस्तुओं की गति के बारे में एक पूर्णतः भिन्न संकल्पना प्रस्तुत की।


अपने प्रतिदिन के जीवन में हम देखते हैं कि एक स्थिर वस्तु को गति देने के लिए या गतिशील वस्तु को रोकने के लिए हमें कुछ प्रयास करना पड़ता है। सामान्य भाषा में इसके लिए हमें शारीरिक प्रयास करना पड़ता है तथा हम कहते हैं कि किसी वस्तु को गति की अवस्था में लाने के लिए हमें उसे खींचना, धकेलना या ठोकर लगाना पड़ता है। खींचने, धकेलने या ठोकर लगाने की इसी क्रिया पर बल की अवधारणा आधारित है। अब हम बल के विषय में विचार करते हैं। यह क्या है? वास्तव में बल को न तो किसी ने

देखा है, न चखा है और न ही महसूस किया है। हालाँकि बल का प्रभाव हम प्रायः देखते या महसूस करते हैं। किसी वस्तु पर बल लगाने पर क्या होता है, यह जानकर हम बल की व्याख्या कर सकते हैं। वस्तु को खींचना, धकेलना या ठोकर लगाना, ये सभी क्रियाएँ वस्तु को गति देने की युक्तियाँ हैं (चित्र 9.1)। हमारे द्वारा किसी तरह का बल लगाने पर ही उनमें गति होती है।



(a) धकेलने पर ट्रॉली, लगाए गए बल की दिशा में गति करती है।

(b) दराज को खींचा जाता है।

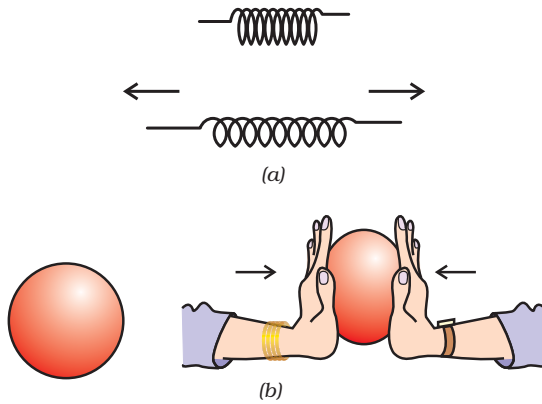


(c) हॉकी स्टिक से गेंद को आगे की ओर ठोकर लगाते हैं।

चित्र 9.1: वस्तुओं को धकेलकर, खींचकर या ठोकर लगाकर उनकी गति की अवस्था को बदला जा सकता है।

पिछली कक्षाओं में अर्जित ज्ञान के आधार पर आप इस बात से परिचित हैं कि किसी वस्तु में वेग का परिमाण बदलने (अर्थात् वस्तु की गति को तेज़ या धीमी करने) के लिए या उसकी गति की दिशा बदलने के लिए बल का प्रयोग होता है। आप यह भी

जानते हैं कि किसी बल के प्रयोग द्वारा वस्तु का आकार या आकृति भी बदली जा सकती है (चित्र 9.2)।

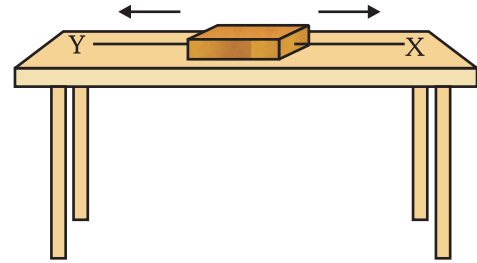


चित्र 9.2: (a) बल लगाने पर स्प्रिंग फैलती है।
(b) बल लगाने पर गोलाकार गेंद अंडाकार हो जाती है।

9.1 संतुलित और असंतुलित बल

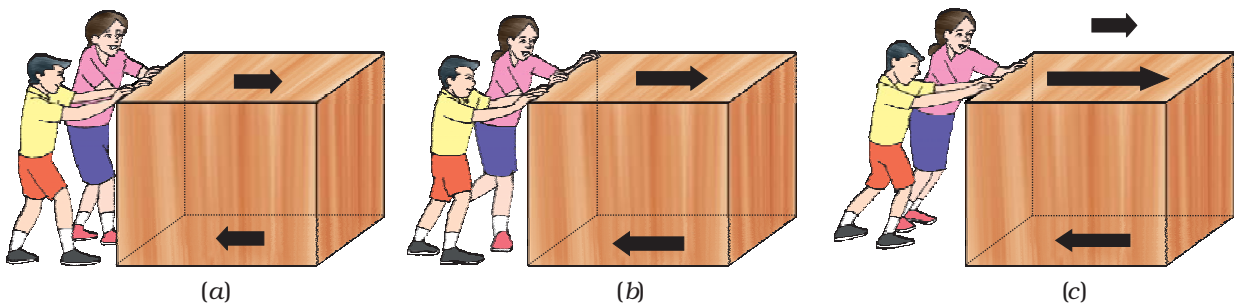
चित्र 9.3 में लकड़ी का एक पिंड एक समतल मेज पर रखा है। चित्र में दर्शाए अनुसार, दो धागे X और Y पिंड के विपरीत सिरों से जुड़े हैं। अगर हम किसी बल द्वारा धागे X को खींचते हैं, तो पिंड दाहिनी ओर खिसकना शुरू करता है। उसी प्रकार अगर हम धागे Y को खींचते हैं, तो पिंड बाईं ओर खिसकना शुरू करता है। लेकिन अगर पिंड को दोनों ओर से समान बल द्वारा खींचा जाता है, तो ऐसी दशा में पिंड गति नहीं करता। इस तरह के बलों को संतुलित बल कहते हैं तथा यह गति की अवस्था को परिवर्तित नहीं

करता। अब एक ऐसी अवस्था की कल्पना करें, जिसमें भिन्न परिमाण के दो विपरीत बल पिंड को खींचते हैं। इस अवस्था में, पिंड अधिक बल वाली दिशा में खिसकना शुरू करेगा। इस प्रकार दोनों बल संतुलित नहीं हैं और असंतुलित बल पिंड के खिसकने की दिशा में कार्य करता है। इससे यह पता चलता है कि किसी भी पिंड पर लगने वाला असंतुलित बल उसे गति प्रदान करता है।



चित्र 9.3: लकड़ी के एक पिंड पर लगे दो बल

क्या होता है जब कुछ बच्चे एक बक्से को खुरदरे फ़र्श पर धकेलने की कोशिश करते हैं? यदि वे कम बल के साथ बक्से को धकेलते हैं, तो बक्सा नहीं खिसकता है, क्योंकि घर्षण बल धकेलने की विपरीत दिशा में काम कर रहा है [चित्र 9.4.(a)]। यह घर्षण बल दोनों संपर्क सतहों के बीच में उत्पन्न होता है अर्थात् बक्से के नीचे की सतह तथा फ़र्श की खुरदरी सतह के बीच। यह घर्षण बल, धकेलने में लगे बल को संतुलित करता है और यही कारण है कि बक्सा नहीं खिसकता है। चित्र 9.4(b) में बच्चे बक्से को जोर से धकेलते हैं लेकिन बक्सा फिर भी



चित्र 9.4

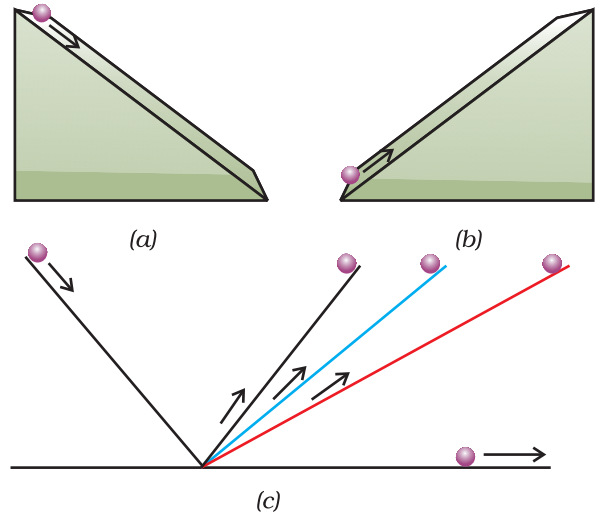
नहीं खिसकता है। ऐसा इसलिए है क्योंकि घर्षण बल अभी भी धकेलने वाले बल को संतुलित कर रहा है। अगर बच्चे बक्से को ज़्यादा जोर से धकेलते हैं तब धकेलने वाला बल घर्षण बल से अधिक हो जाता है [चित्र 9.4(c)]। यहाँ असंतुलित बल कार्य करता है, इसलिए बक्सा खिसकने लगता है।

जब हम साइकिल चलाते हैं, तो क्या होता है? पैडल चलाना बंद करने पर साइकिल की गति धीमी होने लगती है। ऐसा इसलिए होता है, क्योंकि घर्षण बल गति की दिशा के विपरीत दिशा में कार्य करता है। साइकिल को गति में रखने के लिए हमें फिर से पैडल चलाना पड़ता है। इस अवस्था में ऐसा प्रतीत होता है कि किसी वस्तु को सतत गतिशील बनाए रखने के लिए एक असंतुलित बल की आवश्यकता है। तथापि वह बिलकुल गलत है। कोई वस्तु समान वेग के साथ केवल तभी गतिशील रह सकती है, जब उस पर लगने वाला बल (बाह्य तथा घर्षण) संतुलित होते हैं तथा वस्तु पर कोई नेट बाह्य बल कार्य नहीं करता है। अगर किसी वस्तु पर असंतुलित बल लगाया जाता है, तो उसके वेग में परिवर्तन या उसकी दिशा में परिवर्तन होता है। इस प्रकार किसी वस्तु को त्वरित करने के लिए एक असंतुलित बल की आवश्यकता होती है और उसकी गति या गति की दिशा में तब तक परिवर्तन होता रहेगा जब तक यह संतुलित बल उस पर कार्य करता रहेगा। तथापि, यह बल हटा लेने पर, वस्तु प्राप्त हुए वेग से गतिमान रहेगी।

9.2 गति का प्रथम नियम

वस्तुओं की किसी आनत तल पर गति को देखकर गैलीलियो ने यह निष्कर्ष निकाला कि जब तक कोई बाह्य बल कार्य नहीं करता, वस्तुएँ एक निश्चित गति से चलती हैं। उन्होंने देखा कि काँच की गोली आनत तल पर लुढ़कती है तो उसका वेग बढ़ जाता है [चित्र 9.4(a)]। अगले अध्याय में आप पढ़ेंगे कि गोली असंतुलित गुरुत्वीय बल के कारण नीचे गिरती है

और नीचे पहुँचते-पहुँचते यह एक निश्चित वेग प्राप्त कर लेती है। चित्र 9.5(b) में दर्शाए अनुसार, जब यह काँच की गोली ऊपर की ओर चढ़ती है तब इसका वेग घटता है। चित्र 9.5(c) में दोनों ओर से एक आदर्श घर्षणरहित आनत तल पर एक गोली स्थिर है। गैलीलियो ने तर्क दिया कि जब गोली को बाईं ओर से छोड़ा जाता है तब यह ढाल पर नीचे की ओर लुढ़केगी तथा दाईं ओर के आनत तल पर उतनी ही ऊँचाई तक जाएगी, जितनी ऊँचाई से उसे छोड़ा गया था। यदि दोनों ओर के तलों के झुकाव समान हैं तो गोली उतनी ही दूरी चढ़ेगी जितनी दूर तक कि वह लुढ़की थी। अगर दाईं ओर के आनत तल के कोण को धीरे-धीरे कम किया जाए तो गोली को मूल ऊँचाई प्राप्त करने के लिए अधिक दूरी तय करनी होगी। अगर इस तल को क्षैतिज कर दिया जाए (अर्थात् ढाल को शून्य कर दिया जाए) तो गोली मूल ऊँचाई प्राप्त करने के लिए क्षैतिज तल पर लगातार चलती ही रहेगी। यहाँ गोली पर लगने वाला असंतुलित बल शून्य है। इस प्रकार यह ज्ञात होता है कि गोली की गति को बदलने के लिए एक असंतुलित बाह्य बल की आवश्यकता होती है लेकिन गोली की गति



चित्र 9.5: (a) किसी काँच की गोली का आनत तल पर नीचे की ओर लुढ़कना; (b) गोली की ऊपर की ओर गति; तथा (c) काँच की गोली की द्वि-आनत तल पर गति

गैलीलियो गैलिली का जन्म 15 फरवरी सन् 1564 में इटली के पीसा शहर में हुआ था। गैलीलियो की बचपन से ही गणित तथा प्राकृतिक दर्शन में रुचि थी। परंतु पिता विनेंचो गैलिली, उन्हें एक चिकित्सक बनाना चाहते थे। तदनुसार गैलीलियो ने सन् 1581 में चिकित्सा उपाधि के लिए पीसा विश्वविद्यालय में नामांकन लिया। इस पाठ्यक्रम को वे कभी पूरा नहीं कर पाए क्योंकि उनकी वास्तविक रुचि गणित में थी। सन् 1586 में उन्होंने अपनी प्रथम वैज्ञानिकी पुस्तक 'द लिटिल बैलेंस' (ला वैलेंसिटा) लिखी, जिसमें उन्होंने एक तुला द्वारा पदार्थों के आपेक्षिक घनत्व (अथवा विशिष्ट गुरुत्व) प्राप्त करने की आर्कीमिडीज की विधि का वर्णन किया। सन् 1589 में उन्होंने अपनी निबंध श्रेणी 'डी मौट्' में नत समतल के प्रयोग से, किसी गिरती हुई वस्तु के गिरने की दर कम होने संबंधी अपने सिद्धांत को प्रस्तुत किया।



गैलीलियो गैलिली
(1564 - 1642)

सन् 1592 में उन्हें वेनिस गणराज्य के पाडुआ विश्वविद्यालय में गणित के प्रोफेसर पद पर नियुक्त किया गया था। यहाँ भी उन्होंने लगातार गतिज सिद्धांतों पर प्रेक्षण किया। उन्होंने नत समतल तथा लोलक संबंधी अपने अध्ययन द्वारा नियत त्वरण से गतिशील वस्तुओं से संबंधित परिष्कृत नियम प्रतिपादित किया।

गैलीलियो एक कुशल शिल्पकार भी थे। उन्होंने विभिन्न प्रकार के दूरदर्शियों की श्रेणी विकसित की जिनकी प्रकाशिक दक्षता उस समय उपलब्ध दूरदर्शियों से काफी उत्तम थी। सन् 1640 के आस-पास उन्होंने प्रथम लोलक घड़ी की संरचना की। उनके खगोलीय आविष्कारों की एक पुस्तक 'स्टारी मैसेंजर' में गैलीलियो ने चंद्रमा पर पहाड़ों, छोटे-छोटे सितारों से मिलकर बनी आकाशगंगा तथा

बृहस्पति ग्रह के परितः चार छोटे पिंडों को घूमते हुए देखने का दावा किया। उन्होंने अपनी पुस्तकों 'डिस्कोर्स ऑन फ्लोटिंग बॉडीज' तथा 'लेटर्स ऑन दि सन स्पॉट' में सूर्य पर उपस्थित धब्बों के संदर्भ में अपने प्रेक्षणों का रहस्योद्घाटन किया।

अपने स्वयं के द्वारा निर्मित दूरदर्शियों के प्रयोग द्वारा शनि तथा शुक्र ग्रह के निरीक्षण से गैलीलियो ने यह तर्क दिया कि सभी ग्रह सूर्य के परितः ही कक्षीय गति करते हैं न कि पृथ्वी के परितः यह विचार उस समय प्रचलित विचारधारा के विपरीत था।

को एकरूप बनाए रखने के लिए किसी नेट बल की आवश्यकता नहीं होती है। वास्तविक अवस्था में शून्य असंतुलित बाह्य बल प्राप्त करना कठिन है। ऐसा गति की विपरीत दिशा में लगने वाले घर्षण बल के कारण होता है। इस प्रकार व्यवहार में गोली कुछ दूर चलने के बाद रुक जाती है। घर्षण के प्रभाव को न्यूनतम करने के लिए चिकनी काँच की गोली तथा चिकने समतल का प्रयोग एवं समतल की सतह पर चिकनाईयुक्त पदार्थ (लुब्रीकेंट) का लेप किया जाता है।

न्यूटन ने बल एवं गति के बारे में गैलीलियो के विचारों को आगे विकसित किया। उन्होंने तीन मौलिक नियमों को प्रस्तुत किया जो किसी वस्तु की गति को वर्णित करते हैं। इन नियमों को न्यूटन के गति के नियमों के नाम से जाना जाता है। गति का प्रथम नियम इस प्रकार है:

प्रत्येक वस्तु अपनी स्थिर अवस्था या सरल रेखा में एकसमान गति की अवस्था में बनी रहती है जब तक कि उस पर कोई बाहरी बल कार्यरत न हो।

दूसरे शब्दों में, सभी वस्तुएँ अपनी गति की अवस्था में परिवर्तन का विरोध करती हैं। गुणात्मक रूप में किसी वस्तु के विरामावस्था में रहने या समान वेग से गतिशील रहने की प्रवृत्ति को जड़त्व कहते हैं। यही कारण है कि गति के पहले नियम को जड़त्व का नियम भी कहते हैं।

किसी मोटर गाड़ी में यात्रा करते समय होने वाले अनुभवों की व्याख्या जड़त्व के नियम द्वारा की जा सकती है। सीट के सापेक्ष हम तब तक विरामावस्था में रहते हैं जब तक कि मोटरगाड़ी को रोकने के लिए ब्रेक न लगाई जाए। ब्रेक लगाए जाने पर गाड़ी के साथ सीट भी विरामावस्था में आ जाती है, परंतु हमारा शरीर जड़त्व के कारण गतिज अवस्था में ही बने रहने की प्रवृत्ति रखता है। अचानक ब्रेक लगने पर सीट के आगे लगे पैनल से टकराकर हम घायल भी हो सकते हैं। इस तरह की दुर्घटनाओं से बचने के लिए सुरक्षा बेल्ट का उपयोग किया जाता है। ये सुरक्षा बेल्ट हमारे आगे बढ़ने की गति को धीमा करती है। इसके विपरीत अनुभव हमें तब होता है जब हम मोटर बस में खड़े होते हैं एवं मोटर बस अचानक चल पड़ती है। इस स्थिति में हम पीछे की ओर झुक जाते हैं। ऐसा इसलिए होता है, क्योंकि मोटर बस के अचानक गति में आ जाने से हमारा पैर, जो मोटर बस के फर्श के संपर्क में रहता है, गति में आ जाता है। परंतु शरीर का ऊपरी भाग जड़त्व के कारण इस गति का विरोध करता है।

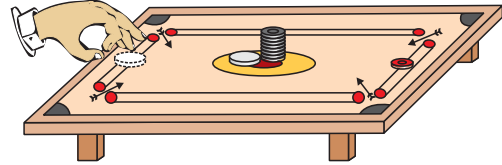
जब कोई मोटरकार तीव्र गति के साथ किसी तीक्ष्ण मोड़ पर मुड़ती है तो हम एक ओर झुकने लगते हैं। इसे भी जड़त्व के नियम से समझा जा सकता है। हमारा शरीर अपनी एक सरल रेखीय गति को बनाए रखना चाहता है। जब मोटर कार की दिशा को बदलने के लिए इंजन द्वारा एक असंतुलित बल लगाया जाता है तब हम अपने शरीर के जड़त्व के कारण सीट पर एक ओर झुक जाते हैं।

एक वस्तु तब तक अपनी विरामावस्था में रहेगी जब तक कि उस पर कोई असंतुलित बल नहीं लगा है। इसे निम्न गतिविधि द्वारा प्रदर्शित किया जा सकता है।

क्रियाकलाप 9.1

- चित्र 9.6 में दर्शाए अनुसार एक ही तरह की कैरम की गोटियों को एक के ऊपर एक रखकर ढेरी बनाएँ।

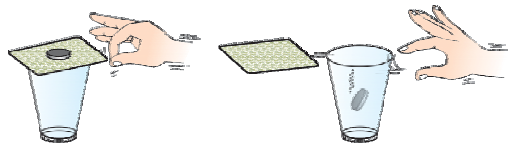
- एक अन्य गोटी (या स्ट्राइकर) को अपनी अंगुलियों से तीव्रता से क्षैतिज झटका देकर ढेरी की सबसे नीचे वाली गोटी पर टकराइए। यदि आप गोटी को पर्याप्त तीव्रता से टकराते हैं तो आप देखेंगे कि केवल नीचे वाली गोटी ही शीघ्रता से ढेरी से बाहर आती है। नीचे वाली गोटी के बाहर आ जाने के बाद शेष गोटियाँ अपने जड़त्व के कारण लंबवत् दिशा में नीचे की ओर 'गिर' जाती हैं।



चित्र 9.6: किसी तीव्र गति की कैरम की गोटी (या स्ट्राइकर) से टकरा कर ढेरी के सबसे नीचे वाली गोटी ही ढेरी से बाहर आती है।

क्रियाकलाप 9.2

- काँच के एक खाली गिलास के ऊपर एक कड़े ताश का पत्ता रखें।
- अब चित्र 9.7 में दर्शाए अनुसार पत्ते के ऊपर पाँच रुपये का एक सिक्का रखें। पत्ते को अंगुलियों से तीव्र क्षैतिज झटका दें।
- आप पाएँगे कि पत्ता आगे खिसक जाता है तथा सिक्का अपने जड़त्व के कारण नीचे की ओर गिलास में गिर जाता है। ऐसा इसलिए होता है क्योंकि पत्ते के हटने के बाद भी सिक्का अपनी विरामावस्था को बनाए रखना चाहता है।



चित्र 9.7: अंगुली से ताश के पत्ते को झटका देने पर पत्ते के ऊपर रखा सिक्का नीचे की ओर गिलास में गिर जाता है।

क्रियाकलाप 9.3

- पानी से भरा गिलास किसी ट्रे पर रखिए।
- ट्रे को हाथ से पकड़कर जितनी तेजी से हो सके, घूम जाइए।

- हम देखते हैं कि गिलास लुढ़क जाता है और पानी छलक जाता है, क्यों?

क्या आप अब समझे कि प्लेट में कप को रखने के लिए खाँचा क्यों बना होता है? अचानक झटका लगने की दशा में, प्लेट का खाँचा कप को गिरने से रोकता है।

9.3 जड़त्व तथा द्रव्यमान

अभी तक दिए सभी उदाहरणों और गतिविधियों से ज्ञात होता है कि प्रत्येक वस्तु अपनी गति की अवस्था में परिवर्तन का विरोध करती है। चाहे वह विरामावस्था में हो या गतिशील, वह अपनी मूल अवस्था को बनाए रखना चाहती है। वस्तु का यह गुण उसका जड़त्व कहलाता है। क्या सभी वस्तुओं का जड़त्व समान होता है? हम जानते हैं कि पुस्तकों से भरे बक्से को धक्का देने की अपेक्षा खाली बक्से को धक्का देना आसान होता है। उसी प्रकार हम एक फुटबॉल को किक लगाते हैं तो वह दूर चली जाती है जबकि अगर हम उतने ही बल से किसी उतने ही बड़े पत्थर पर किक लगाएँ, तो हो सकता है कि वह खिसके भी नहीं। हो सकता है कि ऐसा करते समय हमें ही चोट लग जाए। क्रियाकलाप 9.2 में हम पाँच रुपये के सिक्के के स्थान पर यदि कम द्रव्यमान के सिक्के का प्रयोग करते हैं तो हम पाते हैं कि उसी क्रिया को करने में हमें कम बल की आवश्यकता होती है। एक ठेलागाड़ी को चलाने के लिए जितने बल की आवश्यकता होती है, उतना बल यदि किसी रेलगाड़ी पर लगाया जाए तो उसकी गति में न के बराबर परिवर्तन होगा क्योंकि ठेलागाड़ी की तुलना में रेलगाड़ी अपनी गति में कम परिवर्तन चाहती है। इस प्रकार हम कह सकते हैं कि रेलगाड़ी का जड़त्व ठेलागाड़ी से अधिक है। इससे स्पष्ट है कि भारी वस्तुओं का जड़त्व अधिक होता है। मात्रात्मक रूप से, किसी वस्तु का जड़त्व उसके द्रव्यमान से मापा जाता है। अतः हम जड़त्व और द्रव्यमान को निम्न रूप में परिभाषित कर सकते हैं:

किसी भी वस्तु का जड़त्व उसका वह प्राकृतिक गुण है, जो उसकी विराम या गति की अवस्था में परिवर्तन

का विरोध करता है। इस प्रकार किसी वस्तु का द्रव्यमान उसके जड़त्व की माप है।

प्रश्न

1. निम्न में किसका जड़त्व अधिक है: (a) एक रबर की गेंद एवं उसी आकार का पत्थर, (b) एक साइकिल एवं एक रेलगाड़ी, (c) पाँच रुपये का एक सिक्का एवं एक रुपये का सिक्का।
2. नीचे दिए गए उदाहरण में गेंद का वेग कितनी बार बदलता है, जानने का प्रयास करें: “फुटबॉल का एक खिलाड़ी गेंद पर किक लगाकर गेंद को अपनी टीम के दूसरे खिलाड़ी के पास पहुँचाता है। दूसरा खिलाड़ी उस गेंद को किक लगाकर गोल की ओर पहुँचाने का प्रयास करता है। विपक्षी टीम का गोलकीपर गेंद को पकड़ता है और अपनी टीम के खिलाड़ी की ओर किक लगाता है।” इसके साथ ही उस कारक की भी पहचान करें जो प्रत्येक अवस्था में बल प्रदान करता है।
3. किसी पेड़ की शाखा को तीव्रता से हिलाने पर कुछ पत्तियाँ झड़ जाती हैं। क्यों?
4. जब कोई गतिशील बस अचानक रुकती है तो आप आगे की ओर झुक जाते हैं और जब विरामावस्था से गतिशील होती है तो पीछे की ओर हो जाते हैं, क्यों?

9.4 गति का द्वितीय नियम

गति का प्रथम नियम यह बताता है कि जब कोई असंतुलित बाह्य बल किसी वस्तु पर कार्य करता है तो उसके वेग में परिवर्तन होता है अर्थात् वस्तु त्वरण प्राप्त करती है। अब हम देखेंगे कि किसी वस्तु का त्वरण उस पर लगाए गए बल पर कैसे निर्भर होता है तथा उस बल को हम कैसे मापते हैं। आइए कुछ दैनिक अनुभवों का अध्ययन करें। टेबल-टेनिस खेलने के दौरान यदि गेंद किसी खिलाड़ी के शरीर से टकराती है, तो वह घायल नहीं होता। गति से आती हुई क्रिकेट की गेंद किसी दर्शक को लगने के बाद

उसे घायल कर सकती है। सड़क के किनारे खड़े किसी ट्रक से कोई दुर्घटना नहीं होती। परंतु 5 m s^{-1} जैसी कम गति से चलते हुए ट्रक से टक्कर, रास्ते में खड़े किसी व्यक्ति की मृत्यु का कारण बन सकती है। एक छोटे द्रव्यमान की वस्तु जैसे गोली को अगर बंदूक से तीव्र वेग से छोड़ा जाए तो वह भी किसी व्यक्ति की मृत्यु का कारण बन सकती है। इससे पता चलता है कि वस्तु के द्वारा उत्पन्न प्रभाव वस्तु के द्रव्यमान एवं वेग पर निर्भर करता है। इसी प्रकार यदि किसी वस्तु को त्वरित किया जाता है, तो अधिक वेग प्राप्त करने के लिए अधिक बल की आवश्यकता होती है। दूसरे शब्दों में, हम कह सकते हैं कि वस्तु के द्रव्यमान एवं वेग से संबंधित एक महत्वपूर्ण राशि होती है। संवेग नामक इस राशि को न्यूटन ने प्रस्तुत किया था। किसी वस्तु का संवेग p उसके द्रव्यमान m और वेग v के गुणनफल से परिभाषित किया जाता है।

$$p = mv \quad (9.1)$$

संवेग में परिमाण और दिशा दोनों होते हैं। इसकी दिशा वही होती है, जो वेग v की होती है। संवेग का SI मात्रक किलोग्राम-मीटर/सेकंड (kg m s^{-1}) होता है। चूंकि किसी असंतुलित बल के प्रयोग से उस वस्तु के वेग में परिवर्तन होता है, इसलिए यह कहा जा सकता है कि बल ही संवेग को भी परिवर्तित करता है।

एक ऐसी अवस्था के बारे में विचार करें जिसमें खराब बैट्री वाली एक कार को सीधी सड़क पर 1 m s^{-1} की गति प्रदान करने के लिए धक्का दिया जाता है, जो कि उसके इंजन को स्टार्ट करने के लिए पर्याप्त है। यदि एक या दो व्यक्ति इसे अचानक धक्का देते हैं तो भी यह स्टार्ट नहीं होती। लेकिन कुछ समय तक लगातार धक्का देने से कार उस गति पर आ जाती है। इससे स्पष्ट है कि कार के संवेग में परिवर्तन केवल बल के परिमाण से नहीं होता है, बल्कि उस समय से है जितने समय तक उस पर बल लगाया जाता है। इससे यह भी निष्कर्ष निकाला जा सकता है कि वस्तु के संवेग में परिवर्तन लाने में लगने वाला बल उसकी उस समय दर पर निर्भर करता है, जिसमें कि संवेग में परिवर्तन होता है।

गति का द्वितीय नियम यह बताता है कि किसी वस्तु के संवेग में परिवर्तन की दर उस पर लगने वाले असंतुलित बल की दिशा में बल के समानुपातिक होती है।

9.4.1 गति के द्वितीय नियम की गणितीय गणना

माना कि m द्रव्यमान की कोई वस्तु u प्रारंभिक वेग से सीधी रेखा में चल रही है। t समय तक एक निश्चित बल F लगाने पर उस वस्तु का वेग v हो जाता है। तब इसका प्रारंभिक और अंतिम संवेग क्रमशः, $p_1 = mu$ और $p_2 = mv$ होंगे।

$$\begin{aligned} \text{संवेग में परिवर्तन} &\propto p_2 - p_1 \\ &\propto mv - mu \\ &\propto m \times (v - u) \\ \text{संवेग में परिवर्तन की दर} &\propto \frac{m \times (v - u)}{t} \end{aligned}$$

या लगाया गया बल, $F \propto \frac{m \times (v - u)}{t}$

$$F = \frac{km \times (v - u)}{t} \quad (9.2)$$

$$= kma \quad (9.3)$$

यहाँ $a [= (v - u) / t]$ वेग में परिवर्तन की दर अर्थात् त्वरण है। k एक आनुपातिकता स्थिरांक है। द्रव्यमान और त्वरण के SI मात्रक क्रमशः kg और m s^{-2} हैं। हम बल का मात्रक इस प्रकार लेते हैं कि स्थिरांक k का मान एक हो जाता है। इस इकाई बल को उस मात्रा के रूप में परिभाषित करते हैं, 1 kg द्रव्यमान वाली किसी वस्तु में 1 m s^{-2} का त्वरण उत्पन्न करती है, अर्थात् 1 इकाई बल $= k(1 \text{ g}) \times (1 \text{ m s}^{-2})$ । इस प्रकार k का मान एक हो जाता है। समीकरण (9.3) से,

$$F = ma \quad (9.4)$$

बल का मात्रक kg m s^{-2} है, इसे न्यूटन (आइजक न्यूटन के नाम पर) भी कहते हैं, जिसे N द्वारा प्रदर्शित किया जाता है। गति के द्वितीय नियम से हमें किसी वस्तु पर लगने वाले बल को मापने की विधि मिलती है। बल को उस वस्तु में उत्पन्न त्वरण तथा वस्तु के द्रव्यमान के गुणनफल से प्राप्त किया जाता है।

गति के द्वितीय नियम का प्रयोग हम अपने दैनिक जीवन में प्रायः देखते हैं। क्या आपने क्रिकेट मैच के दौरान मैदान में क्षेत्ररक्षक को तेज़ गति से आ रही गेंद को लपकते समय हाथ को पीछे की ओर खींचते देखा है? इस प्रकार से क्षेत्ररक्षक गेंद के वेग को शून्य करने में अधिक समय लगाता है। इस प्रकार गेंद में संवेग परिवर्तन की दर कम हो जाती है। इस कारण तेज़ गति से आ रही गेंद का प्रभाव हाथ पर कम पड़ता है। अगर गेंद को अचानक रोका जाता है तो तीव्र गति से आ रही गेंद का वेग बहुत कम समय में शून्य होता है अर्थात् गेंद के संवेग में परिवर्तन की दर अधिक होगी, इसलिए कैच लपकने में अधिक बल लगाना होगा जिससे हो सकता है कि खिलाड़ी की हथेली में चोट लग जाए। ऊँची कूद वाले मैदान में, खिलाड़ियों को कुशन या बालू पर कूदना होता है। ऐसा खिलाड़ियों के छलाँग लगाने के बाद गिरने के समय को बढ़ाने के लिए किया जाता है। इस स्थिति में संवेग में परिवर्तन की दर कम होती है। सोचो कि कैसे कराटे का एक खिलाड़ी एक ही झटके में बर्फ़ की एक सिल्ली को तोड़ देता है!



चित्र 9.8: क्रिकेट के खेल में कैच लपकने के लिए क्षेत्ररक्षक गेंद के साथ अपने हाथों को धीरे-धीरे पीछे की ओर खींचता है।

गति के द्वितीय नियम के गणितीय सूत्र [समीकरण (9.4)] के उपयोग से गति के प्रथम नियम को गणितीय रूप से प्राप्त किया जा सकता है। समीकरण (9.4) से,

$$F = ma$$

बल तथा गति के नियम

$$\text{या } F = \frac{m(v-u)}{t}$$

(9.5)

$$\text{या } Ft = mv - mu$$

अर्थात् जब $F=0$, तो किसी भी समय t पर, $v=u$ इसका अर्थ यह है कि वस्तु समान वेग u से चलती रहेगी। यदि u शून्य है तो v भी शून्य होगा अर्थात् वस्तु विरामावस्था में ही रहेगी।

उदाहरण 9.1 एक 5 kg द्रव्यमान वाली वस्तु पर 2 s के लिए एक नियत बल कार्यरत होता है। यह वस्तु के वेग को 3 m/s से बढ़ा कर 7 m/s कर देता है। लगाए गए बल की मात्रा ज्ञात करें। यदि इस बल को 5 s के लिए आरोपित किया जाए, तो वस्तु का अंतिम वेग क्या होगा?

हल:

हमें ज्ञात है: $u = 3 \text{ m s}^{-1}$ और $v = 7 \text{ m s}^{-1}$,
 $t = 2 \text{ s}$ और $m = 5 \text{ kg}$

$$\text{समीकरण (9.5) से } F = \frac{m(v-u)}{t}$$

मान रखने पर

$$F = 5 \text{ kg } (7 \text{ m s}^{-1} - 3 \text{ m s}^{-1}) / 2 \text{ s} = 10 \text{ N}$$

अब अगर 5 s ($t = 5 \text{ s}$) तक बल लगाया जाता है तो समीकरण (9.5) को पुनः लिखकर अंतिम वेग प्राप्त किया जा सकता है

$$v = u + \frac{Ft}{m}$$

u , F , m और t का मान रखने पर अंतिम वेग
 $v = 13 \text{ m s}^{-1}$

उदाहरण 9.2 किसमें अधिक बल की आवश्यकता होगी: 2 kg द्रव्यमान वाली किसी वस्तु को 5 m s^{-2} की दर से त्वरित करने में या 4 kg द्रव्यमान वाली वस्तु को 2 m s^{-2} की दर से त्वरित करने में?

हल:

समीकरण (9.4) से, $F = ma$

यहाँ $m_1 = 2 \text{ kg}$; $a_1 = 5 \text{ m s}^{-2}$ तथा

$m_2 = 4 \text{ kg}$; $a_2 = 2 \text{ m s}^{-2}$.

इस प्रकार,

$F_1 = m_1 a_1 = 2 \text{ kg} \times 5 \text{ m s}^{-2} = 10 \text{ N}$; तथा

$F_2 = m_2 a_2 = 4 \text{ kg} \times 2 \text{ m s}^{-2} = 8 \text{ N}$
 $\Rightarrow F_1 > F_2$

अतः 2 kg द्रव्यमान की वस्तु को 5 m s^{-2} की दर से त्वरित करने में अधिक बल की आवश्यकता होगी।

उदाहरण 9.3 एक कार 108 km/h की गति से चल रही है और ब्रेक लगाने के बाद यह रुकने में 4 s का समय लेती है। कार पर ब्रेक लगाए जाने के बाद लगाने वाले बल की गणना करें। कार का यात्रियों सहित कुल द्रव्यमान 1000 kg है।

हल:

कार का प्रारंभिक वेग

$$\begin{aligned} u &= 108 \text{ km/h} \\ &= 108 \times 1000 \text{ m} / (60 \times 60 \text{ s}) \\ &= 30 \text{ m s}^{-1} \end{aligned}$$

तथा कार का अंतिम वेग, $v = 0 \text{ m s}^{-1}$

कार का कुल द्रव्यमान = 1000 kg तथा कार को रोकने में लगा समय $t = 4 \text{ s}$ तथा समीकरण (9.5) से ब्रेक लगाने वाले बल F का परिमाण $m(v - u)/t$ है।

मान रखने पर,

$$\begin{aligned} F &= 1000 \text{ kg} \times (0 - 30) \text{ m s}^{-1} / 4 \text{ s} \\ &= -7500 \text{ kg m s}^{-2} \text{ या } -7500 \text{ N} \end{aligned}$$

ऋणात्मक चिह्न दर्शाता है कि ब्रेक के द्वारा लगाया गया बल गाड़ी की गति के विपरीत दिशा में आरोपित है।

उदाहरण 9.4 5 N का एक बल किसी द्रव्यमान m_1 को 10 m s^{-2} का त्वरण देता है तथा द्रव्यमान m_2 को 20 m s^{-2} का त्वरण देता है। अगर दोनों द्रव्यमानों को एक साथ मिला दिया जाए, तो इस बल के द्वारा क्या त्वरण उत्पन्न होगा?

हल:

समीकरण (9.4) से $m_1 = F/a_1$; तथा

$m_2 = F/a_2$

यहाँ $a_1 = 10 \text{ m s}^{-2}$;

$a_2 = 20 \text{ m s}^{-2}$ तथा $F = 5 \text{ N}$

इस प्रकार, $m_1 = 5 \text{ N} / 10 \text{ m s}^{-2} = 0.50 \text{ kg}$;

तथा

$m_2 = 5 \text{ N} / 20 \text{ m s}^{-2} = 0.25 \text{ kg}$

जब दोनों द्रव्यमानों को एक साथ मिलाया जाता है,

$$\begin{aligned} \text{पूरा द्रव्यमान } m &= 0.50 \text{ kg} + 0.25 \text{ kg} \\ &= 0.75 \text{ kg} \end{aligned}$$

अब पूरे द्रव्यमान m पर 5 N बल द्वारा उत्पन्न किया गया त्वरण,

$$a = F/m = 5 \text{ N} / 0.75 \text{ kg} = 6.67 \text{ m s}^{-2}$$

उदाहरण 9.5 एक लंबी मेज़ पर सीधी रेखा में जा रही 20 g द्रव्यमान की गेंद का वेग-समय ग्राफ चित्र 9.9 में दिया गया है। गेंद को विरामावस्था में लाने के लिए मेज़ द्वारा कितना बल लगेगा?



चित्र 9.9

हल:

गेंद का प्रारंभिक वेग 20 cm s^{-1} है। मेज़ के द्वारा गेंद पर घर्षण बल लगने के कारण गेंद का वेग 10 s में शून्य हो जाता है। चूँकि वेग-समय ग्राफ़ एक सीधी रेखा है इससे स्पष्ट है कि गेंद एक नियत त्वरित बल के साथ चलती है।

$$\begin{aligned} \text{त्वरण, } a &= \frac{v-u}{t} \\ &= (0 \text{ cm s}^{-1} - 20 \text{ cm s}^{-1})/10 \text{ s} \\ &= -2 \text{ cm s}^{-2} = -0.02 \text{ m s}^{-2} \end{aligned}$$

गेंद पर लगा घर्षण बल,

$$\begin{aligned} F &= ma = (20/1000) \text{ kg} \times (-0.02 \text{ m s}^{-2}) \\ &= -0.0004 \text{ N} \end{aligned}$$

ऋणात्मक चिह्न दर्शाता है कि गेंद की गति की दिशा के विपरीत मेज़ द्वारा घर्षण बल आरोपित किया जाता है।

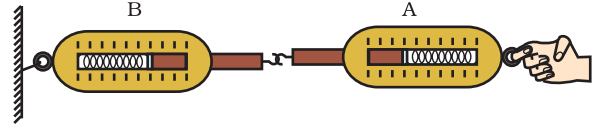
9.5 गति का तृतीय नियम

पहले दोनों गति के नियमों से हमें ज्ञात होता है कि कोई प्रयुक्त बल वस्तु की गति की अवस्था में परिवर्तन लाता है तथा इनसे हमें बल को मापने की विधि भी प्राप्त होती है। गति के तीसरे नियम के अनुसार, जब एक वस्तु दूसरी वस्तु पर बल लगाती है तब दूसरी वस्तु द्वारा भी पहली वस्तु पर तात्क्षणिक बल लगाया जाता है। ये दोनों बल परिमाण में सदैव समान लेकिन दिशा में विपरीत होते हैं। इसका तात्पर्य यह है कि बल सदैव युगल रूप में होते हैं। ये बल कभी एक वस्तु पर कार्य नहीं करते बल्कि दो अलग-अलग वस्तुओं पर कार्य करते हैं। फुटबॉल के खेल में प्रायः हम गेंद को तेज़ गति से किक मारने के क्रम में विपक्षी टीम के खिलाड़ी से टकरा जाते हैं। इस क्रम में दोनों खिलाड़ी एक-दूसरे पर बल लगाते हैं, अतएव दोनों ही खिलाड़ी चोटिल होते हैं। दूसरे शब्दों में, किसी एकल बल का अस्तित्व नहीं होता

बल तथा गति के नियम

बल्कि ये सदैव युगल रूप में होते हैं। इन दोनों विरोधी बलों को क्रिया तथा प्रतिक्रिया बल कहा जाता है।

माना कि दो स्प्रिंग तुलाएँ एक-दूसरे से जुड़ी हैं, जैसा कि चित्र 9.10 में दर्शाया गया है। तुला B का स्थिर सिरा दीवार से जुड़ा है। जब तुला A के मुक्त सिरे पर बल लगाया जाता है तब हम पाते हैं कि दोनों तुलाएँ एक ही मान दर्शाती हैं। अर्थात् तुला A द्वारा तुला B पर प्रयुक्त बल तुला B के द्वारा तुला A पर लगाए गए बल के परिमाण में समान है परंतु इन दोनों बलों की दिशाएँ परस्पर विपरीत हैं। तुला A के द्वारा तुला B पर लगाया गया बल क्रिया है जबकि तुला B द्वारा तुला A पर लगाया गया बल प्रतिक्रिया है। अतः गति के तृतीय नियम को इस प्रकार भी व्यक्त किया जाता है: किसी भी क्रिया के लिए ठीक उसके समान किंतु विपरीत दिशा में प्रतिक्रिया होती है। यद्यपि यह अवश्य याद रखना चाहिए कि क्रिया और प्रतिक्रिया बल सदैव दो अलग-अलग वस्तुओं पर कार्य करते हैं।

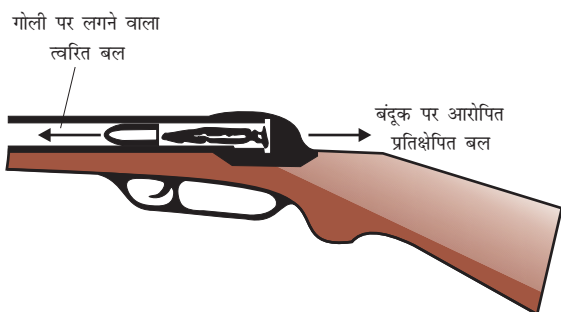


चित्र 9.10: क्रिया तथा प्रतिक्रिया बल समान तथा विपरीत होते हैं।


माना कि आप विश्राम की अवस्था में हैं और सड़क पर चलना प्रारंभ करते हैं। द्वितीय नियम के अनुसार इसके लिए एक बल की आवश्यकता होती है, जो आपके शरीर में त्वरण उत्पन्न करता है। यह कौन-सा बल है? क्या यह पेशीय बल है जो आप सड़क पर लगाते हैं? क्या यह बल हम उसी दिशा में लगाते हैं जिस दिशा में हम आगे बढ़ते हैं? नहीं, हम नीचे पृथ्वी की सतह को अपने पैरों से पीछे धकेलते हैं। सड़क भी आपके पैर पर उतना ही प्रतिक्रिया बल विपरीत दिशा में लगाती है जिसके प्रभाव से आप आगे बढ़ते हैं।

यह जानना आवश्यक है कि यद्यपि क्रिया और प्रतिक्रिया बल मान में हमेशा समान होते हैं फिर भी ये बल एकसमान परिमाण के त्वरण उत्पन्न नहीं कर सकते। ऐसा इसलिए है क्योंकि प्रत्येक बल अलग-अलग द्रव्यमान की वस्तुओं पर कार्य करते हैं।

बंदूक से गोली छोड़ने की अवस्था में, बंदूक द्वारा गोली पर आगे की ओर एक बल निरूपित होता है। गोली भी बंदूक पर एकसमान परंतु विपरीत दिशा में प्रतिक्रिया बल लगाती है। इससे बंदूक पीछे की ओर प्रतिकक्षेपित होती है (चित्र 9.11)। चूँकि बंदूक का द्रव्यमान गोली के द्रव्यमान से बहुत अधिक होता है, इसलिए बंदूक का त्वरण गोली के त्वरण से काफी कम होता है। एक नाविक द्वारा नाव से आगे की ओर कूदने की स्थिति में भी, गति के तीसरे नियम को प्रदर्शित किया जा सकता है। नाविक आगे की ओर कूदता है तो नाव पर लगने वाला प्रतिक्रिया बल नाव को पीछे की ओर धकेलता है (चित्र 9.12)।




चित्र 9.11: गोली पर लगने वाला त्वरित बल तथा बंदूक का प्रतिकक्षेपण



चित्र 9.12: नाविक के आगे की ओर कूदने की स्थिति में नाव पीछे की ओर गति करती है।

क्रियाकलाप 9.4

- दो बच्चों को पहिए वाली गाड़ी पर खड़ा होने को कहें जैसा कि चित्र 9.13 में दर्शाया गया है।
- उन्हें बालू से भरा थैला या कोई भारी वस्तु दे दें। अब उन्हें थैले को लपकते हुए खेलने को कहें।
- क्या बालू के थैले को फेंकने (क्रिया) के कारण उसमें से प्रत्येक तात्क्षणिक प्रतिक्रिया का अनुभव करते हैं?
- आप गाड़ी के पहिए पर कोई सफ़ेद रेखा खींच दें, ताकि जब वे दोनों बच्चे थैले को फेंके तो गाड़ी की गति का अवलोकन किया जा सके।



चित्र 9.13

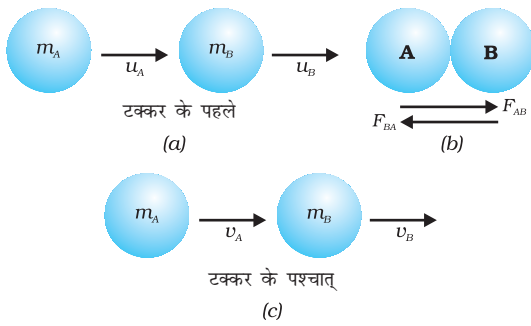
- अब दो बच्चों को किसी एक गाड़ी पर खड़ा कर दें तथा एक अन्य बच्चे को दूसरी गाड़ी पर। आप यहाँ गति के द्वितीय नियम को देख सकते हैं, क्योंकि इस अवस्था में यह बल अलग-अलग त्वरण उत्पन्न करेगा।

इस क्रिया में दिखाई गई गाड़ी 50 cm × 100 cm आकार के 12 mm या 18 mm मोटे प्लाइवोर्ड में दो जोड़े पहिए लगाकर बनाई जा सकती है। स्केटबोर्ड प्रभावी नहीं होगा क्योंकि इसका सीधी रेखा में गति करना कठिन है।

9.6 संवेग संरक्षण

माना कि दो वस्तुएँ (दो गेंदें A तथा B) जिनका द्रव्यमान क्रमशः m_A और m_B है, एक ही सरल

रेखीय दिशा में अलग-अलग वेग क्रमशः u_A और u_B से गति कर रही हैं [चित्र 9.14(a)] तथा उन पर कोई अन्य असंतुलित बल कार्यरत नहीं है। माना $u_A > u_B$ और दोनों गेंदें एक-दूसरे से टकराती हैं जैसा कि चित्र 9.14(b) में दर्शाया गया है। माना कि टक्कर का समय t है। इस क्रम में गेंद A, गेंद B पर F_{AB} बल लगाती है तथा गेंद B, गेंद A पर F_{BA} बल लगाती है। माना कि टकराने के बाद गेंद A और गेंद B का वेग क्रमशः v_A और v_B हैं, [चित्र 9.14(c)]।



चित्र 9.14: दो गेंदों की टक्कर में संवेग संरक्षण

समीकरण (9.1) से, गेंद A का संवेग टकराने के पहले और बाद क्रमशः $m_A u_A$ और $m_A v_A$ होंगे। संवेग में परिवर्तन की दर (या F_{AB} , क्रिया) टकराने के समय होगी $m_A \frac{(v_A - u_A)}{t}$ उसी तरह, गेंद B के संवेग परिवर्तन की दर (या F_{BA} , प्रतिक्रिया) टकराने के समय $m_B \frac{(v_B - u_B)}{t}$ होगी।

गति के तृतीय नियम के अनुसार, गेंद A के द्वारा गेंद B पर लगाया गया बल F_{AB} तथा गेंद B के द्वारा लगाया गया बल F_{BA} एक-दूसरे के बराबर और विपरीत होगा। अतः

$$F_{AB} = -F_{BA} \quad (9.6)$$

$$\text{या } m_A \frac{(v_A - u_A)}{t} = -m_B \frac{(v_B - u_B)}{t}$$

अतः

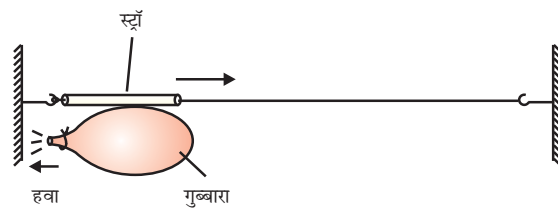
$$m_A u_A + m_B u_B = m_A v_A + m_B v_B \quad (9.7)$$

टकराने के पहले गेंदें A और B का कुल संवेग $(m_A u_A + m_B u_B)$ तथा टकराने के बाद कुल संवेग $(m_A v_A + m_B v_B)$ हैं। समीकरण (9.7) से हम पाते हैं कि जब गेंदों पर कोई बाहरी बल कार्य नहीं कर रहा हो तो दोनों गेंदों का कुल संवेग बदलता नहीं है या कुल संवेग संरक्षित रहता है।

इस प्रयोग के आधार पर हम कह सकते हैं कि दो वस्तुओं के संवेग का योग टकराने के पहले और टकराने के बाद बराबर रहता है, जबकि उन पर कोई असंतुलित बल कार्य न कर रहा हो। इसे संवेग संरक्षण का नियम कहते हैं। इसे इस प्रकार भी व्यक्त कर सकते हैं कि दो वस्तुओं का कुल संवेग टकराने की प्रक्रिया में अपरिवर्तनीय या संरक्षित रहता है।

क्रियाकलाप 9.5


- एक बड़े आकार का गुब्बारा (बैलून) लें तथा इसमें पूरी तरह से हवा भरें।
- इसके मुख को धागे से बाँधें।
- इसकी सतह पर किसी चिपकाने वाले टेप की सहायता से चित्र 9.15 में दर्शाए अनुसार एक स्ट्रॉ (प्लास्टिक की पतली नली) लगाएँ।
- स्ट्रॉ के बीच से एक धागे को पार कराएँ, जिसके दोनों सिरों को दीवार पर चित्रानुसार लगाएँ।
- गुब्बारे के मुँह पर बाँधे धागे को खोल दें।
- अब गुब्बारे में भरी हवा उसके मुख से बाहर की ओर निकलने लगेगी।
- स्ट्रॉ (अथवा गुब्बारे) की गति की दिशा का अवलोकन करें।



चित्र 9.15

क्रियाकलाप 9.6

- अच्छे काँच की एक परखनली (टेस्ट ट्यूब) लें तथा उसमें थोड़ा पानी डालें। परखनली के मुख पर एक स्टॉप कॉर्क लगाएँ।
- चित्र 9.16 में दर्शाए अनुसार अब परखनली को दो धागों के द्वारा स्टैंड पर क्षैतिज दिशा में लटकाएँ।
- बर्नर की सहायता से परखनली को तब तक गर्म करें, जब तक कि परखनली का पानी वाष्पित न हो जाए तथा कॉर्क बाहर न आ जाए।
- हम पाते हैं कि परखनली कॉर्क की गति की विपरीत दिशा में प्रक्षेपित होती है।



चित्र 9.16

- कॉर्क तथा प्रक्षेपित परखनली के वेगों में अंतर का भी अवलोकन करें।

उदाहरण 9.6 2 kg के एक पिस्टल से 20 g द्रव्यमान की एक गोली 150 m s⁻¹ के क्षैतिज वेग से छोड़ी जाती है। पिस्टल के पीछे हटने के वेग का परिकलन करें।

हल:

गोली का द्रव्यमान, $m_1 = 20 \text{ g} (= 0.02 \text{ kg})$
 पिस्टल का द्रव्यमान, $m_2 = 2 \text{ kg}$
 गोली का प्रारंभिक वेग (u_1) तथा पिस्टल का प्रारंभिक वेग (u_2) क्रमशः शून्य है।

अर्थात् $u_1 - u_2 = 0$

गोली का अंतिम वेग $v_1 = + 150 \text{ m s}^{-1}$

गोली की दिशा बाएँ से दाएँ परिपाटी के अनुसार धनात्मक (चित्र 9.17), ली गई है। माना कि पिस्टल का प्रतिकक्षेपित वेग v है। गोली छूटने के पहले, गोली तथा पिस्टल का कुल संवेग,

$$= (2 + 0.02) \text{ kg} \times 0 \text{ m s}^{-1} \\ = 0 \text{ kg m s}^{-1}$$

गोली छूटने के बाद कुल संवेग

$$= 0.02 \text{ kg} \times (+ 150 \text{ m s}^{-1}) \\ + 2 \text{ kg} \times v \text{ m s}^{-1} \\ = (3 + 2v) \text{ kg m s}^{-1}$$

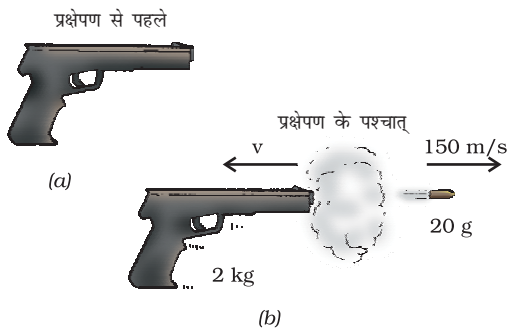
संवेग संरक्षण के नियम के अनुसार,

गोली छूटने के बाद का कुल संवेग = गोली छूटने के पहले का कुल संवेग

$$3 + 2v = 0$$

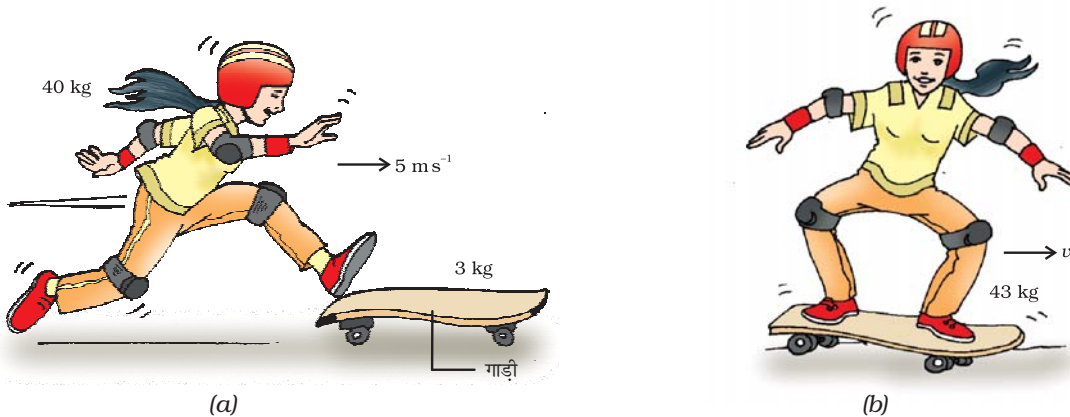
$$\Rightarrow v = - 1.5 \text{ m s}^{-1}$$

ऋणात्मक चिह्न यह दर्शाता है कि पिस्टल गोली के विपरीत दिशा में अर्थात्, दाईं से बाईं ओर प्रतिकक्षेपित होगी।



चित्र 9.17: पिस्टल का प्रतिकक्षेपण

उदाहरण 9.7: 40 kg द्रव्यमान वाली एक लड़की, 5 m s⁻¹ के क्षैतिज वेग से एक 3 kg द्रव्यमान वाली स्थिर गाड़ी पर कूदती है। गाड़ी के पहिए घर्षणरहित हैं। गाड़ी की गति प्रारंभ करने की अवस्था में लड़की का वेग क्या होगा? मान लें कि क्षैतिज दिशा में कोई असंतुलित बल कार्य नहीं कर रहा है।



चित्र 9.18: लड़की गाड़ी पर कूदती है

हल:

लड़की तथा गाड़ी का लड़की के कूदने से पहले कुल संवेग

$$= 40 \text{ kg} \times 5 \text{ m s}^{-1} + 3 \text{ kg} \times 0 \text{ m s}^{-1} \\ = 200 \text{ kg m s}^{-1}$$

माना कि लड़की के गाड़ी पर कूदने के पश्चात् गाड़ी तथा लड़की का वेग v है। इस अवस्था में गाड़ी तथा लड़की का कुल संवेग

$$= (40 + 3) \text{ kg} \times v \text{ m s}^{-1} \\ = 43 v \text{ kg m s}^{-1}$$

संवेग संरक्षण के नियम के अनुसार दोनों स्थितियों में कुल संवेग समान होंगे।

अर्थात्,

$$43 v = 200 \\ \Rightarrow v = 200/43 = +4.65 \text{ m s}^{-1}.$$

गाड़ी पर सवार लड़की 4.65 m s^{-1} के वेग से छलाँग लगाने की दिशा में चलेगी (चित्र 9.18)।

उदाहरण 9.8 हॉकी की प्रतिद्वंदी टीमों के दो खिलाड़ी गेंद को हिट करने के प्रयास में परस्पर टकरा जाते हैं तथा आपस में उलझ जाते हैं। पहले खिलाड़ी का द्रव्यमान 60 kg है तथा वह 5.0 m s^{-1} के वेग से गति में था,

जबकि दूसरा खिलाड़ी, जिसका द्रव्यमान 55 kg है तथा वह 6.0 m s^{-1} के वेग से पहले खिलाड़ी की ओर गति कर रहा था। टकराकर उलझने के बाद वे दोनों किस दिशा में किस वेग से गति करेंगे। मान लें कि दोनों खिलाड़ियों के पैर तथा पृथ्वी के बीच कार्यरत घर्षण बल नगण्य है।

हल:

माना पहला खिलाड़ी बाएँ से दाएँ दौड़ रहा है। परिपाटी के अनुसार, बाएँ से दाएँ गति की दिशा धनात्मक तथा दाएँ से बाएँ गति की दिशा को ऋणात्मक लेते हैं (चित्र 9.19)। प्रतीक m तथा u दोनों खिलाड़ियों के क्रमशः द्रव्यमान और वेग को दर्शाते हैं। इन भौतिक राशियों पर अधोलिखित संख्याएँ 1 तथा 2 क्रमशः प्रथम एवं द्वितीय हॉकी खिलाड़ियों को दर्शाती हैं। अतः

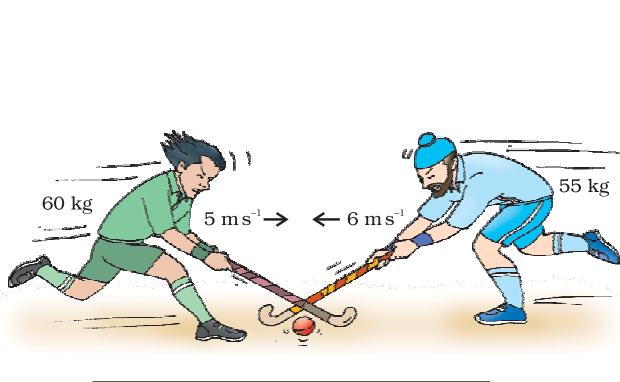
$$m_1 = 60 \text{ kg}; u_1 = +5 \text{ m s}^{-1}; \text{ तथा}$$

$$m_2 = 55 \text{ kg}; u_2 = -6 \text{ m s}^{-1}$$

टक्कर से पहले दोनों खिलाड़ियों का कुल संवेग

$$= 60 \text{ kg} \times (+5 \text{ m s}^{-1}) + 55 \text{ kg} \times (-6 \text{ m s}^{-1}) \\ = -30 \text{ kg m s}^{-1}$$

माना कि दोनों खिलाड़ियों के टकराने के पश्चात् उलझने पर वेग v है, टक्कर के पश्चात् कुल संवेग



(a)



(b)

चित्र 9.19: दो हॉकी खिलाड़ियों की टक्कर: (a) टक्कर से पहले तथा (b) टक्कर के पश्चात्

$$\begin{aligned}
 &= (m_1 + m_2) \times v \\
 &= (60 + 55) \text{ kg} \times v \text{ m s}^{-1} \\
 &= 115 \times v \text{ kg m s}^{-1}
 \end{aligned}$$

संवेग संरक्षण के नियम के अनुसार, टक्कर से पहले तथा बाद के संवेगों की समानता से,

$$v = -30/115 = -0.26 \text{ m s}^{-1}$$

अतः उलझने के पश्चात् दोनों खिलाड़ी दाएँ से बाएँ 0.26 m s^{-1} के वेग से गतिशील होंगे।

2. एक अग्निशमन कर्मचारी को तीव्र गति से बहुतायत मात्रा में पानी फेंकने वाली रबड़ की नली को पकड़ने में कठिनाई क्यों होती है? स्पष्ट करें।
3. एक 50 g द्रव्यमान की गोली 4 kg द्रव्यमान की रायफल से 35 m s^{-1} के प्रारंभिक वेग से छोड़ी जाती है। रायफल के प्रारंभिक प्रतिक्षेपित वेग की गणना कीजिए।
4. 100 g और 200 g द्रव्यमान की दो वस्तुएँ एक ही रेखा के अनुदिश एक ही दिशा में क्रमशः 2 m s^{-1} और 1 m s^{-1} के वेग से गति कर रही हैं। दोनों वस्तुएँ टकरा जाती हैं। टक्कर के पश्चात् प्रथम वस्तु का वेग 1.67 m s^{-1} हो जाता है, तो दूसरी वस्तु का वेग ज्ञात करें।

प्रश्न

1. यदि क्रिया सदैव प्रतिक्रिया के बराबर है तो स्पष्ट कीजिए कि घोड़ा गाड़ी को कैसे खींच पाता है?

संरक्षण के नियम

संरक्षण के समस्त नियमों; जैसे - संवेग, ऊर्जा, कोणीय संवेग, आवेश आदि के संरक्षण को भौतिकी में मौलिक नियम माना जाता है। ये सभी संरक्षण नियम प्रायोगिक प्रेक्षणों पर आधारित हैं। यह स्मरण रखना आवश्यक है कि संरक्षण के नियमों को प्रमाणित नहीं किया जा सकता। इन्हें प्रयोगों के द्वारा ही सत्यापित या खंडित किया जा सकता है। किसी भी संरक्षण नियम के अनुकूल प्रयोग के परिणाम उस नियम को सत्यापित तो करते हैं, लेकिन उनको सिद्ध नहीं करते। दूसरी ओर, यदि एक भी प्रयोग के परिणाम इस नियम के विरुद्ध हों तो यह संरक्षण नियम को खंडित करने के लिए पर्याप्त होगा।

संवेग संरक्षण का नियम विभिन्न प्रकार के निरीक्षणों एवं प्रयोगों के पश्चात् निगमित किया गया है। इस नियम को लगभग तीन शताब्दी पूर्व प्रतिपादित किया गया था। इस नियम को खंडित कर सकने वाली किसी स्थिति का अभी तक कोई अनुभव ज्ञात नहीं है। विभिन्न दैनिक अनुभवों को संवेग संरक्षण के नियम के आधार पर स्पष्ट किया जा सकता है।



आपने क्या सीखा

- गति का प्रथम नियम: वस्तु अपनी विरामावस्था अथवा सरल रेखा पर एक समान गति की अवस्था में तब तक बनी रहती है, जब तक उस पर कोई असंतुलित बल कार्य न करे।
- वस्तुओं द्वारा अपनी गति की अवस्था में परिवर्तन का प्रतिरोध करने की प्रवृत्ति को जड़त्व कहते हैं।
- किसी वस्तु का द्रव्यमान उसके जड़त्व की माप है। इसका SI मात्रक किलोग्राम (kg) है।
- घर्षण बल सदैव वस्तु की गति का प्रतिरोध करता है।
- गति का द्वितीय नियम: किसी वस्तु के संवेग परिवर्तन की दर वस्तु पर आरोपित असंतुलित बल के समानुपाती एवं बल की दिशा में होती है।
- बल का SI मात्रक kg m s^{-2} है। इसे न्यूटन के नाम से भी जाना जाता है तथा प्रतीक N द्वारा व्यक्त किया जाता है। 1 न्यूटन का बल किसी 1 kg द्रव्यमान की वस्तु में 1 m s^{-2} का त्वरण उत्पन्न करता है।
- वस्तु का संवेग, उसके द्रव्यमान एवं वेग का गुणनफल होता है तथा इसकी दिशा वही होती है, जो वस्तु के वेग की होती है। इसका SI मात्रक kg m s^{-1} होता है।
- गति का तृतीय नियम: प्रत्येक क्रिया के समान एवं विपरीत प्रतिक्रिया होती है। ये दो विभिन्न वस्तुओं पर कार्य करती हैं।
- किसी विलग निकाय में कुल संवेग संरक्षित रहता है।



अभ्यास

1. कोई वस्तु शून्य बाह्य असंतुलित बल अनुभव करती है। क्या किसी भी वस्तु के लिए अशून्य वेग से गति करना संभव है? यदि हाँ, तो वस्तु के वेग के परिमाण एवं दिशा पर लगने वाली शर्तों का उल्लेख करें। यदि नहीं, तो कारण स्पष्ट करें।
2. जब किसी छड़ी से एक दरी (कार्पेट) को पीटा जाता है, तो धूल के कण बाहर आ जाते हैं। स्पष्ट करें।
3. बस की छत पर रखे सामान को रस्सी से क्यों बाँधा जाता है?
4. किसी बल्लेबाज द्वारा क्रिकेट की गेंद को मारने पर गेंद ज़मीन पर लुढ़कती है। कुछ दूरी चलने के पश्चात् गेंद रुक जाती है। गेंद रुकने के लिए धीमी होती है, क्योंकि

- (a) बल्लेबाज ने गेंद को पर्याप्त प्रयास से हिट नहीं किया है।
- (b) वेग गेंद पर लगाए गए बल के समानुपाती है।
- (c) गेंद पर गति की दिशा के विपरीत एक बल कार्य कर रहा है।
- (d) गेंद पर कोई असंतुलित बल कार्यरत नहीं है, अतः गेंद विरामावस्था में आने के लिए प्रयासरत है।

(सही विकल्प का चयन करें)

5. एक ट्रक विरामावस्था से किसी पहाड़ी से नीचे की ओर नियत त्वरण से लुढ़कना शुरू करता है। यह 20 s में 400 m की दूरी तय करता है। इसका त्वरण ज्ञात करें। अगर इसका द्रव्यमान 7 टन है तो इस पर लगने वाले बल की गणना करें। (1 टन = 1000 kg)।
6. 1 kg द्रव्यमान के एक पत्थर को 20 m s⁻¹ के वेग से झील की जमी हुई सतह पर फेंका जाता है। पत्थर 50 m की दूरी तय करने के बाद रुक जाता है। पत्थर और बर्फ के बीच लगने वाले घर्षण बल की गणना करें।
7. एक 8000 kg द्रव्यमान का रेल इंजन प्रति 2000 kg द्रव्यमान वाले पाँच डिब्बों को सीधी पटरी पर खींचता है। यदि इंजन 40000 N का बल आरोपित करता है तथा यदि पटरी 5000 N का घर्षण बल लगाती है, तो ज्ञात करें:
 - (a) नेट त्वरण बल
 - (b) रेल का त्वरण तथा
 - (c) डिब्बे 1 द्वारा डिब्बे 2 पर लगाया गया बल।
8. एक गाड़ी का द्रव्यमान 1500 kg है। यदि गाड़ी को 1.7 m s⁻² के ऋणात्मक त्वरण (अवमंदन) के साथ विरामावस्था में लाना है, तो गाड़ी तथा सड़क के बीच लगने वाला बल कितना होगा?
9. किसी m द्रव्यमान की वस्तु जिसका वेग v है का संवेग क्या होगा?
 - (a) $(mv)^2$ (b) mv^2 (c) $(\frac{1}{2})mv^2$ (d) mv
 (उपरोक्त में से सही विकल्प चुनें।)
10. हम एक लकड़ी के बक्से को 200 N बल लगाकर उसे नियत वेग से फ्रश पर धकेलते हैं। बक्से पर लगने वाला घर्षण बल क्या होगा?
11. दो वस्तुएँ, प्रत्येक का द्रव्यमान 1.5 kg है, एक ही सीधी रेखा में एक-दूसरे के विपरीत दिशा में गति कर रही हैं। टकराने के पहले प्रत्येक का वेग 2.5 m s⁻¹ है। टकराने के बाद यदि दोनों एक-दूसरे से जुड़ जाती हैं, तब उनका सम्मिलित वेग क्या होगा?
12. गति के तृतीय नियम के अनुसार जब हम किसी वस्तु को धक्का देते हैं, तो वस्तु उतने ही बल के साथ हमें भी विपरीत दिशा में धक्का देती है। यदि वह वस्तु एक ट्रक है जो सड़क के किनारे खड़ा है; संभवतः हमारे द्वारा बल

आरोपित करने पर भी गतिशील नहीं हो पाएगा। एक विद्यार्थी इसे सही साबित करते हुए कहता है कि दोनों बल विपरीत एवं बराबर हैं जो एक-दूसरे को निरस्त कर देते हैं। इस तर्क पर अपने विचार दें और बताएँ कि ट्रक गतिशील क्यों नहीं हो पाता?

13. 200 g द्रव्यमान की एक हॉकी की गेंद 10 m s^{-1} की वेग से सीधी रेखा में चलती हुई 5 kg द्रव्यमान के लकड़ी के गुटके से संघट्ट करती है तथा उससे जुड़ जाती है। उसके बाद दोनों एक साथ उसी रेखा में गति करते हैं। संघट्ट के पहले और संघट्ट के बाद के कुल संवेगों की गणना करें। दोनों वस्तुओं की जुड़ी हुई अवस्था में वेग की गणना करें।
14. 10 g द्रव्यमान की एक गोली सीधी रेखा में 150 m s^{-1} के वेग से चलकर एक लकड़ी के गुटके से टकराती है और 0.03 s के बाद रुक जाती है। गोली लकड़ी को कितनी दूरी तक भेदेगी? लकड़ी के गुटके द्वारा गोली पर लगाए गए बल के परिमाण की गणना करें।
15. एक वस्तु जिसका द्रव्यमान 1 kg है, 10 m s^{-1} के वेग से एक सीधी रेखा में चलते हुए विरामावस्था में रखे 5 kg द्रव्यमान के एक लकड़ी के गुटके से टकराती है। उसके बाद दोनों साथ-साथ उसी सीधी रेखा में गति करते हैं। संघट्ट के पहले तथा बाद के कुल संवेगों की गणना करें। आपस में जुड़े हुए संयोजन के वेग की भी गणना करें।
16. 100 kg द्रव्यमान की एक वस्तु का वेग समान त्वरण से चलते हुए 6 s में 5 m s^{-1} से 8 m s^{-1} हो जाता है। वस्तु के पहले और बाद के संवेगों की गणना करें। उस बल के परिमाण की गणना करें जो उस वस्तु पर आरोपित है।
17. अख़्तर, किरण और राहुल किसी राजमार्ग पर बहुत तीव्र गति से चलती हुई कार में सवार हैं, अचानक उड़ता हुआ कोई कीड़ा, गाड़ी के सामने के शीशे से आ टकराया और वह शीशे से चिपक गया। अख़्तर और किरण इस स्थिति पर विवाद करते हैं। किरण का मानना है कि कीड़े के संवेग परिवर्तन का परिमाण कार के संवेग परिवर्तन के परिमाण की अपेक्षा बहुत अधिक है। (क्योंकि कीड़े के वेग में परिवर्तन का मान कार के वेग में परिवर्तन के मान से बहुत अधिक है।) अख़्तर ने कहा कि चूँकि कार का वेग बहुत अधिक था अतः कार ने कीड़े पर बहुत अधिक बल लगाया जिसके कारण कीड़े की मौत हो गई। राहुल ने एक नया तर्क देते हुए कहा कि कार तथा कीड़ा दोनों पर समान बल लगा और दोनों के संवेग में बराबर परिवर्तन हुआ। इन विचारों पर अपनी प्रतिक्रिया दें।
18. एक 10 kg द्रव्यमान की घंटी 80 cm की ऊँचाई से फ़र्श पर गिरी। इस अवस्था में घंटी द्वारा फ़र्श पर स्थानांतरित संवेग के मान की गणना करें। परिकलन में सरलता हेतु नीचे की ओर दिष्ट त्वरण का मान 10 m s^{-2} लें।



अतिरिक्त अभ्यास

A1. एक वस्तु की गति की अवस्था में दूरी समय सारणी निम्नवत् है:

समय (सेकंड)	दूरी (मीटर)
0	0
1	1
2	8
3	27
4	64
5	125
6	216
7	343

(a) त्वरण के बारे में आप क्या निष्कर्ष निकाल सकते हैं? क्या यह नियत है? बढ़ रहा है? घट रहा है? या शून्य है?

(b) आप वस्तु पर लगाने वाले बल के बारे में क्या निष्कर्ष निकाल सकते हैं?

A2. 1200 kg द्रव्यमान की कार को एक समतल सड़क पर दो व्यक्ति समान वेग से धक्का देते हैं। उसी कार को तीन व्यक्तियों द्वारा धक्का देकर 0.2 m s^{-2} का त्वरण उत्पन्न किया जाता है। कितने बल के साथ प्रत्येक व्यक्ति कार को धकेल पाते हैं। (मान लें कि सभी व्यक्ति समान पेशीय बल के साथ कार को धक्का देते हैं।)

A3. 500 g द्रव्यमान के एक हथौड़े द्वारा 50 m s^{-1} वेग से एक कील पर प्रहार किया जाता है। कील द्वारा हथौड़े को बहुत कम समय 0.01 s में ही रोक दिया जाता है। कील के द्वारा हथौड़े पर लगाए गए बल का परिकलन करें।

A4. एक 1200 kg द्रव्यमान की मोटरकार 90 km/h की वेग से एक सरल रेखा के अनुदिश चल रही है। उसका वेग बाहरी असंतुलित बल लगाने के कारण 4 s में घटकर 18 km/h हो जाता है। त्वरण और संवेग में परिवर्तन का परिकलन करें। लगाने वाले बल के परिमाण का भी परिकलन करें।

अध्याय 10

गुरुत्वाकर्षण (Gravitation)

अध्याय 8 तथा 9 में हमने वस्तुओं की गति के बारे में तथा बल को गति के कारक के रूप में अध्ययन किया है। हमने सीखा है कि किसी वस्तु की चाल या गति की दिशा बदलने के लिए बल की आवश्यकता होती है। हम सदैव देखते हैं कि जब किसी वस्तु को ऊँचाई से गिराया जाता है तो वह पृथ्वी की ओर ही गिरती है। हम जानते हैं कि सभी ग्रह सूर्य के चारों ओर चक्कर लगाते हैं। चंद्रमा पृथ्वी की परिक्रमा करता है। इन सभी अवस्थाओं में, वस्तुओं पर, ग्रहों पर तथा चंद्रमा पर लगने वाला कोई बल अवश्य होना चाहिए। आइजक न्यूटन इस तथ्य को समझ गए थे कि इन सभी के लिए एक ही बल उत्तरदायी है। इस बल को गुरुत्वाकर्षण बल कहते हैं।

इस अध्याय में हम गुरुत्वाकर्षण तथा गुरुत्वाकर्षण के सार्वत्रिक नियम के बारे में अध्ययन करेंगे। हम पृथ्वी पर गुरुत्वाकर्षण बल के प्रभाव के अंतर्गत वस्तुओं की गति पर विचार करेंगे। हम अध्ययन करेंगे कि किसी वस्तु का भार एक स्थान से दूसरे स्थान पर किस प्रकार परिवर्तित होता है। द्रवों में वस्तुओं के प्लवन की शर्तों के बारे में भी हम विचार-विमर्श करेंगे।

10.1 गुरुत्वाकर्षण

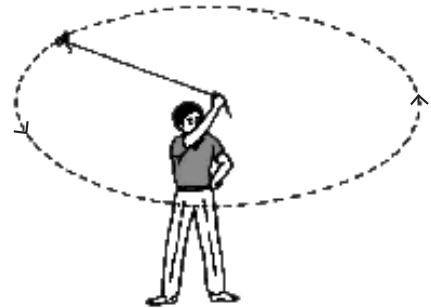
हम जानते हैं कि चंद्रमा पृथ्वी का चक्कर लगाता है। किसी वस्तु को जब ऊपर की ओर फेंकते हैं, तो वह कुछ ऊँचाई तक ऊपर पहुँचती है और फिर नीचे की ओर गिरने लगती है। कहते हैं कि जब न्यूटन एक पेड़ के नीचे बैठे थे तो एक सेब उन पर गिरा। सेब

के गिरने की क्रिया ने न्यूटन को सोचने के लिए प्रेरित किया। उन्होंने सोचा कि यदि पृथ्वी सेब को अपनी ओर आकर्षित कर सकती है तो क्या यह चंद्रमा को आकर्षित नहीं कर सकती? क्या दोनों स्थितियों में वही बल लग रहा है? उन्होंने अनुमान लगाया कि दोनों अवस्थाओं में एक ही प्रकार का बल उत्तरदायी है। उन्होंने तर्क दिया कि अपनी कक्षा के प्रत्येक बिंदु पर चंद्रमा किसी सरल रेखीय पथ पर गति नहीं करता वरन् पृथ्वी की ओर गिरता रहता है। अतः वह अवश्य ही पृथ्वी द्वारा आकर्षित होता है। लेकिन हम वास्तव में चंद्रमा को पृथ्वी की ओर गिरते हुए नहीं देखते।

आइए चंद्रमा की गति को समझने के लिए क्रियाकलाप 8.11 पर पुनः विचार करें।

क्रियाकलाप 10.1

- धागे का एक टुकड़ा लीजिए। इसके एक सिरे पर एक छोटा पत्थर बाँधिए।
- धागे के दूसरे सिरे को पकड़िए और पत्थर को वृत्ताकार पथ में घुमाइए जैसा कि चित्र 10.1 में दिखाया गया है।

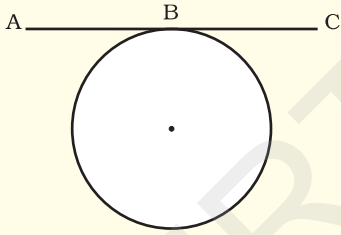


चित्र 10.1: पत्थर द्वारा नियत परिमाण के वेग से वृत्ताकार पथ में गति

- पत्थर की गति की दिशा को देखिए।
- अब धागे को छोड़िए।
- फिर से पत्थर की गति की दिशा को देखिए।

धागे को छोड़ने से पहले पत्थर एक निश्चित चाल से वृत्ताकार पथ में गति करता है तथा प्रत्येक बिंदु पर उसकी गति की दिशा बदलती है। दिशा के परिवर्तन में वेग-परिवर्तन या त्वरण सम्मिलित है। जिस बल के कारण यह त्वरण होता है तथा जो वस्तु को वृत्ताकार पथ में गतिशील रखता है, वह बल केंद्र की ओर लगता है। इस बल को अभिकेंद्र बल कहते हैं। इस बल की अनुपस्थिति में पत्थर एक सरल रेखा में मुक्त रूप से गतिशील हो जाता है। यह सरल रेखा वृत्तीय पथ पर स्पर्श रेखा होगी।

वृत्त पर स्पर्श रेखा



कोई सरल रेखा जो वृत्त से केवल एक ही बिंदु पर मिलती है, वृत्त पर स्पर्श रेखा कहलाती है। इस चित्र में सरल रेखा ABC वृत्त के बिंदु B पर स्पर्श रेखा है।

पृथ्वी के चारों ओर चंद्रमा की गति अभिकेंद्र बल के कारण है। अभिकेंद्र बल पृथ्वी के आकर्षण बल के कारण मिल पाता है। यदि ऐसा कोई बल न हो तो चंद्रमा एकसमान गति से सरल रेखीय पथ पर चलता रहेगा।

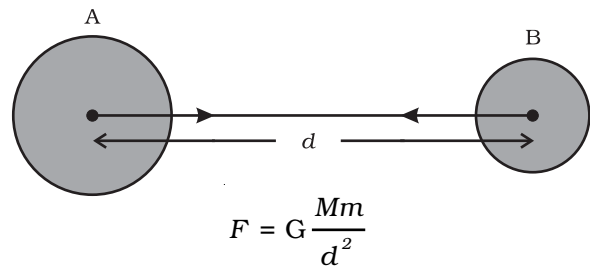
यह देखा गया है कि गिरता हुआ सेब पृथ्वी की ओर आकर्षित होता है। क्या सेब भी पृथ्वी को आकर्षित करता है? यदि ऐसा है, तो हम पृथ्वी को सेब की ओर गति करते क्यों नहीं देख पाते?

गति के तीसरे नियम के अनुसार सेब भी पृथ्वी को आकर्षित करता है। लेकिन गति के दूसरे नियम के अनुसार, किसी दिए हुए बल के लिए त्वरण वस्तु के द्रव्यमान के व्युत्क्रमानुपाती होता है [समीकरण (9.4)]। पृथ्वी की अपेक्षा सेब का द्रव्यमान नगण्य है। इसीलिए हम पृथ्वी को सेब की ओर गति करते नहीं देखते। इसी तर्क का विस्तार यह जानने के लिए कीजिए कि पृथ्वी चंद्रमा की ओर गति क्यों नहीं करती।

हमारे सौर परिवार में, सभी ग्रह सूर्य की परिक्रमा करते हैं। पहले की भाँति तर्क करके हम कह सकते हैं कि सूर्य तथा ग्रहों के बीच एक बल विद्यमान है। उपरोक्त तथ्यों के आधार पर न्यूटन ने निष्कर्ष निकाला कि केवल पृथ्वी ही सेब और चंद्रमा को आकर्षित नहीं करती, बल्कि विश्व के सभी पिंड एक-दूसरे को आकर्षित करते हैं। वस्तुओं के बीच यह आकर्षण बल गुरुत्वाकर्षण बल कहलाता है।

10.1.1 गुरुत्वाकर्षण का सार्वत्रिक नियम

विश्व का प्रत्येक पिंड प्रत्येक अन्य पिंड को एक बल से आकर्षित करता है, जो दोनों पिंडों के द्रव्यमानों के गुणनफल के समानुपाती तथा उनके बीच की दूरी के वर्ग के व्युत्क्रमानुपाती होता है। यह बल दोनों पिंडों को मिलाने वाली रेखा की दिशा में लगता है।



चित्र 10.2: किन्हीं दो एकसमान पिंडों के बीच गुरुत्वाकर्षण बल उनके केंद्रों को मिलाने वाली रेखा की दिशा में निदेशित होता है



आइजक न्यूटन
(1642 - 1727)

आइजक न्यूटन का जन्म इंग्लैंड में ग्रैंथम के निकट वूल्सथोर्पे में हुआ था। विज्ञान के इतिहास में वह प्रायः सबसे अधिक मौलिक तथा प्रभावशाली सिद्धांतवादी के रूप में जाने जाते हैं। वे एक निर्धन कृषक परिवार में जन्मे थे। लेकिन वे खेती के काम में कुशल नहीं थे। 1661 में

शिक्षा ग्रहण करने के लिए उन्हें कैंब्रिज विश्वविद्यालय भेज दिया गया। सन् 1665 में कैंब्रिज में प्लेग फैल गया और न्यूटन को एक वर्ष की छुट्टी मिल गई। ऐसा कहा जाता है कि इसी वर्ष उनके ऊपर सेब गिरने की घटना घटित हुई। इस घटना ने न्यूटन को, चंद्रमा को उसकी कक्षा में बनाए रखने वाले बल तथा गुरुत्व बल के बीच संबंध की संभावना की खोज करने को प्रेरित किया। इससे उन्होंने गुरुत्वाकर्षण का सार्वत्रिक नियम खोज निकाला। विशिष्ट बात यह है कि उनसे पहले भी बहुत से महान वैज्ञानिक गुरुत्व के बारे में जानते थे, किंतु वे उसके महत्व को समझने में असफल रहे।

न्यूटन ने गति के सुप्रसिद्ध नियमों का प्रतिपादन किया। उन्होंने प्रकाश तथा रंगों के सिद्धांतों पर कार्य किया। उन्होंने खगोलीय प्रेक्षकों के लिए खगोलीय दूरदर्शी की रचना की। न्यूटन एक महान गणितज्ञ भी थे। उन्होंने गणित की एक नई शाखा की खोज की जिसे कलन (Calculus) कहते हैं। इसका उपयोग उन्होंने यह सिद्ध करने के लिए किया कि किसी एकसमान घनत्व वाले गोले के बाहर स्थित वस्तुओं के लिए गोले का व्यवहार इस प्रकार का होता है जैसे कि उसका संपूर्ण द्रव्यमान उसके केंद्र पर स्थित हो। न्यूटन ने अपने गति के तीन नियमों तथा गुरुत्वाकर्षण के सार्वत्रिक नियम से भौतिकीय विज्ञान के ढाँचे को बदल दिया। सत्रहवीं शताब्दी की प्रमुख वैज्ञानिक क्रांति

के रूप में न्यूटन ने कॉपरनिकस, कैप्लर, गैलीलियो तथा अन्य के योगदान को अपने कार्यों के साथ एक नए शक्तिशाली संश्लेषण के रूप में सम्मिश्रित किया।

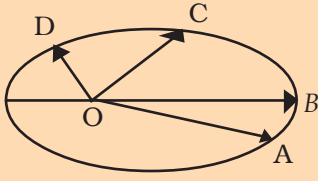
यह एक विशिष्ट बात है कि उस समय तक गुरुत्वीय सिद्धांत का सत्यापन नहीं हो सका था यद्यपि उसकी सत्यता के बारे में कोई संदेह नहीं था। इसका कारण था कि न्यूटन का सिद्धांत ठोस वैज्ञानिक तर्कों पर आधारित था और गणित से उसकी पुष्टि भी की गई थी। इससे यह सिद्धांत सरल व परिष्कृत हो गया। ये विशेषताएँ आज भी किसी अच्छे वैज्ञानिक सिद्धांत के लिए अपेक्षित हैं।

न्यूटन ने व्युत्क्रम वर्ग नियम का अनुमान कैसे लगाया?

ग्रहों की गति के अध्ययन में सदैव से ही हमारी गहरी रुचि रही है। सोलहवीं शताब्दी तक अनेक खगोलशास्त्रियों ने ग्रहों की गति से संबंधित बहुत से आँकड़े एकत्रित कर लिए थे। जोहांस कैप्लर ने इन आँकड़ों के आधार पर तीन नियम व्युत्पन्न किए। इन्हें कैप्लर के नियम कहा जाता है। ये नियम इस प्रकार हैं:

1. प्रत्येक ग्रह की कक्षा एक दीर्घवृत्त होती है और सूर्य इस दीर्घवृत्त के एक फोकस पर होता है जैसा कि निम्न चित्र में दिखाया गया है। इस चित्र में सूर्य की स्थिति को O से दर्शाया गया है।
2. सूर्य तथा ग्रह को मिलाने वाली रेखा समान समय में समान क्षेत्रफल तय करती है। इस प्रकार यदि A से B तक गति करने में लगा समय C से D तक गति करने में लगे समय के बराबर हो तो क्षेत्रफल OAB तथा क्षेत्रफल OCD बराबर होंगे।
3. सूर्य से किसी ग्रह की औसत दूरी (r) का घन उस ग्रह के सूर्य के परितः परिक्रमण काल T के वर्ग के समानुपाती होता है। अथवा $r^3/T^2 = \text{स्थिरांक}$ ।

यह जानना महत्वपूर्ण है कि ग्रहों की गति की व्याख्या करने के लिए कैप्लर कोई सिद्धांत प्रस्तुत नहीं



कर सके। न्यूटन ने ही यह दिखाया कि ग्रहों की गति का कारण गुरुत्वाकर्षण का वह बल है जो सूर्य उन पर लगाता है। न्यूटन ने कैप्लर के तीसरे नियम का उपयोग गुरुत्वाकर्षण बल का परिकलन करने में किया। पृथ्वी का गुरुत्वाकर्षण बल दूरी के साथ घटता जाता है। एक सरल तर्क इस प्रकार है। हम कल्पना कर सकते हैं कि ग्रहों की कक्षाएँ वृत्ताकार हैं। मान लीजिए कि कक्षीय वेग v तथा ग्रह की कक्षा की त्रिज्या r है। तब परिक्रमा करते हुए ग्रह पर लगने वाला बल, $F = v^2/r$

यदि परिक्रमण काल T है, तब $v = 2\pi r/T$,

अर्थात् $v^2 = r^2/T^2$

इस संबंध को इस प्रकार भी लिखा जा सकता है $v^2 = (1/r) \times (r^3/T^2)$ क्योंकि r^3/T^2 कैप्लर के तीसरे नियम के अनुसार एक स्थिरांक है।

अतः

$v^2 = (1/r)$

इसे $F = v^2/r$ के साथ संयोजित करने पर हमें प्राप्त होता है, $F = 1/r^2$.

मान लीजिए M तथा m द्रव्यमान के दो पिंड A तथा B एक-दूसरे से d दूरी पर स्थित हैं (चित्र 10.2)। मान लीजिए दोनों पिंडों के बीच आकर्षण बल F है। गुरुत्वाकर्षण के सार्वत्रिक नियम के अनुसार, दोनों पिंडों के बीच लगने वाला बल उनके द्रव्यमानों के गुणनफल के समानुपाती है। अर्थात्,

$$F \propto M \times m \quad (10.1)$$

तथा दोनों पिंडों के बीच लगने वाला बल उनके बीच की दूरी के वर्ग के व्युत्क्रमानुपाती है, अर्थात्,

$$F \propto \frac{1}{d^2} \quad (10.2)$$

समीकरणों (10.1) तथा (10.2) से हमें प्राप्त होगा

$$F \propto \frac{M \times m}{d^2} \quad (10.3)$$

$$\text{या, } F = G \frac{M \times m}{d^2} \quad (10.4)$$

जहाँ G एक आनुपातिकता स्थिरांक है और इसे सार्वत्रिक गुरुत्वीय स्थिरांक कहते हैं।

वज्र-गुणन करने पर, समीकरण (10.4) से प्राप्त होगा

$$F \times d^2 = G M \times m$$

$$\text{या } G = \frac{F d^2}{M m} \quad (10.5)$$

समीकरण (10.5) में बल, दूरी तथा द्रव्यमान के मात्रक प्रतिस्थापित करने पर हमें G के SI मात्रक प्राप्त होंगे जो $\text{N m}^2 \text{ kg}^{-2}$ है।

हैनरी कैवेंडिस (1731-1810) ने एक सुग्राही तुला का उपयोग करके G का मान ज्ञात किया। G का वर्तमान मान्य मान $6.673 \times 10^{-11} \text{ N m}^2 \text{ kg}^{-2}$ है।

हम जानते हैं कि किन्हीं भी दो वस्तुओं के बीच आकर्षण बल विद्यमान होता है। आप अपने तथा समीप बैठे अपने मित्र के बीच लगने वाले इस बल के मान का अभिकलन कीजिए। निष्कर्ष निकालिए कि आप इस बल का अनुभव क्यों नहीं करते।

इसे भी जानें

यह नियम सार्वत्रिक इस अभिप्राय से है कि यह सभी वस्तुओं पर लागू होता है, चाहे ये वस्तुएँ बड़ी हों या छोटी, चाहे ये खगोलीय हों या पार्थिव।

व्युत्क्रम-वर्ग

F , d के वर्ग के व्युत्क्रमानुपाती है इस कथन का अर्थ है कि यदि d को 6 गुणा कर दिया जाए, तो F का मान 36 वाँ भाग रह जाएगा।

उदाहरण 10.1 पृथ्वी का द्रव्यमान 6×10^{24} kg है तथा चंद्रमा का द्रव्यमान 7.4×10^{22} kg है। यदि पृथ्वी तथा चंद्रमा के बीच की दूरी 3.84×10^5 km है तो पृथ्वी द्वारा चंद्रमा पर लगाए गए बल का परिकलन कीजिए।
 $G = 6.7 \times 10^{-11} \text{ N m}^2 \text{ kg}^{-2}$

हल:

पृथ्वी का द्रव्यमान, $M = 6 \times 10^{24}$ kg
 चंद्रमा का द्रव्यमान, $m = 7.4 \times 10^{22}$ kg
 पृथ्वी तथा चंद्रमा के बीच की दूरी,
 $d = 3.84 \times 10^5$ km
 $= 3.84 \times 10^5 \times 1000$ m
 $= 3.84 \times 10^8$ m
 $G = 6.7 \times 10^{-11} \text{ N m}^2 \text{ kg}^{-2}$

समीकरण (10.4) से, पृथ्वी द्वारा चंद्रमा पर लगाया गया बल,

$$F = G \frac{M \times m}{d^2}$$

$$\frac{6.7 \times 10^{-11} \text{ N m}^2 \text{ kg}^{-2} \times 6 \times 10^{24} \text{ kg} \times 7.4 \times 10^{22} \text{ kg}}{(3.84 \times 10^8 \text{ m})^2}$$

$$= 2.01 \times 10^{20} \text{ N.}$$

अतः पृथ्वी द्वारा चंद्रमा पर लगाया गया बल 2.01×10^{20} N है।

प्रश्न

1. गुरुत्वाकर्षण का सार्वत्रिक नियम बताइए।
2. पृथ्वी तथा उसकी सतह पर रखी किसी वस्तु के बीच लगने वाले गुरुत्वाकर्षण बल का परिमाण ज्ञात करने का सूत्र लिखिए।

10.12 गुरुत्वाकर्षण के सार्वत्रिक नियम का महत्व

गुरुत्वाकर्षण का सार्वत्रिक नियम अनेक ऐसी परिघटनाओं की सफलतापूर्वक व्याख्या करता है जो असंबद्ध मानी जाती थीं:

- (i) हमें पृथ्वी से बाँधे रखने वाला बल;

- (ii) पृथ्वी के चारों ओर चंद्रमा की गति;
- (iii) सूर्य के चारों ओर ग्रहों की गति; तथा
- (iv) चंद्रमा तथा सूर्य के कारण ज्वार-भाटा।

10.2 मुक्त पतन

मुक्त पतन का अर्थ जानने के लिए आइए एक क्रियाकलाप करें।

क्रियाकलाप 10.2

- एक पत्थर लीजिए।
- इसे ऊपर की ओर फेंकिए।
- यह एक निश्चित ऊँचाई तक पहुँचता है और तब नीचे गिरने लगता है।

हम जानते हैं कि पृथ्वी वस्तुओं को अपनी ओर आकर्षित करती है। पृथ्वी के इस आकर्षण बल को गुरुत्वीय बल कहते हैं। अतः जब वस्तुएँ पृथ्वी की ओर केवल इसी बल के कारण गिरती हैं, हम कहते हैं कि वस्तुएँ मुक्त पतन में हैं। क्या गिरती हुई वस्तुओं के वेग में कोई परिवर्तन होता है? गिरते समय वस्तुओं की गति की दिशा में कोई परिवर्तन नहीं होता। लेकिन पृथ्वी के आकर्षण के कारण वेग के परिमाण में परिवर्तन होता है। वेग में कोई भी परिवर्तन त्वरण को उत्पन्न करता है। जब भी कोई वस्तु पृथ्वी की ओर गिरती है, त्वरण कार्य करता है। यह त्वरण पृथ्वी के गुरुत्वीय बल के कारण है। इसलिए इस त्वरण को पृथ्वी के गुरुत्वीय बल के कारण त्वरण या गुरुत्वीय त्वरण कहते हैं। इसे 'g' से निर्दिष्ट करते हैं। g के मात्रक वही हैं जो त्वरण के हैं, अर्थात् m s^{-2} ।

गति के दूसरे नियम से हमें ज्ञात है कि बल द्रव्यमान तथा त्वरण का गुणनफल है। मान लीजिए क्रियाकलाप 10.2 में पत्थर का द्रव्यमान m है। हम पहले से ही जानते हैं कि मुक्त रूप से गिरती वस्तुओं में गुरुत्वीय बल के कारण त्वरण लगता है और इसे

g से निर्दिष्ट करते हैं। इसलिए गुरुत्वीय बल का परिमाण F , द्रव्यमान तथा गुरुत्वीय त्वरण के गुणनफल के बराबर होगा, अर्थात्

$$F = mg \quad (10.6)$$

समीकरण (10.4) तथा (10.6) से हमें प्राप्त होता है

$$mg = G \frac{Mm}{d^2}$$

$$\text{या } g = G \frac{M}{d^2} \quad (10.7)$$

जहाँ पर M पृथ्वी का द्रव्यमान है तथा d वस्तु तथा पृथ्वी के बीच की दूरी है।

मान लीजिए एक वस्तु पृथ्वी पर या इसकी सतह के पास है। समीकरण (10.7) में दूरी d , पृथ्वी की त्रिज्या R के बराबर होगी। इस प्रकार पृथ्वी की सतह पर या इसके समीप रखी वस्तुओं के लिए

$$mg = G \frac{M \times m}{R^2} \quad (10.8)$$

$$g = G \frac{M}{R^2} \quad (10.9)$$

पृथ्वी एक पूर्ण गोला नहीं है। पृथ्वी की त्रिज्या ध्रुवों से विषुवत वृत्त की ओर जाने पर बढ़ती है, इसलिए g का मान ध्रुवों पर विषुवत वृत्त की अपेक्षा अधिक होता है। अधिकांश गणनाओं के लिए पृथ्वी की सतह पर या इसके पास g के मान को लगभग स्थिर मान सकते हैं लेकिन पृथ्वी से दूर की वस्तुओं के लिए पृथ्वी के गुरुत्वीय बल के कारण त्वरण समीकरण (10.7) से ज्ञात किया जा सकता है।

10.2.1 गुरुत्वीय त्वरण g के मान का परिकलन

गुरुत्वीय त्वरण g के मान का परिकलन करने के लिए हमें समीकरण (10.9) में G , M तथा R के मान रखने होंगे। जैसे,

सार्वत्रिक गुरुत्वीय नियतांक, $G = 6.7 \times 10^{-11} \text{ N m}^2 \text{ kg}^{-2}$,

पृथ्वी का द्रव्यमान, $M = 6 \times 10^{24} \text{ kg}$, तथा

पृथ्वी की त्रिज्या, $R = 6.4 \times 10^6 \text{ m}$

$$\begin{aligned} g &= G \frac{M}{R^2} \\ &= \frac{6.7 \times 10^{-11} \text{ N m}^2 \text{ kg}^{-2} \times 6 \times 10^{24} \text{ kg}}{(6.4 \times 10^6 \text{ m})^2} \\ &= 9.8 \text{ m s}^{-2} \end{aligned}$$

अतः पृथ्वी के गुरुत्वीय त्वरण का मान

$$g = 9.8 \text{ m s}^{-2}$$

10.2.2 पृथ्वी के गुरुत्वीय बल के प्रभाव में वस्तुओं की गति

यह समझने के लिए कि क्या सभी वस्तुएँ खोखली या ठोस, बड़ी या छोटी, किसी ऊँचाई से समान दर से गिरेंगी, आइए एक क्रियाकलाप करें।

क्रियाकलाप 10.3

- कागज़ की एक शीट तथा एक पत्थर लीजिए।
- दोनों को किसी इमारत की पहली मंजिल से एक साथ गिराइए। देखिए, क्या दोनों धरती पर एक साथ पहुँचते हैं।
- हम देखते हैं कि कागज़ धरती पर पत्थर की अपेक्षा कुछ देर से पहुँचता है। ऐसा वायु के प्रतिरोध के कारण होता है। गिरती हुई गतिशील वस्तुओं पर घर्षण के कारण वायु प्रतिरोध लगाती है। कागज़ पर लगने वाला वायु का प्रतिरोध पत्थर पर लगने वाले प्रतिरोध से अधिक होता है। इस प्रयोग को यदि हम काँच के जार में करें जिसमें से हवा निकाल दी गई है तो कागज़ तथा पत्थर एक ही दर से नीचे गिरेंगे।

हम जानते हैं कि मुक्त पतन में वस्तु त्वरण का अनुभव करती है। समीकरण (10.9) से, वस्तु द्वारा अनुभव किया जाने वाला यह त्वरण इसके द्रव्यमान पर निर्भर नहीं करता। इसका अर्थ हुआ कि सभी वस्तुएँ खोखली या ठोस, बड़ी या छोटी, एक ही दर से नीचे गिरनी चाहिए। एक कहानी के अनुसार, इस विचार की पुष्टि के लिए गैलीलियो ने इटली में पीसा की झुकी हुई मीनार से विभिन्न वस्तुओं को गिराया।

क्योंकि पृथ्वी के निकट g का मान स्थिर है, अतः एकसमान त्वरित गति के सभी समीकरण, त्वरण a के स्थान पर g रखने पर भी मान्य रहेंगे (देखिए अनुभाग 8.5)। ये समीकरण हैं :

$$v = u + at \quad (10.10)$$

$$s = ut + \frac{1}{2} at^2 \quad (10.11)$$

$$v^2 = u^2 + 2as \quad (10.12)$$

यहाँ u एवं v क्रमशः प्रारंभिक एवं अंतिम वेग तथा s वस्तु द्वारा t समय में चली गई दूरी है।

इन समीकरणों का उपयोग करते समय, यदि त्वरण (a) वेग की दिशा में अर्थात् गति की दिशा में लग रहा हो तो हम इसको धनात्मक लेंगे। त्वरण (a) को ऋणात्मक लेंगे जब यह गति की दिशा के विपरीत लगता है।

उदाहरण 10.2 एक कार किसी कगार से गिर कर 0.5 s में धरती पर आ गिरती है। परिकलन में सरलता के लिए g का मान 10 m s^{-2} लीजिए।

- धरती पर टकराते समय कार की चाल क्या होगी?
- 0.5 s के दौरान इसकी औसत चाल क्या होगी?
- धरती से कगार कितनी ऊँचाई पर है?

हल:

समय, $t = 0.5 \text{ s}$

प्रारंभिक वेग, $u = 0 \text{ m s}^{-1}$

गुरुत्वीय त्वरण, $g = 10 \text{ m s}^{-2}$

कार का त्वरण, $a = + 10 \text{ m s}^{-2}$ (अधोमुखी)

- चाल $v = a t$
 $v = 10 \text{ m s}^{-2} \times 0.5 \text{ s}$
 $= 5 \text{ m s}^{-1}$

$$\begin{aligned} \text{(ii) औसत चाल} &= \frac{u+v}{2} \\ &= (0 \text{ m s}^{-1} + 5 \text{ m s}^{-1})/2 \\ &= 2.5 \text{ m s}^{-1} \end{aligned}$$

$$\begin{aligned} \text{(iii) तय की गई दूरी, } s &= \frac{1}{2} a t^2 \\ &= \frac{1}{2} \times 10 \text{ m s}^{-2} \times (0.5 \text{ s})^2 \\ &= \frac{1}{2} \times 10 \text{ m s}^{-2} \times 0.25 \text{ s}^2 \\ &= 1.25 \text{ m} \end{aligned}$$

अतः,

- धरती पर टकराते समय इसकी चाल $= 5 \text{ m s}^{-1}$
- 0.5 सेकंड के दौरान इसकी औसत चाल $= 2.5 \text{ m s}^{-1}$
- धरती से कगार की ऊँचाई $= 1.25 \text{ m}$

उदाहरण 10.3 एक वस्तु को ऊर्ध्वाधर दिशा में ऊपर की ओर फेंका जाता है और यह 10 m की ऊँचाई तक पहुँचती है। परिकलन कीजिए

- वस्तु कितने वेग से ऊपर फेंकी गई तथा
- वस्तु द्वारा उच्चतम बिंदु तक पहुँचने में लिया गया समय।

हल:

तय की गई दूरी, $s = 10 \text{ m}$

अंतिम वेग, $v = 0 \text{ m s}^{-1}$

गुरुत्वीय त्वरण, $g = 9.8 \text{ m s}^{-2}$

वस्तु का त्वरण, $a = -9.8 \text{ m s}^{-2}$ (ऊर्ध्वमुखी)

$$\begin{aligned} \text{(i) } v^2 &= u^2 + 2as \\ 0 &= u^2 + 2 \times (-9.8 \text{ m s}^{-2}) \times 10 \text{ m} \\ -u^2 &= -2 \times 9.8 \times 10 \text{ m}^2 \text{ s}^{-2} \end{aligned}$$

$$u = \sqrt{196} \text{ m s}^{-1}$$

$$u = 14 \text{ m s}^{-1}$$

$$\begin{aligned} \text{(ii) } v &= u + a t \\ 0 &= 14 \text{ m s}^{-1} - 9.8 \text{ m s}^{-2} \times t \\ t &= 1.43 \text{ s.} \end{aligned}$$

अतः,

- प्रारंभिक वेग $u = 14 \text{ m s}^{-1}$ तथा
- लिया गया समय $t = 1.43 \text{ s}$

प्रश्न

1. मुक्त पतन से आप क्या समझते हैं?
2. गुरुत्वीय त्वरण से आप क्या समझते हैं?

10.3 द्रव्यमान

हमने पिछले अध्याय में पढ़ा है कि किसी वस्तु का द्रव्यमान उसके जड़त्व की माप होता है (अनुभाग 9.3)। हमने यह भी सीखा है कि जितना अधिक वस्तु का द्रव्यमान होगा, उतना ही अधिक उसका जड़त्व भी होगा। किसी वस्तु का द्रव्यमान उतना ही रहता है चाहे वस्तु पृथ्वी पर हो, चंद्रमा पर हो या फिर बाह्य अंतरिक्ष में हो। इस प्रकार वस्तु का द्रव्यमान स्थिर रहता है तथा एक स्थान से दूसरे स्थान पर नहीं बदलता।

10.4 भार

हम जानते हैं कि पृथ्वी प्रत्येक वस्तु को एक निश्चित बल से आकर्षित करती है और यह बल वस्तु के द्रव्यमान (m) तथा पृथ्वी के गुरुत्वीय बल के कारण त्वरण (g) पर निर्भर है। किसी वस्तु का भार वह बल है जिससे यह पृथ्वी की ओर आकर्षित होती है।

हमें ज्ञात है कि

$$F = m \times a \quad (10.13)$$

अर्थात्

$$F = m \times g \quad (10.14)$$

वस्तु पर पृथ्वी का आकर्षण बल वस्तु का भार कहलाता है। इसे W से निर्दिष्ट करते हैं। इसे समीकरण (10.14) में प्रतिस्थापित करने पर

$$W = m \times g \quad (10.15)$$

क्योंकि वस्तु का भार एक बल है जिससे यह पृथ्वी की ओर आकर्षित होता है, भार का SI मात्रक वही है जो बल का है, अर्थात् न्यूटन (N)। भार एक बल है जो ऊर्ध्वाधर दिशा में नीचे की ओर लगता है, इसलिए इसमें परिमाण तथा दिशा दोनों होते हैं।

हम जानते हैं कि किसी दिए हुए स्थान पर g का मान स्थिर रहता है। इसलिए किसी दिए हुए स्थान पर, वस्तु का भार वस्तु के द्रव्यमान m के समानुपाती होता है। अर्थात् $W \propto m$ । यही कारण है कि किसी दिए हुए स्थान पर हम वस्तु के भार को उसके द्रव्यमान की माप के रूप में उपयोग कर सकते हैं। किसी वस्तु का द्रव्यमान प्रत्येक स्थान पर, चाहे पृथ्वी पर या किसी अन्य ग्रह पर, उतना ही रहता है जबकि वस्तु का भार इसके स्थान पर निर्भर करता है।

10.4.1 किसी वस्तु का चंद्रमा पर भार

हमने सीखा है कि पृथ्वी पर किसी वस्तु का भार वह बल है जिससे पृथ्वी उस वस्तु को अपनी ओर आकर्षित करती है। इसी प्रकार, चंद्रमा पर किसी वस्तु का भार वह बल है जिससे चंद्रमा उस वस्तु को आकर्षित करता है। चंद्रमा का द्रव्यमान पृथ्वी की अपेक्षा कम है। इस कारण चंद्रमा वस्तुओं पर कम आकर्षण बल लगाता है।

मान लीजिए किसी वस्तु का द्रव्यमान m है तथा चंद्रमा पर इसका भार W_m है। मान लीजिए चंद्रमा का द्रव्यमान M_m है तथा इसकी त्रिज्या R_m है।

गुरुत्वाकर्षण का सार्वत्रिक नियम लगाने पर, चंद्रमा पर वस्तु का भार होगा

$$W_m = G \frac{M_m m}{R_m^2} \quad (10.16)$$

मान लीजिए उसी वस्तु का पृथ्वी पर भार W_e है। पृथ्वी का द्रव्यमान M तथा इसकी त्रिज्या R है।

सारणी 10.1

खगोलीय पिंड	द्रव्यमान (kg)	त्रिज्या (m)
पृथ्वी	5.98×10^{24}	6.37×10^6
चंद्रमा	7.36×10^{22}	1.74×10^6

समीकरणों (10.9) तथा (10.15) से हमें प्राप्त होता है,

$$W_e = G \frac{M m}{R^2} \quad (10.17)$$

समीकरण (10.16) तथा (10.17) में सारणी 10.1 से उपयुक्त मान रखने पर

$$W_m = G \frac{7.36 \times 10^{22} \text{ kg } m}{1.74 \times 10^6 \text{ m}^2}$$

$$W_m = 2.431 \times 10^{10} \text{ G} \times m \quad (10.18a)$$

$$\text{तथा } W_e = 1.474 \times 10^{11} \text{ G} \times m \quad (10.18b)$$

समीकरण (10.18a) को समीकरण (10.18b) से भाग देने पर हमें प्राप्त होता है

$$\frac{W_m}{W_e} = \frac{2.431 \times 10^{10}}{1.474 \times 10^{11}}$$

$$\text{या } \frac{W_m}{W_e} = 0.165 \approx \frac{1}{6} \quad (10.19)$$

$$\frac{\text{वस्तु का चंद्रमा पर भार}}{\text{वस्तु का पृथ्वी पर भार}} = \frac{1}{6}$$

वस्तु का चंद्रमा पर भार

$$= (1/6) \times \text{इसका पृथ्वी पर भार}$$

उदाहरण 10.4 एक वस्तु का द्रव्यमान 10 kg है। पृथ्वी पर इसका भार कितना होगा?

हल:

$$\text{द्रव्यमान } m = 10 \text{ kg}$$

$$\text{गुरुत्वीय त्वरण } g = 9.8 \text{ m s}^{-2}$$

$$W = m \times g$$

$$W = 10 \text{ kg} \times 9.8 \text{ m s}^{-2} = 98 \text{ N}$$

अतः वस्तु का भार 98 N है।

उदाहरण 10.5 एक वस्तु का भार पृथ्वी की सतह पर मापने पर 10 N आता है। इसका भार चंद्रमा की सतह पर मापने पर कितना होगा?

हल :

हमें ज्ञात है

चंद्रमा पर वस्तु का भार

$$= (1/6) \times \text{पृथ्वी पर इसका भार}$$

अर्थात्,

$$W_m = \frac{W_e}{6} = \frac{10}{6} \text{ N}$$

$$= 1.67 \text{ N}$$

अतः चंद्रमा की सतह पर वस्तु का भार 1.67 N होगा।

प्रश्न

1. किसी वस्तु के द्रव्यमान तथा भार में क्या अंतर है?
2. किसी वस्तु का चंद्रमा पर भार पृथ्वी पर इसके भार का $\frac{1}{6}$ गुणा क्यों होता है?


10.5 प्रणोद तथा दाब

क्या कभी आपने सोचा है कि ऊँट रेगिस्तान में आसानी से क्यों दौड़ पाता है? सेना का टैंक जिसका भार एक हजार टन से भी अधिक होता है, एक सतत् चैन पर क्यों टिका होता है? किसी ट्रक या बस के टायर अधिक चौड़े क्यों होते हैं? काटने वाले औजारों की धार तेज़ क्यों होती है?

इन प्रश्नों का उत्तर जानने के लिए तथा इनमें शामिल परिघटनाओं को समझने के लिए दी गई वस्तु पर एक विशेष दिशा में लगने वाले नेट बल (प्रणोद) तथा प्रति एकांक क्षेत्रफल पर लगने वाले बल (दाब) की धारणा से परिचय कराना सहायक होगा। प्रणोद तथा दाब का अर्थ समझने के लिए आइए निम्नलिखित स्थितियों पर विचार करें :

स्थिति 1 : किसी बुलेटिन बोर्ड पर आप एक चार्ट लगाना चाहते हैं जैसा कि चित्र 10.3 में दर्शाया गया है। यह कार्य करने के लिए आपको ड्राइंग पिनों को

अपने अँगूठे से दबाना होगा। इस अवस्था में आप पिन के शीर्ष (चपटे भाग) के सतह के क्षेत्रफल पर बल लगाते हैं। यह बल बोर्ड की सतह (पृष्ठ) के लंबवत् लगता है। यह बल पिन की नोक पर अपेक्षाकृत छोटे क्षेत्रफल पर लगता है।



चित्र 10.3: चार्ट लगाने के लिए ड्राइंग पिनों को अँगूठे से बोर्ड के लंबवत् दबाया जाता है

स्थिति 2 : आप शिथिल (ढीले) रेत पर खड़े होते हैं। आपके पैर रेत में गहरे धँस जाते हैं। अब रेत पर लेटिए। आप देखेंगे कि आपका शरीर रेत में पहले जितना नहीं धँसता। दोनों अवस्थाओं में रेत पर लगने वाला बल आपके शरीर का भार है।

आप पढ़ चुके हैं कि भार ऊर्ध्वाधर दिशा में नीचे की ओर लगने वाला बल है। यहाँ बल रेत की सतह के लंबवत् लग रहा है। किसी वस्तु की सतह के लंबवत् लगने वाले बल को प्रणोद कहते हैं।

जब आप शिथिल रेत पर खड़े होते हैं तो बल अर्थात् आपके शरीर का भार, आपके पैरों के क्षेत्रफल के बराबर क्षेत्रफल पर लग रहा होता है। जब आप लेट जाते हैं तो वही बल आपके पूरे शरीर के संपर्क क्षेत्रफल के बराबर क्षेत्रफल पर लगता है जो कि

आपके पैरों के क्षेत्रफल से अधिक है। इस प्रकार समान परिमाण के बलों का भिन्न-भिन्न क्षेत्रफलों पर भिन्न-भिन्न प्रभाव होता है। उपरोक्त स्थिति में प्रणोद समान है। लेकिन उसके प्रभाव अलग-अलग हैं। इसलिए प्रणोद का प्रभाव उस क्षेत्रफल पर निर्भर है जिस पर कि वह लगता है।

रेत पर प्रणोद का प्रभाव लेटे हुए की अपेक्षा खड़े होने की स्थिति में अधिक है। प्रति एकांक क्षेत्रफल पर लगने वाले प्रणोद को दाब कहते हैं। इस प्रकार

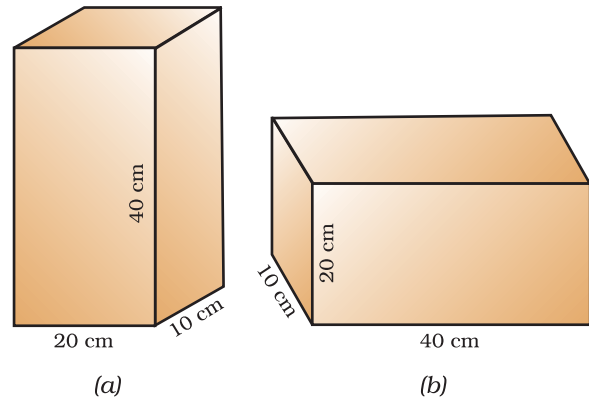
$$\text{दाब} = \frac{\text{प्रणोद}}{\text{क्षेत्रफल}} \quad (10.20)$$

समीकरण (10.20) में प्रणोद तथा क्षेत्रफल के SI मात्रक प्रतिस्थापित करने पर हमें दाब का SI मात्रक प्राप्त होता है। यह मात्रक N/m^2 या $N m^{-2}$ है।

वैज्ञानिक ब्लैस पास्कल के सम्मान में, दाब के SI मात्रक को पास्कल कहते हैं, जिसे Pa से व्यक्त किया जाता है।

विभिन्न क्षेत्रफलों पर लगने वाले प्रणोद के प्रभाव को समझने के लिए आइए एक संख्यात्मक उदाहरण पर विचार करें।

उदाहरण 10.6 एक लकड़ी का गुटका मेज पर रखा है। लकड़ी के गुटके का द्रव्यमान 5 kg है तथा इसकी विमाएँ 40 cm × 20 cm × 10 cm



चित्र 10.4

हैं। लकड़ी के टुकड़े द्वारा मेज पर लगने वाले दाब को ज्ञात कीजिए, यदि इसकी निम्नलिखित विमाओं की सतह मेज पर रखी जाती है: (a) $20 \text{ cm} \times 10 \text{ cm}$ तथा (b) $40 \text{ cm} \times 20 \text{ cm}$

हल:

लकड़ी के गुटके का द्रव्यमान = 5 kg
तथा इसकी विमाएँ = $40 \text{ cm} \times 20 \text{ cm} \times 10 \text{ cm}$
यहाँ लकड़ी के गुटके का भार मेज की सतह पर प्रणोद लगाता है।

अर्थात्,

$$\begin{aligned}\text{प्रणोद} &= F = m \times g \\ &= 5 \text{ kg} \times 9.8 \text{ m s}^{-2} \\ &= 49 \text{ N}\end{aligned}$$

$$\begin{aligned}\text{सतह का क्षेत्रफल} &= \text{लंबाई} \times \text{चौड़ाई} \\ &= 20 \text{ cm} \times 10 \text{ cm} \\ &= 200 \text{ cm}^2 = 0.02 \text{ m}^2\end{aligned}$$

समीकरण (10.20) से,

$$\begin{aligned}\text{दाब} &= \frac{49 \text{ N}}{0.02 \text{ m}^2} \\ &= 2450 \text{ N m}^{-2}.\end{aligned}$$

जब गुटके की $40 \text{ cm} \times 20 \text{ cm}$ विमाओं की सतह मेज पर रखी जाती है, यह मेज की सतह पर पहले जितना ही प्रणोद लगाता है।

$$\begin{aligned}\text{क्षेत्रफल} &= \text{लंबाई} \times \text{चौड़ाई} \\ &= 40 \text{ cm} \times 20 \text{ cm} \\ &= 800 \text{ cm}^2 = 0.08 \text{ m}^2\end{aligned}$$

समीकरण (10.20) से,

$$\begin{aligned}\text{दाब} &= \frac{49 \text{ N}}{0.08 \text{ m}^2} \\ &= 612.5 \text{ N m}^{-2}\end{aligned}$$

सतह $20 \text{ cm} \times 10 \text{ cm}$ द्वारा लगाया गया दाब 2450 N m^{-2} है तथा सतह $40 \text{ cm} \times 20 \text{ cm}$ द्वारा लगाया गया दाब 612.5 N m^{-2} है।

इस प्रकार वही बल जब छोटे क्षेत्रफल पर लगता है तो अधिक दाब तथा बड़े क्षेत्रफल पर कम दाब लगाता है। यही कारण है कि कीलों के सिरे नुकीले होते हैं, चाकू की तेज धार होती है तथा भवनों की नींव चौड़ी होती है।

10.5.1 तरलों में दाब

सभी द्रव या गैसों तरल हैं। ठोस अपने भार के कारण किसी सतह पर दाब लगाता है। इसी प्रकार, तरलों में भी भार होता है तथा वे जिस बर्तन में रखे जाते हैं उसके आधार तथा दीवारों पर दाब लगाते हैं। किसी परिरुद्ध द्रव्यमान के तरल पर लगने वाला दाब सभी दिशाओं में बिना घटे संचरित हो जाता है।

10.5.2 उत्प्लावकता

क्या आप कभी किसी तालाब में तैरे हैं और आपने स्वयं कुछ हलका अनुभव किया है? क्या कभी आपने किसी कुएँ से पानी खींचा है और अनुभव किया है कि जब पानी से भरी बाल्टी, कुएँ के पानी से बाहर आती है तो वह अधिक भारी लगती है? क्या कभी आपने सोचा है कि लोहे तथा स्टील से बना जलयान समुद्र के पानी में क्यों नहीं डूबता, लेकिन उतनी ही मात्रा का लोहा तथा स्टील यदि चादर के रूप में हो तो क्या वह डूब जाएगा? इन सभी प्रश्नों का उत्तर जानने के लिए उत्प्लावकता के बारे में जानना आवश्यक है। उत्प्लावकता का अर्थ समझने के लिए आइए एक क्रियाकलाप करें।

क्रियाकलाप _____ 10.4

- प्लास्टिक की एक खाली बोतल लीजिए। बोतल के मुँह को एक वायुरुद्ध डाट से बंद कर दीजिए। इसे एक पानी से भरी बाल्टी में रखिए। आप देखेंगे कि बोतल तैरती है।
- बोतल को पानी में धकेलिए। आप ऊपर की ओर एक धक्का महसूस करते हैं। इसे और

अधिक नीचे धकेलने का प्रयत्न कीजिए। आप इसे और अधिक गहराई में धकेलने में कठिनाई अनुभव करेंगे। यह दिखाता है कि पानी बोतल पर ऊपर की दिशा में एक बल लगाता है। जैसे-जैसे बोतल को पानी में धकेलते जाते हैं, पानी द्वारा ऊपर की ओर लगाया गया बल बढ़ता जाता है जब तक कि बोतल पानी में पूरी तरह न डूब जाए।

- अब बोतल को छोड़ दीजिए। यह उछलकर सतह पर वापस आती है।
- क्या पृथ्वी का गुरुत्वाकर्षण बल इस बोतल पर कार्यरत है? यदि ऐसा है तो बोतल छोड़ देने पर पानी में डूबी ही क्यों नहीं रहती? आप बोतल को पानी में कैसे डुबो सकते हैं?

पृथ्वी का गुरुत्वाकर्षण बल बोतल पर नीचे की दिशा में लगता है। इसके कारण बोतल नीचे की दिशा में खिंचती है। लेकिन पानी बोतल पर ऊपर की ओर बल लगाता है। अतः बोतल ऊपर की दिशा में धकेली जाती है। हम पढ़ चुके हैं कि वस्तु का भार पृथ्वी के गुरुत्वाकर्षण बल के बराबर है। जब बोतल डुबोई जाती है तो बोतल पर पानी द्वारा लगने वाला ऊपर की दिशा में बल इसके भार से अधिक है। इसीलिए छोड़ने पर यह ऊपर उठती है।

बोतल को पूरी तरह डुबोए रखने के लिए, पानी के द्वारा बोतल पर ऊपर की ओर लगने वाले बल को संतुलित करना पड़ेगा। इसे नीचे की दिशा में लगने वाले एक बाहरी बल को लगाकर प्राप्त किया जा सकता है। यह बल कम से कम ऊपर की ओर लगने वाले बल तथा बोतल के भार के अंतर के बराबर होना चाहिए।

बोतल पर पानी द्वारा ऊपर की ओर लगने वाला बल उत्प्लावन बल कहलाता है। वास्तव में किसी तरल में डुबोने पर, सभी वस्तुओं पर एक उत्प्लावन बल लगता है। उत्प्लावन बल का परिमाण तरल के घनत्व पर निर्भर है।


10.5.3 पानी की सतह पर रखने पर वस्तुएँ तैरती या डूबती क्यों हैं?

इस प्रश्न का उत्तर प्राप्त करने के लिए आइए निम्नलिखित क्रियाकलाप करें।

क्रियाकलाप _____ 10.5

- पानी से भरा एक बीकर लीजिए।
- एक लोहे की कील लीजिए और इसे पानी की सतह पर रखिए।
- देखिए क्या होता है?

कील डूब जाती है। कील पर लगने वाला पृथ्वी का गुरुत्वाकर्षण बल इसे नीचे की ओर खींचता है। पानी कील पर उत्प्लावन बल लगाता है जो इसे ऊपर की दिशा में धकेलता है। लेकिन कील पर नीचे की ओर लगने वाला बल, कील पर पानी द्वारा लगाए गए उत्प्लावन बल से अधिक है। इसलिए यह डूब जाती है (चित्र 10.5)।



चित्र 10.5: पानी की सतह पर रखने पर लोहे की कील डूब जाती है तथा कॉर्क तैरता है

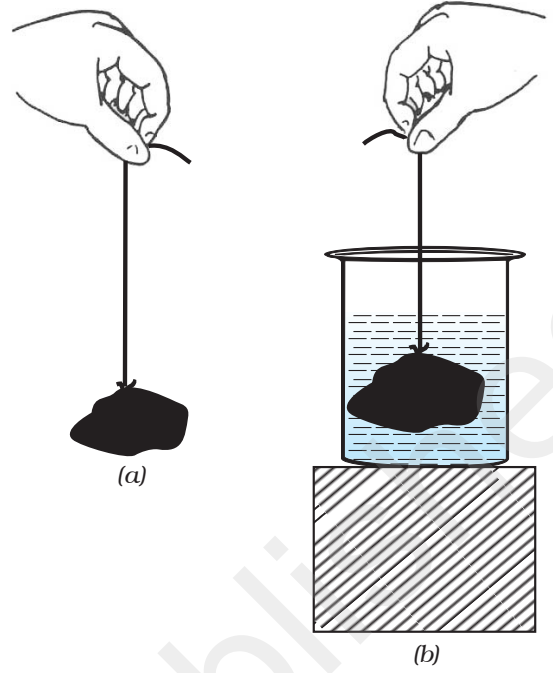
क्रियाकलाप _____ 10.6

- पानी से भरा बीकर लीजिए।
- एक कील तथा समान द्रव्यमान का एक कॉर्क का टुकड़ा लीजिए।
- इन्हें पानी की सतह पर रखिए।
- देखिए क्या होता है।

कॉर्क तैरता है जबकि कील डूब जाती है। ऐसा उनके घनत्वों में अंतर के कारण होता है। किसी पदार्थ का घनत्व, उसके एकांक आयतन के द्रव्यमान को कहते हैं। कॉर्क का घनत्व पानी के घनत्व से कम है। इसका अर्थ है कि कॉर्क पर पानी का उत्प्लावन बल, कॉर्क के भार से अधिक है। इसीलिए यह तैरता है (चित्र 10.5)।

लोहे की कील का घनत्व पानी के घनत्व से अधिक है। इसका अर्थ है कि लोहे की कील पर पानी का उत्प्लावन बल लोहे की कील के भार से कम है। इसीलिए यह डूब जाती है।

इस प्रकार द्रव के घनत्व से कम घनत्व की वस्तुएँ द्रव पर तैरती हैं। द्रव के घनत्व से अधिक घनत्व की वस्तुएँ द्रव में डूब जाती हैं।



चित्र 10.6: (a) हवा में लटके पत्थर के टुकड़े के भार के कारण रबड़ की डोरी में प्रसार का प्रेक्षण कीजिए। (b) पत्थर को पानी में डुबाने पर डोरी के प्रसार में कमी आ जाती है

आप देखेंगे कि जैसे ही पत्थर को धीरे-धीरे पानी में नीचे ले जाते हैं, डोरी की लंबाई में या तुला के पाठ्यांक में भी कमी आती है। तथापि, जब पत्थर पानी में पूरी तरह डूब जाता है तो उसके बाद कोई परिवर्तन नहीं दिखाई देता। डोरी के प्रसार या तुला की माप में कमी से आप क्या निष्कर्ष निकालते हैं?

हम जानते हैं कि रबड़ की डोरी की लंबाई में परिवर्तन या तुला के पाठ्यांक में वृद्धि, पत्थर के भार के कारण होती है। क्योंकि पत्थर को पानी में डुबाने पर इन वृद्धियों में कमी आ जाती है, इसका अर्थ है कि पत्थर पर ऊपर की दिशा में कोई बल लगता है। इसके परिणामस्वरूप, रबड़ की डोरी पर लगने वाला नेट बल कम हो जाता है और इसीलिए लंबाई की वृद्धि में भी कमी आ जाती है। जैसी कि पहले ही

प्रश्न

1. एक पतली तथा मजबूत डोरी से बने पट्टे की सहायता से स्कूल बैग को उठाना कठिन होता है, क्यों?
2. उत्प्लावकता से आप क्या समझते हैं?
3. पानी की सतह पर रखने पर कोई वस्तु क्यों तैरती या डूबती है?

10.6 आर्किमीडीज़ का सिद्धांत

क्रियाकलाप 10.7

- एक पत्थर का टुकड़ा लीजिए और इसे कमानीदार तुला या रबड़ की डोरी के एक सिरे से बाँधिए।
- तुला या डोरी को पकड़ कर पत्थर को लटकाइए जैसा कि चित्र 10.6(a) में दिखाया गया है।
- पत्थर के भार के कारण रबड़ की डोरी की लंबाई में वृद्धि या कमानीदार तुला का पाठ्यांक नोट कीजिए।
- अब पत्थर को एक बर्तन में रखे पानी में धीरे से डुबोइए जैसा कि चित्र 10.6(b) में दिखाया गया है।
- प्रेक्षण कीजिए कि डोरी की लंबाई में या तुला की माप में क्या परिवर्तन होता है।

चर्चा की जा चुकी है, पानी द्वारा ऊपर की ओर लगाया गया यह बल, उत्प्लावन बल कहलाता है।

किसी वस्तु पर लगने वाले उत्प्लावन बल का परिमाण कितना होता है? क्या किसी एक ही वस्तु के लिए यह सभी तरलों में समान होता है? क्या किसी दिए गए तरल में, सभी वस्तुएँ समान उत्प्लावन बल का अनुभव करती हैं? इन प्रश्नों का उत्तर आर्किमीडीज़ के सिद्धांत द्वारा प्राप्त होता है, जिसको निम्न प्रकार से व्यक्त किया जाता है:

जब किसी वस्तु को किसी तरल में पूर्ण या आंशिक रूप से डुबोया जाता है तो वह ऊपर की दिशा में एक बल का अनुभव करती है जो वस्तु द्वारा हटाए गए तरल के भार के बराबर होता है।

क्या अब आप स्पष्ट कर सकते हैं कि क्रियाकलाप 10.7 में पत्थर के पानी में पूरी तरह डूबने के बाद डोरी के प्रसार में और कमी क्यों नहीं हुई थी?



आर्किमिडीज

आर्किमीडीज़ एक ग्रीक वैज्ञानिक थे। उन्होंने एक सिद्धांत की खोज की जो उन्हीं के नाम से विख्यात है। यह सिद्धांत उन्होंने यह देखने के बाद खोजा कि नहाने के टब में घुसने पर पानी बाहर बहने

लगता है। वे सड़कों पर यूरेका (Eureka) - यूरेका चिल्लाते हुए भागे, जिसका अर्थ है "मैंने पा लिया है।"

इस ज्ञान का उपयोग उन्होंने राजा के मुकुट में उपयोग हुए सोने की शुद्धता को मापने के लिए किया।

उनके यांत्रिकी तथा ज्यामिति में किए गए कार्यों ने उन्हें प्रसिद्ध कर दिया। उत्तोलक, घिरनी तथा पहिया और धुरी के विषय में उनके ज्ञान ने ग्रीक सेना को रोमन सेना के विरुद्ध लड़ाई में बहुत सहायता की।

आर्किमीडीज़ के सिद्धांत के बहुत से अनुप्रयोग हैं। यह जलयानों तथा पनडुब्बियों के डिज़ाइन बनाने में काम आता है। दुग्धमापी, जो दूध के किसी नमूने की शुद्धता की जाँच करने के लिए प्रयुक्त होते हैं तथा हाइड्रोमीटर, जो द्रवों के घनत्व मापने के लिए प्रयुक्त होते हैं, इसी सिद्धांत पर आधारित हैं।

प्रश्न

1. एक तुला (weighing machine) पर आप अपना द्रव्यमान 42 kg नोट करते हैं। क्या आपका द्रव्यमान 42 kg से अधिक है या कम?
2. आपके पास एक रुई का बोरा तथा एक लोहे की छड़ है। तुला पर मापने पर दोनों 100 kg द्रव्यमान दर्शाते हैं। वास्तविकता में एक-दूसरे से भारी है। क्या आप बता सकते हैं कि कौन-सा भारी है और क्यों?

10.7 आपेक्षिक घनत्व?

आप जानते हैं कि किसी वस्तु का घनत्व, उसके प्रति एकांक आयतन के द्रव्यमान को कहते हैं। घनत्व का मात्रक किलोग्राम प्रति घन मीटर है (kg m^{-3})। विशिष्ट परिस्थितियों में किसी पदार्थ का घनत्व सदैव समान रहता है। अतः किसी पदार्थ का घनत्व उसका एक लाक्षणिक गुण होता है। यह भिन्न-भिन्न पदार्थों के लिए भिन्न-भिन्न होता है। उदाहरण के लिए, सोने का घनत्व 19300 kg m^{-3} है जबकि पानी का 1000 kg m^{-3} है। किसी पदार्थ के नमूने का घनत्व, उस पदार्थ की शुद्धता की जाँच में सहायता कर सकता है।

प्रायः किसी पदार्थ के घनत्व को पानी के घनत्व की तुलना में व्यक्त करना सुविधाजनक होता है। किसी पदार्थ का आपेक्षिक घनत्व उस पदार्थ का घनत्व व पानी के घनत्व का अनुपात है। अर्थात्

$$\text{आपेक्षिक घनत्व} = \frac{\text{किसी पदार्थ का घनत्व}}{\text{पानी का घनत्व}}$$

चूँकि आपेक्षिक घनत्व समान राशियों का एक अनुपात है, अतः इसका कोई मात्रक नहीं होता।

उदाहरण 10.7 चाँदी का आपेक्षिक घनत्व 10.8 है। पानी का घनत्व 10^3 kg m^{-3} है। SI मात्रक में चाँदी का घनत्व क्या होगा?


हल:

$$\text{चाँदी का आपेक्षिक घनत्व} = 10.8$$

$$\text{आपेक्षिक घनत्व} = \frac{\text{चाँदी का घनत्व}}{\text{पानी का घनत्व}}$$

$$\text{चाँदी का घनत्व} =$$

$$\begin{aligned} \text{चाँदी का आपेक्षिक घनत्व} \times \text{पानी का घनत्व} \\ = 10.8 \times 10^3 \text{ kg m}^{-3}. \end{aligned}$$



आपने क्या सीखा

- गुरुत्वाकर्षण के नियम के अनुसार किन्हीं दो पिंडों के बीच आकर्षण बल उन दोनों के द्रव्यमानों के गुणनफल के समानुपाती तथा उनके बीच की दूरी के वर्ग के व्युत्क्रमानुपाती होता है। यह नियम सभी पिंडों पर लागू होता है चाहे वह विश्व में कहीं भी हों। इस प्रकार के नियम को सार्वत्रिक नियम कहते हैं।
- गुरुत्वाकर्षण एक क्षीण बल है जब तक कि बहुत अधिक द्रव्यमान वाले पिंड संबद्ध न हों।
- पृथ्वी द्वारा लगाए जाने वाले गुरुत्वाकर्षण बल को गुरुत्व बल कहते हैं।
- गुरुत्वीय बल पृथ्वी तल से ऊँचाई बढ़ने पर कम होता जाता है। यह पृथ्वी तल के विभिन्न स्थानों पर भी परिवर्तित होता है और इसका मान ध्रुवों से विषुवत वृत्त की ओर घटता जाता है।
- किसी वस्तु का भार, वह बल है जिससे पृथ्वी उसे अपनी ओर आकर्षित करती है।
- किसी वस्तु का भार, द्रव्यमान तथा गुरुत्वीय त्वरण के गुणनफल के बराबर होता है।
- किसी वस्तु का भार भिन्न-भिन्न स्थानों पर भिन्न-भिन्न हो सकता है, किंतु द्रव्यमान स्थिर रहता है।
- सभी वस्तुएँ किसी तरल में डुबाने पर उत्प्लावन बल का अनुभव करती हैं।
- जिस द्रव में वस्तुओं को डुबोया जाता है उसके घनत्व से कम घनत्व की वस्तुएँ द्रव की सतह पर तैरती हैं। यदि वस्तु का घनत्व, डुबोए जाने वाले द्रव से अधिक है तो वे द्रव में डूब जाती हैं।

अभ्यास



1. यदि दो वस्तुओं के बीच की दूरी को आधा कर दिया जाए तो उनके बीच गुरुत्वाकर्षण बल किस प्रकार बदलेगा?
2. सभी वस्तुओं पर लगने वाला गुरुत्वीय बल उनके द्रव्यमान के समानुपाती होता है। फिर एक भारी वस्तु हलकी वस्तु के मुकाबले तेजी से क्यों नहीं गिरती?
3. पृथ्वी तथा उसकी सतह पर रखी किसी 1 kg की वस्तु के बीच गुरुत्वीय बल का परिमाण क्या होगा? (पृथ्वी का द्रव्यमान 6×10^{24} kg है तथा पृथ्वी की त्रिज्या 6.4×10^6 m है)।
4. पृथ्वी तथा चंद्रमा एक-दूसरे को गुरुत्वीय बल से आकर्षित करते हैं। क्या पृथ्वी जिस बल से चंद्रमा को आकर्षित करती है वह बल, उस बल से जिससे चंद्रमा पृथ्वी को आकर्षित करता है बड़ा है या छोटा है या बराबर है? बताइए क्यों?
5. यदि चंद्रमा पृथ्वी को आकर्षित करता है, तो पृथ्वी चंद्रमा की ओर गति क्यों नहीं करती?
6. दो वस्तुओं के बीच लगने वाले गुरुत्वाकर्षण बल का क्या होगा, यदि
 - (i) एक वस्तु का द्रव्यमान दोगुना कर दिया जाए?
 - (ii) वस्तुओं के बीच की दूरी दोगुनी अथवा तीन गुनी कर दी जाए?
 - (iii) दोनों वस्तुओं के द्रव्यमान दोगुने कर दिए जाएँ?
7. गुरुत्वाकर्षण के सार्वत्रिक नियम के क्या महत्व हैं?
8. मुक्त पतन का त्वरण क्या है?
9. पृथ्वी तथा किसी वस्तु के बीच गुरुत्वीय बल को हम क्या कहेंगे?
10. एक व्यक्ति A अपने एक मित्र के निर्देश पर ध्रुवों पर कुछ ग्राम सोना खरीदता है। वह इस सोने को विषुवत वृत्त पर अपने मित्र को देता है। क्या उसका मित्र खरीदे हुए सोने के भार से संतुष्ट होगा? यदि नहीं, तो क्यों? (संकेत: ध्रुवों पर g का मान विषुवत वृत्त की अपेक्षा अधिक है।)
11. एक कागज की शीट, उसी प्रकार की शीट को मरोड़ कर बनाई गई गेंद से धीमी क्यों गिरती है?
12. चंद्रमा की सतह पर गुरुत्वीय बल, पृथ्वी की सतह पर गुरुत्वीय बल की अपेक्षा $1/6$ गुणा है। एक 10 kg की वस्तु का चंद्रमा पर तथा पृथ्वी पर न्यूटन में भार क्या होगा?

13. एक गेंद ऊर्ध्वाधर दिशा में ऊपर की ओर 49 m/s के वेग से फेंकी जाती है। परिकलन कीजिए
 - (i) अधिकतम ऊँचाई जहाँ तक कि गेंद पहुँचती है।
 - (ii) पृथ्वी की सतह पर वापस लौटने में लिया गया कुल समय।
14. 19.6 m ऊँची एक मीनार की चोटी से एक पत्थर छोड़ा जाता है। पृथ्वी पर पहुँचने से पहले इसका अंतिम वेग ज्ञात कीजिए।
15. कोई पत्थर ऊर्ध्वाधर दिशा में ऊपर की ओर 40 m/s के प्रारंभिक वेग से फेंका गया है। $g = 10 \text{ m/s}^2$ लेते हुए ग्राफ की सहायता से पत्थर द्वारा पहुँची अधिकतम ऊँचाई ज्ञात कीजिए। नेट विस्थापन तथा पत्थर द्वारा चली गई कुल दूरी कितनी होगी?
16. पृथ्वी तथा सूर्य के बीच गुरुत्वाकर्षण बल का परिकलन कीजिए। दिया है, पृथ्वी का द्रव्यमान $= 6 \times 10^{24} \text{ kg}$ तथा सूर्य का द्रव्यमान $= 2 \times 10^{30} \text{ kg}$ । दोनों के बीच औसत दूरी $1.5 \times 10^{11} \text{ m}$ है।
17. कोई पत्थर 100 m ऊँची किसी मीनार की चोटी से गिराया गया और उसी समय कोई दूसरा पत्थर 25 m/s के वेग से ऊर्ध्वाधर दिशा में ऊपर की ओर फेंका गया। परिकलन कीजिए कि दोनों पत्थर कब और कहाँ मिलेंगे।
18. ऊर्ध्वाधर दिशा में ऊपर की ओर फेंकी गई एक गेंद 6 s पश्चात् फेंकने वाले के पास लौट आती है। ज्ञात कीजिए
 - (a) यह किस वेग से ऊपर फेंकी गई;
 - (b) गेंद द्वारा पहुँची गई अधिकतम ऊँचाई; तथा
 - (c) 4 s पश्चात् गेंद की स्थिति।
19. किसी द्रव में डुबोई गई वस्तु पर उत्प्लावन बल किस दिशा में कार्य करता है?
20. पानी के भीतर किसी प्लास्टिक के गुटके को छोड़ने पर यह पानी की सतह पर क्यों आ जाता है?
21. 50 g के किसी पदार्थ का आयतन 20 cm^3 है। यदि पानी का घनत्व 1 g cm^{-3} हो, तो पदार्थ तैरेगा या डूबेगा?
22. 500 g के एक मोहरबंद पैकेट का आयतन 350 cm^3 है। पैकेट 1 g cm^{-3} घनत्व वाले पानी में तैरेगा या डूबेगा? इस पैकेट द्वारा विस्थापित पानी का द्रव्यमान कितना होगा?

अध्याय 11

कार्य तथा ऊर्जा (Work and Energy)

पिछले कुछ अध्यायों में हम वस्तुओं की गति के वर्णन करने के तरीकों, गति का कारण तथा गुरुत्वाकर्षण के बारे में चर्चा कर चुके हैं। कार्य एक अन्य अवधारणा है जो हमें अनेक प्राकृतिक घटनाओं को समझने तथा उनकी व्याख्या करने में सहायता करती है। ऊर्जा तथा शक्ति का कार्य से निकट संबंध है। इस अध्याय में हम इन अवधारणाओं के बारे में अध्ययन करेंगे।

सभी सजीवों को भोजन की आवश्यकता होती है। जीवित रहने के लिए सजीवों को अनेक मूलभूत गतिविधियाँ करनी पड़ती हैं। इन गतिविधियों (क्रियाकलापों) को हम जैव प्रक्रम कहते हैं। इन प्रक्रमों के लिए ऊर्जा भोजन से प्राप्त होती है। कुछ अन्य क्रियाकलापों; जैसे - खेलने, गाने, पढ़ने, लिखने, सोचने, कूदने, दौड़ने तथा साइकिल चलाने के लिए भी हमें ऊर्जा की आवश्यकता होती है। कठिन क्रियाकलापों में अधिक ऊर्जा की आवश्यकता होती है।

जंतु भी क्रियाकलापों में व्यस्त रहते हैं। उदाहरण के लिए वे कूद या दौड़ सकते हैं। उन्हें लड़ना पड़ता है, अपने शत्रुओं से दूर भागना पड़ता है, भोजन खोजना या आवास के लिए सुरक्षित स्थान खोजना पड़ता है। इसके अतिरिक्त कुछ जंतुओं को हम बोझ ढोने, गाड़ी खींचने या खेत जोतने के लिए उपयोग में लाते हैं। इन सभी क्रियाकलापों के लिए ऊर्जा की आवश्यकता होती है।

मशीनों के बारे में सोचिए। उन मशीनों की सूची बनाइए जिनका उपयोग आप करते हैं। उन्हें कार्य

करने के लिए किस चीज़ की आवश्यकता होती है? कुछ इंजनों को पेट्रोल तथा डीज़ल की आवश्यकता क्यों होती है? सजीवों तथा मशीनों को ऊर्जा की आवश्यकता क्यों होती है?

11.1 कार्य

कार्य क्या है? हम अपने दैनिक जीवन में जिस रूप में कार्य शब्द का प्रयोग करते हैं और जिस रूप में हम इसे विज्ञान में उपयोग करते हैं, उनमें अंतर है। इस बात को स्पष्ट करने के लिए आइए कुछ उदाहरणों पर विचार करें।

11.1.1 कठोर काम करने के बावजूद कुछ अधिक 'कार्य' नहीं!

कमली परीक्षा की तैयारी कर रही है। वह अध्ययन में बहुत-सा समय व्यतीत करती है। वह पुस्तकें पढ़ती है, चित्र बनाती है, अपने विचारों को सुव्यवस्थित करती है, प्रश्न-पत्रों को एकत्रित करती है, कक्षाओं में उपस्थित रहती है, अपने मित्रों के साथ समस्याओं पर विचार-विमर्श करती है तथा प्रयोग करती है। इन क्रियाकलापों पर वह बहुत-सी ऊर्जा व्यय करती है। सामान्य बोलचाल में वह 'कठोर काम' कर रही है। यदि हम कार्य को वैज्ञानिक परिभाषा के अनुसार देखें तो इस 'कठोर काम' में बहुत थोड़ा 'कार्य' सम्मिलित है।

आप एक बहुत बड़ी चट्टान को धकेलने के लिए कठोर परिश्रम कर रहे हैं। मान लीजिए आपके सारे प्रयत्नों के बावजूद चट्टान नहीं हिलती। आप पूर्णतया

थक चुके हैं। तथापि, आपने चट्टान पर कोई कार्य नहीं किया क्योंकि चट्टान में कोई विस्थापन नहीं हुआ।

आप अपने सिर पर एक भारी बोझा रखकर कुछ मिनट के लिए बिना हिले-डुले खड़े रहते हैं। आप थक जाते हैं। आपने प्रयास किया है तथा अपनी बहुत-सी ऊर्जा व्यय की है। क्या आप बोझ पर कुछ कार्य कर रहे हैं? हम विज्ञान में जिस प्रकार 'कार्य' शब्द का अर्थ समझते हैं उस रूप में, इस स्थिति में कार्य नहीं किया गया है।

प्राकृतिक दृश्यों को देखने के लिए, आप सीढ़ियों पर चढ़कर इमारत की ऊपरी मंजिलों पर पहुँच जाते हैं। आप एक ऊँचे पेड़ पर भी चढ़ सकते हैं। वैज्ञानिक परिभाषा के अनुसार इन क्रियाकलापों में बहुत-सा कार्य निहित है।

अपने दैनिक जीवन में, हम किसी भी लाभदायक शारीरिक या मानसिक परिश्रम को कार्य समझते हैं। कुछ क्रियाकलापों; जैसे - मैदान में खेलना, मित्रों से बातचीत करना, किसी धुन को गुनगुनाना, किसी चलचित्र (Cinema) को देखना, किसी समारोह में सम्मिलित होना को कभी-कभी कार्य नहीं समझा जाता। कार्य क्या होता है यह इस बात पर निर्भर है कि हम उसे कैसे परिभाषित करते हैं। विज्ञान में हम कार्य शब्द को भिन्न प्रकार से प्रयोग तथा परिभाषित करते हैं। इसे जानने के लिए आइए निम्न क्रियाकलाप करें:

क्रियाकलाप _____ 11.1

- उपरोक्त अनुच्छेदों में हमने अनेक ऐसे क्रियाकलापों की चर्चा की जिन्हें प्रायः हम अपने दैनिक जीवन में कार्य मानते हैं। इनमें से प्रत्येक क्रियाकलाप के लिए निम्नलिखित प्रश्नों का उत्तर दीजिए :
 - (i) किस वस्तु पर कार्य किया गया?
 - (ii) वस्तु पर क्या घटित हो रहा है?
 - (iii) कार्य कौन (क्या) कर रहा है?

11.1.2 कार्य की वैज्ञानिक संकल्पना

विज्ञान के दृष्टिकोण से हम कार्य को किस प्रकार देखते और परिभाषित करते हैं यह समझने के लिए, आइए कुछ स्थितियों पर विचार करें:

किसी सतह पर रखे एक गुटके को धकेलें। गुटका कुछ दूरी तय करता है। आपने गुटके पर कुछ बल लगाया जिससे गुटका विस्थापित हो गया। इस स्थिति में कार्य हुआ।

एक लड़की किसी ट्रॉली को खींचती है और ट्रॉली कुछ दूर तक चलती है। लड़की ने ट्रॉली पर बल लगाया और यह विस्थापित हुई; इसलिए कार्य किया गया।

एक पुस्तक को किसी ऊँचाई तक उठाइए। ऐसा करने के लिए आपको बल लगाना पड़ेगा। पुस्तक ऊपर उठती है। पुस्तक पर एक बल लगाया गया तथा पुस्तक गतिमान हुई; इसलिए कार्य किया गया।

उपरोक्त स्थितियों को ध्यानपूर्वक देखने से ज्ञात होता है कि कार्य करने के लिए दो दशाओं का होना आवश्यक है: (i) वस्तु पर कोई बल लगना चाहिए, तथा (ii) वस्तु विस्थापित होनी चाहिए।

यदि इनमें से कोई भी दशा पूरी नहीं होती तो कार्य नहीं किया गया। विज्ञान में हम कार्य को इसी दृष्टि से देखते हैं।

एक बैल किसी गाड़ी को खींच रहा है। गाड़ी चलती है। गाड़ी पर एक बल लग रहा है तथा गाड़ी कुछ दूर चली है। क्या आपके विचार में इस स्थिति में कार्य किया गया है?

क्रियाकलाप _____ 11.2

- अपने दैनिक जीवन की कुछ स्थितियों पर विचार कीजिए जिनमें कार्य सम्मिलित हो।
 - इनकी सूची बनाइए।
 - अपने मित्रों से विचार-विमर्श कीजिए कि क्या प्रत्येक स्थिति में कार्य किया गया है।
 - अपने उत्तरों का कारण जानने का प्रयत्न कीजिए।

- यदि कार्य हुआ है तो वस्तु पर कौन सा बल कार्य कर रहा है?
- वह कौन-सी वस्तु है जिस पर कार्य किया गया है?
- जिस वस्तु पर कार्य किया गया है उसकी स्थिति में क्या परिवर्तन होता है?

क्रियाकलाप 11.3

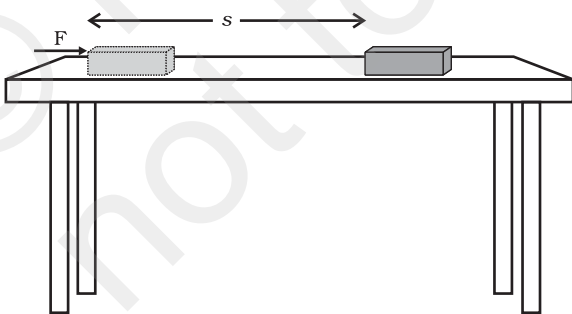
- कुछ स्थितियों पर विचार कीजिए जब वस्तु पर बल लगने के बावजूद वह विस्थापित नहीं होती।
- ऐसी स्थिति पर भी विचार कीजिए जब कोई वस्तु बल लगे बिना ही विस्थापित हो जाए।
- प्रत्येक के लिए जितनी स्थितियाँ आप सोच सकें उनकी सूची बनाइए।
- अपने मित्रों से विचार-विमर्श कीजिए कि क्या इन स्थितियों में कार्य हुआ है।

11.13 एक नियत बल द्वारा किया गया कार्य

विज्ञान में कार्य को कैसे परिभाषित किया जाता है? इसे समझने के लिए, पहले हम उस स्थिति पर विचार करते हैं जब बल विस्थापन की दिशा में लग रहा हो।

मान लीजिए किसी वस्तु पर एक नियत बल F कार्य करता है। मान लीजिए कि वस्तु बल की दिशा में s दूरी विस्थापित हुई (चित्र 11.1)। मान लीजिए W किया गया कार्य है। कार्य की परिभाषा के अनुसार किया गया कार्य बल तथा विस्थापन के गुणनफल के बराबर है।

$$\text{किया गया कार्य} = \text{बल} \times \text{विस्थापन} \\ W = F s \quad (11.1)$$



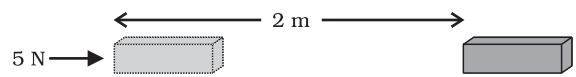
चित्र 11.1

अतः, किसी वस्तु पर लगने वाले बल द्वारा किया गया कार्य बल के परिमाण तथा बल की दिशा में चली गई दूरी के गुणनफल के बराबर होता है। कार्य में केवल परिमाण होता है तथा कोई दिशा नहीं होती।

समीकरण (11.1) में यदि $F = 1 \text{ N}$ तथा $s = 1 \text{ m}$ हों, तो बल द्वारा किया गया कार्य 1 N m होगा। यहाँ बल का मात्रक न्यूटन मीटर (N m) या जूल (J) है। अतः 1 J किसी वस्तु पर किए गए कार्य की वह मात्रा है जब 1 N का बल वस्तु को बल की क्रिया रेखा की दिशा में 1 m विस्थापित कर दे।

समीकरण (11.1) को ध्यानपूर्वक देखिए। यदि वस्तु पर लगने वाला बल शून्य है तो किया गया कार्य कितना होगा? यदि वस्तु का विस्थापन शून्य है तो किया गया कार्य कितना होगा? उन दशाओं का उल्लेख कीजिए जिनका कार्य होने के लिए पूरा होना आवश्यक है।

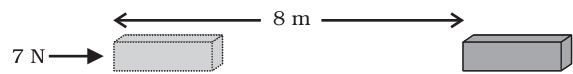
उदाहरण 11.1 किसी वस्तु पर 5 N बल लग रहा है। बल की दिशा में वस्तु 2 m विस्थापित होती है (चित्र 11.2)। यदि विस्थापन होते समय लगातार वस्तु पर बल लगता रहे, तो समीकरण (11.1) के अनुसार किया गया कार्य होगा $5 \text{ N} \times 2 \text{ m} = 10 \text{ N m}$ या 10 J ।



चित्र 11.2

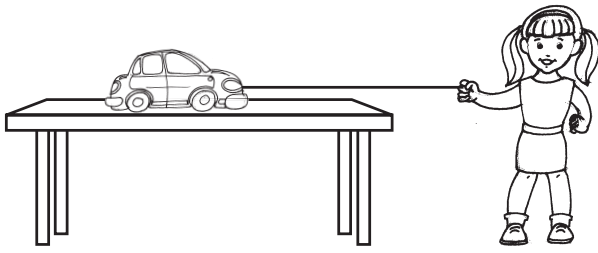
प्रश्न

1. किसी वस्तु पर 7 N का बल लगता है। मान लीजिए बल की दिशा में विस्थापन 8 m है (चित्र 11.3)। मान लीजिए वस्तु के विस्थापन के समय लगातार वस्तु पर बल लगता रहता है। इस स्थिति में किया गया कार्य कितना होगा?



चित्र 11.3

एक अन्य स्थिति पर विचार करें जिसमें बल तथा विस्थापन एक ही दिशा में है; एक बच्चा किसी खिलौना कार को चित्र 11.4 में दर्शाए अनुसार धरती के समानांतर खींच रहा है। बच्चे ने कार के विस्थापन की दिशा में बल लगाया है। इस स्थिति में किया गया कार्य बल तथा विस्थापन के गुणनफल के बराबर होगा। इस प्रकार की स्थिति में बल द्वारा किया गया कार्य धनात्मक माना जाता है।



चित्र 11.4

अब एक स्थिति पर विचार करें जिसमें कि एक वस्तु समान वेग से किसी नियत दिशा में गति कर रही है और उस पर विपरीत दिशा में एक अवमंदक बल, F , आरोपित किया जाता है, अर्थात्, दोनों दिशाओं के बीच 180° का कोण बन रहा है। माना कि वस्तु s दूरी के विस्थापन के पश्चात रुक जाती है। ऐसी स्थिति में बल F द्वारा किया गया कार्य ऋणात्मक माना जाता है और इसे ऋण चिह्न द्वारा निर्दिष्ट किया जाता है। बल द्वारा किया गया कार्य $F \times (-s)$ या $(-F \times s)$ है।

जब बल विस्थापन की दिशा के विपरीत दिशा में लगता है तो किया गया कार्य ऋणात्मक होता है। जब बल विस्थापन की दिशा में लगता है तो किया गया कार्य धनात्मक होता है।

उपरोक्त विचार-विमर्श से यह स्पष्ट है कि किसी बल द्वारा किया गया कार्य धनात्मक अथवा ऋणात्मक, दोनों में से कोई एक, हो सकता है। इसे समझने के लिए आइए निम्नलिखित क्रियाकलाप करें:

कार्य तथा ऊर्जा

क्रियाकलाप 11.4

- किसी वस्तु को ऊपर उठाइए। आपके द्वारा वस्तु पर लगाए गए बल के द्वारा कार्य किया गया। वस्तु ऊपर की ओर चलती है। आपके द्वारा लगाया गया बल विस्थापन की दिशा में है। तथापि वस्तु पर गुरुत्वीय बल भी कार्यरत है।
- इनमें से कौन-सा बल धनात्मक कार्य कर रहा है?
- कौन सा बल ऋणात्मक कार्य कर रहा है?
- कारण बताइए।

उदाहरण 11.2 एक कुली 15 kg का बोझ धरती से 1.5 m ऊपर उठाकर अपने सिर पर रखता है। उसके द्वारा बोझे पर किए गए कार्य का परिकलन कीजिए।

हल:

बोझ का द्रव्यमान $m = 15 \text{ kg}$ तथा

विस्थापन $s = 1.5 \text{ m}$

किया गया कार्य $W = F \times s = mg \times s$

$$= 15 \text{ kg} \times 10 \text{ m s}^{-2} \times 1.5 \text{ m}$$

$$= 225 \text{ kg m s}^{-2} \text{ m}$$

$$= 225 \text{ N m} = 225 \text{ J}$$

कुली द्वारा बोझे पर किया गया कार्य 225 J है।

प्रश्न

1. हम कब कहते हैं कि कार्य किया गया है?
2. जब किसी वस्तु पर लगने वाला बल इसके विस्थापन की दिशा में हो तो किए गए कार्य का व्यंजक लिखिए।
3. 1 J कार्य को परिभाषित कीजिए।
4. बैलों की एक जोड़ी खेत जोतते समय किसी हल पर 140 N बल लगाती है। जोता गया खेत 15 m लंबा है। खेत की लंबाई को जोतने में कितना कार्य किया गया?

11.2 ऊर्जा

ऊर्जा के बिना जीवन असंभव है। ऊर्जा की आवश्यकता दिन प्रतिदिन बढ़ रही है। हमें ऊर्जा कहाँ से प्राप्त

होती है? सूर्य हमारे लिए ऊर्जा का सबसे बड़ा प्राकृतिक स्रोत है। हमारे ऊर्जा के बहुत-से स्रोत सूर्य से व्युत्पन्न होते हैं। हम परमाणुओं के नाभिकों से, पृथ्वी के आंतरिक भागों से तथा ज्वार-भाटों से भी ऊर्जा प्राप्त कर सकते हैं। क्या आप ऊर्जा के अन्य स्रोतों के बारे में सोच सकते हैं?

क्रियाकलाप 11.5

- ऊर्जा के कुछ स्रोतों को ऊपर दिया गया है। ऊर्जा के अनेक अन्य स्रोत भी हैं। उनकी सूची बनाइए।
- छोटे समूहों में विचार-विमर्श कीजिए कि किस प्रकार ऊर्जा के कुछ स्रोत सूर्य के कारण हैं।
- क्या ऊर्जा के कुछ ऐसे स्रोत भी हैं जो सूर्य के कारण नहीं हैं?

ऊर्जा शब्द का प्रयोग प्रायः हमारे दैनिक जीवन में होता रहता है किंतु विज्ञान में इसका एक निश्चित एवं परिशुद्ध अर्थ है। आइए, निम्नलिखित उदाहरणों पर विचार करें: जब तीव्र वेग से गतिशील क्रिकेट की गेंद स्थिर विकेटों से टकराती है, तो विकेट दूर जा गिरते हैं। इसी प्रकार, जब हम किसी वस्तु को किसी निश्चित ऊँचाई तक उठाते हैं तब उसमें कार्य करने की क्षमता समाहित हो जाती है। आपने अवश्य ही देखा होगा कि ऊँचाई तक उठाया गया हथौड़ा जब लकड़ी के किसी टुकड़े पर रखी हुई कील पर प्रहार करता है तो वह कील को लकड़ी में ठोक देता है। हमने बच्चों को खिलौनों (जैसे खिलौना कार) में चाबी भरते भी देखा है और जब यह खिलौना किसी फर्श पर रखा जाता है तो ये गति करने लगता है। जब किसी गुब्बारे में हवा भर कर उसे दबाते हैं तो उसकी आकृति में परिवर्तन होता है। यदि हम गुब्बारे को कम बल लगाकर दबाते हैं तो बल को हटाने पर यह अपनी मूल आकृति में वापस आ सकता है। किंतु यदि हम गुब्बारे को अधिक बल से दबाएँ तो यह विस्फोटक ध्वनि करते हुए फट भी सकता है। इन सभी उदाहरणों

में वस्तुएँ, विभिन्न प्रकार से, कार्य करने की क्षमता अर्जित कर लेती हैं। यदि किसी वस्तु में कार्य करने की क्षमता है तो कहा जाता है कि इसमें ऊर्जा है। जो वस्तु कार्य करती है उसमें ऊर्जा की हानि होती है और जिस वस्तु पर कार्य किया जाता है उसमें ऊर्जा की वृद्धि होती है।

किसी वस्तु में यदि ऊर्जा है तो यह कैसे कार्य करती है? कोई वस्तु जिसमें ऊर्जा है तो वह दूसरी वस्तु पर बल लगा सकती है। जब ऐसा होता है तो ऊर्जा पहली वस्तु से दूसरी वस्तु में स्थानांतरित हो जाती है। दूसरी वस्तु क्योंकि कुछ ऊर्जा ग्रहण करती है इसलिए कुछ कार्य कर सकती है और इस प्रकार यह गति में आ सकती है। इस प्रकार पहली वस्तु में कार्य करने की क्षमता है। इसका अर्थ हुआ कि कोई भी वस्तु जिसमें ऊर्जा है, कार्य कर सकती है।

इस प्रकार किसी वस्तु में निहित ऊर्जा को उसकी कार्य करने की क्षमता के रूप में मापा जाता है। इसीलिए ऊर्जा का मात्रक वही है जो कार्य का है अर्थात् जूल (J)। एक जूल कार्य करने के लिए आवश्यक ऊर्जा की मात्रा 1 J होती है। कभी-कभी ऊर्जा के बड़े मात्रक किलो जूल (kJ) का उपयोग किया जाता है। 1 kJ, 1000 J के बराबर होता है।

11.2.1 ऊर्जा के रूप

सौभाग्य से जिस संसार में हम रहते हैं उसमें ऊर्जा अनेक रूपों में विद्यमान है। विभिन्न रूपों में स्थितिज ऊर्जा, गतिज ऊर्जा, ऊष्मीय ऊर्जा, रासायनिक ऊर्जा, विद्युत् ऊर्जा तथा प्रकाश ऊर्जा सम्मिलित हैं।

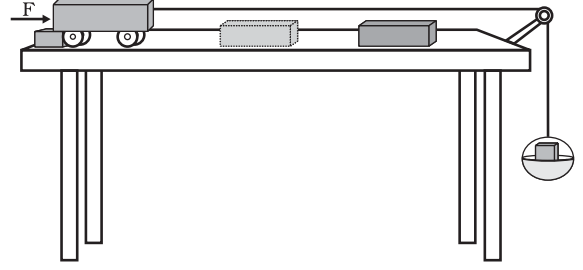
इसे सोचिए!

आप कैसे ज्ञात करेंगे कि कोई सत्ता (वस्तु जिसका अस्तित्व है) ऊर्जा का रूप है। अपने मित्रों तथा अध्यापकों से विचार-विमर्श कीजिए।



जेम्स प्रेसकॉट जूल
(1818 – 1889)

जेम्स प्रेसकॉट जूल एक प्रतिभाशाली ब्रिटिश भौतिक विज्ञानी थे। वे अपने विद्युत् तथा ऊष्मागतिकी के अनुसंधानों के लिए विशेष रूप से प्रसिद्ध हुए। अन्य विचारों के अतिरिक्त उन्होंने विद्युत् के ऊष्मीय प्रभाव के बारे में नियम बनाया। उन्होंने ऊर्जा संरक्षण नियम को प्रयोगात्मक रूप से सत्यापित किया तथा ऊष्मा के यांत्रिक तुल्यांक के मान की खोज की। ऊर्जा तथा कार्य के मात्रक का नाम जूल, उन्हीं के सम्मान में रखा गया है।



चित्र 11.5

11.2.2 गतिज ऊर्जा

क्रियाकलाप 11.6

- एक भारी गेंद लीजिए। इसे रेत की मोटी परत (क्यारी) पर गिराइए। गीले रेत की सतह अच्छा कार्य करेगी। गेंद को रेत पर लगभग 25 cm की ऊँचाई से गिराइए। गेंद रेत में एक गर्त (गड्ढा) बना देती है।
- इस क्रियाकलाप को 50 cm, 1 m तथा 1.5 m की ऊँचाइयों से गेंद को गिराकर दोहराइए।
- सुनिश्चित कीजिए कि सभी गर्त सुस्पष्ट दिखाई दें।
- गेंद को गिराने की ऊँचाई के अनुसार सभी गर्तों पर निशान लगाएँ।
- उनकी गहराइयों की तुलना करें।
- इनमें से कौन-सी गर्त सबसे अधिक गहरी है।
- कौन-सा गड्ढा सबसे अधिक उथला है। ऐसा क्यों है?
- गेंद ने किस कारण से गहरा गड्ढा बनाया?
- विचार-विमर्श कीजिए तथा विश्लेषण कीजिए।

क्रियाकलाप 11.7

- चित्र 11.5 के अनुसार उपकरण सज्जित कीजिए।
- एक ज्ञात द्रव्यमान के लकड़ी के गुटके को

ट्रॉली के सामने किसी सुविधाजनक निश्चित दूरी पर रखिए।

- पलड़े पर एक ज्ञात द्रव्यमान रखिए जिससे कि ट्रॉली गतिमान हो जाए।
- ट्रॉली आगे चलती है तथा लकड़ी के गुटके से टकराती है।
- मेज पर एक अवरोधक इस प्रकार लगाइए कि गुटके से टकराने के पश्चात् ट्रॉली वहीं रुक जाए।
- गुटका विस्थापित हो जाता है।
- गुटके के विस्थापन को मापिए। इसका अर्थ हुआ कि जैसे ही गुटके ने ऊर्जा ग्रहण की, ट्रॉली द्वारा गुटके पर कार्य किया गया।
- यह ऊर्जा कहाँ से आई?
- पलड़े पर रखे द्रव्यमान को बढ़ाकर इस प्रयोग को दोहराइए।
- किस अवस्था में विस्थापन अधिक है? किस अवस्था में किया गया कार्य अधिक होगा?
- इस क्रियाकलाप में गतिशील ट्रॉली कार्य करती है अतः इसमें ऊर्जा विद्यमान है।

एक चलती हुई वस्तु कार्य कर सकती है। एक तेज़ चलती वस्तु, अपने सदृश अपेक्षाकृत धीमी चलती हुई वस्तु से अधिक कार्य कर सकती है। एक गतिशील गोली, बहती हुई हवा, घूमता हुआ पहिया, एक गतिशील पत्थर, ये सभी कार्य कर सकते हैं। गोली लक्ष्य को कैसे भेद पाती है? बहती हुई हवा पवन चक्की की पंखुड़ियों को कैसे घुमा पाती है? गतिशील वस्तुओं में ऊर्जा होती है।

गिरता हुआ नारियल, गतिशील कार, लुढ़कता हुआ पत्थर, उड़ता हुआ हवाई जहाज, बहता हुआ

पानी, बहती हुई हवा, दौड़ता हुआ खिलाड़ी आदि सभी में गतिज ऊर्जा विद्यमान है। संक्षेप में, किसी वस्तु में उसकी गति के कारण निहित ऊर्जा को गतिज ऊर्जा कहते हैं। किसी वस्तु की गतिज ऊर्जा उसकी चाल के साथ बढ़ती है।

किसी गतिशील वस्तु में उसकी गति के कारण कितनी ऊर्जा निहित होती है। परिभाषा के अनुसार हम कह सकते हैं कि किसी निश्चित वेग से गतिशील वस्तु की गतिज ऊर्जा उस वस्तु पर इस वेग को प्राप्त करने के लिए किए गए कार्य के बराबर है।

आइए अब किसी वस्तु की गतिज ऊर्जा को एक समीकरण के रूप में व्यक्त करें। मान लीजिए m द्रव्यमान की एक वस्तु एकसमान वेग u से गतिशील है। अब मान लीजिए जब इस पर एक नियत बल F विस्थापन की दिशा में लगता है तो वस्तु s दूरी तक विस्थापित हो जाती है। समीकरण (11.1) से, किया गया कार्य W , $F s$ के बराबर है। वस्तु पर किए गए कार्य के कारण इसके वेग में परिवर्तन होगा। मान लीजिए कि इसका वेग u से v हो जाता है। मान लीजिए उत्पन्न हुए त्वरण का मान a है।

अनुभाग 8.5 में, हमने गति के तीन समीकरणों के बारे में अध्ययन किया है। एकसमान त्वरण a से गतिशील किसी वस्तु के प्रारंभिक वेग (u), अंतिम वेग (v) तथा विस्थापन s के बीच निम्न संबंध है

$$v^2 - u^2 = 2as. \quad (8.7)$$

या

$$s = \frac{v^2 - u^2}{2a} \quad (11.2)$$

अनुभाग 9.4 से, हमें ज्ञात है कि $F = ma$ । इस प्रकार समीकरण (11.2) को समीकरण (11.1) में रखने पर हम बल F द्वारा किए गए कार्य को लिख सकते हैं

$$W = ma \frac{v^2 - u^2}{2a}$$

अथवा

$$W = \frac{1}{2}m v^2 - u^2 \quad (11.3)$$

यदि वस्तु की गति अपनी विराम अवस्था से प्रारंभ होती है, अर्थात् $u = 0$, तब

$$W = \frac{1}{2}m v^2 \quad (11.4)$$

यह स्पष्ट है कि किया गया कार्य वस्तु की गतिज ऊर्जा में परिवर्तन के बराबर है।

यदि $u = 0$, किया गया कार्य होगा $\frac{1}{2}m v^2$ ।

अतः m द्रव्यमान की तथा एकसमान वेग v से गतिशील वस्तु की गतिज ऊर्जा का मान

$$E_k = \frac{1}{2}m v^2 \quad (11.5)$$

उदाहरण 11.3 15 kg द्रव्यमान की एक वस्तु 4 m s^{-1} के एकसमान वेग से गतिशील है। वस्तु की गतिज ऊर्जा कितनी होगी?

हल:

वस्तु का द्रव्यमान $m = 15 \text{ kg}$,

वस्तु का वेग $v = 4 \text{ m s}^{-1}$

समीकरण (11.5) से

$$\begin{aligned} E_k &= \frac{1}{2}m v^2 \\ &= \frac{1}{2} \times 15 \text{ kg} \times 4 \text{ m s}^{-1} \times 4 \text{ m s}^{-1} \\ &= 120 \text{ J} \end{aligned}$$

वस्तु की गतिज ऊर्जा 120 J है।

उदाहरण 11.4 यदि किसी कार का द्रव्यमान 1500 kg है तो उसके वेग को 30 km h^{-1} से 60 km h^{-1} तक बढ़ाने में कितना कार्य करना पड़ेगा?

हल:

कार का द्रव्यमान $m = 1500 \text{ kg}$

कार का प्रारंभिक वेग $u = 30 \text{ km h}^{-1}$

$$\begin{aligned} &= \frac{30 \times 1000 \text{ m}}{60 \times 60 \text{ s}} \\ &= 8.33 \text{ m s}^{-1} \end{aligned}$$

इसी प्रकार कार का अंतिम वेग

$$v = 60 \text{ km h}^{-1} = 16.67 \text{ m s}^{-1}$$

इसलिए कार की प्रारंभिक गतिज ऊर्जा

$$\begin{aligned} E_{ki} &= \frac{1}{2} m u^2 \\ &= \frac{1}{2} \times 1500 \text{ kg} \times (8.33 \text{ m s}^{-1})^2 \\ &= 52041.68 \text{ J} \end{aligned}$$

इसी प्रकार, कार की अंतिम गतिज ऊर्जा

$$\begin{aligned} E_{kf} &= \frac{1}{2} \times 1500 \text{ kg} \times (16.67 \text{ m s}^{-1})^2 \\ &= 208416.68 \text{ J} \end{aligned}$$

अतः किया गया कार्य = गतिज ऊर्जा में परिवर्तन

$$\begin{aligned} &= E_{kf} - E_{ki} \\ &= 156375 \text{ J} \end{aligned}$$

प्रश्न

1. किसी वस्तु की गतिज ऊर्जा क्या होती है?
2. किसी वस्तु की गतिज ऊर्जा के लिए व्यंजक लिखो।
3. 5 m s^{-1} के वेग से गतिशील किसी m द्रव्यमान की वस्तु की गतिज ऊर्जा 25 J है। यदि इसके वेग को दोगुना कर दिया जाए तो इसकी गतिज ऊर्जा कितनी हो जाएगी? यदि इसके वेग को तीनगुना बढ़ा दिया जाए तो इसकी गतिज ऊर्जा कितनी हो जाएगी?

11.23 स्थितिज ऊर्जा

क्रियाकलाप 11.8

- एक रबड़ बैंड (रबड़ का छल्ला) लीजिए।
- इसके एक सिरे को पकड़कर दूसरे सिरे से खींचिए। छल्ला खिंच जाता है।
- छल्ले के एक सिरे को छोड़िए।
- क्या होता है?

- छल्ला अपनी प्रारंभिक लंबाई प्राप्त करने का प्रयत्न करेगा। स्पष्ट है कि छल्ले ने अपनी खिंची हुई स्थिति में कुछ ऊर्जा उपाजित कर ली है।
- खींचने पर यह ऊर्जा किस प्रकार उपाजित कर लेता है?

क्रियाकलाप 11.9

- एक स्प्रिंग लीजिए।
- निम्न चित्र में दशाये अनुसार अपने मित्र से इसके एक सिरे को पकड़ने के लिए कहिए। आप दूसरे सिरे को पकड़िए तथा अपने मित्र से दूर चले जाएं।



- अब आप स्प्रिंग को छोड़ दीजिए।
- क्या होता है?
- खींचने पर स्प्रिंग ने किस प्रकार ऊर्जा उपाजित की?
- क्या संपीडित करने पर भी स्प्रिंग ऊर्जा उपाजित करेगी?

क्रियाकलाप 11.10

- एक खिलौना कार लीजिए। इसमें चाबी भरिए।
- कार को जमीन पर रखिए।
- क्या ये चलती है?
- इसने ऊर्जा कहाँ से उपाजित की।
- क्या उपाजित ऊर्जा, चाबी द्वारा भरे गये लपेटनों की संख्या पर निर्भर है?
- आप इसकी जाँच कैसे कर सकते हैं?

क्रियाकलाप 11.11

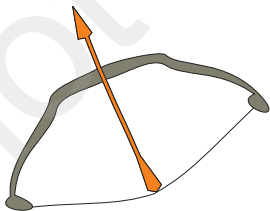
- किसी वस्तु को एक निश्चित ऊँचाई तक उठाइए।
- वस्तु अब कार्य कर सकती है। छोड़ने पर यह नीचे गिरने लगती है। इसका अर्थ है कि इसने कुछ ऊर्जा उपाजित कर ली है।
- अधिक ऊँचा उठाने पर यह अधिक कार्य कर सकती है और इस प्रकार इसमें अधिक ऊर्जा विद्यमान हो जाती है।
- इसे ऊर्जा कहाँ से प्राप्त होती है? सोचिए तथा विचार-विमर्श कीजिए।

उपरोक्त परिस्थितियों में, वस्तु पर किए गए कार्य के कारण इसमें ऊर्जा संचित हो जाती है। किसी वस्तु को स्थानांतरित की गई ऊर्जा इसमें स्थितिज ऊर्जा के रूप में संचित रहती है यदि यह वस्तु की चाल या वेग में परिवर्तन करने के लिए उपयोग में नहीं आती है। वस्तु कार्य करने के लिए स्थिति प्राप्त कर लेती है।

जब आप किसी रबड़ बैंड को खींचते हैं तो आप कुछ ऊर्जा स्थानांतरित करते हैं। बैंड में स्थानांतरित की गई ऊर्जा इसमें स्थितिज ऊर्जा के रूप में संचित हो जाती है। किसी खिलौना कार से चाबी भरते समय आप कार्य करते हैं। इसके अंदर कमानी में स्थानांतरित की गई ऊर्जा स्थितिज ऊर्जा के रूप में संचित हो जाती है। किसी वस्तु द्वारा इसकी स्थिति अथवा विन्यास में परिवर्तन के कारण प्राप्त ऊर्जा को स्थितिज ऊर्जा कहते हैं।

क्रियाकलाप 11.12

- बाँस की एक खपच्ची लीजिए और इससे चित्र 11.6 में दिखाए अनुसार एक धनुष बनाइए।
- किसी हलकी डंडी का एक तीर बनाइए।
- तीर का एक सिरा धनुष की तानित डोरी पर रखिए।
- अब डोरी को खींचिए और तीर को मुक्त कीजिए।
- तीर को धनुष से दूर जाते हुए देखिए।
- धनुष की आकृति में परिवर्तन पर ध्यान दीजिए।
- धनुष की आकृति में परिवर्तन के कारण उसमें संचित स्थितिज ऊर्जा, तीर को गतिज ऊर्जा प्रदान करती है जिससे तीर गतिशील होकर दूर जा गिरता है।



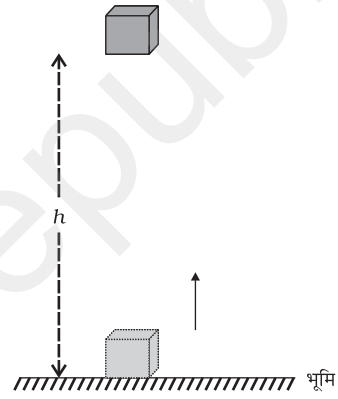
चित्र 11.6: धनुष की तानित डोरी पर रखा तीर

11.24 किसी ऊँचाई पर वस्तु की स्थितिज ऊर्जा

वस्तु को किसी ऊँचाई तक उठाने में उसकी ऊर्जा में वृद्धि होती है। इसका कारण है कि इसको ऊपर उठाने में इस पर गुरुत्व बल के विरुद्ध कार्य किया जाता है। इस प्रकार की वस्तु में विद्यमान ऊर्जा उसकी गुरुत्वीय स्थितिज ऊर्जा है।

भूमि से ऊपर किसी बिंदु पर किसी वस्तु की गुरुत्वीय स्थितिज ऊर्जा को, वस्तु को भूमि से उस बिंदु तक उठाने में गुरुत्वीय बल के विरुद्ध किए गए कार्य द्वारा परिभाषित करते हैं।

किसी ऊँचाई पर किसी वस्तु के गुरुत्वीय स्थितिज ऊर्जा के व्यंजक को ज्ञात करना सरल है।



चित्र 11.7

एक m द्रव्यमान की वस्तु के बारे में विचार कीजिए। मान लीजिए इसे धरती से h ऊँचाई तक ऊपर उठाया जाता है। ऐसा करने के लिए एक बल की आवश्यकता है। वस्तु को उठाने के लिए आवश्यक न्यूनतम बल वस्तु के भार के बराबर अर्थात् mg है। वस्तु में इस पर किए गए कार्य के बराबर ऊर्जा उपार्जित होगी। मान लीजिए कि वस्तु पर गुरुत्वीय बल के विरुद्ध किया गया कार्य W है। तब,

$$\begin{aligned} \text{किया गया कार्य } W &= \text{बल} \times \text{विस्थापन} \\ &= mg \times h \\ &= mgh \end{aligned}$$

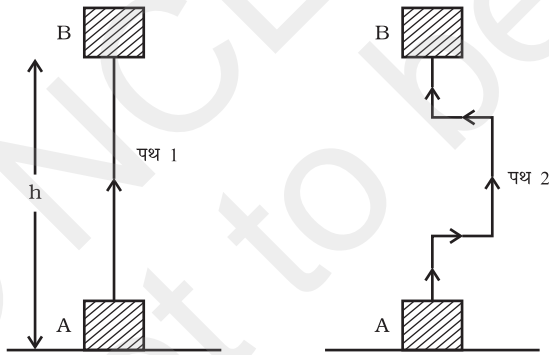
क्योंकि वस्तु पर किया गया कार्य mgh के बराबर है, इसलिए वस्तु को mgh इकाई के बराबर ऊर्जा उपार्जित होगी। यह वस्तु की स्थितिज ऊर्जा (E_p) है।

$$E_p = mgh \quad (11.6)$$

इसे भी जानें

वस्तु की किसी ऊँचाई पर स्थितिज ऊर्जा भूमि तल या आपके द्वारा चुने गए शून्य तल पर निर्भर है। किसी वस्तु के लिए दी हुई स्थिति के लिए एक तल के सापेक्ष स्थितिज ऊर्जा का कोई विशेष मान हो सकता है और किसी दूसरे तल के सापेक्ष स्थितिज ऊर्जा का कोई दूसरा मान हो सकता है।

यह ध्यान देने योग्य बात है कि गुरुत्वीय बल द्वारा किया गया कार्य वस्तु की प्रारंभिक तथा अंतिम स्थितियों की ऊर्ध्वाधर ऊँचाइयों के अंतर पर निर्भर है न कि उस रास्ते पर जिस पर वस्तु ने गति की है। चित्र 11.8 में ऐसी स्थिति दिखाई गई है जहाँ एक गुटका स्थिति A से स्थिति B तक दो विभिन्न पथों से पहुँचाया गया है। मान लीजिए ऊँचाई $AB = h$ । दोनों ही स्थितियों में वस्तु पर किया गया कार्य mgh है।



चित्र 11.8

उदाहरण 11.5 10 kg द्रव्यमान की एक वस्तु को धरती से 6 m की ऊँचाई तक उठाया गया है।

इस वस्तु में विद्यमान ऊर्जा का परिकलन कीजिए। g का मान 9.8 m s^{-2} है।

हल:

वस्तु का द्रव्यमान $m = 10 \text{ kg}$,
विस्थापन (ऊँचाई) $h = 6 \text{ m}$ तथा
गुरुत्वीय त्वरण $g = 9.8 \text{ m s}^{-2}$.

समीकरण (11.6) से

$$\begin{aligned} \text{स्थितिज ऊर्जा} &= mgh \\ &= 10 \text{ kg} \times 9.8 \text{ m s}^{-2} \times 6 \text{ m} \\ &= 588 \text{ J}. \end{aligned}$$

स्थितिज ऊर्जा 588 J है।

उदाहरण 11.6 12 kg द्रव्यमान की एक वस्तु धरती से एक निश्चित ऊँचाई पर स्थित है। यदि वस्तु की स्थितिज ऊर्जा 480 J है तो वस्तु की धरती के सापेक्ष ऊँचाई ज्ञात कीजिए। दिया है, परिकलन में सरलता के लिए g का मान 10 m s^{-2} लें।

हल :

वस्तु का द्रव्यमान $m = 12 \text{ kg}$,

स्थितिज ऊर्जा $E_p = 480 \text{ J}$.

$$E_p = mgh$$

$$480 \text{ J} = 12 \text{ kg} \times 10 \text{ m s}^{-2} \times h$$

$$h = \frac{480 \text{ J}}{120 \text{ kg ms}^{-2}}$$

$$= 4 \text{ m}.$$

वस्तु 4 m की ऊँचाई पर स्थित है।

11.2.5 क्या ऊर्जा के विभिन्न रूप परस्पर परिवर्तनीय हैं?

क्या हम ऊर्जा का एक रूप से दूसरे रूप में रूपांतरण कर सकते हैं? प्रकृति में हमें ऊर्जा रूपांतरण के अनेक उदाहरण देखने को मिलते हैं।

क्रियाकलाप 11.13

- छोटे समूहों में बैठिए।
- प्रकृति में ऊर्जा रूपांतरण की विभिन्न विधियों पर विचार करें।
- अपने समूह में निम्न प्रश्नों के बारे में विचार-विमर्श कीजिए:
 - हरे पौधे खाना कैसे बनाते हैं?
 - उन्हें ऊर्जा कहाँ से प्राप्त होती है?
 - वायु एक स्थान से दूसरे स्थान को क्यों बहती है?
 - कोयला तथा पेट्रोलियम जैसे ईंधन कैसे बने?
 - किस प्रकार के ऊर्जा रूपांतरण जल चक्र को बनाए रखते हैं?

क्रियाकलाप 11.14

- अनेक मानव क्रियाकलापों तथा हमारे द्वारा उपयोग किए जाने वाले जुगतों में ऊर्जा रूपांतरण सम्मिलित है।
- इस प्रकार के क्रियाकलापों तथा जुगतों की एक सूची बनाइए।
- प्रत्येक क्रियाकलाप या जुगत में पहचानिए कि किस प्रकार का ऊर्जा रूपांतरण हो रहा है।

11.2.6 ऊर्जा संरक्षण का नियम

क्रियाकलाप 11.13 तथा 11.14 में हमने सीखा कि ऊर्जा एक रूप से दूसरे रूप में परिवर्तित हो सकती है। इस प्रक्रिया में निकाय की कुल ऊर्जा का क्या हुआ? ऊर्जा-रूपांतरण की अवस्था में निकाय की कुल ऊर्जा अपरिवर्तित रहती है। यह ऊर्जा संरक्षण के नियमानुसार है। इस नियम के अनुसार, ऊर्जा केवल एक रूप से दूसरे रूप में रूपांतरित हो सकती है; न तो इसकी उत्पत्ति की जा सकती है और न ही विनाश। रूपांतरण के पहले व रूपांतरण के पश्चात् कुल ऊर्जा सदैव अचर रहती है। ऊर्जा संरक्षण का नियम प्रत्येक स्थिति तथा सभी प्रकार के रूपांतरणों में मान्य है।

एक सरल उदाहरण पर विचार कीजिए। मान

लीजिए m द्रव्यमान की एक वस्तु h ऊँचाई से स्वतंत्रतापूर्वक गिराई जाती है। प्रारंभ में, स्थितिज ऊर्जा mgh है तथा गतिज ऊर्जा शून्य है। गतिज ऊर्जा शून्य क्यों है? यह शून्य है क्योंकि इसका प्रारंभिक वेग शून्य है। इस प्रकार वस्तु की कुल ऊर्जा mgh है। जब यह वस्तु गिरती है तो इसकी स्थितिज ऊर्जा गतिज ऊर्जा में परिवर्तित होगी। यदि किसी दिए हुए क्षण पर वस्तु का वेग v है तो गतिज ऊर्जा $\frac{1}{2}mv^2$ होगी। वस्तु जैसे-जैसे नीचे गिरती है, इसकी स्थितिज ऊर्जा कम होती जाती है तथा गतिज ऊर्जा बढ़ती जाती है। जब वस्तु धरती पर पहुँचने वाली होती है तो $h=0$ होगा तथा इस अवस्था में वस्तु का अंतिम वेग v अधिकतम हो जाएगा। इसलिए अब गतिज ऊर्जा अधिकतम तथा स्थितिज ऊर्जा न्यूनतम होगी। तथापि, सभी बिंदुओं पर वस्तु की स्थितिज ऊर्जा तथा गतिज ऊर्जा का योग समान रहता है। अर्थात्, स्थितिज ऊर्जा + गतिज ऊर्जा = अचर,

$$\text{या } mgh + \frac{1}{2}mv^2 = \text{अचर} \quad (11.7)$$

किसी वस्तु की गतिज ऊर्जा तथा स्थितिज ऊर्जा का योग उसकी कुल यांत्रिक ऊर्जा है।

हम देखते हैं कि किसी पिंड के मुक्त रूप से गिरते समय, इसके पथ में किसी बिंदु पर स्थितिज ऊर्जा में जितनी कमी होती है गतिज ऊर्जा में उतनी ही वृद्धि हो जाती है। (यहाँ पिंड की गति पर वायु प्रतिरोध के प्रभाव आदि की उपेक्षा की गई है।) इस प्रकार गुरुत्वीय स्थितिज ऊर्जा का गतिज ऊर्जा में निरंतर रूपांतरण हो रहा है।

क्रियाकलाप 11.15

- 20 kg द्रव्यमान का कोई पिंड 4 m की ऊँचाई से मुक्त रूप से गिराया जाता है। निम्न सारणी के अनुसार प्रत्येक स्थिति में स्थितिज ऊर्जा तथा गतिज ऊर्जा की गणना करके, सारणी में रिक्त स्थानों को भरिए।

ऊँचाई जहाँ पर पिंड स्थित है	स्थितिज ऊर्जा ($E_p = mgh$)	गतिय ऊर्जा ($E_k = mv^2/2$)	$E_p + E_k$
m	J	J	J
4			
3			
2			
1			
भूमि से ठीक ऊपर			

- परिकलन में सुविधा के लिए g का मान 10 m s^{-2} लीजिए।

विचार कीजिए!

यदि प्रकृति में ऊर्जा रूपांतरण संभव नहीं होता तो क्या होता? एक विचार के अनुसार ऊर्जा रूपांतरण के बिना जीवन संभव नहीं हो पाता। क्या आप इससे सहमत हैं?

113 कार्य करने की दर

क्या हम सब एक ही दर से कार्य करते हैं? क्या मशीनें ऊर्जा का उपयोग तथा रूपांतरण समान दर से करती हैं? अभिकर्ता (एजेंट) जो ऊर्जा रूपांतर करते हैं, विभिन्न दरों से कार्य करते हैं। आइए इसे निम्न क्रियाकलाप से समझें।

क्रियाकलाप 11.16

- दो बच्चे, मान लीजिए A तथा B के बारे में विचार कीजिए। मान लीजिए दोनों का द्रव्यमान समान है। दोनों रस्से पर अलग-अलग चढ़ना प्रारंभ करते हैं। दोनों 8 m की ऊँचाई तक पहुँचते हैं। मान लीजिए इस कार्य को करने में A 15 s लेता है तथा B 20 s लेता है।
- प्रत्येक बच्चे द्वारा किया गया कार्य कितना है?
- किया गया कार्य समान है। तथापि A ने कार्य करने के लिए B की अपेक्षा कम समय लिया।
- किस बच्चे ने दिए हुए समय, मान लीजिए 1 s, में अधिक कार्य किया?

एक शक्तिशाली व्यक्ति किसी दिए हुए कार्य को अपेक्षाकृत कम समय में पूरा कर सकता है। अधिक शक्तिशाली वाहन कम शक्तिशाली वाहन की अपेक्षा हमें किसी यात्रा को कम समय में पूरी करा सकता है। हम मोटरबाइक तथा मोटरकार जैसी मशीनों की शक्ति के बारे में बात करते हैं। इन वाहनों के वर्गीकरण का आधार यह है कि ये कितनी तेजी से ऊर्जा परिवर्तन या कार्य करते हैं। शक्ति, किए गए कार्य की गति को मापती है, अर्थात् कार्य कितनी शीघ्रता या देर से किया गया। शक्ति की परिभाषा इस प्रकार है — कार्य करने की दर या ऊर्जा रूपांतरण की दर को शक्ति कहते हैं। यदि कोई अभिकर्ता (एजेंट) t समय में W कार्य करता है, तो शक्ति का मान होगा:

$$\text{शक्ति} = \frac{\text{कार्य}}{\text{समय}}$$

$$\text{या } P = \frac{W}{t} \quad (11.8)$$

शक्ति का मात्रक वाट है तथा इसका प्रतीक W है। (यह मात्रक जेम्स वाट (1736 — 1819) के सम्मान में रखा गया है।) 1 वाट उस अभिकर्ता (एजेंट) की शक्ति है जो 1 सेकंड में 1 जूल कार्य करता है। हम यह भी कह सकते हैं कि यदि ऊर्जा के उपयोग की दर 1 J s^{-1} हो तो शक्ति 1 W होगी।

$$1 \text{ वाट} = 1 \text{ जूल/सेकंड या } 1 \text{ W} = 1 \text{ J s}^{-1}$$

हम ऊर्जा स्थानांतरण की उच्च दरों को किलोवाट (kW) में व्यक्त करते हैं

$$1 \text{ किलोवाट} = 1000 \text{ वाट}$$

$$1 \text{ kW} = 1000 \text{ W या } 1000 \text{ J s}^{-1}$$

किसी अभिकर्ता (एजेंट) की शक्ति समय के साथ बदल सकती है। इसका अर्थ है कि अभिकर्ता विभिन्न समय अंतरालों में विभिन्न दरों से कार्य कर सकता है। इसीलिए औसत शक्ति की अवधारणा लाभप्रद है। औसत शक्ति को हम कुल उपयोग की गई ऊर्जा को, कुल लिए गए समय से विभाजित कर प्राप्त कर सकते हैं।

उदाहरण 11.7 दो लड़कियाँ जिनमें से प्रत्येक का भार 400 N है एक रस्से पर 8 m की ऊँचाई तक चढ़ती हैं। हम एक लड़की का नाम A रखते हैं तथा दूसरी का B। इस कार्य को पूरा करने में लड़की A, 20 s का समय लेती है जबकि लड़की B, 50 s का समय लेती है। प्रत्येक लड़की द्वारा व्यय की गई शक्ति का परिकलन कीजिए।

हल:

(i) लड़की A द्वारा व्यय की गई शक्ति :

लड़की का भार $mg = 400 \text{ N}$

विस्थापन (ऊँचाई) $h = 8 \text{ m}$

लिया गया समय $t = 20 \text{ s}$

समीकरण (11.8) से,

शक्ति $P =$ किया गया कार्य/लिया गया समय

$$\begin{aligned} &= \frac{mgh}{t} \\ &= \frac{400 \text{ N} \times 8 \text{ m}}{20 \text{ s}} \\ &= 160 \text{ W} \end{aligned}$$

(ii) लड़की B द्वारा व्यय की गई शक्ति:

लड़की का भार $mg = 400 \text{ N}$

विस्थापन (ऊँचाई) $h = 8 \text{ m}$

लिया गया समय $t = 50 \text{ s}$

$$\begin{aligned} \text{शक्ति } P &= \frac{mgh}{t} \\ &= \frac{400 \text{ N} \times 8 \text{ m}}{50 \text{ s}} \\ &= 64 \text{ W} \end{aligned}$$

लड़की A द्वारा व्यय की गई शक्ति 160 W है तथा लड़की B द्वारा व्यय की गई शक्ति 64 W है।

उदाहरण 11.8 50 kg द्रव्यमान का एक लड़का एक सोपान (जीना) पर दौड़कर 45 सीढ़ियाँ 9 s में चढ़ता है। यदि प्रत्येक सीढ़ी की ऊँचाई 15 cm हो तो उसकी शक्ति का परिकलन कीजिए। g का मान 10 m s^{-2} लीजिए।

हल:

लड़के का भार

$$mg = 50 \text{ kg} \times 10 \text{ m s}^{-2} = 500 \text{ N}$$

45 सीढ़ियों की कुल ऊँचाई

$$h = 45 \times 15/100 \text{ m} = 6.75 \text{ m}$$

चढ़ने में लगा कुल समय $t = 9 \text{ s}$

समीकरण (11.8) से

शक्ति $P =$ किया गया कार्य/लिया गया समय

$$\begin{aligned} &= \frac{mgh}{t} \\ &= \frac{500 \text{ N} \times 6.75 \text{ m}}{9 \text{ s}} \\ &= 375 \text{ W} \end{aligned}$$

लड़के की शक्ति 375 W है।

प्रश्न

1. शक्ति क्या है?
2. 1 वाट शक्ति को परिभाषित कीजिए।
3. एक लैंप 1000 J विद्युत ऊर्जा 10 s में व्यय करता है। इसकी शक्ति कितनी है?
4. औसत शक्ति को परिभाषित कीजिए।

11.3.1 ऊर्जा का व्यावसायिक मात्रक

जूल ऊर्जा का बहुत छोटा मात्रक है अतः यह ऊर्जा की बड़ी राशियों को व्यक्त करने के लिए असुविधाजनक है। इसीलिए हम ऊर्जा का एक बड़ा मात्रक उपयोग में लाते हैं जिसे किलोवाट घंटा (kW h) कहते हैं।

1 kW h से क्या तात्पर्य है? मान लीजिए हमारे पास एक मशीन है जो एक सेकंड में 1000 J ऊर्जा उपयोग में लाती है। यदि इस मशीन को लगातार एक घंटे तक उपयोग में लाएँ तो यह एक किलोवाट घंटा

(1 kW h) ऊर्जा व्यय करेगी। इस प्रकार एक किलोवाट घंटा (1 kWh) ऊर्जा की वह मात्रा है जो 1kW के किसी स्रोत को एक घंटे तक उपयोग करने में व्यय होगी।

$$\begin{aligned} 1 \text{ kW h} &= 1 \text{ kW} \times 1 \text{ h} \\ &= 1000 \text{ W} \times 3600 \text{ s} \\ &= 3600000 \text{ J} \end{aligned}$$

$$\text{या } 1 \text{ kW h} = 3.6 \times 10^6 \text{ J}$$

घरों में, उद्योगों में तथा व्यावसायिक संस्थानों में व्यय होने वाली ऊर्जा को प्रायः किलोवाट घंटा में व्यक्त करते हैं। उदाहरण के लिए, एक महीने में उपयोग की गई विद्युत ऊर्जा को 'यूनिट' के रूप में व्यक्त करते हैं। यहाँ 1 'यूनिट' का अर्थ है 1 kWh।

उदाहरण 11.9 60 W का एक विद्युत् बल्ब प्रतिदिन 6 घंटे उपयोग किया जाता है। बल्ब द्वारा एक दिन में खर्च की गई ऊर्जा की 'यूनिटों' का परिकलन कीजिए।

हल:

$$\begin{aligned} \text{विद्युत् बल्ब की शक्ति} &= 60 \text{ W} \\ &= 0.06 \text{ kW} \end{aligned}$$

उपयोग किया गया समय, $t = 6 \text{ h}$

$$\begin{aligned} \text{ऊर्जा} &= \text{शक्ति} \times \text{लिया गया समय} \\ &= 0.06 \text{ kW} \times 6 \text{ h} \\ &= 0.36 \text{ kW h} \\ &= 0.36 \text{ 'यूनिट'} \end{aligned}$$

बल्ब द्वारा 0.36 'यूनिट' खर्च होंगी।

क्रियाकलाप 11.17

- अपने घर में, विद्युत् परिपथ में लगे विद्युत् मीटर को ध्यानपूर्वक देखिए।
- इसके लक्षणों का बारीकी से प्रेक्षण कीजिए। प्रतिदिन प्रातः तथा सायं 6.30 बजे मीटर का पाठ्यांक नोट करें।
- दिन के समय कितनी 'यूनिट' व्यय होती है?
- रात के समय कितनी 'यूनिट' व्यय होती है?
- इस क्रियाकलाप को लगभग एक सप्ताह तक कीजिए।
- अपने प्रेक्षणों को सारणीबद्ध कीजिए।
- अपने आँकड़ों से निष्कर्ष निकालिए।
- अपने प्रेक्षणों की तुलना विद्युत् के मासिक बिल में दिए गए विवरणों से कीजिए।



आपने क्या सीखा

- किसी पिंड पर किया गया कार्य, उस पर लगाए गए बल के परिमाण व बल की दिशा में उसके द्वारा तय की गई दूरी के गुणनफल से परिभाषित होता है। कार्य का मात्रक जूल है अर्थात् $1 \text{ जूल} = 1 \text{ न्यूटन} \times 1 \text{ मीटर}$ ।
- किसी पिंड का विस्थापन शून्य है तो बल द्वारा उस पिंड पर किया गया कार्य शून्य होगा।
- यदि किसी वस्तु में कार्य करने की क्षमता हो तो यह कहा जाता है कि उसमें ऊर्जा है। ऊर्जा का मात्रक वही है जो कार्य का है।

- किसी गतिमान पिंड में उसकी गति के कारण ऊर्जा को गतिज ऊर्जा कहते हैं।
 v वेग से गतिशील किसी m द्रव्यमान की वस्तु की गतिज ऊर्जा $\frac{1}{2}mv^2$ के बराबर होती है।
- वस्तु द्वारा उसकी स्थिति अथवा आकृति में परिवर्तन के कारण प्राप्त ऊर्जा को स्थितिज ऊर्जा कहते हैं। पृथ्वी के तल से h ऊँचाई तक उठाई गई किसी m द्रव्यमान की वस्तु की गुरुत्वीय स्थितिज ऊर्जा mgh होगी।
- ऊर्जा-संरक्षण नियम के अनुसार ऊर्जा का केवल एक रूप से दूसरे रूप में रूपांतरण हो सकता है। इसकी न तो उत्पत्ति की जा सकती है और न ही विनाश। रूपांतरण के पहले व रूपांतरण के पश्चात् कुल ऊर्जा सदैव अचर रहती है।
- प्रकृति में ऊर्जा विभिन्न रूपों में विद्यमान रहती है; जैसे - गतिज ऊर्जा, स्थितिज ऊर्जा, ऊष्मीय ऊर्जा, रासायनिक ऊर्जा आदि। किसी वस्तु की गतिज तथा स्थितिज ऊर्जाओं के योग को उसकी कुल यांत्रिक ऊर्जा कहते हैं।
- कार्य करने की दर को शक्ति कहते हैं। शक्ति का SI मात्रक वाट है।
 $1 \text{ W} = 1 \text{ J/s}$
- 1 kW के दर से एक घंटे में व्यय हुई ऊर्जा एक किलोवाट घंटा (1 kW h) के बराबर होती है।

अभ्यास

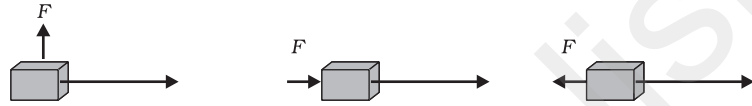


1. निम्न सूचीबद्ध क्रियाकलापों को ध्यान से देखिए। अपनी कार्य शब्द की व्याख्या के आधार पर तर्क दीजिए कि इनमें कार्य हो रहा है अथवा नहीं।
 - सूमा एक तालाब में तैर रही है।
 - एक गधे ने अपनी पीठ पर बोझा उठा रखा है।
 - एक पवन चक्की (विंड मिल) कुएँ से पानी उठा रही है।
 - एक हरे पौधे में प्रकाश संश्लेषण की प्रक्रिया हो रही है।
 - एक इंजन ट्रेन को खींच रहा है।
 - अनाज के दाने सूर्य की धूप में सूख रहे हैं।
 - एक पाल-नाव पवन ऊर्जा के कारण गतिशील है।
2. एक पिंड को धरती से किसी कोण पर फेंका जाता है। यह एक वक्र पथ पर चलता है और वापस धरती पर आ गिरता है। पिंड के पथ के प्रारंभिक तथा अंतिम बिंदु एक ही क्षैतिज रेखा पर स्थित हैं। पिंड पर गुरुत्व बल द्वारा कितना कार्य किया गया?

3. एक बैटरी बल्ब जलाती है। इस प्रक्रम में होने वाले ऊर्जा परिवर्तनों का वर्णन कीजिए।
4. 20 kg द्रव्यमान पर लगने वाला कोई बल इसके वेग को 5 m s^{-1} से 2 m s^{-1} में परिवर्तित कर देता है। बल द्वारा किए गए कार्य का परिकलन कीजिए।
5. 10 kg द्रव्यमान का एक पिंड मेज़ पर A बिंदु पर रखा है। इसे B बिंदु तक लाया जाता है। यदि A तथा B को मिलाने वाली रेखा क्षैतिज है तो पिंड पर गुरुत्व बल द्वारा किया गया कार्य कितना होगा? अपने उत्तर की व्याख्या कीजिए।
6. मुक्त रूप से गिरते एक पिंड की स्थितिज ऊर्जा लगातार कम होती जाती है। क्या यह ऊर्जा संरक्षण नियम का उल्लंघन करती है। कारण बताइए।
7. जब आप साइकिल चलाते हैं तो कौन-कौन से ऊर्जा रूपांतरण होते हैं?
8. जब आप अपनी सारी शक्ति लगा कर एक बड़ी चट्टान को धकेलना चाहते हैं और इसे हिलाने में असफल हो जाते हैं तो क्या इस अवस्था में ऊर्जा का स्थानांतरण होता है? आपके द्वारा व्यय की गई ऊर्जा कहाँ चली जाती है?
9. किसी घर में एक महीने में ऊर्जा की 250 'यूनिटें' व्यय हुईं। यह ऊर्जा जूल में कितनी होगी?
10. 40 kg द्रव्यमान का एक पिंड धरती से 5 m की ऊँचाई तक उठाया जाता है। इसकी स्थितिज ऊर्जा कितनी है? यदि पिंड को मुक्त रूप से गिरने दिया जाए तो जब पिंड ठीक आधे रास्ते पर है उस समय इसकी गतिज ऊर्जा का परिकलन कीजिए। ($g = 10 \text{ ms}^{-2}$)
11. पृथ्वी के चारों ओर घूमते हुए किसी उपग्रह पर गुरुत्व बल द्वारा कितना कार्य किया जाएगा? अपने उत्तर को तर्कसंगत बनाइए।
12. क्या किसी पिंड पर लगने वाले किसी भी बल की अनुपस्थिति में, इसका विस्थापन हो सकता है? सोचिए। इस प्रश्न के बारे में अपने मित्रों तथा अध्यापकों से विचार-विमर्श कीजिए।
13. कोई मनुष्य भूसे के एक गट्टर को अपने सिर पर 30 मिनट तक रखे रहता है और थक जाता है। क्या उसने कुछ कार्य किया या नहीं? अपने उत्तर को तर्कसंगत बनाइए।
14. एक विद्युत्-हीटर (ऊष्मक) की घोषित शक्ति 1500 W है। 10 घंटे में यह कितनी ऊर्जा उपयोग करेगा?
15. जब हम किसी सरल लोलक के गोलक को एक ओर ले जाकर छोड़ते हैं तो यह दोलन करने लगता है। इसमें होने वाले ऊर्जा परिवर्तनों की चर्चा करते हुए ऊर्जा संरक्षण के नियम को स्पष्ट कीजिए। गोलक कुछ समय पश्चात् विराम

अवस्था में क्यों आ जाता है? अंततः इसकी ऊर्जा का क्या होता है? क्या यह ऊर्जा संरक्षण नियम का उल्लंघन है?

16. m द्रव्यमान का एक पिंड एक नियत वेग v से गतिशील है। पिंड पर कितना कार्य करना चाहिए कि यह विराम अवस्था में आ जाए?
17. 1500 kg द्रव्यमान की कार को जो 60 km/h के वेग से चल रही है, रोकने के लिए किए गए कार्य का परिकलन कीजिए।
18. निम्न में से प्रत्येक स्थिति में m द्रव्यमान के एक पिंड पर एक बल F लग रहा है। विस्थापन की दिशा पश्चिम से पूर्व की ओर है जो एक लंबे तीर से प्रदर्शित की गई है। चित्रों को ध्यानपूर्वक देखिए और बताइए कि किया गया कार्य ऋणात्मक है, धनात्मक है या शून्य है।



19. सोनी कहती है कि किसी वस्तु पर त्वरण शून्य हो सकता है चाहे उस पर कई बल कार्य कर रहे हों। क्या आप उससे सहमत हैं? बताइए क्यों?
20. चार युक्तियाँ, जिनमें प्रत्येक की शक्ति 500 W है 10 घंटे तक उपयोग में लाई जाती हैं। इनके द्वारा व्यय की गई ऊर्जा kW h में परिकलित कीजिए।
21. मुक्त रूप से गिरता एक पिंड अंततः धरती तक पहुँचने पर रूक जाता है। इसकी गतिज ऊर्जा का क्या होता है?

अध्याय 12

ध्वनि

(Sound)

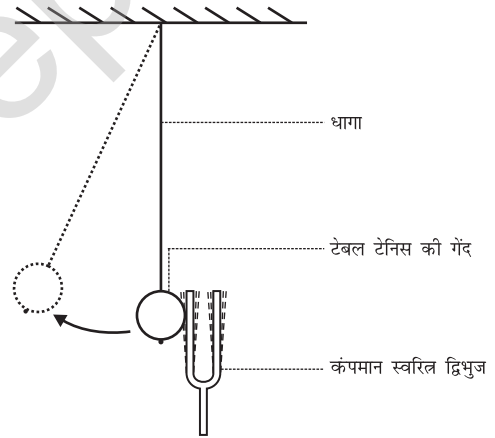
हम प्रतिदिन विभिन्न स्रोतों; जैसे—मानवों, पक्षियों, घंटियों, मशीनों, वाहनों, टेलिविज़न, रेडियो आदि की ध्वनि सुनते हैं। ध्वनि ऊर्जा का एक रूप है जो हमारे कानों में श्रवण का संवेदन उत्पन्न करती है। ऊर्जा के अन्य रूप भी हैं; जैसे—यांत्रिक ऊर्जा, ऊष्मीय ऊर्जा, प्रकाश ऊर्जा आदि। पिछले अध्यायों में आप यांत्रिक ऊर्जा का अध्ययन कर चुके हैं। आपको ऊर्जा संरक्षण के बारे में ज्ञात है। इसके अनुसार आप ऊर्जा को न तो उत्पन्न कर सकते हैं और न ही उसका विनाश कर सकते हैं। आप इसे केवल एक से दूसरे रूप में रूपांतरित कर सकते हैं। जब आप ताली बजाते हैं तो ध्वनि उत्पन्न होती है। क्या आप अपनी ऊर्जा का उपयोग किए बिना ध्वनि उत्पन्न कर सकते हैं? ध्वनि उत्पन्न करने के लिए आपने ऊर्जा के किस रूप का उपयोग किया? इस अध्याय में हम सीखेंगे कि ध्वनि कैसे उत्पन्न होती है और किसी माध्यम में यह किस प्रकार संचरित होकर हमारे कानों द्वारा ग्रहण की जाती है।

12.1 ध्वनि का उत्पादन

क्रियाकलाप 12.1

- एक स्वरित्र द्विभुज लीजिए और इसकी किसी भुजा को एक रबड़ के पैड पर मार कर इसे कंपित कराइए।
- इसे अपने कान के समीप लाइए।
- क्या आप कोई ध्वनि सुन पाते हैं? कंपमान स्वरित्र द्विभुज की एक भुजा को अपनी अंगुली से स्पर्श कीजिए और अपने अनुभव को अपने मित्रों के साथ बाँटिए।

- अब एक टेबल टेनिस या एक छोटी प्लास्टिक की गेंद को एक धागे की सहायता से किसी आधार से लटकाइए (एक लंबी सूई और धागा लीजिए। धागे के एक सिरे पर एक गाँठ लगाइए और सूई की सहायता से धागे को गेंद में पिरोइए)। पहले कंपन न करते हुए स्वरित्र द्विभुज की एक भुजा से गेंद को स्पर्श कीजिए। फिर कंपन करते हुए स्वरित्र द्विभुज की एक भुजा से गेंद को स्पर्श कीजिए (चित्र 12.1)।
- देखिए क्या होता है? अपने मित्रों के साथ विचार-विमर्श कीजिए और दोनों अवस्थाओं में अंतर की व्याख्या करने का प्रयत्न कीजिए।

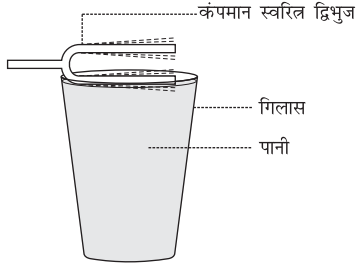


चित्र 12.1: कंपमान स्वरित्र द्विभुज लटकी हुई टेबल टेनिस की गेंद को स्पर्श करते हुए

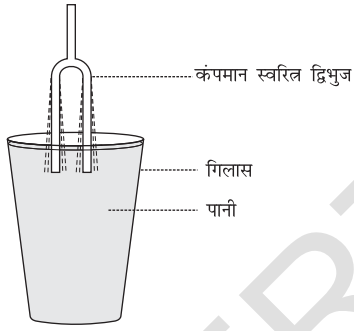
क्रियाकलाप 12.2

- एक बीकर या गिलास को ऊपर तक पानी से भरिए। कंपमान स्वरित्र द्विभुज की एक भुजा को चित्र 12.2 में दर्शाए अनुसार पानी की सतह से स्पर्श कराइए।

- अब चित्र 12.3 में दर्शाए अनुसार कंपमान स्वरित्र द्विभुज की दोनों भुजाओं को पानी में डुबोइए।
- देखिए कि दोनों अवस्थाओं में क्या होता है?
- अपने साथियों के साथ विचार-विमर्श कीजिए कि ऐसा क्यों होता है?



चित्र 12.2: कंपमान स्वरित्र द्विभुज की एक भुजा पानी की सतह को स्पर्श करते हुए



चित्र 12.3: कंपमान स्वरित्र द्विभुज की दोनों भुजाएँ पानी में डूबी हुई

उपरोक्त क्रियाकलापों से आप क्या निष्कर्ष निकालते हैं? क्या आप किसी कंपमान वस्तु के बिना ध्वनि उत्पन्न कर सकते हैं?

अब तक वर्णित क्रियाकलापों में हमने स्वरित्र द्विभुज से आघात द्वारा ध्वनि उत्पन्न की। हम विभिन्न वस्तुओं में घर्षण द्वारा, खुरच कर, रगड़ कर, वायु फूँक कर या उनको हिलाकर ध्वनि उत्पन्न कर सकते हैं। इन क्रियाकलापों में हम क्या करते हैं? हम वस्तु को कंपमान करते हैं और ध्वनि उत्पन्न करते हैं। कंपन का अर्थ होता है किसी वस्तु का तेजी से बार-बार इधर-उधर गति करना। मनुष्यों में वाकध्वनि

उनके वाक-तंतुओं के कंपित होने के कारण उत्पन्न होती है। जब कोई पक्षी अपने पंख को फड़फड़ाता है तो क्या आप कोई ध्वनि सुनते हैं? क्या आप जानते हैं कि मक्खी भिनभिने की ध्वनि कैसे उत्पन्न करती है? एक खींचे हुए रबड़ के छल्ले को बीच में से खींच कर छोड़ने पर यह कंपन करता है और ध्वनि उत्पन्न करता है। यदि आपने कभी ऐसा नहीं किया है तो इसे कीजिए और तनी हुई रबड़ के छल्ले के कंपनों को देखिए।

क्रियाकलाप 12.3


- विभिन्न वाद्य यंत्रों की सूची बनाइए और अपने मित्रों के साथ विचार-विमर्श कीजिए कि ध्वनि उत्पन्न करने के लिए इन वाद्य यंत्रों का कौन-सा भाग कंपन करता है।

12.2 ध्वनि का संचरण

हम जानते हैं कि ध्वनि कंपन करती हुई वस्तुओं द्वारा उत्पन्न होती है। द्रव्य या पदार्थ जिससे होकर ध्वनि संचरित होती है, माध्यम कहलाता है। यह ठोस, द्रव या गैस हो सकता है। स्रोत से उत्पन्न होकर ध्वनि सुनने वाले तक किसी माध्यम से होकर पहुँचती है। जब कोई वस्तु कंपन करती है तो यह अपने चारों ओर विद्यमान माध्यम के कणों को कंपमान कर देती है। ये कण कंपमान वस्तु से हमारे कानों तक स्वयं गति कर नहीं पहुँचते। सबसे पहले कंपमान वस्तु के संपर्क में रहने वाले माध्यम के कण अपनी संतुलित अवस्था से विस्थापित होते हैं। ये अपने समीप के कणों पर एक बल लगाते हैं। जिसके फलस्वरूप निकटवर्ती कण अपनी विरामावस्था से विस्थापित हो जाते हैं। निकटवर्ती कणों को विस्थापित करने के पश्चात् प्रारंभिक कण अपनी मूल अवस्थाओं में वापस लौट आते हैं। माध्यम में यह प्रक्रिया तब तक चलती रहती है जब तक कि ध्वनि आपके कानों तक नहीं पहुँच जाती है। माध्यम में ध्वनि द्वारा उत्पन्न

क्या ध्वनि एक प्रकाश धब्बे को नृत्य करा सकती है?

एक टिन का डिब्बा लीजिए। इसके दोनों सिरों को काट कर एक खोखला बेलन बना लीजिए। एक गुब्बारा लीजिए। उसको इस प्रकार काटें कि उसकी एक झिल्ली बन जाए। इस झिल्ली को खींच कर डिब्बे के एक खुले सिरे के ऊपर तान दीजिए। गुब्बारे के चारों ओर एक रबड़ का छल्ला लपेट दीजिए। समतल दर्पण का एक छोटा टुकड़ा लीजिए। दर्पण के इस टुकड़े को गोंद की सहायता से गुब्बारे से इस प्रकार चिपकाइए कि उसकी चमकदार सतह ऊपर की ओर हो। एक झिरी (स्लिट) से आने वाले प्रकाश को दर्पण पर पड़ने दीजिए। परावर्तन के पश्चात् प्रकाश का धब्बा दीवार पर पहुँचता है, जैसा कि चित्र 12.4 में दर्शाया गया है। डिब्बे के खुले भाग में सीधे ही बात कीजिए या चिल्लाइए और दीवार पर प्रकाश के धब्बे को नाचते हुए देखिए। अपने मित्रों से प्रकाश के धब्बे के नाचने के कारण के बारे में चर्चा कीजिए।



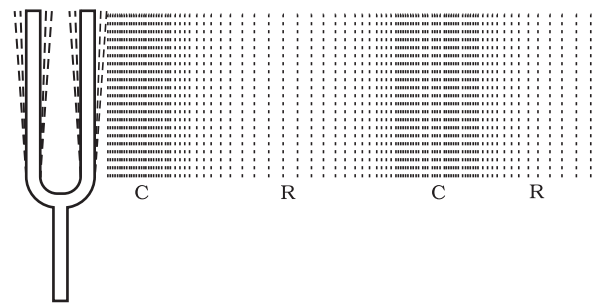
चित्र 12.4: प्रकाश स्रोत से आने वाला एक प्रकाश पुँज परावर्तक पर गिराया जाता है। परावर्तित प्रकाश दीवार पर गिर रहा है

विक्षोभ (माध्यम के कण नहीं) माध्यम से होता हुआ संचरित होता है।

तरंग एक विक्षोभ है जो किसी माध्यम से होकर गति करता है और माध्यम के कण निकटवर्ती कणों में गति उत्पन्न कर देते हैं। ये कण इसी प्रकार की गति अन्य कणों में उत्पन्न करते हैं। माध्यम के कण स्वयं आगे नहीं बढ़ते, लेकिन विक्षोभ आगे बढ़ जाता है। किसी माध्यम में ध्वनि के संचरण के समय ठीक ऐसा ही होता है। इसलिए ध्वनि को तरंग के रूप में जाना जा सकता है। ध्वनि तरंगें माध्यम के कणों की गति द्वारा अभिलक्षित की जाती हैं और यांत्रिक तरंगें कहलाती हैं।

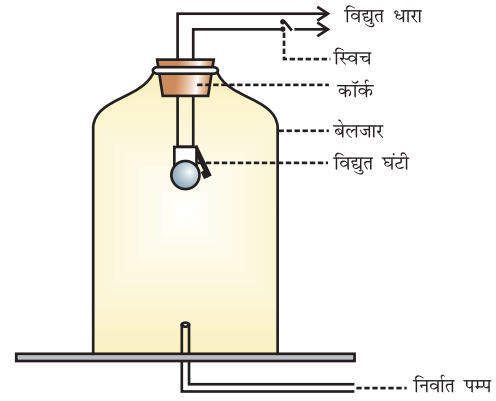
ध्वनि के संचरण के लिए वायु सबसे अधिक सामान्य माध्यम है। जब कोई कंपमान वस्तु आगे की ओर कंपन करती है तो अपने सामने की वायु को धक्का देकर संपीडित करती है और इस प्रकार एक

उच्च दाब का क्षेत्र उत्पन्न होता है। इस क्षेत्र को संपीडन (C) कहते हैं (चित्र 12.5)। यह संपीडन कंपमान वस्तु से दूर आगे की ओर गति करता है। जब कंपमान वस्तु पीछे की ओर कंपन करती है तो एक निम्न दाब का क्षेत्र उत्पन्न होता है जिसे विरलन (R) कहते हैं (चित्र 12.5)। जब वस्तु कंपन करती है



चित्र 12.5: कंपमान वस्तु किसी माध्यम में संपीडन (C) तथा विरलन (R) की श्रेणी उत्पन्न करते हुए

अर्थात आगे और पीछे तेज़ी से गति करती है तो वायु में संपीडन और विरलन की एक श्रेणी बन जाती है। यही संपीडन और विरलन ध्वनि तरंग बनाते हैं जो माध्यम से होकर संचरित होती है। संपीडन उच्च दाब का क्षेत्र है और विरलन निम्न दाब का क्षेत्र है। दाब किसी माध्यम के दिए हुए आयतन में कणों की संख्या से संबंधित है। किसी माध्यम में कणों का अधिक घनत्व अधिक दाब को और कम घनत्व कम दाब को दर्शाता है। इस प्रकार ध्वनि का संचरण घनत्व परिवर्तन के संचरण के रूप में भी देखा जा सकता है।



चित्र 12.6: निर्वात में ध्वनि का संचरण नहीं हो सकता यह दर्शाने के लिए बेलजार का प्रयोग

प्रश्न

1. किसी माध्यम में ध्वनि द्वारा उत्पन्न विक्रोभ आपके कानों तक कैसे पहुँचता है?

12.2.1 ध्वनि संचरण के लिए माध्यम की आवश्यकता होती है।

ध्वनि एक यांत्रिक तरंग है और इसके संचरण के लिए किसी माध्यम; जैसे—वायु, जल, स्टील आदि की आवश्यकता होती है। यह निर्वात में होकर नहीं चल सकती। इसे निम्न प्रयोग द्वारा प्रदर्शित किया जा सकता है।

प्रयोग: एक विद्युत घंटी और एक काँच का वायुरुद्ध बेलजार लीजिए। विद्युत घंटी को बेलजार में लटकाइए। बेलजार को चित्र 12.6 की भाँति एक निर्वात पंप से जोड़िए। घंटी के स्विच को दबाने पर आप उसकी ध्वनि को सुन सकते हैं। अब निर्वात पंप को चलाइए। जब बेलजार की वायु धीरे-धीरे बाहर निकलती है, घंटी की ध्वनि धीमी हो जाती है यद्यपि उसमें पहले जैसी ही विद्युतधारा प्रवाहित हो रही है। कुछ समय पश्चात् जब बेलजार में बहुत कम वायु रह जाती है तब आपको बहुत धीमी ध्वनि सुनाई पड़ती है। यदि बेलजार की समस्त वायु निकाल दी जाए तो क्या होगा? क्या तब भी आप घंटी की ध्वनि सुन पाएँगे?

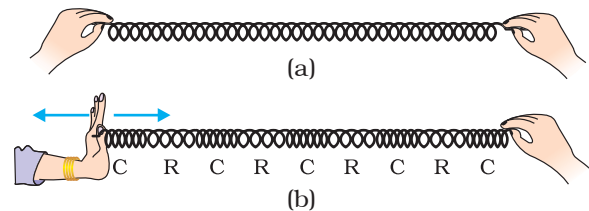
प्रश्न

1. आपके विद्यालय की घंटी, ध्वनि कैसे उत्पन्न करती है?
2. ध्वनि तरंगों को यांत्रिक तरंगें क्यों कहते हैं?
3. मान लीजिए आप अपने मित्र के साथ चंद्रमा पर गए हुए हैं। क्या आप अपने मित्र द्वारा उत्पन्न ध्वनि को सुन पाएँगे?

12.2.2 ध्वनि तरंगें अनुदैर्घ्य तरंगें हैं

क्रियाकलाप _____ 12.4

- एक स्लिंकी लीजिए। अब स्लिंकी को चित्र 12.7 (a) में दर्शाए अनुसार खींचिए। अपने मित्र की ओर स्लिंकी को एक तीव्र झटका दें।
- आप क्या देखते हैं? यदि आप अपने हाथ से स्लिंकी को लगातार आगे-पीछे बारी-बारी से धक्का देते और खींचते रहें, तो आप क्या देखेंगे?



चित्र 12.7: स्लिंकी में अनुदैर्घ्य तरंग

- यदि आप स्लिंकी पर एक चिह्न लगा दें, तो आप देखेंगे कि स्लिंकी पर लगा चिह्न विक्षोभ के संचरण की दिशा के समांतर आगे-पीछे गति करता है।

उन क्षेत्रों को जहाँ स्लिंकी की कुंडलियाँ पास-पास आ जाती हैं संपीडन (C) और उन क्षेत्रों को जहाँ कुंडलियाँ दूर-दूर हो जाती हैं विरलन (R) कहते हैं। आप जानते हैं कि किसी माध्यम में ध्वनि संपीडनों तथा विरलनों के रूप में संचरित होती है। अब आप किसी स्लिंकी में विक्षोभ के संचरण तथा किसी माध्यम में विक्षोभ की तुलना कर सकते हैं। ये तरंगें अनुदैर्घ्य तरंगें कहलाती हैं। इन तरंगों में माध्यम के कणों का विस्थापन विक्षोभ के संचरण की दिशा के समांतर होता है। कण एक स्थान से दूसरे स्थान तक गति नहीं करते लेकिन अपनी विराम अवस्था से आगे-पीछे दोलन करते हैं। ठीक इसी प्रकार ध्वनि तरंगें संचरित होती हैं, अतएव ध्वनि तरंगें अनुदैर्घ्य तरंगें हैं।

यदि आप स्लिंकी के अपने हाथ में पकड़े सिरे को आगे-पीछे धक्का न देकर दाएँ-बाएँ हिलाएँ तब भी आपको स्लिंकी में तरंग उत्पन्न होती दिखाई देगी। इस तरंग में कण तरंग संचरण की दिशा में कंपन नहीं करते लेकिन तरंग के चलने की दिशा के लंबवत् अपनी विराम अवस्था के ऊपर-नीचे कंपन करते हैं। इस प्रकार की तरंग को अनुप्रस्थ तरंग कहते हैं। इस प्रकार अनुप्रस्थ तरंग वह तरंग है जिसमें माध्यम के कण अपनी माध्य स्थितियों पर तरंग के संचरण की दिशा के लंबवत् गति करते हैं। आप अनुप्रस्थ तरंगों के बारे में अधिक जानकारी उच्च कक्षाओं में प्राप्त करेंगे। प्रकाश भी अनुप्रस्थ तरंग है। किंतु प्रकाश में दोलन माध्यम के कणों या उनके दाब या घनत्व के नहीं होते। प्रकाश तरंगें यांत्रिक तरंगें नहीं हैं।

12.2.3 ध्वनि तरंग के अभिलक्षण

किसी ध्वनि तरंग के निम्नलिखित अभिलक्षण होते हैं :

- आवृत्ति
- आयाम
- वेग

ध्वनि तरंग को ग्राफीय रूप में चित्र 12.8(c) में दिखाया गया है, जो प्रदर्शित करता है कि जब ध्वनि तरंग किसी माध्यम में गति करती है तो घनत्व तथा दाब में कैसे परिवर्तन होता है। किसी निश्चित समय पर माध्यम का घनत्व तथा दाब दोनों ही उनके औसत मान से ऊपर और नीचे दूरी के साथ परिवर्तित होते हैं। चित्र 12.8(a) तथा 12.8(b) प्रदर्शित करते हैं कि जब ध्वनि तरंग माध्यम में संचरित होती है तो घनत्व तथा दाब में क्या उतार-चढ़ाव होते हैं।

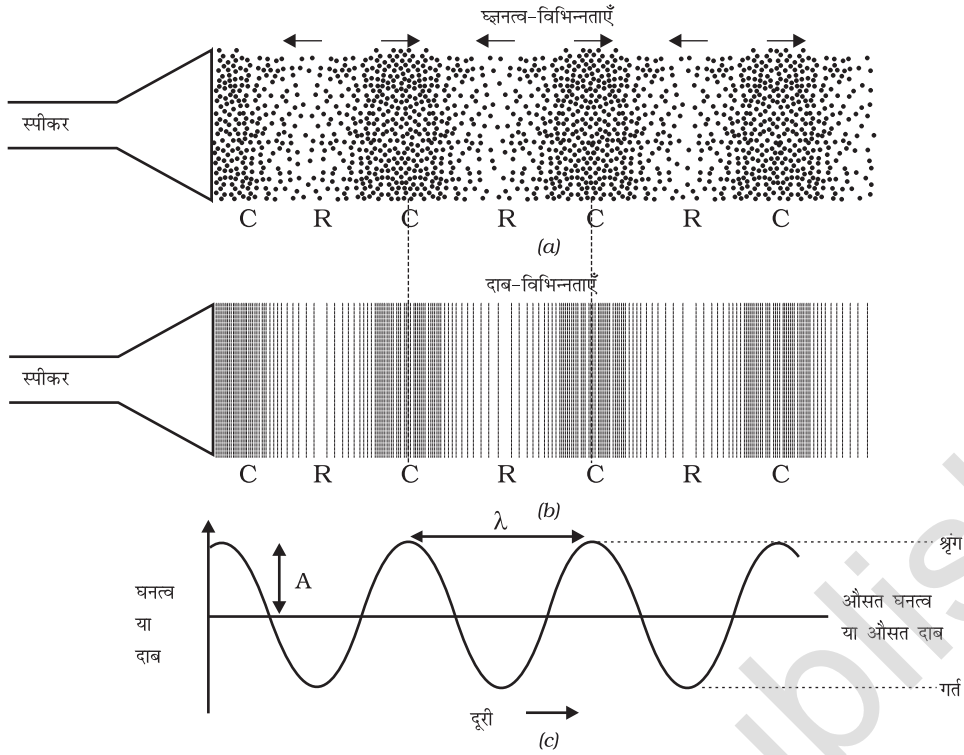
संपीडन वह क्षेत्र है जहाँ कण पास-पास आ जाते हैं, इन्हें वक्र के ऊपरी भाग में दिखाया गया है [चित्र 12.8 (c)]। शिखर अधिकतम संपीडन के क्षेत्र को प्रदर्शित करता है। इस प्रकार संपीडन वह क्षेत्र है जहाँ घनत्व तथा दाब दोनों ही अधिक होते हैं। विरलन निम्न दाब के क्षेत्र हैं जहाँ कण दूर-दूर हो जाते हैं और उन्हें घाटी से प्रदर्शित करते हैं। इन्हें वक्र के निम्न भाग से दिखाया गया है [चित्र 12.8(c)]। शिखर को तरंग का शृंग तथा घाटी को गर्त कहा जाता है।

दो क्रमागत संपीडनों (C) अथवा दो क्रमागत विरलनों (R) के बीच की दूरी तरंगदैर्घ्य कहलाती है। तरंगदैर्घ्य को साधारणतः λ (ग्रीक अक्षर लैम्डा) से निरूपित किया जाता है। इसका SI मात्रक मीटर (m) है।



हेनरिच रुडोल्फ हर्ट्ज़

हेनरिच रुडोल्फ हर्ट्ज़ का जन्म 22 फरवरी 1857 को हैमबर्ग, जर्मनी में हुआ और उनकी शिक्षा बर्लिन विश्वविद्यालय में हुई। उन्होंने जे.सी. मैक्सवेल के विद्युतचुंबकीय सिद्धांत की प्रयोगों द्वारा पुष्टि की। उन्होंने रेडियो, टेलिफोन, टेलिग्राफ तथा टेलिविज्ञान के भी भविष्य में विकास की नींव रखी। उन्होंने प्रकाश-विद्युत प्रभाव की भी खोज की जिसकी बाद में अल्बर्ट आइन्सटाइन ने व्याख्या की। आवृत्ति के SI मात्रक का नाम उनके सम्मान में रखा गया।



चित्र 12.8: चित्र 12.8 (a) तथा 12.8 (b) में दिखाया गया है कि ध्वनि घनत्व या दाब के उतार-चढ़ाव के रूप में संचरित होती है। चित्र 12.8 (c) में घनत्व तथा दाब के उतार-चढ़ाव को ग्राफ़ीय रूप में प्रदर्शित किया गया है।

आवृत्ति से हमें ज्ञात होता है कि कोई घटना कितनी जल्दी-जल्दी घटित होती है। मान लीजिए आप किसी ढोल को पीट-पीट कर बजा रहे हैं। आप ढोल को एक सेकंड में जितनी बार पीटते हैं वह आपके द्वारा ढोल को पीटने की आवृत्ति है। हम जानते हैं कि जब ध्वनि किसी माध्यम में संचरित होती है तो माध्यम का घनत्व किसी अधिकतम तथा न्यूनतम मान के बीच बदलता है। घनत्व के अधिकतम मान से न्यूनतम मान तक परिवर्तन में और पुनः अधिकतम मान तक आने पर एक दोलन पूरा होता है। एकांक समय में इन दोलनों की कुल संख्या ध्वनि तरंग की आवृत्ति कहलाती है। यदि हम प्रति एकांक समय में अपने पास से गुजरने वाले संपीडनों तथा विरलनों की संख्या की गणना करें तो हमको ध्वनि तरंग की आवृत्ति ज्ञात हो जाएगी। इसे सामान्यतया

(ग्रीक अक्षर, न्यू) से प्रदर्शित किया जाता है। इसका SI मात्रक हर्ट्ज़ (hertz, प्रतीक Hz) है।

दो क्रमागत संपीडनों या दो क्रमागत विरलनों को किसी निश्चित बिंदु से गुजरने में लगे समय को तरंग का आवर्त काल कहते हैं। आप कह सकते हैं कि माध्यम में घनत्व के एक संपूर्ण दोलन में लिया गया समय ध्वनि तरंग का आवर्त काल कहलाता है। इसे T अक्षर से निरूपित करते हैं। इसका SI मात्रक सेकंड (s) है। आवृत्ति तथा आवर्त काल के बीच संबंध को निम्न प्रकार व्यक्त किया जा सकता है :

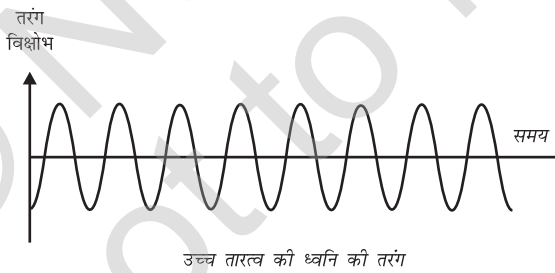
$$\frac{1}{T}$$

इस प्रकार एक उच्च तारत्व की ध्वनि से हमें ज्ञात होता है कि किसी बिंदु से एकांक समय में संपीडन तथा विरलन की अधिक संख्या गुजरती है।

किसी आरकेस्ट्रा (वाद्यवृंद) में वायलिन तथा बाँसुरी एक ही समय बजाई जा सकती हैं। दोनों ध्वनियाँ एक ही माध्यम (वायु) में चलती हैं और हमारे कानों तक एक ही समय पर पहुँचती हैं। दोनों ही स्रोतों की ध्वनियाँ एक ही चाल से चलती हैं। लेकिन जो ध्वनियाँ हम ग्रहण करते हैं वे भिन्न-भिन्न हैं। ऐसा ध्वनि से जुड़े विभिन्न अभिलक्षणों के कारण है। तारत्व इनमें से एक अभिलक्षण है।

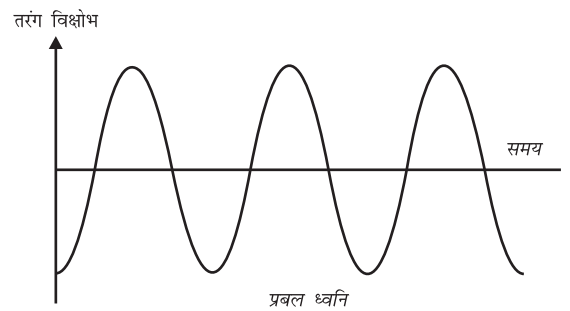
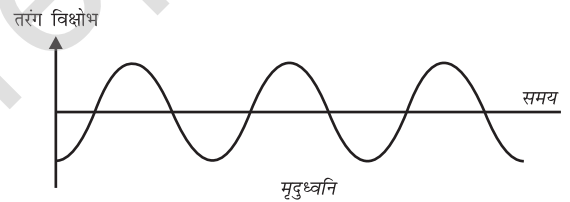
किसी उत्सर्जित ध्वनि की आवृत्ति को मस्तिष्क किस प्रकार अनुभव करता है, उसे तारत्व कहते हैं। किसी स्रोत का कंपन जितनी शीघ्रता से होता है, आवृत्ति उतनी ही अधिक होती है और उसका तारत्व भी अधिक होता है। इसी प्रकार जिस ध्वनि का तारत्व कम होता है उसकी आवृत्ति भी कम होती है जैसा कि चित्र 12.9 में दर्शाया गया है।

विभिन्न आकार तथा आकृति की वस्तुएँ विभिन्न आवृत्तियों के साथ कंपन करती हैं और विभिन्न तारत्व की ध्वनियाँ उत्पन्न करती हैं।



चित्र 12.9: निम्न तारत्व की ध्वनि की आवृत्ति कम तथा उच्च तारत्व की ध्वनि की आवृत्ति अधिक होती है

किसी माध्यम में मूल स्थिति के दोनों ओर अधिकतम विक्षोभ को तरंग का आयाम कहते हैं। इसे साधारणतः अक्षर A से निरूपित किया जाता है। जैसा कि चित्र 12.8(c) में दिखाया गया है। ध्वनि के लिए इसका मात्रक दाब या घनत्व का मात्रक होगा। ध्वनि की प्रबलता अथवा मृदुता मूलतः इसके आयाम से ज्ञात की जाती है। यदि हम किसी मेज़ पर धीरे से चोट मारें, तो हमें एक मृदु ध्वनि सुनाई देगी क्योंकि हम कम ऊर्जा की ध्वनि तरंग उत्पन्न करते हैं। यदि हम मेज़ पर जोर से चोट मारें तो हमें प्रबल ध्वनि सुनाई देगी। क्या आप इसका कारण बता सकते हैं? प्रबल ध्वनि अधिक दूरी तक चल सकती है क्योंकि यह अधिक ऊर्जा से संबद्ध है। उत्पादक स्रोत से निकलने के पश्चात् ध्वनि तरंग फैल जाती है। स्रोत से दूर जाने पर इसका आयाम तथा प्रबलता दोनों ही कम होते जाते हैं। चित्र 12.10 में समान आवृत्ति की प्रबल तथा मृदु ध्वनि की तरंग आकृतियाँ प्रदर्शित की गई हैं।



चित्र 12.10: मृदु ध्वनि का आयाम कम होता है तथा प्रबल ध्वनि का आयाम अधिक होता है

ध्वनि की यह गुणता (timbre) वह अभिलक्षण है जो हमें समान तारत्व तथा प्रबलता की दो ध्वनियों में अंतर करने में सहायता करता है। एकल आवृत्ति की ध्वनि को टोन कहते हैं। अनेक आवृत्तियों के मिश्रण से उत्पन्न ध्वनि को स्वर (note) कहते हैं और यह सुनने में सुखद होती है। शोर (noise) कर्णप्रिय नहीं होता जबकि संगीत सुनने में सुखद होता है।

प्रश्न

1. तरंग का कौन-सा गुण निम्नलिखित को निर्धारित करता है? (a) प्रबलता, (b) तारत्व।
2. अनुमान लगाइए कि निम्न में से किस ध्वनि का तारत्व अधिक है? (a) गिटार (b) कार का हॉर्न।

तरंग के किसी बिंदु जैसे एक संपीडन या एक विरलन द्वारा एकांक समय में तय की गई दूरी तरंग वेग कहलाती है।

हम जानते हैं

$$\text{वेग} = \frac{\text{दूरी}}{\text{समय}}$$

$$= \frac{1}{T} = \lambda \times \frac{1}{T}$$

यहाँ λ ध्वनि की तरंगदैर्घ्य है। यह तरंग द्वारा एक आवर्त काल (T) में चली गई दूरी है। अतः

$$v =$$

अथवा

$$\text{वेग} = \text{तरंगदैर्घ्य} \times \text{आवृत्ति}$$

किसी माध्यम के लिए समान भौतिक परिस्थितियों में ध्वनि का वेग सभी आवृत्तियों के लिए लगभग स्थिर रहता है।

उदाहरण 12.1 किसी ध्वनि तरंग की आवृत्ति 2 kHz और उसकी तरंगदैर्घ्य 35 cm है। यह 1.5 km दूरी चलने में कितना समय लेगी?

हल:

दिया हुआ है,

$$\text{आवृत्ति, } \nu = 2 \text{ kHz} = 2000 \text{ Hz}$$

$$\text{तरंगदैर्घ्य, } \lambda$$

$$= 35 \text{ cm} = 0.35 \text{ m}$$

हम जानते हैं, तरंग वेग v

$$= \text{तरंगदैर्घ्य} \times \text{आवृत्ति}$$

$$= 0.35 \text{ m} \times 2000 \text{ Hz} = 700 \text{ m/s}$$

तरंग को 1.5 km दूरी तय करने में लगने वाला समय

ध्वनि 1.5 km तय करने में 2.1 s समय लेगी।

प्रश्न

1. किसी ध्वनि तरंग की तरंगदैर्घ्य, आवृत्ति, आवर्त काल तथा आयाम से क्या अभिप्राय है?
2. किसी ध्वनि तरंग की तरंगदैर्घ्य तथा आवृत्ति उसके वेग से किस प्रकार संबंधित है?
3. किसी दिए हुए माध्यम में एक ध्वनि तरंग की आवृत्ति 220 Hz तथा वेग 440 m/s है। इस तरंग की तरंगदैर्घ्य की गणना कीजिए।
4. किसी ध्वनिस्त्रोत से 450 m दूरी पर बैठा हुआ कोई मनुष्य 500 Hz की ध्वनि सुनता है। स्रोत से मनुष्य के पास तक पहुँचने वाले दो क्रमागत संपीडनों में कितना समय अंतराल होगा?

किसी एकांक क्षेत्रफल से एक सेकंड में गुजरने वाली ध्वनि ऊर्जा को ध्वनि की तीव्रता कहते हैं। यद्यपि हम कभी-कभी 'प्रबलता' तथा 'तीव्रता' शब्दों का पर्याय के रूप में उपयोग करते हैं लेकिन इनका अर्थ एक ही नहीं है। प्रबलता ध्वनि के लिए कानों की

संवेदनशीलता की माप है। यद्यपि दो ध्वनियाँ समान तीव्रता की हो सकती हैं फिर भी हम एक को दूसरे की अपेक्षा अधिक प्रबल ध्वनि के रूप में सुन सकते हैं क्योंकि हमारे कान इसके लिए अधिक संवेदनशील हैं।

प्रश्न

1. ध्वनि की प्रबलता तथा तीव्रता में अंतर बताइए।

12.2.4 विभिन्न माध्यमों में ध्वनि की चाल

किसी माध्यम में ध्वनि एक निश्चित चाल से संचरित होती है। किसी पटाखे या तड़ित के गर्जन की ध्वनि प्रकाश की चमक दिखाई देने के कुछ देर बाद सुनाई देती है। इसलिए हम यह निष्कर्ष निकाल सकते हैं कि ध्वनि की चाल प्रकाश की चाल से बहुत कम है। ध्वनि की चाल उस माध्यम के गुणों पर निर्भर करती है जिसमें ये संचरित होती है। आप इस संबंध को अपनी उच्च कक्षाओं में सीखेंगे। किसी माध्यम में ध्वनि की चाल माध्यम के ताप पर निर्भर करती है। जब हम ठोस से गैसीय अवस्था की ओर जाते हैं तो ध्वनि की चाल कम होती जाती है। किसी भी माध्यम में ताप बढ़ाने पर ध्वनि की चाल भी बढ़ती है। उदाहरण के लिए वायु में ध्वनि की चाल 0°C पर 331 m s^{-1} तथा 22°C पर 344 m s^{-1} है। सारणी 12.1 में विभिन्न माध्यमों में एक विशेष ताप पर ध्वनि की चाल को दर्शाया गया है। (इसे आपको याद रखने की आवश्यकता नहीं है।)

25 °C पर ध्वनि की चाल

अवस्था	पदार्थ	चाल m/s में
ठोस	एलुमिनियम	6420
	निकैल	6040
	स्टील	5960
	लोहा	5950
	पीतल	4700
	काँच (फ्लिंट)	3980
द्रव	जल (समुद्री)	1531
	जल (आसुत)	1498
	इथेनॉल	1207
	मीथेनॉल	1103
गैस	हाइड्रोजन	1284
	हीलियम	965
	वायु	346
	ऑक्सीजन	316
	सल्फर डाइऑक्साइड	213

ध्वनि बूम: जब कोई पिंड ध्वनि की चाल से अधिक तेज़ी से गति करता है तब उसे पराध्वनिक चाल से चलता हुआ कहा जाता है। गोलियाँ, जेट-वायुयान आदि प्रायः पराध्वनिक चाल से चलते हैं। जब ध्वनि उत्पादक स्रोत ध्वनि की चाल से अधिक तेज़ी से गति करती है तो ये वायु में प्रघाती तरंगें उत्पन्न करते हैं। इन प्रघाती तरंगों में बहुत अधिक ऊर्जा होती है। इस प्रकार की प्रघाती तरंगों से संबद्ध वायुदाब में परिवर्तन से एक बहुत तेज़ और प्रबल ध्वनि उत्पन्न होती है जिसे ध्वनि बूम कहते हैं। पराध्वनिक वायुयान से उत्पन्न इस ध्वनि बूम में इतनी मात्रा में ऊर्जा होती है कि यह खिड़कियों के शीशों को तोड़ सकती है और यहाँ तक कि भवनों को भी क्षति पहुँचा सकती है।

प्रश्न

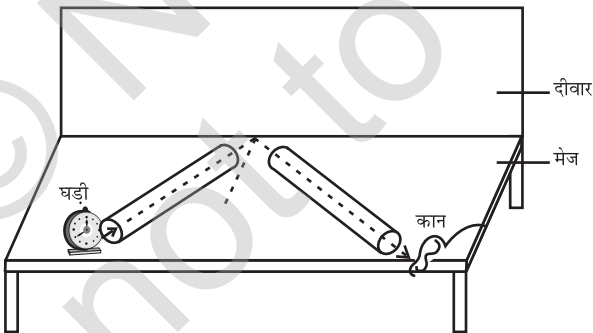
1. वायु, जल या लोहे में से किस माध्यम में ध्वनि सबसे तेज़ चलती है?

12.3 ध्वनि का परावर्तन

किसी ठोस या द्रव से टकराकर ध्वनि उसी प्रकार वापस लौटती है जैसे कोई रबड़ की गेंद किसी दीवार से टकराकर वापस आती है। प्रकाश की भाँति ध्वनि भी किसी ठोस या द्रव की सतह से परावर्तित होती है तथा परावर्तन के उन्हीं नियमों का पालन करती है जिनका अध्ययन आप अपनी पिछली कक्षाओं में कर चुके हैं। परावर्तक सतह पर खींचे गए अभिलंब तथा ध्वनि के आपतन होने की दिशा तथा परावर्तन होने की दिशा के बीच बने कोण आपस में बराबर होते हैं और ये तीनों दिशाएँ एक ही तल में होती हैं। ध्वनि तरंगों के परावर्तन के लिए बड़े आकार के अवरोधक की आवश्यकता होती है जो चाहे पालिश किए हुए हों या खुरदरे।

क्रियाकलाप 12.5

- चित्र 12.11 की भाँति दो एक जैसे पाइप लीजिए। आप चार्ट पेपर की सहायता से ऐसे पाइप बना सकते हैं।



चित्र 12.11: ध्वनि का परावर्तन

- पाइपों की लंबाई पर्याप्त होनी चाहिए (चार्ट पेपर की लंबाई के बराबर)।
- इन्हें दीवार के समीप किसी मेज़ पर व्यवस्थित कीजिए। एक पाइप के खुले सिरे के पास एक घड़ी रखिए तथा दूसरे पाइप की ओर से घड़ी की ध्वनि सुनने की कोशिश कीजिए।
- दोनों पाइपों की स्थिति को इस प्रकार समायोजित कीजिए जिससे कि आपको घड़ी की ध्वनि अच्छी प्रकार स्पष्ट रूप से सुनाई देने लगे।
- इन पाइपों तथा अभिलंब के बीच के कोणों को मापिए तथा इनके बीच के संबंध को देखिए।
- दाईं ओर के पाइप को ऊर्ध्वाधर दिशा में थोड़ी सी ऊँचाई तक उठाइए और देखिए क्या होता है?

12.3.1 प्रतिध्वनि

किसी उचित परावर्तक वस्तु जैसे किसी इमारत अथवा पहाड़ के निकट यदि आप जोर से चिल्लाएँ या ताली बजाएँ तो आपको कुछ समय पश्चात् वही ध्वनि फिर से सुनाई देती है। आपको सुनाई देने वाली इस ध्वनि को प्रतिध्वनि कहते हैं। हमारे मस्तिष्क में ध्वनि की संवेदना लगभग 0.1 s तक बनी रहती है। स्पष्ट प्रतिध्वनि सुनने के लिए मूल ध्वनि तथा परावर्तित ध्वनि के बीच कम से कम 0.1 s का समय अंतराल अवश्य होना चाहिए। यदि हम किसी दिए हुए ताप, जैसे 22°C पर ध्वनि की चाल 344 m/s मान लें तो ध्वनि को अवरोधक तक जाने तथा परावर्तन के पश्चात् वापस श्रोता तक 0.1 s के पश्चात् पहुँचना चाहिए। अतः श्रोता से परावर्तक सतह तक जाने तथा वापस आने में ध्वनि द्वारा तय की गई कुल दूरी कम से कम $(344 \text{ m/s}) \times 0.1 \text{ s} = 34.4 \text{ m}$ होनी चाहिए। अतः स्पष्ट प्रतिध्वनि सुनने के लिए अवरोधक की ध्वनि स्रोत से न्यूनतम दूरी ध्वनि द्वारा तय की गई कुल दूरी की आधी अर्थात् 17.2 m अवश्य होनी चाहिए। यह दूरी वायु के ताप के साथ बदल जाती है क्योंकि ताप के साथ ध्वनि के वेग में भी परिवर्तन हो जाता है।

ध्वनि के बारंबार परावर्तन के कारण हमें एक से अधिक प्रतिध्वनियाँ भी सुनाई दे सकती हैं। बादलों के गड़गड़ाहट की ध्वनि कई परावर्तक पृष्ठों जैसे बादलों तथा भूमि से बारंबार परावर्तन के फलस्वरूप उत्पन्न होती है।

12.3.2 अनुरणन

किसी बड़े हॉल में उत्पन्न होने वाली ध्वनि दीवारों से बारंबार परावर्तन के कारण काफी समय तक बनी रहती है जब तक कि यह इतनी कम न हो जाए कि यह सुनाई ही न पड़े। यह बारंबार परावर्तन जिसके कारण ध्वनि-निर्बंध होता है, अनुरणन कहलाता है। किसी सभा भवन या बड़े हॉल में अत्यधिक अनुरणन अत्यंत अवांछनीय है। अनुरणन को कम करने के लिए सभा भवन की छतों तथा दीवारों पर ध्वनि अवशोषक पदार्थों जैसे संपीडित फाइबर बोर्ड, खुरदरे प्लास्टर अथवा पर्दे लगे होते हैं। सीटों के पदार्थों का चुनाव इनके ध्वनि अवशोषक गुणों के आधार पर भी किया जाता है।

उदाहरण 12.2 एक मनुष्य किसी खड़ी चट्टान के पास ताली बजाता है और उसकी प्रतिध्वनि 5 s के पश्चात् सुनाई देती है। यदि ध्वनि की चाल 346 m s^{-1} ली जाए, तो चट्टान तथा मनुष्य के बीच की दूरी कितनी होगी?

हल:


ध्वनि की चाल, $v = 346 \text{ m s}^{-1}$
 प्रतिध्वनि सुनने में लिया गया समय $t = 5 \text{ s}$
 ध्वनि द्वारा चली गई दूरी
 $= v \times t = 346 \text{ m s}^{-1} \times 5 \text{ s} = 1730 \text{ m}$
 5 s में ध्वनि ने चट्टान तथा मनुष्य के बीच की दोगनी दूरी तय की। अतएव चट्टान तथा मनुष्य के बीच की दूरी $= 1730 \text{ m} / 2 = 865 \text{ m}$.

प्रश्न

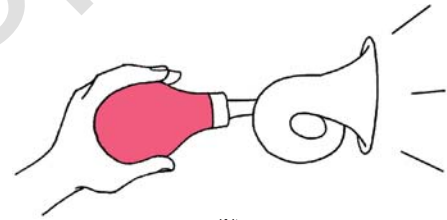
1. कोई प्रतिध्वनि 3 s पश्चात् सुनाई देती है। यदि ध्वनि की चाल 342 m s^{-1} हो तो स्रोत तथा परावर्तक सतह के बीच कितनी दूरी होगी?

12.3.3 ध्वनि के बहुल परावर्तन के उपयोग

1. मेगाफोन या लाउडस्पीकर, हॉर्न, तूर्य तथा शहनाई जैसे वाद्य यंत्र, सभी इस प्रकार बनाए जाते हैं कि ध्वनि सभी दिशाओं में फैले बिना केवल एक विशेष दिशा में ही जाती है, जैसा कि चित्र 12.12 में दर्शाया गया है।



मेगाफोन




हॉर्न

चित्र 12.12: मेगाफोन हॉर्न

इन यंत्रों में एक नली का आगे का खुला भाग शंक्वाकार होता है। यह स्रोत से उत्पन्न होने वाली ध्वनि तरंगों को बार-बार परावर्तित करके श्रोताओं की ओर आगे की दिशा में भेज देता है।

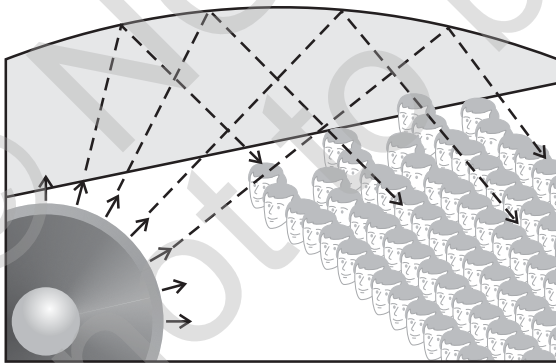
2. स्टेथोस्कोप एक चिकित्सा यंत्र है जो शरीर के अंदर, मुख्यतः हृदय तथा फेफड़ों में,

उत्पन्न होने वाली ध्वनि को सुनने में काम आता है। स्टेथोस्कोप में रोगी के हृदय की धड़कन की ध्वनि, बार-बार परावर्तन के कारण डॉक्टर के कानों तक पहुँचती है (चित्र 12.13)।

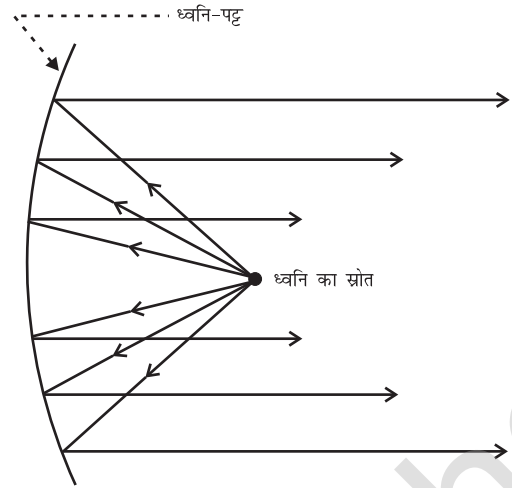


चित्र 12.13: स्टेथोस्कोप

- कंसर्ट हॉल, सम्मेलन कक्षों तथा सिनेमा हॉल की छतें वक्राकार बनाई जाती हैं जिससे कि परावर्तन के पश्चात् ध्वनि हॉल के सभी भागों में पहुँच जाए, जैसा कि चित्र 12.14 में दर्शाया गया है। कभी-कभी वक्राकार ध्वनि-पट्टों को मंच के पीछे रख दिया जाता है जिससे कि ध्वनि, ध्वनि-पट्ट से परावर्तन के पश्चात् समान रूप से पूरे हॉल में फैल जाए (चित्र 12.15)।



चित्र 12.14: सम्मेलन कक्ष की वक्राकार छत



चित्र 12.15: बड़े कर्हॉल में उपयोग किए जाने वाला ध्वनि-पट्ट

प्रश्न

- कंसर्ट हॉल की छतें वक्राकार क्यों होती हैं?

12.4 श्रव्यता का परिसर

हम सभी आवृत्ति की ध्वनियों को नहीं सुन सकते। मनुष्यों में ध्वनि की श्रव्यता का परिसर लगभग 20 Hz से 20,000 Hz (one Hz = one cycle/s) तक होता है। पाँच वर्ष से कम आयु के बच्चे तथा कुछ जंतु जैसे कुत्ते 25 kHz तक की ध्वनि सुन सकते हैं। ज्यों-ज्यों व्यक्तियों की आयु बढ़ती जाती है उनके कान उच्च-आवृत्तियों के लिए कम सुग्राही होते जाते हैं। 20 Hz से कम आवृत्ति की ध्वनियों को अवश्रव्य ध्वनि कहते हैं। यदि हम अवश्रव्य ध्वनि को सुन पाते तो हम किसी लोलक के कंपनों को उसी प्रकार सुन पाते जैसे कि हम किसी मक्खी पंखों के कंपनों को सुन पाते हैं। राइनोसिरस (गैंडा) 5 Hz तक की आवृत्ति की अवश्रव्य ध्वनि का उपयोग करके संपर्क स्थापित करता है। ह्वेल तथा हाथी अवश्रव्य ध्वनि परिसर की ध्वनियाँ उत्पन्न करते हैं। यह देखा गया है कि कुछ जंतु भूकंप से पहले परेशान हो जाते

हैं। भूकंप मुख्य प्रघाती तरंगों से पहले निम्न आवृत्ति की अवश्रव्य ध्वनि उत्पन्न करते हैं, जो संभवतः जंतुओं को सावधान कर देती है। 20 kHz से अधिक आवृत्ति की ध्वनियों को पराश्रव्य ध्वनि या पराध्वनि कहते हैं। डॉल्फ़िन, चमगादड़ और पॉरपॉइज पराध्वनि उत्पन्न करते हैं। कुछ प्रजाति के शलभों (moths) के श्रवण यंत्र अत्यंत सुग्राही होते हैं। ये शलभ चमगादड़ों द्वारा उत्पन्न उच्च आवृत्ति की चीं-चीं की ध्वनि को सुन सकते हैं। उन्हें अपने आस-पास उड़ते हुए चमगादड़ के बारे में जानकारी मिल जाती है और इस प्रकार स्वयं को पकड़े जाने से बचा पाते हैं। चूहे भी पराध्वनि उत्पन्न करके कुछ खेल खेलते हैं।

श्रवण सहायक युक्ति: जिन लोगों को कम सुनाई देता है, उन्हें इस यंत्र की आवश्यकता होती है। यह बैट्री से चलने वाली एक इलेक्ट्रॉनिक युक्ति है। इसमें एक छोटा-सा माइक्रोफ़ोन, एक एंप्लीफायर व स्पीकर होता है। जब ध्वनि माइक्रोफ़ोन पर पड़ती है तो वह ध्वनि तरंगों को विद्युत संकेतों में परिवर्तित कर देता है। एंप्लीफायर इन विद्युत संकेतों को प्रवर्धित कर देता है। ये संकेत स्पीकर द्वारा ध्वनि की तरंगों में परिवर्तित कर दिए जाते हैं। ये ध्वनि तरंगें कान के डायफ्राम पर आपतित होती हैं तथा व्यक्ति को ध्वनि साफ़ सुनाई देती है।

प्रश्न

- सामान्य मनुष्य के कानों के लिए श्रव्यता परास क्या है?
- निम्न से संबंधित आवृत्तियों का परास क्या है?
 - अवश्रव्य ध्वनि
 - पराध्वनि

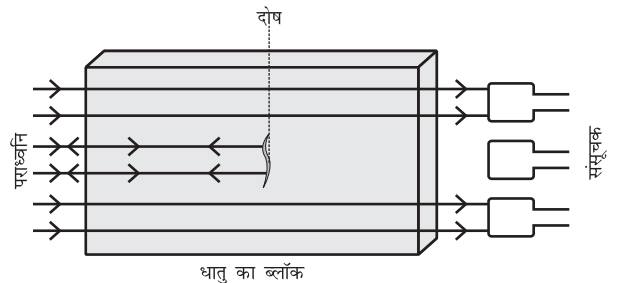
12.5 पराध्वनि के अनुप्रयोग

पराध्वनियाँ उच्च आवृत्ति की तरंगें हैं। पराध्वनियाँ अवरोधों की उपस्थिति में भी एक निश्चित पथ पर गमन कर सकती हैं। उद्योगों तथा चिकित्सा के क्षेत्र

ध्वनि

में पराध्वनियों का विस्तृत रूप से उपयोग किया जाता है।

- पराध्वनि प्रायः उन भागों को साफ़ करने में उपयोग की जाती है जिन तक पहुँचना कठिन होता है; जैसे—सर्पिलाकार नली, विषम आकार के पुर्जे, इलेक्ट्रॉनिक अवयव आदि। जिन वस्तुओं को साफ़ करना होता है उन्हें साफ़ करने वाले मार्जन विलयन में रखते हैं और इस विलयन में पराध्वनि तरंगें भेजी जाती हैं। उच्च आवृत्ति के कारण, धूल, चिकनाई तथा गंदगी के कण अलग होकर नीचे गिर जाते हैं। इस प्रकार वस्तु पूर्णतया साफ़ हो जाती है।
- पराध्वनि का उपयोग धातु के ब्लॉकों (पिंडों) में दरारों तथा अन्य दोषों का पता लगाने के लिए किया जा सकता है। धात्विक घटकों को प्रायः बड़े-बड़े भवनों, पुलों, मशीनों तथा वैज्ञानिक उपकरणों को बनाने के लिए उपयोग में लाया जाता है। धातु के ब्लॉकों में विद्यमान दरार या छिद्र जो बाहर से दिखाई नहीं देते, भवन या पुल की संरचना की मज़बूती को कम कर देते हैं। पराध्वनि तरंगें धातु के ब्लॉक से गुज़ारी (प्रेषित की) जाती हैं और प्रेषित तरंगों का पता लगाने के लिए संसूचकों का उपयोग किया जाता है। यदि थोड़ा-सा भी दोष होता है, तो पराध्वनि तरंगें परावर्तित हो जाती हैं जो दोष की उपस्थिति को दर्शाती है (चित्र 12.16)।



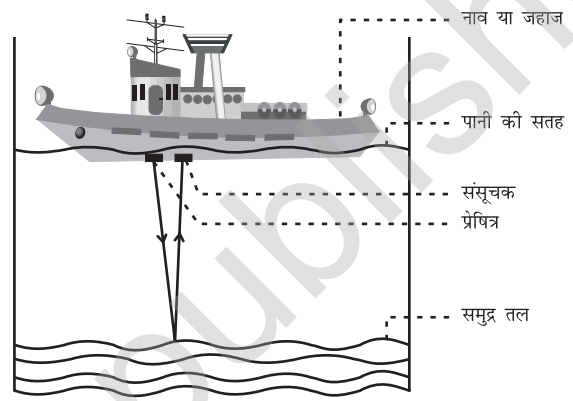
चित्र 12.16: पराध्वनि धातु के ब्लॉक में दोषयुक्त स्थान से परावर्तित हो जाती है

साधारण ध्वनि जिसकी तरंगदैर्घ्य अधिक होती है, दोषयुक्त स्थान के कोणों से मुड़कर संसूचक तक पहुँच जाती है, इसलिए इस ध्वनि का उपयोग इस कार्य के लिए नहीं किया जा सकता।

- पराध्वनि तरंगों को हृदय के विभिन्न भागों से परावर्तित करा कर हृदय का प्रतिबिंब बनाया जाता है। इस तकनीक को “इकोकार्डियोग्राफी” (ECG) कहा जाता है।
- पराध्वनि संसूचक एक ऐसा यंत्र है जो पराध्वनि तरंगों का उपयोग करके मानव शरीर के आंतरिक अंगों का प्रतिबिंब प्राप्त करने के लिए काम में लाया जाता है। इस संसूचक से रोगी के अंगों; जैसे—यकृत, पित्ताशय, गर्भाशय, गुर्दे आदि का प्रतिबिंब प्राप्त किया जा सकता है। यह संसूचक को शरीर की असमान्यताएँ, जैसे पित्ताशय तथा गुर्दे में पथरी तथा विभिन्न अंगों में अर्बुद (ट्यूमर) का पता लगाने में सहायता करता है। इस तकनीक में पराध्वनि तरंगें शरीर के ऊतकों में गमन करती हैं तथा उस स्थान से परावर्तित हो जाती हैं जहाँ ऊतक के घनत्व में परिवर्तन होता है। इसके पश्चात् इन तरंगों को विद्युत संकेतों में परिवर्तित किया जाता है जिससे कि उस अंग का प्रतिबिंब बना लिया जाए। इन प्रतिबिंबों को मॉनीटर पर प्रदर्शित किया जाता है या फिल्म पर मुद्रित कर लिया जाता है। इस तकनीक को अल्ट्रासोनोग्राफी कहते हैं। अल्ट्रासोनोग्राफी का उपयोग गर्भ काल में भ्रूण की जाँच तथा उसके जन्मजात दोषों तथा उसकी वृद्धि की अनियमितताओं का पता लगाने में किया जाता है।
- पराध्वनि का उपयोग गुर्दे की छोटी पथरी को बारीक कणों में तोड़ने के लिए भी किया जा सकता है। ये कण बाद में मूत्र के साथ बाहर निकल जाते हैं।

12.5.1 सोनार

सोनार (SONAR) शब्द SOund Navigation And Ranging से बना है। सोनार एक ऐसी युक्ति है जिसमें जल में स्थित पिंडों की दूरी, दिशा तथा चाल मापने के लिए पराध्वनि तरंगों का उपयोग किया जाता है। सोनार कैसे कार्य करता है? सोनार में एक प्रेषित्र तथा एक संसूचक होता है और इसे किसी नाव या जहाज में चित्र 12.17 की भाँति लगाया जाता है।



चित्र 12.17: प्रेषित्र द्वारा प्रेषित की गई तथा संसूचक द्वारा ग्रहण की गई पराध्वनि

प्रेषित्र पराध्वनि तरंगें उत्पन्न तथा प्रेषित करता है। ये तरंगें जल में चलती हैं तथा समुद्र तल में पिंड से टकराने के पश्चात् परावर्तित होकर संसूचक द्वारा ग्रहण कर ली जाती हैं। संसूचक पराध्वनि तरंगों को विद्युत संकेतों में बदल देता है जिनकी उचित रूप से व्याख्या कर ली जाती है। जल में ध्वनि की चाल तथा पराध्वनि के प्रेषण तथा अभिग्रहण के समय अंतराल को ज्ञात करके उस पिंड की दूरी की गणना की जा सकती है जिससे ध्वनि तरंग परावर्तित हुई है। मान लीजिए पराध्वनि संकेत के प्रेषण तथा अभिग्रहण का समय अंतराल ‘ t ’ है तथा समुद्री जल में ध्वनि की चाल ‘ v ’ है। तब सतह से पिंड की दूरी $2 \cdot d$ होगी

$$2d = v \times t$$

उपरोक्त विधि को प्रतिध्वनिक-परास कहते हैं। सोनार की तकनीक का उपयोग समुद्र की गहराई ज्ञात करने तथा जल के अंदर स्थित चट्टानों, घाटियों, पनडुब्बियों, हिम शैल (प्लावी बर्फ), डूबे हुए जहाज आदि की जानकारी प्राप्त करने के लिए किया जाता है।

उदाहरण 12.3 एक जहाज पराध्वनि उत्सर्जित करता है जो समुद्र तल से परावर्तित होकर 3.42 s के पश्चात् संसूचित की जाती है। यदि समुद्र जल में पराध्वनि की चाल 1531 m/s हो, तो समुद्र तल से जहाज की कितनी दूरी होगी?

हल:

प्रेषण तथा संसूचन के बीच लगा समय

$$t = 3.42 \text{ s.}$$

समुद्र जल में पराध्वनि की चाल

$$v = 1531 \text{ m/s}$$

पराध्वनि द्वारा चली गई दूरी = $2d$

जहाँ d = समुद्र की गहराई

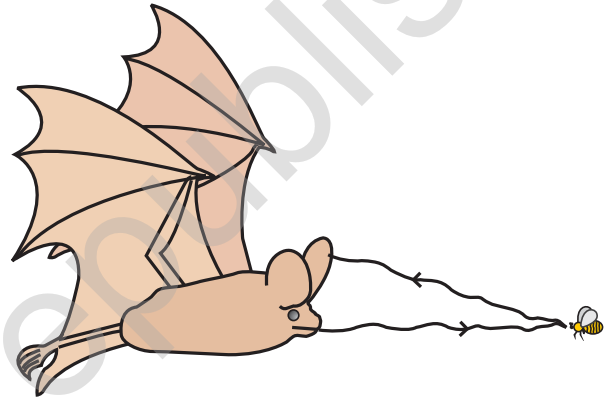
$2d$ = ध्वनि की चाल समय

$$= 1531 \text{ m/s} \times 3.42 \text{ s} = 5236 \text{ m}$$

$$d = 5236 \text{ m} / 2 = 2618 \text{ m}$$

अतः जहाज से समुद्र तल की दूरी 2618 m या 2.62 km है।

जैसा कि पहले वर्णन किया गया है, चमगादड़ गहन अंधकार में अपने भोजन को खोजने के लिए उड़ते समय पराध्वनि तरंगें उत्सर्जित करता है तथा परावर्तन के पश्चात् इनका संसूचन करता है। चमगादड़ द्वारा उत्पन्न उच्च तारत्व के पराध्वनि स्पंद अवरोधों या कीटों से परावर्तित होकर चमगादड़ के कानों तक पहुँचते हैं (चित्र 12.18)। इन परावर्तित स्पंदों की प्रकृति से चमगादड़ को पता चलता है कि अवरोध या कीट कहाँ पर है और यह किस प्रकार का है। पॉरपॉइज मछलियाँ भी अंधेरे में संचालन व भोजन की खोज में पराध्वनि का उपयोग करती हैं।



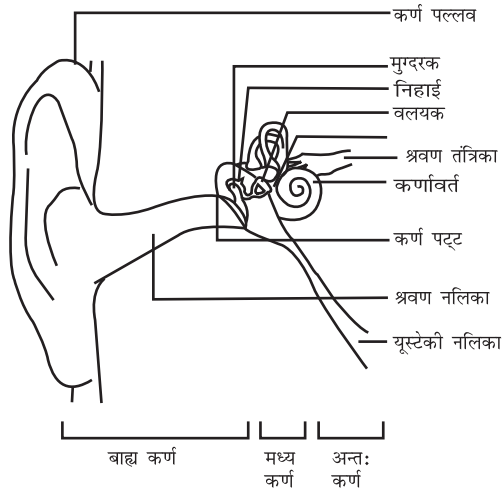
चित्र 12.18: चमगादड़ द्वारा पराध्वनि उत्सर्जित होती है तथा अवरोध या कीटों द्वारा परावर्तित होती है

12.6 मानव कर्ण की संरचना

हम कैसे सुनते हैं? हम एक अतिसंवेदी युक्ति जिसे कान (कर्ण) कहते हैं, की सहायता से सुन पाते हैं। यह श्रवणीय आवृत्तियों द्वारा वायु में होने वाले दाब परिवर्तनों को विद्युत संकेतों में बदलता है जो श्रवण तंत्रिका से होते हुए मस्तिष्क तक पहुँचते हैं। मानव के कान द्वारा सुनने की प्रक्रिया के पक्ष के बारे में हम यहाँ चर्चा करेंगे।

प्रश्न

1. एक पनडुब्बी सोनार स्पंद उत्सर्जित करती है, जो पानी के अंदर एक खड़ी चट्टान से टकराकर 1.02 s के पश्चात् वापस लौटता है। यदि खारे पानी में ध्वनि की चाल 1531 m/s हो, तो चट्टान की दूरी ज्ञात कीजिए।



चित्र 12.19: मानव कान के श्रवण भाग

बाहरी कान 'कर्ण पल्लव' कहलाता है। यह परिवेश से ध्वनि को एकत्रित करता है। एकत्रित ध्वनि श्रवण नलिका से गुजरती है। श्रवण नलिका के

सिरे पर एक पतली झिल्ली होती है जिसे कर्ण पटह या कर्ण पटह झिल्ली कहते हैं। जब माध्यम के संपीडन कर्ण पटह तक पहुँचते हैं तो झिल्ली के बाहर की ओर लगने वाला दाब बढ़ जाता है और यह कर्ण पटह को अंदर की ओर दबाता है। इसी प्रकार, विरलन के पहुँचने पर कर्ण पटह बाहर की ओर गति करता है। इस प्रकार कर्ण पटह कंपन करता है। मध्य कर्ण में विद्यमान तीन हड्डियाँ [(मुग्दरक, निहाई तथा वलयक (स्ट्रिप)] इन कंपनों को कई गुना बढ़ा देती हैं। मध्य कर्ण ध्वनि तरंगों से मिलने वाले इन दाब परिवर्तनों को आंतरिक कर्ण तक संचरित कर देता है। आंतरिक कर्ण में कर्णावर्त (Cochlea) द्वारा दाब परिवर्तनों को विद्युत संकेतों में परिवर्तित कर दिया जाता है। इन विद्युत संकेतों को श्रवण तंत्रिका द्वारा मस्तिष्क तक भेज दिया जाता है और मस्तिष्क इनकी ध्वनि के रूप में व्याख्या करता है।



आपने क्या सीखा

- ध्वनि विभिन्न वस्तुओं के कंपन करने के कारण उत्पन्न होती है।
- ध्वनि किसी द्रव्यात्मक माध्यम में अनुदैर्घ्य तरंगों के रूप में संचरित होती है।
- ध्वनि माध्यम में क्रमागत संपीडनों तथा विरलनों के रूप में संचरित होती है।
- ध्वनि संचरण में, माध्यम के कण आगे नहीं बढ़ते, केवल विक्षोभ ही संचरित होता है।
- ध्वनि निर्वात में संचरित नहीं हो सकती।
- घनत्व के अधिकतम मान से न्यूनतम मान और पुनः अधिकतम मान के परिवर्तन से एक दोलन पूरा होता है।
- वह न्यूनतम दूरी जिस पर किसी माध्यम का घनत्व या दाब आवर्ती रूप में अपने मान की पुनरावृत्ति करता है, ध्वनि की तरंगदैर्घ्य (λ) कहलाती है।
- तरंग द्वारा माध्यम के घनत्व के एक संपूर्ण दोलन में लिए गए समय को आवर्त काल (T) कहते हैं।

- एकांक समय में होने वाले दोलनों की कुल संख्या को आवृत्ति (ν) कहते हैं $\frac{1}{T}$.
- ध्वनि का वेग (v), आवृत्ति (ν) तथा तरंगदैर्घ्य (λ) में संबंध है, $v = \lambda\nu$
- ध्वनि की चाल मुख्यतः संचरित होने वाले माध्यम की प्रकृति तथा ताप पर निर्भर होती है।
- ध्वनि के परावर्तन के नियम के अनुसार, ध्वनि के आपतन होने की दिशा तथा परावर्तन होने की दिशा, परावर्तक सतह पर खींचे गए अभिलंब से समान कोण बनाते हैं और ये तीनों एक ही तल में होते हैं।
- स्पष्ट प्रतिध्वनि सुनने के लिए मूल ध्वनि तथा परावर्तित ध्वनि के बीच कम से कम 0.1 s का समय अंतराल अवश्य होना चाहिए।
- किसी सभागार में ध्वनि-निर्बंध बारंबार परावर्तनों के कारण होता है और इसे अनुरणन कहते हैं।
- ध्वनि के अभिलक्षण जैसे तारत्व, प्रबलता तथा गुणता; संगत तरंगों के गुणों द्वारा निर्धारित होते हैं।
- प्रबलता ध्वनि की तीव्रता के लिए कानों की शारीरिक अनुक्रिया है।
- किसी एकांक क्षेत्रफल से एक सेकंड में गुजरने वाली ध्वनि ऊर्जा को ध्वनि की तीव्रता कहते हैं।
- मानवों में ध्वनि की श्रव्यता की आवृत्तियों का औसत परास 20 Hz से 20 kHz तक है।
- श्रव्यता के परास से कम आवृत्तियों की ध्वनि को 'अवश्रव्य' ध्वनि तथा श्रव्यता के परास से अधिक आवृत्ति की ध्वनियों को 'पराध्वनि' कहते हैं।
- पराध्वनि के चिकित्सा तथा प्रौद्योगिक क्षेत्रों में अनेक उपयोग हैं।
- सोनार की तकनीक का उपयोग समुद्र की गहराई ज्ञात करने तथा जल के नीचे छिपी चट्टानों, घाटियों, पनडुब्बियों, हिम शैल, डूबे हुए जहाजों, आदि का पता लगाने के लिए किया जाता है।

अभ्यास



1. ध्वनि क्या है और यह कैसे उत्पन्न होती है?
2. एक चित्र की सहायता से वर्णन कीजिए कि ध्वनि के स्रोत के निकट वायु में संपीडन तथा विरलन कैसे उत्पन्न होते हैं।
3. किस प्रयोग से यह दर्शाया जा सकता है कि ध्वनि संचरण के लिए एक द्रव्यात्मक माध्यम की आवश्यकता होती है।

4. ध्वनि तरंगों की प्रकृति अनुदैर्घ्य क्यों है?
5. ध्वनि का कौन-सा अभिलक्षण किसी अन्य अंधेरे कमरे में बैठे आपके मित्र की आवाज पहचानने में आपकी सहायता करता है?
6. तड़ित की चमक तथा गर्जन साथ-साथ उत्पन्न होते हैं। लेकिन चमक दिखाई देने के कुछ सेकंड पश्चात् गर्जन सुनाई देती है। ऐसा क्यों होता है?
7. किसी व्यक्ति का औसत श्रव्य परास 20 Hz से 20 kHz है। इन दो आवृत्तियों के लिए ध्वनि तरंगों की तरंगदैर्घ्य ज्ञात कीजिए। वायु में ध्वनि का वेग 344 m s^{-1} लीजिए।
8. दो बालक किसी ऐलुमिनियम पाइप के दो सिरों पर हैं। एक बालक पाइप के एक सिरे पर पत्थर से आघात करता है। दूसरे सिरे पर स्थित बालक तक वायु तथा ऐलुमिनियम से होकर जाने वाली ध्वनि तरंगों द्वारा लिए गए समय का अनुपात ज्ञात कीजिए।
9. किसी ध्वनि स्रोत की आवृत्ति 100 Hz है। एक मिनट में यह कितनी बार कंपन करेगा?
10. क्या ध्वनि परावर्तन के उन्हीं नियमों का पालन करती है जिनका कि प्रकाश की तरंगें करती हैं? इन नियमों को बताइए।
11. ध्वनि का एक स्रोत किसी परावर्तक सतह के सामने रखने पर उसके द्वारा प्रदत्त ध्वनि तरंग की प्रतिध्वनि सुनाई देती है। यदि स्रोत तथा परावर्तक सतह की दूरी स्थिर रहे तो किस दिन प्रतिध्वनि अधिक शीघ्र सुनाई देगी - (i) जिस दिन तापमान अधिक हो? (ii) जिस दिन तापमान कम हो?
12. ध्वनि तरंगों के परावर्तन के दो व्यावहारिक उपयोग लिखिए।
13. 500 मीटर ऊँची किसी मीनार की चोटी से एक पत्थर मीनार के आधार पर स्थित एक पानी के तालाब में गिराया जाता है। पानी में इसके गिरने की ध्वनि चोटी पर कब सुनाई देगी? ($g = 10 \text{ m s}^{-2}$ तथा ध्वनि की चाल $= 340 \text{ m s}^{-1}$)
14. एक ध्वनि तरंग 339 m s^{-1} की चाल से चलती है। यदि इसकी तरंगदैर्घ्य 1.5 cm हो, तो तरंग की आवृत्ति कितनी होगी? क्या ये श्रव्य होंगी?
15. अनुरणन क्या है? इसे कैसे कम किया जा सकता है?
16. ध्वनि की प्रबलता से क्या अभिप्राय है? यह किन कारकों पर निर्भर करती है?
17. चमगादड़ अपना शिकार पकड़ने के लिए पराध्वनि का उपयोग किस प्रकार करता है? वर्णन कीजिए।
18. वस्तुओं को साफ़ करने के लिए पराध्वनि का उपयोग कैसे करते हैं?
19. सोनार की कार्यविधि तथा उपयोगों का वर्णन कीजिए।

20. एक पनडुब्बी पर लगी एक सोनार युक्ति, संकेत भेजती है और उनकी प्रतिध्वनि 5 s पश्चात् ग्रहण करती है। यदि पनडुब्बी से वस्तु की दूरी 3625 m हो तो ध्वनि की चाल की गणना कीजिए।
21. किसी धातु के ब्लॉक में दोषों का पता लगाने के लिए पराध्वनि का उपयोग कैसे किया जाता है वर्णन कीजिए।
22. मनुष्य का कान किस प्रकार कार्य करता है? विवेचना कीजिए।

अध्याय 13

हम बीमार क्यों होते हैं

(Why Do We Fall Ill)

क्रियाकलाप _____ 13.1

- हमने लातूर, भुज, कश्मीर आदि में आए भूकंप अथवा तटवर्ती भाग को प्रभावित करने वाले चक्रवात के विषय में सुना है। आप यह कल्पना करें कि इनके जैसी कितनी संभावित आपदाओं से लोगों का स्वास्थ्य किस प्रकार प्रभावित होगा, यदि ये हमारे आस-पास घटित हों।
- इन आपदाओं के वास्तव में घटने के समय हमारे ऊपर क्या-क्या प्रभाव पड़ेंगे?
- आपदा घटित होने के पश्चात् कितने समय तक विभिन्न प्रकार की स्वास्थ्य संबंधी समस्याएँ पैदा होती रहेंगी?
- पहली स्थिति में (आपदा के समय) स्वास्थ्य पर क्या प्रभाव पड़ते हैं? तथा दूसरी स्थिति में (आपदा के पश्चात्) स्वास्थ्य संबंधी कौन-कौन सी समस्याएँ उत्पन्न होंगी?

इस क्रियाकलाप के दौरान हमें यह अनुभव होता है कि मानव समुदाय में स्वास्थ्य एवं रोग एक जटिल समस्या है, जिसके लिए एक-दूसरे से संबंधित अनेक कारक उत्तरदायी हैं। हम यह भी अनुभव करते हैं कि 'स्वास्थ्य' और 'रोग' का अर्थ स्वयं में बहुत जटिल है। जब हम पूछते हैं कि बीमारियों के क्या कारण हैं और इसकी रोकथाम केस होगी? तो हमें इन अवधारणाओं के अर्थ जानने होंगे।

हम जानते हैं कि कोशिकाएँ सजीवों की मौलिक इकाई हैं। कोशिकाएँ विभिन्न प्रकार के रासायनिक पदार्थों; जैसे-प्रोटीन, कार्बोहाइड्रेट, वसा अथवा लिपिड, आदि से बनी होती हैं। यद्यपि चित्र में ये स्थिर प्रतीत होती हैं लेकिन इनमें काफी सक्रियता पाई जाती है।

इसके अंदर कुछ न कुछ क्रियाएँ सदैव होती रहती हैं। कोशिकाएँ एक स्थान से दूसरे स्थान को गतिशील रहती हैं। यहाँ तक कि जिन कोशिकाओं में गति नहीं होती है उनमें भी कुछ न कुछ मरम्मत का कार्य चलता रहता है। नई-नई कोशिकाएँ बनती रहती हैं। हमारे अंगों अथवा ऊतकों में बहुत-सी विशिष्ट क्रियाएँ चलती रहती हैं; जैसे-हृदय धड़कता है, फेफड़े सांस लेते हैं, वृक्क में निस्पंदन द्वारा मूत्र बनता है, मस्तिष्क सोचता है।

ये सभी क्रियाएँ परस्पर संबंधित हैं। उदाहरणतः यदि वृक्क में निस्पंदन न हो तो विषैले पदार्थ हमारे शरीर में एकत्र हो जाएँगे। इस परिस्थिति में मस्तिष्क उचित प्रकार से नहीं सोच सकेगा। इन सभी पारस्परिक क्रियाओं को करने के लिए ऊर्जा तथा कच्चे पदार्थों की आवश्यकता होती है। ये कच्चे पदार्थ हमारे शरीर को बाहर से प्राप्त होते हैं अर्थात् कोशिकाओं तथा ऊतकों को कार्य करने के लिए भोजन की आवश्यकता होती है। ऐसा कोई भी कारक जो कोशिकाओं एवं ऊतकों को उचित प्रकार से कार्य करने से रोकता है, वह हमारे शरीर की समुचित क्रिया में कमी का कारण होगा।

उपरोक्त सभी तथ्यों को ध्यान में रखकर हम स्वास्थ्य तथा रोग की अवधारणाओं को समझेंगे।

13.1 स्वास्थ्य तथा इसका बिगड़ना

13.1.1 'स्वास्थ्य' का महत्त्व (सार्थकता)

हम सभी ने 'स्वास्थ्य' शब्द को सुना है तथा इस शब्द का प्रयोग भी हम प्रायः करते हैं, जैसे कि हम

कहते हैं कि 'मेरी दादी का स्वास्थ्य अच्छा नहीं है'। हमारे अध्यापक भी इस शब्द का प्रयोग करते हैं जब कहते हैं कि 'आपकी अभिवृत्ति स्वस्थ नहीं है'। इस 'स्वास्थ्य' शब्द का अर्थ क्या है?

यदि हम इस विषय पर विचार करें तो हमें बोध होगा कि इनका अर्थ 'अच्छा' रहने से है। हम इस अच्छापन का अर्थ 'प्रभावी कार्य करना' सोच सकते हैं। हमारी दादी के लिए बाज़ार जाना अथवा पास-पड़ोस में जाने योग्य होना 'अच्छे स्वास्थ्य' के प्रतीक हैं। यदि वे, ये करने योग्य नहीं हैं तो हम कहते हैं कि उनका स्वास्थ्य अच्छा नहीं है। जब आपकी रुचि कक्षा में पढ़ने की है तो हम कहते हैं कि आपकी अभिवृत्ति ठीक है और यदि पढ़ने की रुचि नहीं है तो कहते हैं अभिवृत्ति स्वस्थ नहीं है। अतः 'स्वास्थ्य' वह अवस्था है जिसके अंतर्गत शारीरिक, मानसिक तथा सामाजिक कार्य समुचित क्षमता द्वारा उचित प्रकार से किया जा सके।

13.1.2 व्यक्तिगत तथा सामुदायिक समस्याएँ: दोनों ही स्वास्थ्य को प्रभावित करती हैं

स्वास्थ्य किसी व्यक्ति की शारीरिक, मानसिक तथा सामाजिक जीवन क्षमता की पूर्णरूपेण-समन्वयित स्थिति है तो कोई भी व्यक्ति इसे स्वयं ही पूर्णरूपेण प्राप्त नहीं कर सकता। सभी जीवों का स्वास्थ्य उसके पास-पड़ोस अथवा उसके आस-पास के पर्यावरण पर आधारित होता है। पर्यावरण में भौतिक कारक आते हैं। उदाहरणार्थ: चक्रवात हमारे स्वास्थ्य को अनेक प्रकार से प्रभावित करता है।

लेकिन उससे भी महत्वपूर्ण यह है कि मानव समाज में रहता है। अतः हमारा सामाजिक पर्यावरण हमारे व्यक्तिगत स्वास्थ्य के लिए अधिक महत्वपूर्ण है। हम गाँवों, कस्बों अथवा शहरों में रहते हैं। ऐसे स्थानों में हमारे भौतिक पर्यावरण का निर्धारण सामाजिक पर्यावरण द्वारा ही होता है।

हम बीमार क्यों होते हैं

सोचिए कूड़ा-करकट उठाने वाली एजेंसी कचरे का निपटारा न करे तो क्या होगा? सोचिए यदि नालियाँ साफ न हों तो क्या होगा? यदि काफी मात्रा में कूड़ा-करकट गलियों में फेंका जाता है अथवा खुले नाले के रुके हुए पानी में स्थिर पड़ा रहता है, तो खराब स्वास्थ्य की संभावना बढ़ जाती है। अतः सामुदायिक स्वच्छता व्यक्तिगत स्वास्थ्य के लिए महत्वपूर्ण है।

क्रियाकलाप _____ 13.2

- पता करें कि आपके स्थानीय प्राधिकरण (पंचायत/नगर निगम) ने स्वच्छ जल की आपूर्ति के लिए क्या उपाय किए हैं?
- क्या आपके मोहल्ले में सभी निवासियों को स्वच्छ जल प्राप्त हो रहा है।

क्रियाकलाप _____ 13.3

- पता करें कि आपका स्थानीय प्राधिकरण आपके मोहल्ले में उत्पन्न कचरे का निपटारा कैसे करता है?
- क्या प्राधिकरण द्वारा किए गए उपाय पर्याप्त हैं?
- यदि नहीं, तो इसके सुधार के लिए आप क्या सुझाव देंगे?
- आप अपने घर में दैनिक/साप्ताहिक उत्पन्न होने वाले कचरे को कम करने के लिए क्या करेंगे?

स्वास्थ्य के लिए हमें भोजन की आवश्यकता होती है। इस भोजन को प्राप्त करने के लिए हमें काम करना पड़ता है। इसके लिए, हमें काम करने के अवसर खोजने पड़ते हैं। अच्छी आर्थिक परिस्थितियाँ तथा कार्य भी व्यक्तिगत स्वास्थ्य के लिए आवश्यक हैं।

स्वस्थ रहने के लिए हमें प्रसन्न रहना आवश्यक है। यदि किसी से हमारा व्यवहार ठीक नहीं है और एक-दूसरे से डर हो तो हम प्रसन्न तथा स्वस्थ नहीं रह सकते। इसलिए व्यक्तिगत स्वास्थ्य के लिए सामाजिक समानता बहुत आवश्यक है। हम इसी प्रकार सोच सकते हैं कि अनेक सामुदायिक समस्याएँ हमारे व्यक्तिगत स्वास्थ्य को कैसे प्रभावित करती हैं?

13.1.3 'स्वस्थ रहने' तथा 'रोगमुक्त' में अंतर

यदि हम इसे स्वास्थ्य समझते हैं तो रोग अथवा व्याधि क्या है? अंग्रेजी का यह शब्द (DIS+BASE) स्वयं को परिभाषित करता है 'बाधित आराम'। रोग का दूसरा अर्थ है असुविधा। यद्यपि इस शब्द के अर्थ का प्रयोग बहुत सीमित है। हम रोग के विषय में तब बात करते हैं जब हमें असुविधा के विशिष्ट कारण का पता होता है। इसका अर्थ यह बिलकुल नहीं है कि हम इसका सही तथा अंतिम उत्तर जानें; हम बिना कारण जाने यह कह सकते हैं कि कोई व्यक्ति प्रवाहिका से ग्रस्त है।

हम यह सरलता से पाते हैं कि बिना किसी विशेष रोग के भी आप अस्वस्थ हो सकते हैं। केवल कोई रोग न होने का अर्थ यह नहीं कि आप स्वस्थ हैं। नर्तक के लिए अच्छे स्वास्थ्य का अर्थ है कि वह शिष्टतापूर्वक अपने शरीर द्वारा विषम परिस्थितियों की मुद्रा अभिव्यक्त कर सके। संगीतकार के लिए इसका अर्थ है कि वह लंबा श्वास ले सके जिससे कि वह अपनी बाँसुरी में स्वर को नियंत्रित कर सके। हमें अपनी विशिष्ट क्षमता को प्राप्त करने का अवसर भी वास्तविक स्वास्थ्य के लिए आवश्यक है।

इस प्रकार हम किसी रोग के लक्षणों की अभिव्यक्ति के बिना भी अस्वस्थ हो सकते हैं। यही कारण है जब हम स्वास्थ्य के विषय में सोचते हैं, हम समाज तथा समुदाय के विषय में सोचते हैं। और रोग के विषय में सोचते समय हम सिर्फ अपने बारे में विचार करते हैं।

प्रश्न

1. अच्छे स्वास्थ्य की दो आवश्यक स्थितियाँ बताइए।
2. रोगमुक्त की कोई दो आवश्यक परिस्थितियाँ बताइए।
3. क्या उपरोक्त प्रश्नों के उत्तर एक जैसे हैं अथवा भिन्न क्यों?

13.2 रोग तथा इसके कारण

13.2.1 रोग किस तरह के दिखाई देते हैं?

आओ, रोग के विषय में और अधिक सोचें। पहले यह कि हमें कैसे पता लगता है कि हमें कोई रोग है? अर्थात् कैसे पता लगता है कि शरीर में कुछ दोष है? हमने छठे अध्याय में पढ़ा है कि हमारे शरीर में अनेक ऊतक होते हैं। ये ऊतक हमारे शरीर के क्रियात्मक तंत्रों अथवा अंगतंत्रों को बनाते हैं जो शरीर के विभिन्न कार्यों को संपादित करते हैं। हर अंग तंत्र का अपना एक विशेष अंग होता है जिसका एक विशेष कार्य होता है। जैसे: पाचन तंत्र में आमाशय तथा आँत्र होते हैं, जो हमारे द्वारा खाए गए भोजन को पचाते हैं। पेशियों तथा अस्थियों से बना पेशी-कंकाल तंत्र, हमारे शरीर को संभालता है और शरीर की गति में सहायता करता है।

जब कोई रोग होता है तब शरीर के एक अथवा अनेक अंगों एवं तंत्रों में क्रिया अथवा संरचना में 'खराबी' परिलक्षित होने लगती है। ये बदलाव (परिवर्तन) रोग के लक्षण दर्शाते हैं। रोग के लक्षण हमें 'खराबी' का संकेत देते हैं। इस प्रकार सिरदर्द, खाँसी, दस्त, किसी घाव में पस (मवाद) आना, ये सभी लक्षण हैं। इन लक्षणों से किसी-न-किसी रोग का पता लगता है। लेकिन इनसे यह नहीं पता चलता कि कौन-सा रोग है? उदाहरण के लिए, सिरदर्द का कारण परीक्षा का भय अथवा इसका अर्थ मस्तिष्क का वरण शोथ (meningitis) होना अथवा दर्जनों विभिन्न बीमारियों में से एक हो सकता है।

रोग के चिह्न वे हैं जिन्हें चिकित्सक लक्षणों के आधार पर देखते हैं। लक्षण किसी विशेष रोग के बारे में सुनिश्चित संकेत देते हैं। चिकित्सक रोग के सही कारण को जानने के लिए प्रयोगशाला में कुछ परीक्षण भी करवा सकता है।

13.2.2 तीव्र (प्रचंड) तथा दीर्घकालिक रोग (बीमारी)

रोगों की अभिव्यक्ति भिन्न-भिन्न हो सकती है और कई कारकों पर निर्भर करती है। इनमें सबसे स्पष्ट

कारक जिससे रोग का पता चलता है, वह है अवधि। कुछ रोगों की अवधि कम होती है जिन्हें तीव्र रोग कहते हैं। हम सभी ने अनुभव किया है कि खाँसी-जुकाम बहुत कम अवधि तक रहते हैं। अन्य ऐसे रोग हैं जो लंबी अवधि तक अथवा जीवनपर्यंत रहते हैं, ऐसे रोगों को दीर्घकालिक रोग कहते हैं। इसका एक उदाहरण एलिफ्रेनटाइसिस अथवा फीलपाँव रोग है। यह भारत के कुछ क्षेत्रों में बहुत आम है।

क्रियाकलाप _____ 13.4

- निम्न का पता करने के लिए अपने पास-पड़ोस का पर्यावलोकन करें:
- पिछले तीन महीनों में कितने लोग तीव्र रोगों से ग्रसित हुए?
- पिछले तीन महीनों में कितने लोग दीर्घकालिक रोग से ग्रसित हुए?
- आपके पड़ोस में कुल कितने लोग दीर्घकालिक रोग से पीड़ित हैं?
- क्या उपरोक्त प्रश्न 1 तथा 2 के उत्तर भिन्न हैं?
- क्या उपरोक्त प्रश्न 2 तथा 3 के उत्तर भिन्न हैं?
- क्या आप सोच सकते हैं कि इस भिन्नता के क्या कारण हो सकते हैं? इस भिन्नता का लोगों के सामान्य स्वास्थ्य पर क्या प्रभाव होगा?

13.2.3 दीर्घकालिक रोग तथा अस्वस्थता

जैसा कि हम कल्पना कर सकते हैं कि तीव्र तथा दीर्घकालिक रोगों के हमारे स्वास्थ्य पर भिन्न-भिन्न प्रभाव होते हैं। कोई भी रोग जो हमारे शरीर के किसी भी भाग के कार्य को प्रभावित करता है, तो वह हमारे सामान्य स्वास्थ्य को भी प्रभावित करेगा। क्योंकि सामान्य स्वास्थ्य के लिए शरीर के सभी अंगों का समुचित कार्य करना आवश्यक है। लेकिन तीव्र रोग, जो बहुत कम समय तक रहता है, उसे सामान्य स्वास्थ्य को प्रभावित करने का समय ही नहीं मिलता। लेकिन दीर्घकालिक रोग हमारे स्वास्थ्य को प्रभावित कर सकता है।

हम बीमार क्यों होते हैं

उदाहरणतः खाँसी-जुकाम के विषय में सोचो जो हम सभी को प्रायः होता रहता है। हममें से अधिकांश लगभग एक सप्ताह में ठीक हो जाते हैं और हमारे स्वास्थ्य पर कोई विशेष कुप्रभाव नहीं पड़ता। खाँसी-जुकाम के कारण हमारा वजन भी कम नहीं होता, हमारी साँस भी नहीं फूलती, हम सदैव थकान भी महसूस नहीं करते। लेकिन यदि हम दीर्घकालिक रोग जैसे- फेफड़ों के क्षय रोग से संक्रमित हो जाएँ तो कई वर्षों तक बीमार होने के कारण वजन कम हो जाता है और हर समय थकान महसूस करते हैं।

यदि आप तीव्र रोग से पीड़ित हैं तो आप कुछ दिनों के लिए विद्यालय नहीं जा सकते हैं लेकिन यदि दीर्घकालिक रोग से पीड़ित हैं तो हमें स्कूल में पढ़ाई को समझने में कठिनाई होगी और हमारे सीखने की क्षमता भी कम हो जाएगी अर्थात् हम काफ़ी समय तक अस्वस्थ रह सकते हैं। इसलिए दीर्घकालिक रोग तीव्र रोग की अपेक्षा लोगों के स्वास्थ्य पर लंबे समय तक विपरीत प्रभाव बनाए रखता है।

13.2.4 रोग के कारक

रोग के क्या कारण हैं? जब हम रोग के कारण के विषय में सोचते हैं तब हमें यह याद रखना चाहिए कि इस कारण के बहुत से स्तर होते हैं। आओ, एक उदाहरण लें। यदि कोई छोटा बच्चा पतले दस्त (loose motions) से ग्रस्त है तो हम कह सकते हैं कि इसका कारण वायरस है। इसलिए रोग का तात्कालिक कारण वायरस है।

लेकिन अगला प्रश्न उठता है—वाइरस कहाँ से आता है ? मान लो कि हमें पता लगता है कि वायरस दूषित जल पीने से आता है। लेकिन अन्य बच्चों ने भी तो दूषित जल पिया है। तब इसका क्या कारण है कि एक बच्चे को ही दस्त लग गया और दूसरों को नहीं?

इसका एक कारण यह हो सकता है कि बच्चा स्वस्थ न हो। जिसके परिणामस्वरूप, ऐसा संभव हुआ कि जब यह बच्चा वायरस के संपर्क में आता

है, तो वह बीमार हो जाता है जबकि अन्य बच्चे नहीं। अब प्रश्न उठता है कि बच्चा स्वस्थ क्यों नहीं है? शायद बच्चे का पोषण ठीक न हो और वह पर्याप्त भोजन नहीं करता हो। अतः पर्याप्त पोषण का न होना ही रोग का दूसरा कारण है। बच्चा पर्याप्त पोषण क्यों नहीं पाता? शायद बच्चे के माता-पिता गरीब हों।

यह भी संभव है कि बच्चे में आनुवंशिक भिन्नता हो जो वायरस के संपर्क में आने पर पतले दस्त से प्रभावित हो जाता है। केवल आनुवंशिक विभिन्नता अथवा कम पोषण भी बिना वायरस के पतले दस्त नहीं उत्पन्न कर सकते। लेकिन ये भी रोग के कारण में सहयोगी बनते हैं।

बच्चे के लिए साफ़ पानी उपलब्ध क्यों नहीं था? शायद जहाँ बच्चे का परिवार रहता है वहाँ पर खराब लोक सेवाओं के कारण साफ़ पानी उपलब्ध न हो। इस प्रकार गरीबी तथा लोक सेवाओं की अनुपलब्धता बच्चे की बीमारी के तीसरे स्तर के कारण हैं।

इस प्रकार अब यह स्पष्ट हो गया है कि सभी रोगों के तात्कालिक कारण तथा सहायक कारण होते हैं। साथ ही विभिन्न प्रकार के रोग होने के एक नहीं बल्कि बहुत से कारण होते हैं।

13.2.5 संक्रामक तथा असंक्रामक कारक

हमने देखा कि जब कभी भी रोग के कारण के विषय में सोचें तो हमें लोक स्वास्थ्य तथा समुदाय स्वास्थ्य संबंधी कारकों को ध्यान में रखना आवश्यक है। हम इस विषय में और चर्चा करते हैं। रोग के तात्कालिक कारणों के विषय में सोचना अच्छा है, क्योंकि ये दोनों भिन्न-भिन्न प्रकार के होते हैं। रोग के कारण का एक वर्ग है, संक्रामक कारक, जो अधिकांशतः सूक्ष्म जीव होते हैं। वह रोग जिनके तात्कालिक कारक सूक्ष्म जीव होते हैं उन्हें संक्रामक रोग कहते हैं। इसका कारण यह है कि सूक्ष्म जीव समुदाय में फैल सकते हैं और इनके कारण होने वाले रोग भी इनके साथ फैल जाते हैं।

इनके विषय में सोचो:

1. क्या रोगी व्यक्ति के संपर्क में आने पर सभी रोग फैल जाते हैं ?
2. ऐसे कौन से रोग हैं जो नहीं फैलते ?
3. मनुष्यों में वे रोग कैसे हो जाते हैं, जो रोगी के संपर्क में आने से नहीं फैलते?

दूसरी तरफ़, कुछ रोग ऐसे होते हैं जो संक्रामक कारकों द्वारा नहीं होते। उनके कारक भिन्न होते हैं। लेकिन वे बाहरी कारक जो सूक्ष्म जीव नहीं होते वे समुदाय में फैल सकते हैं। यद्यपि ये बहुधा आंतरिक एवं असंक्रामक हैं।

उदाहरणतः, कुछ प्रकार के कैंसर आनुवंशिक असामान्यता के कारण होते हैं। उच्च रक्त चाप का कारण अधिक वजन होना तथा व्यायाम न करना है। आप ऐसे ही अन्य रोगों के विषय में सोच सकते हैं जो संक्रामक नहीं हैं।

पेप्टिक व्रण तथा नोबेल पुरस्कार

कई वर्षों से हम यही सोचते थे कि पेप्टिक व्रण, जो आमाशय तथा ग्रहणी में एसिडिटी संबंधित दर्द तथा रक्तस्राव करता है, का कारण रहने-सहने का ढंग है। प्रत्येक व्यक्ति सोचता था कि परेशानी भरे जीवन से आमाशय में एसिड का स्राव होता है जिसके कारण पेप्टिक व्रण हो जाता है।

दो आस्ट्रेलियाई वैज्ञानिकों ने पता लगाया कि एक बैक्टीरिया-*हेलीकोबैक्टर पायलोरी* पेप्टिक व्रण का कारण है। पर्थ, आस्ट्रेलिया के रोग विज्ञानी रॉबिन वॉरेन (जन्म सन् 1937) ने इन छोटे-छोटे वक्राकार बैक्टीरियाओं को अनेक रोगियों के आमाशय के निचले भाग में देखा। बैरी मार्शल (जन्म सन् 1951), एक चिकित्सक ने वॉरेन की खोज में दिलचस्पी ली और उन्होंने इन स्रोतों से बैक्टीरिया का संवर्धन करने में सफलता प्राप्त की।

अपने उपचार अध्ययन में मार्शल तथा वॉरेन ने पता लगाया कि रोगी के पेट्टिक ब्रण का उपचार तभी हो सकता है जब बैक्टीरियाओं को आमाशय में मार दिया जाए। मार्शल तथा वॉरेन के इस अद्भुत कार्य के लिए विश्व समुदाय आभारी है कि पेट्टिक ब्रण अब दीर्घकालिक एवं असहाय स्थिति वाला रोग नहीं रहा, बल्कि कुछ समय तक प्रतिजैविक (एंटीबायोटिक) के उपचार से ठीक हो जाता है।



इस खोज के लिए मार्शल तथा वॉरेन को (चित्र देखें) शरीरक्रिया विज्ञान तथा औषधि (medicine) के लिए सन् 2005 में संयुक्त रूप में नोबेल पुरस्कार प्रदान किया गया।

रोगों के फैलने के तरीके तथा उनके उपचार की विधियाँ तथा सामुदायिक स्तर पर उनके निवारण की विधियाँ विभिन्न रोगों के लिए भिन्न-भिन्न होती हैं। यहाँ पर यह निर्भर करता है कि इनके तात्कालिक कारण संक्रामक हैं अथवा असंक्रामक।

प्रश्न

1. ऐसे तीन कारण लिखिए जिससे आप सोचते हैं कि आप बीमार हैं तथा चिकित्सक के पास जाना चाहते हैं। यदि इनमें से एक भी लक्षण हो तो क्या आप फिर भी चिकित्सक के पास जाना चाहेंगे? क्यों अथवा क्यों नहीं ?

हम बीमार क्यों होते हैं

2. निम्नलिखित में से किसके लंबे समय तक रहने के कारण आप समझते हैं कि आपके स्वास्थ्य पर बुरा प्रभाव पड़ेगा। तथा क्यों?

- यदि आप पीलिया रोग से ग्रस्त हैं।
- यदि आपके शरीर पर जूँ (lice) हैं।
- यदि आप मुँहासों से ग्रस्त हैं।

13.3 संक्रामक रोग

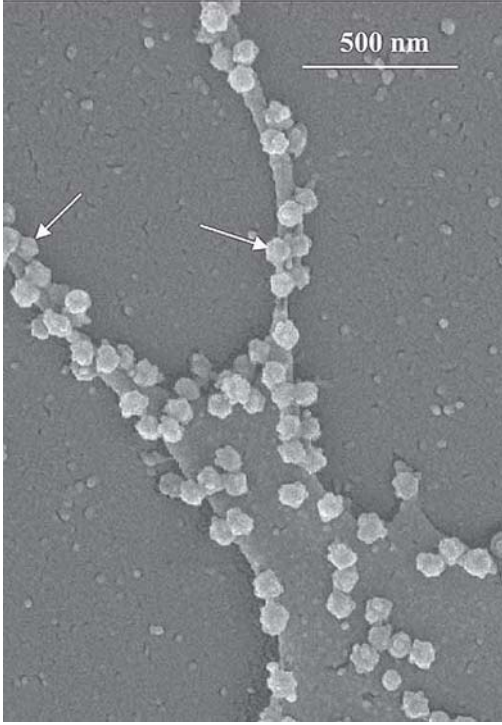
13.3.1 संक्रामक कारक

हमने देखा कि सजीव जगत की संपूर्ण विविधता को कुछ ही वर्गों में विभाजित किया जा सकता है। विभिन्न जीवों का वर्गीकरण कुछ सामान्य गुणों के आधार पर करते हैं। रोग उत्पन्न करने वाले जीव इनमें से अनेक वर्गों के अंतर्गत आते हैं। उनमें से कुछ वाइरस, कुछ बैक्टीरिया, कुछ फंजाई (कवक), कुछ एककोशिक जंतु अथवा प्रोटोजोआ हैं। कुछ रोग बहुकोशिक जीवों, जैसे अनेक प्रकार के कृमि से भी होते हैं।


वाइरस से होने वाले सामान्य रोग हैं खाँसी-जुकाम, इंप्लुएंजा, डेंगु बुखार तथा एड्स (AIDS)। कुछ रोग जैसे कि टायफॉयड बुखार, हैजा, क्षयरोग तथा एंथ्रेक्स बैक्टीरिया द्वारा होते हैं। बहुत से सामान्य त्वचा रोग विभिन्न प्रकार की फंजाई द्वारा होते हैं। प्रोटोजोआ से मलेरिया, तथा कालाजार नामक रोग हो जाते हैं। हम आँत्र कृमि संक्रमण से परिचित हैं। इसी प्रकार फीलपाँव नामक रोग भी कृमि की विभिन्न स्पीशीज़ द्वारा होता है।

यह क्यों महत्वपूर्ण है कि हम संक्रामक कारकों के इन वर्गों के विषय में सोचते हैं? इसका उत्तर यह है कि ये वर्ग उपचार की विधि निर्धारित करते हैं। इन वर्गों के प्रत्येक सदस्यों के जैविक गुणों में समानता है (जैसे वाइरस, बैक्टीरिया आदि)।

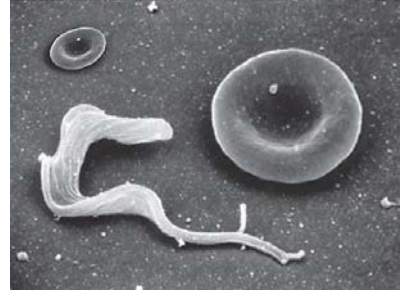
उदाहरणतः, सभी वाइरस, परपोषी की कोशिकाओं में रहते हैं, लेकिन बैक्टीरिया में ऐसा कम ही होता है। वाइरस, बैक्टीरिया तथा फंजाई में गुणन अत्यंत तेजी से



चित्र 13.1(a): संक्रमित कोशिका से बाहर निकलते हुए SARS बैक्टीरिया चित्र में तीर द्वारा इंगित किए गए हैं। चित्र में सफ़ेद रेखा 500 नैनोमीटर माप को दर्शाती है, जो एक माइक्रोमीटर का आधा है। एक माइक्रोमीटर एक मिलीमीटर के एक हजारवें भाग के बराबर है। यह मापचित्र इस बात को दर्शाता है कि हम कितनी सूक्ष्म वस्तुओं को देख रहे हैं।
सौजन्य - इमर्जिंग इंफेक्शंस डिसेज़, सीडीसी यू. एस. का एक जर्नल



चित्र 13.1(b): स्टेफ़ाइलोकोकाई बैक्टीरिया जो मुँहासे का कारक है। ऊपर बाईं ओर की रेखा 5 माइक्रोमीटर माप को प्रदर्शित करती है



चित्र 13.1(c): प्रोटोज़ोआ ट्रिचिनोसोमा यह निद्रालु व्याधि का कारक है। ट्रिचिनोसोमा को तस्तरिनुमा लाल रक्त कोशिका के साथ प्रदर्शित किया गया है जिससे आपको उसके आकार का पता चल सके कॉपीराइट-ओरेगॉज हैल्थ एंड साइंस युनीवर्सिटी, यू.एस.



चित्र 13.1(d): लेशमानिया-कालाज़ार व्याधि कारक प्रोटोज़ोआ। यह जीव अंडाकार तथा प्रत्येक में एक चाबुकनुमा संरचना होती है। विभाजित होते जीव को तीर द्वारा दर्शाया गया है



चित्र 13.1(e): गोलकृमि (एस्केरिस लुंब्रीकॉयडिस) छोटी आँत में पाया जाता है। 4cm के स्केल की माप एक व्यस्क गोलकृमि के आकार के अनुमान के लिए है

होता है जबकि तुलनात्मक रूप से कृमि में गुणन मंद होता है। वर्गीकरण के अनुसार सभी बैक्टीरिया एक-दूसरे से वाइरस की अपेक्षा अधिक निकट होते हैं। ऐसा वाइरस में भी होता है। इसका अर्थ यह है कि अनेक जैव प्रक्रियाएँ सभी बैक्टीरियाओं में समान होती हैं, लेकिन वाइरस वर्ग से भिन्न होंगी। इसके परिणामस्वरूप औषधि जो किसी वर्ग में किसी एक जैव प्रक्रिया को रोकती है तो यह उस वर्ग के अन्य सदस्यों पर भी इसी प्रकार का प्रभाव डालेगी। लेकिन वही औषधि अन्य वर्ग से संबंधित रोगाणुओं पर प्रभाव नहीं डालेगी।

हम एंटीबायोटिक का ही उदाहरण लेते हैं। वे सामान्यतः बैक्टीरिया के महत्वपूर्ण जैव रासायनिक मार्ग को बंद कर देते हैं। उदाहरणतः, बहुत-से बैक्टीरिया अपनी रक्षा के लिए कोशिका भित्ति बना लेते हैं। पेनिसिलीन, एंटीबायोटिक बैक्टीरिया की कोशिका भित्ति बनाने वाली प्रक्रिया को बाधित कर देती है। इसके परिणामस्वरूप बैक्टीरिया कोशिका भित्ति नहीं बना सकते हैं और वे सरलता से मर जाते हैं। मानव की कोशिकाएँ कोशिका भित्ति नहीं बना सकतीं इसलिए पेनिसिलीन का प्रभाव हम पर नहीं होता। पेनिसिलीन ऐसे सभी बैक्टीरिया को प्रभावित करेंगे जिनमें कोशिका भित्ति बनाने की प्रक्रिया होती है। इसी प्रकार बहुत से एंटीबायोटिक बैक्टीरिया की अनेक स्पीशीज़ को प्रभावित करते हैं न कि केवल एक स्पीशीज़ को।

लेकिन वाइरस में ऐसा मार्ग नहीं होता और यही कारण है कि कोई भी एंटीबायोटिक वाइरस संक्रमण पर प्रभावकारी नहीं है। यदि हम खाँसी-जुकाम से ग्रस्त हैं तो एंटीबायोटिक लेने से रोग की तीव्रता अथवा उसकी समय अवधि कम नहीं होती। यद्यपि, यदि वाइरस संक्रमित खाँसी-जुकाम के साथ बैक्टीरिया संक्रमण होता है तब एंटीबायोटिक का उपयोग लाभदायक होगा लेकिन फिर भी एंटीबायोटिक बैक्टीरिया संक्रमण पर ही उपयोगी होगा न कि वाइरस संक्रमण पर।

हम बीमार क्यों होते हैं

क्रियाकलाप 13.5

- पता कीजिए कि आपकी कक्षा में कुछ दिनों पहले कितने विद्यार्थियों को जुकाम/ खाँसी/बुखार हुआ था।
- उनको बीमारी कितने दिनों तक रही ?
- इनमें से कितनों ने एंटीबायोटिक का उपयोग किया (अपने माता-पिता से पूछो कि आपने एंटीबायोटिक लिया अथवा नहीं।)
- जिन्होंने एंटीबायोटिक लिया था वे कितने दिनों तक बीमार रहे ?
- जिन्होंने एंटीबायोटिक नहीं लिया था वे कितने दिनों तक बीमार रहे?
- क्या इन दोनों वर्गों में कोई अंतर है?
- यदि हाँ तो क्यों; यदि नहीं तो क्यों नहीं ?

13.3.2 रोग फैलने के साधन

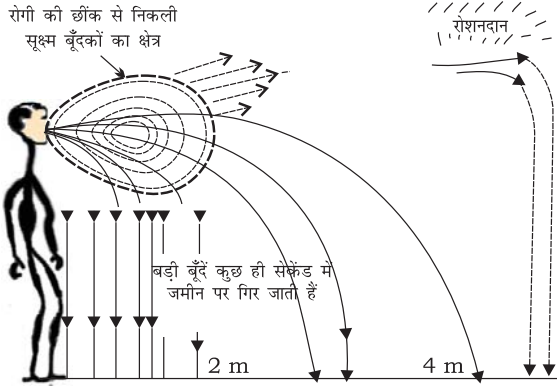
संक्रामक रोग कैसे फैलते हैं? बहुत से सूक्ष्मजीवीय कारक रोगी से अन्य स्वस्थ मनुष्य तक विभिन्न तरीकों से फैलते हैं अर्थात् वे संचारित हो सकते हैं अतः इन्हें संचारी रोग भी कहते हैं।

ऐसे रोगों के सूक्ष्म जीव हवा द्वारा फैलते हैं। ऐसा तब होता है जब रोगी मनुष्य छींकता है अथवा खाँसी करता है। उस समय छोटे-छोटे बूँदक बाहर निकलते हैं। जब उसके समीप कोई अन्य व्यक्ति हो तो श्वास द्वारा ये बूँदक उसके शरीर में प्रवेश कर जाते हैं। इनसे सूक्ष्म जीवों को नए संक्रमण करने का अवसर मिल जाता है। वायु द्वारा फैलने वाले रोगों के उदाहरण हैं खाँसी-जुकाम, निमोनिया तथा क्षय रोग।

हम सभी ने ऐसा अनुभव किया होगा कि जब हम किसी खाँसी-जुकाम से ग्रस्त व्यक्ति के पास बैठते हैं तो हमें भी खाँसी-जुकाम हो जाता है। जहाँ पर अधिक भीड़ होगी वहाँ पर हवा द्वारा फैलने वाले रोग भी अधिक होंगे।

जल द्वारा भी रोग फैल सकते हैं। जब संक्रमणीय रोग यथा हैजा से ग्रसित रोगी के अपशिष्ट पेयजल में मिल जाते हैं और यदि कोई स्वस्थ व्यक्ति जाने-अनजाने

में इस जल को पीता है तो रोगाणुओं को एक नया पोषी मिल जाता है जिससे वह भी इस रोग से ग्रसित हो जाता है। ऐसे रोग अधिकतर साफ़ पेय जल न मिलने के कारण फैलते हैं। छोटी-छोटी बूँदकें वायु वेग के साथ मिनटों से घंटों तक वातावरण में प्रवाहित होती रहती हैं।



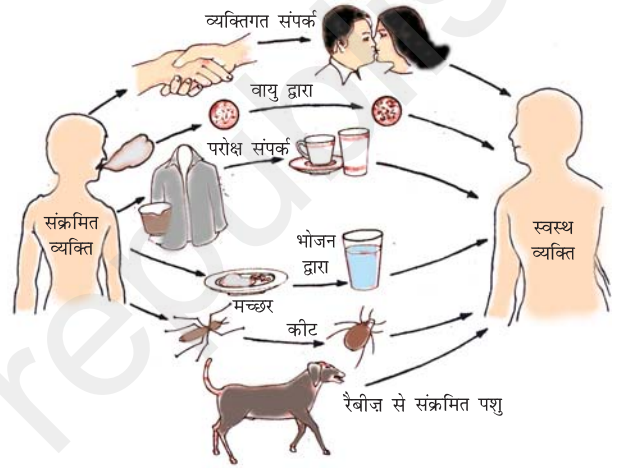
चित्र 13.2: वायु से वाहित रोगों का संक्रमण रोगी के पास खड़े व्यक्ति को होने की अधिक संभावना होती है। अधिक भीड़-भाड़ वाले एवं कम रोशनदान वाले घरों में वायु वाहित रोग होने की संभावना अधिक होती है

लैंगिक क्रियाओं द्वारा दो लोग शारीरिक रूप से एक-दूसरे के संपर्क में आते हैं अतः यह आश्चर्यजनक नहीं है कि कुछ सूक्ष्मजीवीय रोग जैसे सिफलिस अथवा एड्स (AIDS) लैंगिक संपर्क के समय एक साथी से दूसरे साथी में स्थानांतरित हो जाए। यद्यपि ऐसे लैंगिक संचारी रोग सामान्य संपर्क जैसे हाथ मिलाना अथवा गले मिलना अथवा खेलकूद जैसे कुश्ती, अथवा और कोई अन्य विधि जिसमें हम सामाजिक रूप से एक-दूसरे के संपर्क में आते हैं, से नहीं फैलते।

AIDS, लैंगिक संपर्क के अतिरिक्त रक्त स्थानांतरण द्वारा भी संक्रमित होता है; जैसे AIDS से ग्रसित व्यक्ति का रक्त स्वस्थ व्यक्ति को स्थानांतरित किया जाय अथवा गर्भावस्था में रोगी माता से अथवा शिशु को स्तनपान द्वारा।

हम ऐसे पर्यावरण में रहते हैं जिसमें हमारे अतिरिक्त अन्य जीव भी रहते हैं। इसलिए कुछ रोग अन्य जंतुओं

द्वारा भी संचारित होते हैं। ये जंतु रोगाणुओं (संक्रमण करने वाले कारक) को रोगी से लेकर अन्य नए पोषी तक पहुंचा देते हैं। अतः ये मध्यस्थ का काम करते हैं जिन्हें रोगवाहक (वेक्टर) कहते हैं। सामान्य रोगवाहक का मच्छर एक उदाहरण है। मच्छर की बहुत सी ऐसी स्पीशीज़ हैं जिन्हें अत्यधिक पोषण की आवश्यकता होती है जिससे कि वे परिपक्व अंडे उत्पन्न कर सकें। मच्छर अनेक समतापी प्राणियों (जिसमें मनुष्य भी शामिल हैं) पर निर्वाह करता है। इस प्रकार वे एक मनुष्य से दूसरे मनुष्य में रोग को फैलाते हैं।



चित्र 13.3: रोग संक्रमण के सामान्य तरीके

13.3.3 अंग-विशिष्ट तथा ऊतक-विशिष्ट अभिव्यक्ति

विभिन्न साधनों द्वारा रोग उत्पन्न करने वाले सूक्ष्म जीव शरीर में प्रवेश करते हैं। फिर ये कहाँ जाते हैं? सूक्ष्मजीव की अपेक्षा शरीर बहुत बड़ा है। इसलिए हमारे शरीर में बहुत से स्थान, अंग, ऊतक आदि हैं जहाँ ये सूक्ष्मजीव जा सकते हैं। क्या सभी सूक्ष्मजीव एक ही अंग अथवा ऊतक में जाते हैं अथवा वे भिन्न-भिन्न स्थानों पर जाते हैं ?

सूक्ष्मजीव के विभिन्न स्पीशीज़ शरीर के विभिन्न भागों में विकसित होते हैं। ऐसा चुनाव उनके प्रवेश के स्थान पर निर्भर करता है। यदि ये हवा से नाक द्वारा प्रवेश करें तो ये फेफड़ों में जाएँगे। ऐसा बैक्टीरिया से होने वाले क्षय रोग में होता है। यदि ये मुँह के द्वारा प्रवेश करें तो ये आहार नाल में रहेंगे, जैसे टायफायड रोग उत्पन्न करने वाले बैक्टीरिया। अथवा ये यकृत में जाएँगे जैसे हेपेटाइटिस बैक्टीरिया जो पीलिया के कारक हैं।

लेकिन सदैव ऐसा नहीं होता। HIV वाइरस जो लैंगिक अंगों द्वारा शरीर में प्रवेश करता है, लसीका ग्रंथियों में फैलता है। मलेरिया उत्पन्न करने वाले सूक्ष्मजीव जो मच्छर के काटने से शरीर में प्रवेश करते हैं, वे यकृत में जाते हैं; उसके बाद लाल रुधिर कोशिकाओं में आते हैं। इसी प्रकार जापानी मस्तिष्क ज्वर उत्पन्न करने वाला वाइरस भी मच्छर के काटने से शरीर में पहुँचता है। लेकिन यह मस्तिष्क को संक्रमित करता है।

जिस ऊतक अथवा अंग पर सूक्ष्म जीव आक्रमण करता है, रोग के लक्षण तथा चिह्न उसी पर निर्भर करते हैं। यदि फेफड़े पर आक्रमण होता है तब लक्षण खाँसी तथा कम साँस आना होंगे। यदि यकृत पर आक्रमण होता है तब पीलिया होगा। यदि मस्तिष्क पर आक्रमण होता है तब सिरदर्द, उल्टी आना, चक्कर अथवा बेहोशी आना होगा। यदि हम यह जानते हों कि कौन-से ऊतक अथवा अंग पर आक्रमण हुआ है और उनके क्या कार्य हैं तो हम संक्रमण के चिह्न तथा लक्षण का अनुमान लगा सकते हैं।

संक्रामक रोगों के ऊतक-विशिष्ट प्रभाव के अतिरिक्त उनके अन्य सामान्य प्रभाव भी होते हैं। अधिकांश सामान्य प्रभाव इस पर निर्भर करते हैं कि संक्रमण से शरीर का प्रतिरक्षा तंत्र क्रियाशील हो जाए एक सक्रिय प्रतिरक्षा तंत्र प्रभावित ऊतक के चारों ओर रोग उत्पन्न करने वाले सूक्ष्मजीवों को मारने के लिए अनेक कोशिकाएँ बना देता है। नयी कोशिकाओं के बनने के प्रक्रम को शोध कहते हैं। इस प्रक्रम के अंतर्गत स्थानीय प्रभाव जैसे फूलना तथा दर्द होना और सामान्य प्रभाव जैसे बुखार होते हैं।

कुछ मामलों में संक्रमण के विशिष्ट ऊतक अति सामान्य प्रभाव को लक्षित करते हैं। उदाहरणतः HIV संक्रमण में वाइरस प्रतिरक्षा तंत्र में जाते हैं और इसके कार्य को नष्ट कर देते हैं। इस प्रकार HIV-AIDS से बहुत से प्रभाव इसलिए होते हैं क्योंकि हमारा शरीर प्रतिदिन होने वाले छोटे संक्रमणों का मुकाबला नहीं कर पाता है। हलके खाँसी-जुकाम से भी निमोनिया हो सकता है। इसी प्रकार आहार नाल के संक्रमण से रुधिरयुक्त प्रवाहिका हो सकता है। अंततः ये अन्य संक्रमण ही HIV-AIDS के रोगी की मृत्यु के कारण बनते हैं।

हमें यह भी स्मरण रखना आवश्यक है कि रोग की तीव्रता की अभिव्यक्ति शरीर में स्थित सूक्ष्मजीवों की संख्या पर निर्भर करती है। यदि सूक्ष्मजीव की संख्या बहुत कम है तो रोग की अभिव्यक्ति भी कम होगी। यदि उसी सूक्ष्म जीव की संख्या अधिक होगी तो रोग की अभिव्यक्ति इतनी तीव्र होगी कि जीवन को भी खतरा हो सकता है। प्रतिरक्षा तंत्र एक प्रमुख कारक है जो शरीर में जीवित सूक्ष्मजीवों की संख्या को निर्धारित करता है। इस विषय में हम इस अध्याय के अंत में पढ़ेंगे।

13.3.4 उपचार के नियम

जब आप बीमार हो जाते हैं तो आपके कुटुंब के सदस्य क्या करते हैं ? क्या आपने कभी सोचा है कि आप कुछ समय सोने के बाद अच्छा क्यों अनुभव करते हैं? उपचार में दवाई का उपयोग कब करते हैं?

अब तक के ज्ञान के आधार पर ऐसा लगता है कि संक्रामक रोगों के उपचार के दो उपाय हैं। एक तो यह है कि रोग के प्रभाव को कम कर दे और दूसरा रोग के कारण को समाप्त कर दे। पहले, उपाय के लिए हम ऐसा उपचार करते हैं जिससे लक्षण (symptom) कम हो जाते हैं। लक्षण प्रायः शोध (inflammation) के कारण होते हैं। उदाहरण के लिए हम बुखार, दर्द अथवा दस्त को कम करने के

लिए दवाई का उपयोग करते हैं। हम आराम कर ऊर्जा का संरक्षण कर सकते हैं जो हमारे स्वस्थ होने में सहायक होगी।

लेकिन इस प्रकार के लक्षण-आधारित उपचार स्वयं में संक्रामक सूक्ष्मजीवों को समाप्त नहीं करेंगे और रोग ठीक नहीं होंगे। इसके लिए हमें सूक्ष्म जीवों को मारना ही पड़ेगा।

हम सूक्ष्मजीवों को कैसे मारते हैं? सूक्ष्मजीवों को मारने की एक विधि है औषधियों का उपयोग करना। हम पहले ही पढ़ चुके हैं कि सूक्ष्मजीव विभिन्न वर्गों में आते हैं। ये हैं वाइरस, बैक्टीरिया, फंजाई अथवा प्रोटोजोआ। जीवों के प्रत्येक वर्ग में कुछ आवश्यक जैवरासायनिक जैवप्रक्रियाएँ होंगी जो इस वर्ग के लिए विशिष्ट होंगी और अन्य वर्गों में नहीं होंगी। ये प्रक्रियाएँ नए पदार्थ बनाने के विभिन्न चरण अथवा श्वसन हो सकती हैं।

इन मार्गों का उपयोग हम नहीं करते हैं। उदाहरण के लिए, हमारी कोशिकाएँ ऐसे प्रक्रम से नए पदार्थ बना सकती हैं जो बैक्टीरिया के प्रक्रम से भिन्न हों। हमें ऐसी औषधि का उपयोग करना है जो हमारे शरीर को प्रभावित किए बिना ही बैक्टीरिया के संश्लेषी मार्ग को रोक सके। ऐसा एंटीबायोटिक से संभव है। इसी प्रकार कुछ ऐसी औषधियाँ हैं जो मलेरिया के परजीवी प्रोटोजोआ को मारती हैं।

एंटीवाइरल औषधि का बनाना एंटीबैक्टीरियल औषधि के बनाने की अपेक्षा कठिन है। इसका कारण है बैक्टीरिया में अपनी जैव रासायनिक प्रणाली होती है जबकि वाइरस में अपनी जैव रासायनिक प्रणाली बहुत कम होती है। वाइरस हमारे शरीर में प्रवेश करते हैं और अपनी जीवन प्रक्रिया के लिए हमारी मशीनरी का उपयोग करते हैं। इसका अर्थ यह है कि आक्रमण करने के लिए अपेक्षाकृत कम वाइरस विशिष्ट लक्ष्य होते हैं। इन सीमाओं के बावजूद अब प्रभावशाली एंटीवाइरल औषधियाँ भी उपलब्ध हैं, उदाहरण के लिए, HIV संक्रमण को नियंत्रित करने की औषधि।

13.3.5 निवारण के सिद्धांत

अभी तक हमने यह पढ़ा है कि किसी व्यक्ति में कोई रोग है तो संक्रमण से कैसे छुटकारा मिल सकता है। संक्रामक रोगों से छुटकारा पाने की तीन सीमाएँ (कठिनाइयाँ) हैं। पहली यह है कि यदि कोई एक बार बीमार हो जाए तो उनके शारीरिक कार्यों को बहुत हानि होती है और वे फिर पूरी तरह से स्वस्थ नहीं होते। दूसरी यह है कि उपचार में लंबा समय लग सकता है अर्थात् सही उपचार होने पर भी रोगी को बिस्तर पर लंबे समय तक आराम करना पड़ सकता है। तीसरी यह कि संक्रमित रोगी अन्य व्यक्तियों में रोग को फैलाने का स्रोत बन जाए इससे उपरोक्त कठिनाइयाँ और बढ़ जाएँगी। इसीलिए रोगों का निवारण उपचार से अच्छा है।

हम रोगों का निवारण कैसे कर सकते हैं? इसकी दो विधियाँ हैं। एक सामान्य तथा दूसरी रोग विशिष्ट। संक्रमण से बचने की सामान्य विधि है रोगी से दूर रहें। इससे हम संक्रामक सूक्ष्मजीवों से बचाव कर सकते हैं?

यदि हम उनके फैलने की विधियों को जानते हैं तो हमें बड़ी सुगमता होगी। वातोढ़ (वायु द्वारा फैलने वाले) सूक्ष्मजीवों से बचाव के लिए हम खुले स्थानों में रहें और भीड़ भरे स्थानों पर न जाएँ। जलोढ़ (जल द्वारा फैलना) सूक्ष्मजीवों से बचने के लिए हम साफ़ जल पिएँ। इसके लिए आप पानी में स्थित सूक्ष्मजीवों को मारने के लिए उपाय कर सकते हैं। रोग वाहक सूक्ष्मजीवों से बचने के लिए हमें साफ़ पर्यावरण में रहना चाहिए। ऐसे वातावरण में मच्छर उत्पन्न नहीं होते अर्थात् संक्रामक रोगों से बचने के लिए स्वच्छता आवश्यक है।

पर्यावरण से संबंधित विषयों के अतिरिक्त, संक्रामक रोगों से बचने के और भी अन्य सामान्य नियम हैं। नियमों की बात करने से पहले हम एक प्रश्न पूछते हैं जिसकी ओर अभी तक ध्यान नहीं गया है। प्रायः हम

प्रतिदिन संक्रमण से गुजरते हैं। यदि कक्षा में कोई विद्यार्थी खाँसी-जुकाम से पीड़ित है तो ऐसा संभव है कि उसके आस-पास के विद्यार्थी भी संक्रमित हो जाएँ। लेकिन हम सभी वास्तव में रोग से पीड़ित नहीं होते हैं। ऐसा क्यों नहीं होता है?

इसका कारण है हमारे शरीर में स्थित प्रतिरक्षा तंत्र जो रोगाणुओं से लड़ता रहता है। हमारे शरीर में विशिष्ट कोशिकाएँ होती हैं जो रोगाणुओं को मार देती हैं। हमारे शरीर में जैसे ही कोई संक्रामक रोगाणु आता है ये कोशिकाएँ सक्रिय हो जाती हैं। यदि ये उन्हें मार देती हैं तो हमें रोग नहीं होगा। प्रतिरक्षी कोशिकाएँ संक्रमण को फैलने से पहले ही समाप्त कर देती हैं। जैसा कि हमने पहले देखा, यदि रोगाणुओं की संख्या नियंत्रित हो जाती है तो रोग की अभिव्यक्ति बहुत कम होगी। अर्थात्, संक्रामक रोगाणुओं से संक्रमित होने का अर्थ यह नहीं है कि हमें कोई विशेष बीमारी होगी।

गंभीर संक्रामक रोग प्रतिरक्षा तंत्र की असफलता को इंगित करता है। प्रतिरक्षा तंत्र हमारे शरीर में स्थित अन्य तंत्रों की तरह सफल नहीं होगा यदि हमें पर्याप्त भोजन तथा पोषण प्राप्त न हो। इसलिए संक्रामक रोगों से बचने के लिए दूसरी मूल आवश्यकता है उचित मात्रा में सबके लिए भोजन की उपलब्धता।

क्रियाकलाप 13.6

- अपने मोहल्ले में एक सर्वेक्षण करो। दस परिवारों से बात करो जिनका रहन-सहन उच्च स्तर का है जो अच्छी प्रकार रहते हैं, और दस ऐसे परिवार लो जो आपके अनुमान के अनुसार गरीब हैं। इन दोनों परिवारों में बच्चे होने चाहिए जिनकी आयु पाँच वर्ष से कम हो। प्रत्येक बच्चे की ऊँचाई मापो और आयु लिखो तथा एक ग्राफ बनाओ।
- क्या वर्ग में कोई अंतर है? यदि हाँ, तो क्यों?
- यदि उनमें कोई अंतर नहीं है तो क्या आप यह निष्कर्ष निकालते हैं कि स्वास्थ्य के लिए अमीरी तथा गरीबी का कोई महत्त्व नहीं है?

ये संक्रमण से बचने की सामान्य विधियाँ हैं। विशिष्ट विधियाँ क्या हैं? ये प्रतिरक्षा तंत्र के विशिष्ट गुणों से संबंधित है जो प्रायः रोगाणु से लड़ते रहते हैं। इसे समझने के लिए एक उदाहरण लेते हैं।

इन दिनों सारे विश्व में चेचक नहीं है। लेकिन सौ वर्ष पहले चेचक महामारी बहुत होती थी। ऐसी स्थिति में लोग रोगी के पास आने से डरते थे। क्योंकि उन्हें डर होता था कि उन्हें भी चेचक न हो जाए।

लेकिन एक ऐसा भी वर्ग था जो चेचक से नहीं डरता था। यह वर्ग चेचक के रोगी की सेवा करता था। यह वह वर्ग था जिन्हें बहुत भयानक चेचक हुआ था। लेकिन फिर भी जीवित रहे, लेकिन उनके शरीर पर चेचक के बहुत से दाग थे। अर्थात्, यदि आपको एक बार चेचक हो जाए तो आपको चेचक रोग पुनः होने की संभावना नहीं होती। इसलिए एक बार रोग होने पर उसी रोग से बचने की यह एक विधि है।

ऐसा इसलिए होता है कि जब रोगाणु प्रतिरक्षा तंत्र पर पहली बार आक्रमण करते हैं तो प्रतिरक्षा तंत्र रोगाणुओं के प्रति क्रिया करता है और फिर इसका विशिष्ट रूप से स्मरण कर लेता है। इस प्रकार जब वही रोगाणु या उससे मिलता-जुलता रोगाणु संपर्क में आता है तो पूरी शक्ति से उसे नष्ट कर देता है। इससे पहले संक्रमण की अपेक्षा दूसरा संक्रमण शीघ्र ही समाप्त हो जाता है। यह प्रतिरक्षाकरण के नियम का आधार है।

अब हम कह सकते हैं कि टीकाकरण का सामान्य नियम यह है कि शरीर में विशिष्ट संक्रमण प्रविष्ट कराकर प्रतिरक्षा तंत्र को 'मूर्ख' बना सकते हैं। वह उन रोगाणुओं की नकल करता है जो टीके के द्वारा शरीर में पहुँचे हैं। यह वास्तव में रोग नहीं करते लेकिन यह वास्तव में रोग करने वाले रोगाणुओं को उसके बाद रोग करने से रोकता है।

प्रतिरक्षा



परंपरा के अनुसार भारतीय तथा चीनी चिकित्सकीय तंत्र में कभी-कभी जानबूझ कर चेचक से पीड़ित व्यक्ति तथा स्वस्थ व्यक्ति की त्वचा को आपस में रगड़ते थे। उन्हें इससे ऐसी आशा थी कि इसके कारण से चेचक के मंद रोगाणु स्वस्थ व्यक्ति के शरीर में रोग के प्रति प्रतिरोधक क्षमता उत्पन्न कर देंगे।

दो सौ वर्ष पूर्व एक इंग्लिश चिकित्सक, जिसका नाम एडवर्ड जेनर था, ने पता लगाया कि ग्वाले जिन्हें गो-चेचक हुई है उन्हें महामारी के समय भी चेचक नहीं हई। गौ-चेचक मन्द रोग है। जेनर ने जान बूझकर लोगों को गौ-चेचक दिया (जैसा कि तस्वीर में दिखाया गया है)। इससे उन्होंने पाया कि अब वे लोग चेचक के प्रतिरोधी हैं। इसका कारण यह है कि चेचक का बैक्टीरिया गौ-चेचक के वाइरस का निकट संबंधी है। लैटिन में cow (गाय) का अर्थ है 'वाक्का' तथा cowpox (गौ-चेचक) का अर्थ है 'वैक्सीनिया'। इस आधार पर वैक्सीन अर्थात् टीका शब्द आया है, जिसका हम आजकल उपयोग करते हैं।

ऐसे बहुत से टीके आजकल उपलब्ध हैं जो संक्रामक रोगों का निवारण करते हैं और रोग निवारण का विशिष्ट साधन प्रदान करते हैं। टेटनस, डिप्थीरिया, कुकर खाँसी, चेचक, पोलियो आदि के टीके उपलब्ध हैं। यह बच्चों की संक्रामक रोगों से रक्षा करने के लिए सरकारी स्वास्थ्य कार्यक्रम है।

ऐसे कार्यक्रम तभी सफल होते हैं जबकि ऐसी स्वास्थ्य सुविधाएँ सभी बच्चों को प्राप्त हों। क्या आप इसका कारण सोच सकते हैं कि ऐसा क्यों होना चाहिए?

हिपेटाइटिस के कुछ वाइरस जिससे पीलिया होता है पानी द्वारा संचारित होता है। हिपेटाइटिस 'A' के लिए टीका उपलब्ध है। लेकिन देश के अधिकांश भागों में जब बच्चे की आयु पाँच वर्ष हो जाती है तब तक वह हिपेटाइटिस 'A' के प्रति प्रतिरक्षी हो चुका होता है। इसका कारण यह है कि वह पानी के द्वारा वाइरस के प्रभाव में आ चुका हो। इन परिस्थितियों में क्या आप टीका लगवाएँगे ?

क्रियाकलाप 13.7

- संक्रामित कुत्ते तथा अन्य जंतुओं के काटने से रैबीज वाइरस फैलता है। मनुष्य तथा जंतु दोनों के लिए प्रति-रैबीज टीके उपलब्ध हैं। पता करो कि आपके पास-पड़ोस में स्थानीय प्रशासन रैबीज को फैलने से रोकने के लिए क्या कर रहा है? क्या ये उपाय पर्याप्त हैं? यदि नहीं तो आप इसके सुधार के लिए क्या सुझाव देंगे?

प्रश्न

1. जब आप बीमार होते हैं तो आपको सुपाच्य तथा पोषणयुक्त भोजन करने का परामर्श क्यों दिया जाता है?
2. संक्रामक रोग फैलने की विभिन्न विधियाँ कौन-कौन सी हैं ?
3. संक्रामक रोगों को फैलने से रोकने के लिए आपके विद्यालय में कौन-कौन सी सावधानियाँ आवश्यक हैं?
4. प्रतिरक्षीकरण क्या है ?
5. आपके पास में स्थित स्वास्थ्य केंद्र में टीकाकरण के कौन-से कार्यक्रम उपलब्ध हैं? आपके क्षेत्र में कौन-कौन सी स्वास्थ्य संबंधी मुख्य समस्या है?



आपने क्या सीखा

- स्वास्थ्य व्यक्ति की शारीरिक, मानसिक तथा सामाजिक जीवन की एक समग्र समन्वयित अवस्था है।
- किसी का स्वास्थ्य उसके भौतिक पर्यावरण तथा आर्थिक अवस्था पर निर्भर करता है।
- रोगों की अवधि के आधार पर इसे तीव्र तथा दीर्घकालिक दो वर्गों में विभाजित कर सकते हैं।
- रोग के कारक संक्रामक अथवा असंक्रामक हो सकते हैं।
- संक्रामक कारक जीवों के विभिन्न वर्ग से हो सकते हैं। ये एककोशिक सूक्ष्मजीव अथवा बहुकोशिक हो सकते हैं।
- रोग का उपचार उसके कारक रोगाणु के वर्ग के आधार पर किया जाता है।
- संक्रामक कारक वायु, जल, शारीरिक संपर्क अथवा रोगवाहक द्वारा फैलते हैं।
- रोगों का निवारण सफल उपचार की अपेक्षा अच्छा है।
- संक्रामक रोगों का निवारण जन स्वास्थ्य स्वच्छता विधियों द्वारा किया जा सकता है जिससे संक्रामक कारक कम हो जाते हैं।
- टीकाकरण द्वारा संक्रामक रोगों का निवारण किया जा सकता है।
- संक्रामक रोगों के निवारण को प्रभावशाली बनाने के लिए आवश्यक है कि सार्वजनिक स्वच्छता तथा टीकाकरण की सुविधा सभी को उपलब्ध हो।

अभ्यास



1. पिछले एक वर्ष में आप कितनी बार बीमार हुए? बीमारी क्या थीं?
 - (a) इन बीमारियों को हटाने के लिए आप अपनी दिनचर्या में क्या परिवर्तन करेंगे?
 - (b) इन बीमारियों से बचने के लिए आप अपने पास-पड़ोस में क्या परिवर्तन करना चाहेंगे?
2. डॉक्टर/नर्स/स्वास्थ्य कर्मचारी अन्य व्यक्तियों की अपेक्षा रोगियों के संपर्क में अधिक रहते हैं। पता करो कि वे अपने-आपको बीमार होने से कैसे बचाते हैं?

3. अपने पास-पड़ोस में एक सर्वेक्षण कीजिए तथा पता लगाइए कि सामान्यतः कौन-सी तीन बीमारियाँ होती हैं? इन बीमारियों को फैलने से रोकने के लिए अपने स्थानीय प्रशासन को तीन सुझाव दीजिए।
4. एक बच्चा अपनी बीमारी के विषय में नहीं बता पा रहा है। हम कैसे पता करेंगे कि
 - (a) बच्चा बीमार है?
 - (b) उसे कौन-सी बीमारी है?
5. निम्नलिखित किन परिस्थितियों में कोई व्यक्ति पुनः बीमार हो सकता है? क्यों?
 - (a) जब वह मलेरिया से ठीक हो रहा है।
 - (b) वह मलेरिया से ठीक हो चुका है और वह चेचक के रोगी की सेवा कर रहा है।
 - (c) मलेरिया से ठीक होने के बाद चार दिन उपवास करता है और चेचक के रोगी की सेवा कर रहा है?
6. निम्नलिखित में से किन परिस्थितियों में आप बीमार हो सकते हैं? क्यों?
 - (a) जब आपकी परीक्षा का समय है?
 - (b) जब आप बस तथा रेलगाड़ी में दो दिन तक यात्रा कर चुके हैं?
 - (c) जब आप का मित्र खसरा से पीड़ित है।
7. यदि आप किसी एक संक्रामक रोग के टीके की खोज कर सकते हो तो आप किसको चुनते हैं ?
 - (a) स्वयं की ?
 - (b) अपने क्षेत्र में फैले एक सामान्य रोग की। क्यों ?

अध्याय 14

प्राकृतिक संपदा (Natural Resources)

हम जानते हैं कि हमारी पृथ्वी ही एक ऐसा ग्रह है जहाँ जीवन विद्यमान है। पृथ्वी पर जीवन बहुत सारे कारकों पर निर्भर करता है। हम यह भी जानते हैं कि जीवन के लिए परिवेश ताप, जल तथा भोजन की आवश्यकता होती है। पृथ्वी पर उपलब्ध सभी प्रकार के जीवों की मूल आवश्यकताओं की पूर्ति के लिए सूर्य से ऊर्जा तथा पृथ्वी पर उपलब्ध संपदा की आवश्यकता होती है।

पृथ्वी पर ये संपदा कौन-कौन सी हैं?

ये स्थल, जल एवं वायु हैं। पृथ्वी की सबसे बाहरी परत को स्थलमंडल कहते हैं। पृथ्वी के 75 प्रतिशत भाग पर जल है। यह भूमिगत जल के रूप में भी पाया जाता है। इन सभी को जलमंडल कहते हैं। वायु जो पूरी पृथ्वी को कंबल के समान ढके रहती है, उसे वायुमंडल कहते हैं। जीवित पदार्थ वहीं पाए जाते हैं जहाँ ये तीनों अवयव स्थित होते हैं। जीवन को आश्रय देने वाला पृथ्वी का यह घेरा जहाँ वायुमंडल, स्थलमंडल तथा जलमंडल एक-दूसरे से मिलकर जीवन को संभव बनाते हैं उसे जीवमंडल के नाम से जाना जाता है।

सजीव, जीवमंडल के जैविक घटक को बनाते हैं। वायु, जल और मृदा जीवमंडल के निर्जीव घटक हैं। आइए अब इन अजैव घटकों जो पृथ्वी पर जीवन के संपूषण के लिए आवश्यक हैं, उनकी भूमिका का विस्तृत अध्ययन करते हैं।

14.1 जीवन की श्वास: वायु

हम पहले अध्याय में वायु के घटकों के विषय में पढ़ चुके हैं। यह बहुत-सी गैसों; जैसे-नाइट्रोजन, ऑक्सीजन,

कार्बन डाइऑक्साइड तथा जलवाष्प का मिश्रण है। यह जानना रुचिकर है कि पृथ्वी पर जीवन वायु के घटकों का परिणाम है। शुक्र तथा मंगल जैसे ग्रहों जहाँ कोई जीवन नहीं है, वायुमंडल का मुख्य घटक कार्बन डाइऑक्साइड है। वास्तव में शुक्र तथा मंगल ग्रहों के वायुमंडल में 95 से 97 प्रतिशत तक कार्बन डाइऑक्साइड है।

यूकैरियोटिक कोशिकाओं और बहुत-सी प्रोकैरियोटिक कोशिकाओं को ग्लूकोस अणुओं को तोड़ने तथा उससे ऊर्जा प्राप्त करने के लिए ऑक्सीजन की आवश्यकता होती है जैसा कि हम अध्याय 5 में पढ़ चुके हैं। इसके परिणामस्वरूप कार्बन डाइऑक्साइड की उत्पत्ति होती है। दूसरी प्रक्रिया, जिसके परिणामस्वरूप ऑक्सीजन की खपत होती है और कार्बन डाइऑक्साइड का उत्पादन होता है, दहन की क्रिया है। इसमें केवल मनुष्य के वे क्रियाकलाप ही नहीं जो ऊर्जा प्राप्त करने के लिए ईंधन को जलाते हैं बल्कि जंगलों में लगी आग भी आती है।

इसके अतिरिक्त, हमारे वायुमंडल में कार्बन डाइऑक्साइड की मात्रा 1 प्रतिशत का एक छोटा-सा भाग है क्योंकि कार्बन डाइऑक्साइड दो विधियों से 'स्थिर' होती है: (i) हरे पेड़ पौधे सूर्य की किरणों की उपस्थिति में कार्बन डाइऑक्साइड को ग्लूकोस में बदल देते हैं तथा (ii) बहुत-से समुद्री जंतु समुद्री जल में घुले कार्बोनेट से अपने कवच बनाते हैं।

14.1.1 जलवायु के नियंत्रण में वायुमंडल की भूमिका

हम जान चुके हैं कि वायुमंडल पृथ्वी को कंबल के समान ढके हुए है। हम जानते हैं कि वायु ऊष्मा का

कुचालक है। वायुमंडल पृथ्वी के औसत तापमान को दिन के समय और यहाँ तक कि पूरे वर्षभर लगभग नियत रखता है। वायुमंडल दिन में तापमान को अचानक बढ़ने से रोकता है और रात के समय ऊष्मा को बाहरी अंतरिक्ष में जाने की दर को कम करता है। चंद्रमा के बारे में सोचें जो सूर्य से लगभग उतनी ही दूरी पर है जितना कि पृथ्वी। इसके बावजूद चंद्रमा की सतह, जहाँ वायुमंडल नहीं है, पर तापमान -190°C से 110°C के मध्य रहता है।

क्रियाकलाप _____ 14.1

- निम्नलिखित का ताप मापिए:
 - जल से भरा एक बीकर, (ii) मृदा या बालू से भरा एक बीकर और (iii) एक बंद बोतल लें, जिसमें थर्मामीटर लगा हो। इन सभी को सूर्य के प्रकाश में तीन घंटे तक रखें। अब तीनों बर्तनों के तापमान की माप करें। उसी समय छाया में भी तापमान को देखें।

अब उत्तर दें

- (i) या (ii) में से किसमें तापमान की माप अधिक है?
- प्राप्त निष्कर्ष के आधार पर कौन सबसे पहले गर्म होगा - स्थल या समुद्र?
- क्या छाया में वायु के तापमान बालू तथा जल के तापमान के समान होगा? आप इसके कारण के बारे में क्या सोचते हैं? और तापमान को छाया में क्यों मापा जाता है?
- क्या बंद बोतल या शीशे के बर्तन में लिया गया हवा का तापमान और खुले में लिया गया हवा का तापमान समान है? इसके कारण के बारे में आप क्या सोचते हैं? क्या हम प्रायः इस तरह की घटनाओं से अवगत होते हैं?

जैसा कि हमने देखा बालू तथा जल एकसमान दर से गर्म नहीं होते हैं। आप उनके ठंडा होने की दर के

बारे में क्या सोचते हैं? क्या हम अपने अनुमान की सत्यता के लिए एक प्रयोग कर सकते हैं?

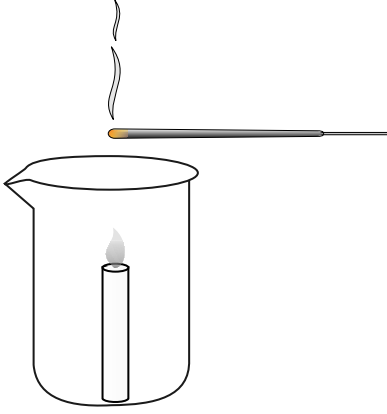
14.1.2 वायु की गति: पवनें

हम दिनभर की गर्मी के बाद शाम को बहने वाले ठंडे समीर से राहत महसूस करते हैं। कभी-कभी कई दिनों तक अधिक गर्म मौसम के पश्चात् वर्षा होती है। वायु की गति का क्या कारण है और वे कौन-से कारक हैं जो उन्हें कभी समीर, कभी तेज़ हवा या कभी तूफ़ान के रूप में गति प्रदान करते हैं? वर्षा का क्या कारण है?

ये सभी प्रक्रियाएँ हमारे वायुमंडल में हवा के गर्म होने और जलवाष्प के बनने का परिणाम हैं। जलवाष्प जीवित प्राणियों के क्रियाकलापों और जल के गर्म होने के कारण बनती है। स्थलीय भाग या जलीय भाग से होने वाले विकिरण के परावर्तन तथा पुनर्विकिरण के कारण वायुमंडल गर्म होता है। गर्म होने पर, वायु में संवहन धाराएँ उत्पन्न होती हैं। संवहन धाराओं की प्रकृति को जानने के लिए आइए निम्नलिखित क्रियाकलाप करें।

क्रियाकलाप _____ 14.2

- एक मोमबत्ती को चौड़े मुँह वाली बोतल में या बीकर में रखें और उसे जलाएँ। एक अगरबत्ती को जलाएँ और उसे बोतल के मुँह के समीप ले जाएँ (चित्र 14.1)।
- जब अगरबत्ती को मुँह के किनारे पर ले जाया जाता है तब अवलोकन करें कि धुआँ किस ओर जाता है?
- जब अगरबत्ती को मोमबत्ती के थोड़ा ऊपर रखा जाता है तब धुआँ किस ओर जाता है?
- दूसरे भागों में जब अगरबत्ती को रखा जाता है तो धुआँ किस ओर जाता है?



चित्र 14.1: वायु के असमान तापन से वायुप्रवाह

धुएँ द्वारा अपनाया गया पैटर्न हमें बताता है कि किस दिशा में गर्म और ठंडी हवाएँ बहती हैं। इसी प्रकार जब वायु स्थल और जल के विकिरण के कारण गर्म होती है तब यह ऊपर की ओर प्रवाह करती है। चूँकि, जल की अपेक्षा स्थल जल्दी गर्म होता है इसलिए स्थल के ऊपर की वायु जल के ऊपर की वायु के अपेक्षा तेजी से गर्म होगी।

इसलिए अगर हम तटीय क्षेत्रों को दिन में देखते हैं तो पाते हैं कि स्थल के ऊपर की वायु तेजी से गर्म होकर ऊपर उठना शुरू करती है। जैसे ही यह वायु ऊपर की ओर उठती है, वहाँ कम दाब का क्षेत्र बन जाता है और समुद्र के ऊपर की वायु कम दाब वाले क्षेत्र की ओर प्रवाहित हो जाती है। एक क्षेत्र से दूसरे क्षेत्र में वायु की गति पवनों का निर्माण करती है। दिन के समय हवा की दिशा समुद्र से स्थल की ओर होगी।

रात के समय स्थल और समुद्र दोनों ठंडे होने लगते हैं। चूँकि स्थल की अपेक्षा जल धीरे-धीरे ठंडा होता है इसलिए जल के ऊपर की वायु स्थल के ऊपर की वायु से गर्म होगी। ऊपर दी गई परिचर्चा के आधार पर आप निम्न के विषय में क्या कह सकते हैं:

1. तटीय क्षेत्रों पर कम तथा उच्च दाब के क्षेत्र रात में प्रतीत होते हैं?

2. तटीय क्षेत्रों में रात के समय वायु की दिशा क्या होगी?

इसी प्रकार, हवा की सभी गतियाँ विभिन्न वायुमंडलीय प्रक्रियाओं का परिणाम है जो पृथ्वी के वायुमंडल के असमान विधियों से गर्म होने के कारण होता है। लेकिन इन हवाओं को बहुत-से अन्य कारक भी प्रभावित करते हैं जैसे पृथ्वी की घूर्णन गति तथा पवन के मार्ग में आने वाली पर्वत श्रृंखलाएँ। हम इन कारकों के बारे में इस अध्याय में विस्तृत अध्ययन नहीं करेंगे। लेकिन इसके बारे में सोचते हैं: कैसे हिमालय की उपस्थिति से इलाहाबाद से उत्तर की ओर प्रवाहित होने वाली वायु की दिशा परिवर्तित हो जाती है?

14.1.3 वर्षा

आइए हम इस प्रश्न पर विचार करें कि बादल कैसे बनते हैं और वर्षा करते हैं। हम इसके लिए एक साधारण प्रयोग कर सकते हैं जिससे ज्ञात हो सके कि कुछ कारक जलवायु को कैसे प्रभावित करते हैं।

क्रियाकलाप 14.3

- एक पतले प्लास्टिक की बोतल लें। इसमें 5 से 10 mL जल लें तथा बोतल को कस कर बंद करें। इसे अच्छी तरह हिलाएँ तथा 10 मिनट तक धूप में रखें। इससे बोतल में मौजूद वायु जलवाष्प से संतृप्त हो जाती है।
- अब एक जली हुई अगरबत्ती लें। बोतल के ढक्कन को खोलें और अगरबत्ती के धुएँ की कुछ मात्रा को बोतल के अंदर जाने दें। पुनः बोतल को कस कर बंद करें। बोतल को अपने हथेलियों के बीच में रखकर जितना जोर से हो सके दबाएँ। कुछ समय तक प्रतीक्षा करें और बोतल को छोड़ दें। एक बार पुनः बोतल को आप जितना जोर से संभव हो सकता है दबाएँ।

अब उत्तर दें

1. आपने कब देखा कि बोतल के अंदर स्थित हवा कुहरे की भाँति हो जाती है?


2. यह कुहासा कब समाप्त होता है?
3. बोतल के अंदर दाब कब अधिक है?
4. कुहासा दिखाई देने की स्थिति में, बोतल के अंदर का दाब कम है या अधिक है?
5. इस प्रयोग के लिए बोतल के भीतर धुएँ की आवश्यकता क्यों है?
6. क्या होगा जब आप इस प्रयोग को बिना अगरबत्ती के धुएँ के करेंगे? अब ऐसा प्रयत्न करें और देखें कि परिकल्पना सही थी या गलत।

बहुत छोटे स्तर पर उपरोक्त प्रयोग को दोहराएँ, क्या होता है जब जलवाष्प से भरी हुई वायु उच्च दाब वाले क्षेत्र से कम दाब वाले क्षेत्र में या इसके विपरीत प्रवाहित होती है।

दिन के समय जब जलीय भाग गर्म हो जाते हैं, तब बहुत बड़ी मात्रा में जलवाष्प बन जाती है और यह वाष्प वायु में प्रवाहित हो जाती है। जलवाष्प की कुछ मात्रा विभिन्न जैविक क्रियाओं के कारण वायुमंडल में चली जाती है। यह वायु भी गर्म हो जाती है। गर्म वायु अपने साथ जलवाष्प को लेकर ऊपर की ओर उठ जाती है। जैसे ही वायु ऊपर की ओर जाती है यह फैलती है तथा ठंडी हो जाती है। ठंडा होने के कारण हवा में उपस्थित जलवाष्प छोटी-छोटी जल की बूँदों के रूप में संघनित हो जाती है। जल का यह संघनन सहज होता है यदि कुछ कण नाभिक की तरह कार्य करके अपने चारों ओर बूँदों को जमा होने देते हैं। सामान्यतः वायु में उपस्थित धूल के कण तथा दूसरे निलंबित कण नाभिक के रूप में कार्य करते हैं।

एक बार जब जल की बूँदें निर्मित हो जाती हैं तो वे संघनित होने के कारण बड़ी हो जाती हैं। जब ये बूँदें बड़ी और भारी हो जाती हैं तब ये वर्षा के रूप में नीचे की ओर गिरती हैं। कभी-कभी जब वायु का तापमान काफी कम हो जाता है तब ये हिमवृष्टि अथवा ओले के रूप में अवक्षेपित हो जाती हैं।

वर्षा का पैटर्न, पवनों के पैटर्न पर निर्भर करता है। भारत के बहुत बड़े भू-भाग में अधिकतर वर्षा दक्षिण पश्चिम या उत्तर पूर्वी मानसून के कारण होती है। हमने मौसम सूचनाओं में भी सुना है कि बंगाल की खाड़ी पर वायु का दबाव कम होने के कारण कई क्षेत्रों में वर्षा हुई।



चित्र 14.2: भारत पर आच्छादित बादलों का उपग्रह द्वारा प्रदर्शित चित्र

क्रियाकलाप 14.4

- पूरे देश में होने वाली वर्षा के पैटर्न के बारे में समाचारपत्र या टेलीविजन के माध्यम से मौसम सूचनाओं की जानकारी एकत्र करें। यह भी पता लगाएँ कि एक वर्षा-मापक यंत्र कैसे बनाया जाता है और उसे बनाएँ। वर्षा-मापक यंत्र से सही डाटा प्राप्त करने के लिए कौन-कौन से सुरक्षात्मक उपाय करने आवश्यक हैं? अब निम्नलिखित प्रश्नों के उत्तर दें :
 - (i) किस महीने में आपके शहर/नगर/गाँव में सबसे अधिक वर्षा हुई?
 - (ii) किस महीने में आपके राज्य/केंद्र शासित प्रदेश में सबसे अधिक वर्षा हुई?
 - (iii) क्या वर्षा हमेशा बादल गरजने और बिजली चमकने के साथ होती है? अगर नहीं तो किस मौसम में सबसे अधिक वर्षा, बादल गरजने और बिजली चमकने के साथ होती है?

क्रियाकलाप 14.5


- पुस्तकालय से मानसून और चक्रवात के बारे में और अधिक जानकारी एकत्र करें। किसी दूसरे

देश की वर्षा के पैटर्न का पता लगाएँ। क्या पूरे विश्व में वर्षा के लिए मानसून उत्तरदायी होता है?

14.1.4 वायु प्रदूषण

हम समाचारों में प्रायः सुनते हैं कि नाइट्रोजन और सल्फर के ऑक्साइड का स्तर बढ़ रहा है। लोग प्रायः दुःख प्रकट करते हैं कि उनके बचपन से लेकर अभी तक वायु की गुणवत्ता में कमी आई है। वायु की गुणवत्ता कैसे प्रभावित होती है और इस गुणवत्ता में आए परिवर्तन हमें और दूसरे जीवों को कैसे प्रभावित करते हैं?

जीवाश्म ईंधन जैसे कोयला और पेट्रोलियम पदार्थों में नाइट्रोजन और सल्फर की बहुत कम मात्रा होती है। जब ये ईंधन जलते हैं तब नाइट्रोजन और सल्फर भी इसके साथ जलते हैं तथा यह नाइट्रोजन और सल्फर के विभिन्न ऑक्साइड उत्पन्न करते हैं। इन गैसों का केवल साँस के रूप में लेना ही खतरनाक नहीं है बल्कि ये वर्षा के जल में मिलकर अम्लीय वर्षा भी करते हैं। जीवाश्म ईंधनों का दहन वायु में निलंबित कणों की मात्रा को भी बढ़ा देता है। ये निलंबित कण बिना जले कार्बन कण या पदार्थ हो सकते हैं जिन्हें हाइड्रोकार्बन कहा जाता है। इन सभी प्रदूषकों की अधिक मात्रा में उपस्थिति दृश्यता को कम करती है विशेषकर सर्दी के मौसम में जब जल भी वायु के साथ संघनित होता है। इसे धूम कोहरा कहते हैं तथा



चित्र 14.3: लाइकेन

ये वायु प्रदूषण की ओर संकेत करते हैं अध्ययनों से पता चलता है कि इन पदार्थों वाली वायु में साँस लेने से कैंसर, हृदय रोग या एलर्जी जैसी बीमारियाँ होने की संभावनाएँ अधिक हो जाती हैं। वायु में स्थित इन हानिकारक पदार्थों की वृद्धि को वायु प्रदूषण कहते हैं।

क्रियाकलाप _____ 14.6

- लाइकेन नामक जीव वायु में उपस्थित सल्फर डाइऑक्साइड के स्तर के प्रति अधिक संवेदी होते हैं। जैसा कि अनुभाग 7.3.3 में बताया जा चुका है। ये प्रायः पेड़ों की छालों पर पतले हरे और सफ़ेद रंग की परत के रूप में पाए जाते हैं। यदि आपके आस-पास पेड़ों पर लाइकेन है तो उसे आप देख सकते हैं।
- वयस्त सड़क के समीप पेड़ पर स्थित लाइकेन और कुछ दूरी पर स्थित पेड़ पर स्थित लाइकेन की तुलना करें।
- सड़क के समीप स्थित पेड़ों पर, सड़क की ओर की सतहों पर लगे लाइकेन की तुलना सड़क की विपरीत दिशा की ओर वाली सतहों पर लगे लाइकेन से करें।

ऊपर प्राप्त लक्षणों के आधार पर आप सड़क के किनारे या दूर प्रदूषण फैलाने वाले पदार्थों के स्तर के विषय में क्या कह सकते हैं?

प्रश्न

1. शुक्र और मंगल ग्रहों के वायुमंडल से हमारा वायुमंडल कैसे भिन्न है?
2. वायुमंडल एक कंबल की तरह कैसे कार्य करता है?
3. वायु प्रवाह (पवन) के क्या कारण हैं?
4. बादलों का निर्माण कैसे होता है?
5. मनुष्य के तीन क्रियाकलापों का उल्लेख करें जो वायु प्रदूषण में सहायक हैं।

14.2 जल: एक अद्भुत द्रव

जल पृथ्वी की सतह के सबसे बड़े भाग पर उपस्थित है और यह भूमिगत भी होता है। जल की कुछ मात्रा

जलवाष्प के रूप में वायुमंडल में भी पाई जाती है। पृथ्वी की सतह पर पाया जाने वाला अधिकतर जल समुद्र और महासागरों में है तथा यह खारा है। शुद्ध जल बर्फ के रूप में दोनों ध्रुवों पर और बर्फ से ढके पहाड़ों पर पाया जाता है। भूमिगत जल और नदियों, झीलों और तालाबों का जल भी शुद्ध होता है। फिर भी इस जल की उपलब्धता विभिन्न स्थानों पर भिन्न-भिन्न होती है। गर्मी में अधिकतर स्थानों पर जल की कमी होती है। ग्रामीण इलाकों में जहाँ जल आपूर्ति की व्यवस्था नहीं है वहाँ लोगों का अधिकतर समय दूर से जल लाने में व्यय होता है।

क्रियाकलाप _____ 14.7

- बहुत से नगर निगम जल की उपलब्धता को बढ़ाने के लिए जल-संग्रहण की तकनीकों पर कार्य कर रहे हैं।
- पता लगाइए ये कौन-सी तकनीक हैं तथा ये उपयोग के लिए उपलब्ध जल की मात्रा बढ़ाने में किस प्रकार सहायक हैं।

लेकिन जल इतना अधिक आवश्यक क्यों है? तथा क्या सभी प्राणियों को जल की आवश्यकता है? सभी कोशिकीय प्रक्रियाएँ जलीय माध्यम में होती हैं। सभी प्रतिक्रियाएँ जो हमारे शरीर में या कोशिकाओं के अंदर होती हैं, वह जल में घुले हुए पदार्थों में होती हैं। शरीर के एक भाग से दूसरे भाग में पदार्थों का संवहन घुली हुई अवस्था में होता है। इसलिए जीवित प्राणी जीवित रहने के लिए अपने शरीर में जल की मात्रा को संतुलित बनाए रखते हैं। स्थलीय जीवों को जीवित रहने के लिए शुद्ध जल की आवश्यकता होती है क्योंकि खारे जल में नमक की अधिक मात्रा होने के कारण जीवों का शरीर उसे सहन नहीं कर पाता है। इसलिए प्राणियों और पौधों को पृथ्वी पर जीवित रहने के लिए आसानी से जल उपलब्ध के स्रोत आवश्यक हैं।

क्रियाकलाप _____ 14.8

- किसी नदी, तालाब या झील के समीप एक छोटे स्थान को चुनें। मान लें एक वर्गमीटर इस क्षेत्र में पाए जाने वाले विभिन्न पौधों एवं जंतुओं की संख्या को गिनें। प्रत्येक स्पीशीज की अलग-अलग गणना करें।
- इसकी तुलना सूखे और पथरीले भाग के उतने ही बड़े क्षेत्र में पाए जाने वाले जंतुओं और पौधों से करें।
- क्या दोनों क्षेत्रों में पाए जाने वाले पौधे और जंतु एक ही प्रकार के हैं?

क्रियाकलाप _____ 14.9

- अपने विद्यालय के समीप या किसी प्रयोग में न आने वाली भूमि को चुनें (लगभग एक वर्ग मीटर) और उसे चिह्नित करें।
- उसी प्रकार उस क्षेत्र में पाए जाने वाले विभिन्न जंतुओं और पौधों तथा प्रत्येक स्पीशीज के जीवों की संख्याओं की गणना करें।
- उसी स्थान की गणना वर्ष में दो बार करें, एक बार गर्मी या सूखे मौसम में और दूसरी बार बरसात के मौसम के बाद।

अब उत्तर दें

1. क्या दोनों बार संख्याएँ समान थीं?
2. किस मौसम में आपने विभिन्न प्रकार के पौधों और जंतुओं की अधिकता पाई?
3. प्रत्येक प्रकार के जीवों की संख्या किस मौसम में अधिक थी?

उपरोक्त दोनों क्रियाकलापों के परिणामों को संकलित करने के बाद आप विचार करें कि क्या जल की मात्रा की उपलब्धता का संबंध पौधों और जंतुओं के प्रकार तथा उनकी संख्या से है जो एक निश्चित या दिए हुए स्थान में रह सकते हैं। अगर संबंध है, तो बताएँ कि आप किस क्षेत्र में सबसे अधिक प्रकार और जीवन की उपलब्धता पाएँगे — 200 cm वर्षा वाले क्षेत्र में या 5 cm वर्षा वाले क्षेत्र में? एटलस में वर्षा के पैटर्न

वाले मानचित्र को देखें और यह बताएँ कि भारत के किस राज्य में सबसे अधिक जैव विभिन्नता होगी और किस राज्य में कम। अनुमान सही है या गलत इसकी जाँच करने के लिए क्या हम किसी विधि पर विचार कर सकते हैं?

जल की उपलब्धता प्रत्येक स्पीशीज़ के वर्ग जो कि एक विशेष क्षेत्र में जीवित रहने में सक्षम है, की संख्या को ही निर्धारित नहीं करती है अपितु यह वहाँ के जीवन में विविधता को भी निर्धारित करती है। यद्यपि जल की उपलब्धता ही केवल एक कारक नहीं है जो उस क्षेत्र में जीवन के लिए आवश्यक है। दूसरे कारक जैसे तापमान और मिट्टी की प्रकृति भी महत्वपूर्ण हैं। लेकिन जल एक महत्वपूर्ण संपदा है, जो जीवन को स्थल पर निर्धारित करता है।

14.2.1 जल प्रदूषण

जल उन कीटनाशकों और उर्वरकों को भी घोल लेता है जिसका उपयोग हम खेतों में करते हैं। अतः इन पदार्थों का कुछ प्रतिशत भाग जल में चला जाता है। हमारे शहर या नगर के नाले का जल और उद्योगों का कचरा भी नदियों तथा झीलों में संग्रहित हो जाता है। कुछ विशेष उद्योगों की बहुत सारी क्रियाओं में शीतलता बनाए रखने के लिए जल का प्रयोग किया जाता है तथा इस प्रकार निष्पादित गर्म जल को जलाशय में वापस लौटा दिया जाता है। जब बाँध से जल को छोड़ा जाता है तब नदियों के जल के तापमान पर भी प्रभाव पड़ता है। गहरे जलाशय के अंदर का जल सूर्य के द्वारा गर्म ऊपर की सतह के जल की तुलना में शीतल होगा।

ये सभी जलाशयों में पाए जाने वाले जीवों के प्रकार को विभिन्न प्रकार से प्रभावित कर सकते हैं। ये कुछ जीवों की वृद्धि को प्रोत्साहित करते हैं, तो कुछ को हानि पहुँचा सकते हैं। ये इस प्रणाली में उपस्थित विभिन्न जीवों के संतुलन को बिगाड़ सकते हैं।

प्राकृतिक संपदा

अतः हम निम्नलिखित प्रभावों को दिखाने के लिए जल-प्रदूषण शब्द का प्रयोग करते हैं।

1. जलाशयों में अनैच्छिक पदार्थों का मिलना। ये पदार्थ पीड़कनाशी या उर्वरक हो सकते हैं जो खेतों में उपयोग होते हैं, या वे कागज़ उद्योग में प्रयुक्त होने वाले विषैले पदार्थ जैसे पारा के लवण हो सकते हैं। ये बीमारी फैलाने वाले जीव जैसे हैज़ा फैलाने वाले बैक्टीरिया भी हो सकते हैं।
2. इच्छित पदार्थों को जलाशयों से हटाना। घुली हुई ऑक्सीजन जल में रहने वाले पौधों और जंतुओं के द्वारा उपयोग की जाती है। किसी भी तरह का परिवर्तन जो इस घुली हुई ऑक्सीजन की मात्रा को कम करता है उसका जलीय जीवों पर विपरीत प्रभाव पड़ता है। जलाशय से अन्य पोषक की कमी भी हो सकती है।
3. तापमान में परिवर्तन। जलीय जीव जिस जलाशय में रहते हैं वे वहाँ के एक विशिष्ट तापमान के अनुकूल होते हैं और उस तापमान में अचानक परिवर्तन उनके लिए खतरनाक होगा या प्रजनन की प्रक्रिया को प्रभावित करेगा। विभिन्न प्रकार के जंतुओं के अंडे और लार्वा तापमान परिवर्तन के प्रति संवेदनशील होते हैं।

प्रश्न

1. जीवों को जल की आवश्यकता क्यों होती है?
2. जिस गाँव/शहर/नगर में आप रहते हैं वहाँ पर उपलब्ध शुद्ध जल का मुख्य स्रोत क्या है?
3. क्या आप किसी क्रियाकलाप के बारे में जानते हैं जो इस जल के स्रोत को प्रदूषित कर रहा है?

14.3 मृदा में खनिज की प्रचुरता

एक क्षेत्र में जीवन की विविधता को निर्धारित करने वाला एक महत्वपूर्ण संपदा मृदा है। लेकिन मृदा (मिट्टी) क्या है और यह कैसे बनती है? पृथ्वी की

सबसे बाहरी परत को भू-पृष्ठ कहा जाता है और इस परत में पाए जाने वाले खनिज जीवों को विभिन्न प्रकार के पालन-पोषण करने वाले तत्व प्रदान करते हैं। लेकिन यदि ये खनिज बड़े पत्थरों के साथ संलग्न होते हैं तो ये जीवों के लिए उपलब्ध नहीं होंगे। हजारों और लाखों वर्षों के लंबे समयांतराल में पृथ्वी की सतह या उसके समीप पाए जाने वाले पत्थर विभिन्न प्रकार के भौतिक रासायनिक और कुछ जैव प्रक्रमों के द्वारा टूट जाते हैं। टूटने के बाद सबसे अंत में बचा महीन कण मृदा है। लेकिन कौन-से कारक या प्रक्रियाएँ हैं जिनसे मृदा बनती है?

- सूर्य: सूर्य दिन के समय पत्थर को गर्म कर देता है जिससे वे प्रसारित हो जाते हैं। रात के समय ये पत्थर ठंडे होते हैं और संकुचित हो जाते हैं क्योंकि पत्थर का प्रत्येक भाग असमान रूप से प्रसारित तथा संकुचित होता है। ऐसा बार-बार होने पर पत्थर में दरार आ जाती है तथा अंत में ये बड़े पत्थर टूट कर छोटे-छोटे टुकड़ों में विभाजित हो जाते हैं।
- जल: जल मृदा के निर्माण में दो प्रकार से सहायता करता है। पहला सूर्य के ताप से बने पत्थरों की दरार में जल जा सकता है। यदि यह जल बाद में जम जाता है, तो यह दरार को और अधिक चौड़ा करेगा। क्या आप सोच सकते हैं कि ऐसा क्यों होना चाहिए? दूसरा बहता हुआ जल कठोर पत्थरों को भी तोड़-फोड़ देता है। तेज़ गति के साथ बहता हुआ जल प्रायः अपने साथ बड़े और छोटे पत्थरों को बहा कर ले जाता है। ये पत्थर दूसरे पत्थरों के साथ टकराकर छोटे-छोटे कणों में बदल जाते हैं। जल पत्थरों के इन कणों को अपने साथ ले जाता है और आगे निक्षेपित कर देता है। इस प्रकार मृदा अपने

मूल पत्थर से काफ़ी दूर वाले स्थान पर पाई जाती है।

- वायु : जिस प्रकार जल में पत्थर एक-दूसरे से टकराने के कारण टूटते हैं उसी प्रकार तेज़ हवाएँ भी पत्थरों को तोड़ देती हैं। वायु जल की ही तरह बालू को एक स्थान से दूसरे स्थान तक ले जाती है।
- जीव भी मृदा के बनने की प्रक्रिया को प्रभावित करते हैं। लाइकेन जिसके बारे में हमने पहले पढ़ा है, पत्थरों की सतह पर भी उगते हैं। इस क्रम में वे एक पदार्थ छोड़ते हैं जो पत्थर की सतह को चूर्ण के समान कर देता है और मृदा की एक पतली परत का निर्माण करता है। अब इस सतह पर मॉस (moss) जैसे दूसरे छोटे पौधे उगने में सक्षम होते हैं और ये पत्थर को और अधिक तोड़ते हैं। बड़े पेड़ों की मूलों कभी-कभी पत्थरों में बनी दरारों में चली जाती हैं और वे दरार को चौड़ा कर देती हैं।

क्रियाकलाप _____ 14.10

- कुछ मृदा लें तथा उसे जल से भरे बीकर में डाल दें। ली गई मृदा की मात्रा के लगभग पाँच गुणा जल होना चाहिए। मृदा और जल को मिलाएँ और फिर मृदा को नीचे जमा होने दें। कुछ समय पश्चात् अवलोकन करें।
- क्या बीकर के तल में मृदा समांगी है या परतों में विभाजित है?
- अगर परतों का निर्माण हुआ है तो किस प्रकार एक परत दूसरे से भिन्न है?
- क्या वहाँ जल की सतह पर कुछ तैर रहा है?
- क्या आप सोच सकते हैं कि कुछ पदार्थ जल में घुल गए होंगे? आप इसे कैसे रोकेंगे?

जैसा कि आपने देखा है, मृदा एक मिश्रण है। इसमें विभिन्न आकार के छोटे-छोटे टुकड़े मिले होते हैं। इसमें सड़े-गले जीवों के टुकड़े भी मिले होते हैं,

जिसे ह्यूमस (humus) कहा जाता है। इसके अतिरिक्त, मिट्टी में विभिन्न प्रकार के सूक्ष्म जीव भी मिले होते हैं। मृदा के प्रकार का निर्णय उसमें पाए जाने वाले कणों के औसत आकार द्वारा निर्धारित किया जाता है। मृदा के गुण को उसमें स्थित ह्यूमस की मात्रा और पाए जाने वाले सूक्ष्म जीवों के आधार पर किया जाता है। मृदा की संरचना का मुख्य कारक ह्यूमस है क्योंकि यह मृदा को संरंध्र बनाता है और वायु तथा जल को भूमि के अंदर जाने में सहायक होता है। खनिज पोषक तत्व जो उस मृदा में पाए जाते हैं वह उन पत्थरों पर निर्भर करते हैं जिससे मृदा बनी है। किस मृदा पर कौन-सा पौधा होगा यह इस पर निर्भर करता है कि उस मृदा में पोषक तत्व कितने हैं, ह्यूमस की मात्रा कितनी है और उसकी गहराई क्या है। इस प्रकार, मृदा की ऊपरी परत में जिसमें मृदा के कणों के अतिरिक्त ह्यूमस और सजीव स्थित होते हैं, उसे ऊपरिमृदा कहा जाता है। ऊपरिमृदा की गुणवत्ता जो उस क्षेत्र की जैविक विविधता को निर्धारित करती है, में एक महत्वपूर्ण कारक है।


आधुनिक खेती में पीड़कनाशकों और उर्वरकों का बहुत बड़ी मात्रा में प्रयोग हो रहा है। लंबे समय तक इन पदार्थों का उपयोग करने से मृदा के सूक्ष्म जीव मृत हो जाते हैं और मृदा की संरचना को नष्ट कर सकते हैं जो कि मृदा के पोषक तत्वों का पुनर्चक्रण करते हैं। ह्यूमस बनाने में सहायक भूमि में स्थित केंचुओं को भी ये समाप्त कर सकते हैं। अगर संपूषणीय खेती नहीं की जाए तो उपजाऊ मृदा जल्द बंजर भूमि में परिवर्तित हो सकती है। उपयोगी घटकों का मृदा से हटना और दूसरे हानिकारक पदार्थों का मृदा में मिलना जो कि मृदा की ऊर्वरता को प्रभावित करते हैं और उसमें स्थित जैविक विविधता को नष्ट कर देते हैं। इसे भूमि-प्रदूषण कहते हैं।

मृदा जिसे हम आज एक स्थान पर देखते हैं वह लंबे समयांतराल के पश्चात् निर्मित हुई है। यद्यपि, कुछ मृदा को एक स्थान पर निर्मित करने वाले कुछ

कारक, इसको किसी दूसरे स्थान पर स्थानांतरित करने के लिए भी उत्तरदायी हो सकते हैं। मृदा के महीन कण प्रवाहित वायु या जल के साथ भी स्थानांतरित हो सकते हैं। मृदा के समस्त कणों के स्थानांतरित हो जाने पर कठोर पत्थर बाहर आ जाता है। इस प्रक्रिया में एक महत्वपूर्ण संपदा की हानि हो जाती है क्योंकि पत्थर पर ऊर्वरता नगण्य होती है।

क्रियाकलाप _____ 14.11

- एक ही तरह की दो ट्रे लें और उन्हें मृदा से भर दें। एक ट्रे में सरसों या मूंग अथवा धान या हरे चने का पौधा रोप दें और दोनों ट्रे में तब तक जल दें जब तक कि जिस ट्रे में पौधा रोपा गया है वह पौधे की वृद्धि से ढक नहीं जाए। यह सुनिश्चित करें कि दोनों ट्रे एक ही कोण पर झुके हों। दोनों ट्रे में समान मात्रा में जल इस तरह से डालें कि जल बाहर की ओर निकल जाए (चित्र 14.4)।
- ट्रे से बाहर जाने वाली मृदा की मात्रा का अध्ययन करें। क्या बहने वाली मृदा की मात्रा दोनों ट्रे में समान है?
- अब कुछ ऊँचाई से दोनों ट्रे में समान मात्रा में जल डालें। जितना आपने पहले डाला है उतनी ही मात्रा में जल तीन से चार बार डालें।
- अब मृदा की मात्रा का अध्ययन करें जो ट्रे से बाहर चली गई। क्या दोनों ट्रे में मृदा की मात्रा समान है?



चित्र 14.4: बहते जल का ऊपरिमृदा (सतह की मृदा) पर प्रभाव

पौधों की जड़ें मृदा के अपरदन (erosion) को रोकने में महत्वपूर्ण भूमिका निभाती हैं। बड़े स्तर पर

जंगलों का कटना (जो कि पूरे विश्व में हो रहा है) न केवल जैविक विविधता को नष्ट कर रहा है बल्कि मृदा के अपरदन के लिए भी उत्तरदायी है। वनस्पति के लिए सहायक ऊपरिमृदा, अपरदन की प्रक्रिया में तीव्रता से हट सकती है। यह पहाड़ी और पर्वतों वाले भागों में त्वरित गति से होता है। मृदा के अपरदन की इस क्रिया (मृदा-अपरदन) को रोकना बहुत कठिन है। सतह पर पाई जाने वाली वनस्पति, जल को परतों के अंदर जाने में महत्वपूर्ण भूमिका निभाती हैं।

प्रश्न

1. मृदा (मिट्टी) का निर्माण किस प्रकार होता है?
2. मृदा-अपरदन क्या है?
3. अपरदन को रोकने और कम करने के कौन-कौन से तरीके हैं?

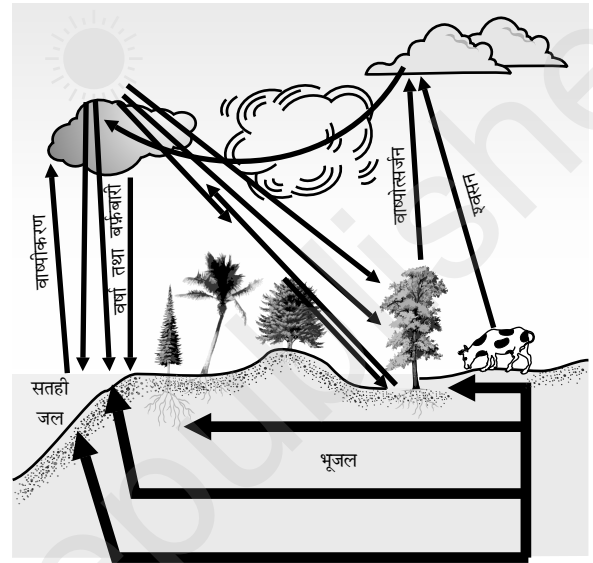
14.4 जैव रासायनिक चक्रण

जीवमंडल के जैविक और अजैविक घटकों के बीच का सामंजस्य जीवमंडल को गतिशील और स्थिर बनाता है। इस सामंजस्य के द्वारा जीवमंडल के विभिन्न घटकों के बीच पदार्थ और ऊर्जा का स्थानांतरण होता है। आइए देखते हैं कि वे कौन-कौन सी क्रियाएँ हैं जो संतुलन को बनाए रखती हैं।

14.4.1 जलीय-चक्र

आपने देखा है कि जलाशयों से जल के वाष्पीकरण और फिर संघनन के बाद वर्षा कैसे होती है। लेकिन हमने समुद्रों और महासागरों को सूखते हुए नहीं देखा है, तो किस प्रकार जल इन जलाशयों में वापस आता है? पूरी प्रक्रिया को, जिसके द्वारा जल, जलवाष्प बनता है और वर्षा के रूप में सतह पर गिरता है और फिर नदियों के द्वारा समुद्र में पहुँच जाता है, जलीय चक्र कहते हैं। यह चक्र उतना आसान और सरल नहीं है जैसा कि वक्तव्य से प्रतीत होता है। वह सारा जल जो पृथ्वी पर गिरता है तुरंत समुद्र में नहीं चला जाता

है। इनमें से कुछ मृदा के अंदर चला जाता है और भूजल का हिस्सा बन जाता है। कुछ भूजल झरनों के द्वारा सतह पर आ जाता है या हम इसे अपने व्यवहार के लिए कूपों और नलकूपों की मदद से सतह पर लाते हैं। जीवन की विभिन्न प्रक्रियाओं में स्थलीय जीव-जंतु और पौधे जल का उपयोग करते हैं (चित्र 14.5)।

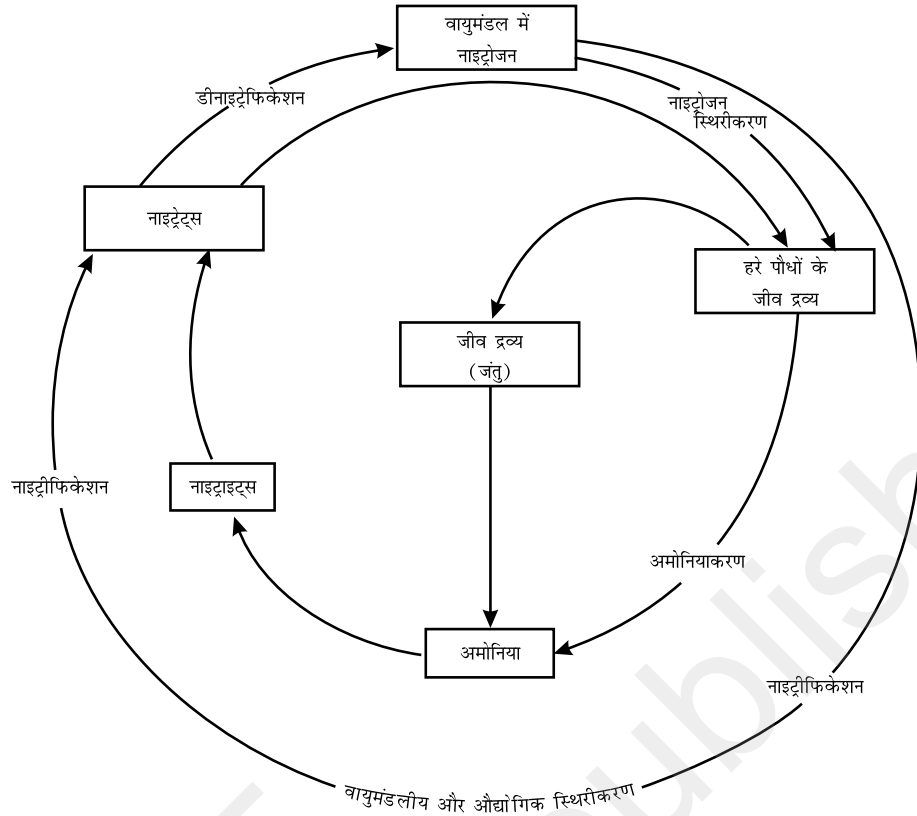


चित्र 14.5: प्रकृति में जलीय-चक्र

आइए जलीय-चक्र में जल का क्या होता है, के एक अन्य पहलू पर विचार करते हैं। जैसा कि आप जानते हैं जल बहुत से पदार्थों को घुलाने में सक्षम है। घुलने वाले खनिजों से होकर जब जल गुजरता है तब इनमें से कुछ खनिज जल में घुल जाते हैं। इस प्रकार नदी बहुत से पोषक तत्वों को सतह से समुद्र में ले जाती है और इनका उपयोग समुद्री जीव-जंतुओं द्वारा किया जाता है।

14.4.2 नाइट्रोजन-चक्र

हमारे वायुमंडल का 78 प्रतिशत भाग नाइट्रोजन गैस है। यह गैस जो जीवन के लिए आवश्यक बहुत सारे अणुओं का भाग है; जैसे-प्रोटीन, न्यूक्लीक अम्ल, डी.एन.ए. और आर.एन.ए. तथा कुछ विटामिन। नाइट्रोजन



चित्र 14.6: प्रकृति में नाइट्रोजन-चक्र

दूसरे जैविक यौगिकों में भी पाया जाता है; जैसे— एल्केलॉइड तथा यूरिया। इसलिए नाइट्रोजन सभी प्रकार के जीवों के लिए एक आवश्यक पोषक है। सभी जीवरूपों द्वारा वायुमंडल में उपस्थित नाइट्रोजन गैस के प्रत्यक्ष उपयोग से जीवन सरल हो जाएगा। यद्यपि कुछ प्रकार के बैक्टीरिया को छोड़कर दूसरे जीवरूप निष्क्रिय नाइट्रोजन परमाणुओं को नाइट्रेट्स तथा नाइट्राइट्स जैसे दूसरे आवश्यक अणुओं में बदलने में सक्षम नहीं हैं। 'नाइट्रोजन स्थिरीकरण' करने वाले ये बैक्टीरिया या तो स्वतंत्र रूप से रहते हैं या द्विबीजपत्री पौधों की कुछ स्पीशीज के साथ पाए जाते हैं। साधारणतः ये नाइट्रोजन को स्थिर करने वाले बैक्टीरिया फलीदार पौधों की जड़ों में एक विशेष प्रकार की संरचना (मूल ग्रंथिका) में पाए जाते हैं। इन बैक्टीरिया के अलावा नाइट्रोजन परमाणु नाइट्रेट्स और नाइट्राइट्स

में भौतिक क्रियाओं के द्वारा बदलते हैं। बिजली चमकने के समय वायु में पैदा हुआ उच्च ताप तथा दाब नाइट्रोजन को नाइट्रोजन के ऑक्साइड में बदल देता है। ये ऑक्साइड जल में घुलकर नाइट्रिक तथा नाइट्रस अम्ल बनाते हैं और वर्षा के साथ भूमि की सतह पर गिरते हैं। तब इसका उपयोग विभिन्न जीवरूपों द्वारा किया जाता है।

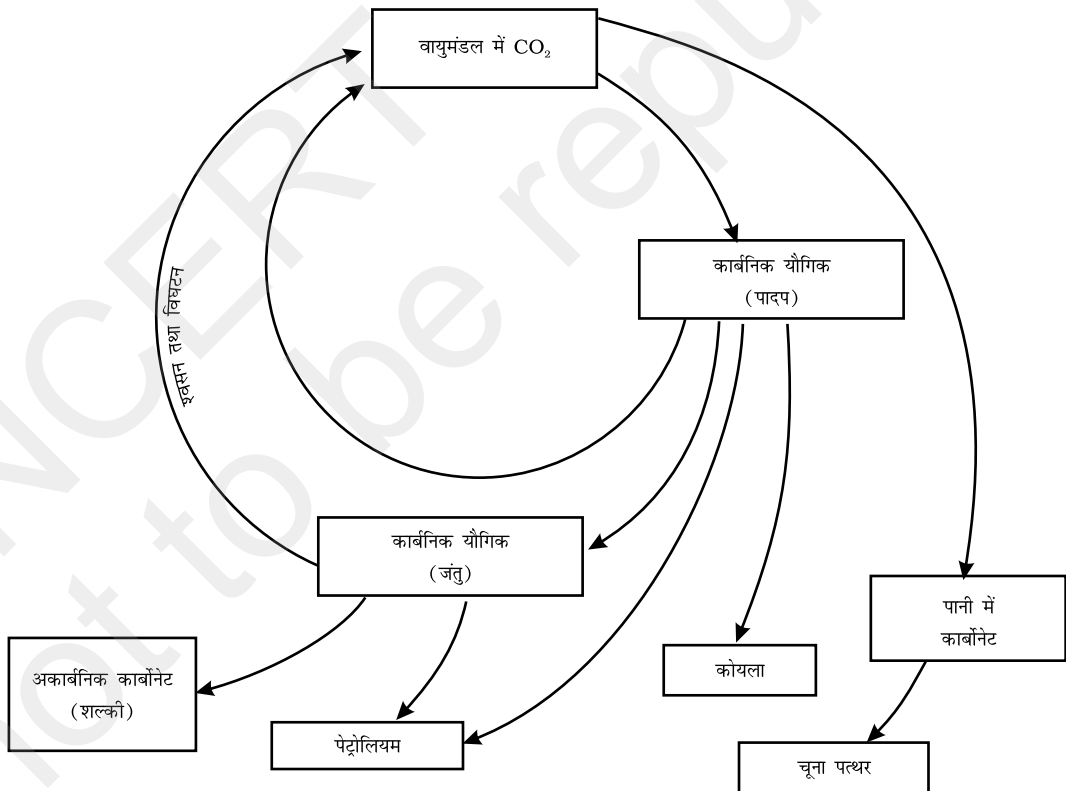
नाइट्रोजन-संयोजी अणु बनाने में प्रयुक्त होने वाले रूपों के निर्माण के पश्चात् नाइट्रोजन का क्या होता है? सामान्यतः पौधे नाइट्रेट्स और नाइट्राइट्स को ग्रहण करते हैं तथा उन्हें अमीनो अम्ल में बदल देते हैं जिनका उपयोग प्रोटीन बनाने में होता है। कुछ दूसरे जैव-रासायनिक विकल्प हैं जिनका प्रयोग नाइट्रोजन वाले दूसरे जटिल यौगिकों को बनाने में होता है। इन प्रोटीनों और दूसरे जटिल यौगिकों का प्रयोग जंतुओं

द्वारा किया जाता है। जब जंतु या पौधे की मृत्यु हो जाती है तो मिट्टी में मौजूद अन्य बैक्टीरिया विभिन्न यौगिकों में स्थित नाइट्रोजन को नाइट्रेट्स और नाइट्राइट्स में बदल देते हैं तथा अन्य तरह के बैक्टीरिया इन नाइट्रेट्स एवं नाइट्राइट्स को नाइट्रोजन तत्व में बदल देते हैं। इसी प्रकार, प्रकृति में एक नाइट्रोजन-चक्र होता है जिसमें नाइट्रोजन वायुमंडल में अपने मूल रूप से गुजरता हुआ मृदा और जल में साधारण परमाणु के रूप में बदलता है तथा जीवित प्राणियों में और अधिक जटिल यौगिक के रूप में बदल जाता है। फिर ये साधारण परमाणु के रूप में वायुमंडल में वापस आ जाता है।

14.4.3 कार्बन-चक्र

कार्बन पृथ्वी पर बहुत सारी अवस्थाओं में पाया जाता

है। यह अपने मूल रूप में हीरा और ग्रेफ़ाइट में पाया जाता है। यौगिक के रूप में यह वायुमंडल में कार्बन डाइऑक्साइड के रूप में, विभिन्न प्रकार के खनिजों में कार्बोनेट और हाइड्रोजन कार्बोनेट के रूप में पाया जाता है। जबकि सभी जीवरूप कार्बन आधारित अणुओं; जैसे-प्रोटीन, कार्बोहाइड्रेट्स, वसा, न्यूक्लिक अम्ल और विटामिन पर आधारित होते हैं। बहुत सारे जंतुओं के बाहरी और भीतरी कंकाल भी कार्बोनेट लवणों से बने होते हैं। प्रकाशसंश्लेषण की क्रिया जो सूर्य की उपस्थिति में उन सभी पौधों में होती है जिनमें कि क्लोरोफ़िल होता है। इस मूल क्रिया द्वारा कार्बन जीवन के विभिन्न प्रकारों में समाविष्ट होता है। यह प्रक्रिया वायुमंडल में या जल में घुले कार्बन डाइऑक्साइड को ग्लूकोस अणुओं में बदल देती है। ये ग्लूकोस अणु या तो दूसरे पदार्थों में बदल दिए जाते हैं या ये दूसरे



चित्र 14.7: प्रकृति में कार्बन-चक्र

जैविक रूप से महत्वपूर्ण अणुओं के संश्लेषण के लिए ऊर्जा प्रदान करते हैं (चित्र 14.7)।

जीवित प्राणियों को ऊर्जा प्रदान करने की प्रक्रिया में ग्लूकोस का उपयोग होता है। श्वसन की क्रिया द्वारा ग्लूकोस को कार्बन डाइऑक्साइड में बदलने के लिए ऑक्सीजन का प्रयोग हो भी सकता है और नहीं भी। यह कार्बन डाइऑक्साइड वायुमंडल में वापस चली जाती है। दहन की क्रिया जहाँ ईंधन का उपयोग खाना पकाने, गर्म करने, यातायात और उद्योगों में होता है, के द्वारा वायुमंडल में कार्बन डाइऑक्साइड का प्रवेश होता है। वास्तव में, जब से औद्योगिक क्रांति हुई है और मानव ने बहुत बड़े पैमाने पर जीवाश्म ईंधनों को जलाना शुरू किया है तब से वायुमंडल में कार्बन डाइऑक्साइड की मात्रा दोगुनी हो गई है। जल की तरह कार्बन का भी विभिन्न भौतिक एवं जैविक क्रियाओं के द्वारा पुनर्चक्रण होता है।

14.4.3 (i) ग्रीन हाउस प्रभाव

क्रियाकलाप 14.1 में किए गए अवलोकनों का स्मरण कीजिए। शीशे (glass) द्वारा ऊष्मा को रोक लेने के कारण शीशे के अंदर का तापमान बाहर के तापमान से काफी अधिक हो जाता है। ठंडे मौसमों में ऊष्ण कटिबंधीय पौधों को गर्म रखने के लिए आवरण बनाने की प्रक्रिया में इस अवधारणा का उपयोग किया गया है। इस प्रकार के आवरण को ग्रीन हाउस कहते हैं। वायुमंडलीय प्रक्रियाओं में भी ग्रीन हाउस होता है। कुछ गैसों पृथ्वी से ऊष्मा को पृथ्वी के वायुमंडल के बाहर जाने से रोकती हैं। वायुमंडल में विद्यमान इस प्रकार की गैसों में वृद्धि संसार के औसत तापमान को बढ़ा सकती है। इस प्रकार के प्रभाव को ग्रीन हाउस प्रभाव कहते हैं। कार्बन डाइऑक्साइड भी एक इसी प्रकार की ग्रीन हाउस गैस है। वायुमंडल में विद्यमान कार्बन डाइऑक्साइड में वृद्धि से वायुमंडल में ऊष्मा की वृद्धि होगी। इस प्रकार के कारणों द्वारा वैश्विक ऊष्मीकरण (global warming) की स्थिति उत्पन्न हो रही है।

प्राकृतिक संपदा

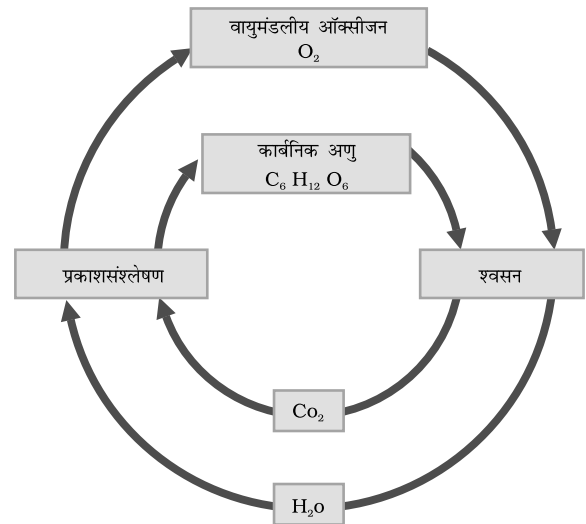
क्रियाकलाप _____ 14.12

- वैश्विक ऊष्मीकरण के क्या परिणाम हो सकते हैं?
- कुछ अन्य ग्रीन हाउस गैसों के नामों का भी पता लगाएँ।

14.4.4 ऑक्सीजन-चक्र

ऑक्सीजन पृथ्वी पर बहुत अधिक मात्रा में पाया जाने वाला तत्व है। इसकी मात्रा मूल रूप में वायुमंडल में लगभग 21 प्रतिशत है। यह बड़े पैमाने पर पृथ्वी के पटल में यौगिक के रूप में तथा वायु में कार्बन डाइऑक्साइड के रूप में भी पाई जाती है। पृथ्वी के पटल में यह धातुओं तथा सिलिकन के ऑक्साइडों के रूप में पाई जाती है। यह कार्बोनेट, सल्फेट, नाइट्रेट तथा अन्य खनिजों के रूप में भी पाई जाती है। यह जैविक अणुओं; जैसे—कार्बोहाइड्रेट्स, प्रोटीन, न्यूक्लिक अम्ल और वसा (अथवा लिपिड) का भी एक आवश्यक घटक है।

लेकिन जब हम ऑक्सीजन-चक्र के बारे में बात करते हैं तब हम मुख्यतः उस चक्र को निर्देशित करते हैं जो ऑक्सीजन की मात्रा को वायुमंडल में संतुलित बनाए रखता है। वायुमंडल से ऑक्सीजन का उपयोग



चित्र 14.8: प्रकृति में ऑक्सीजन चक्र

तीन प्रक्रियाओं में होता है, जिनके नाम हैं: श्वसन, दहन तथा नाइट्रोजन के ऑक्साइड के निर्माण में। वायुमंडल में ऑक्सीजन में केवल एक ही मुख्य प्रक्रिया, जिसे प्रकाशसंश्लेषण कहते हैं, के द्वारा लौटती है। इस प्रकार से प्रकृति में ऑक्सीजन-चक्र की रूपरेखा बनती है (चित्र 14.8)।

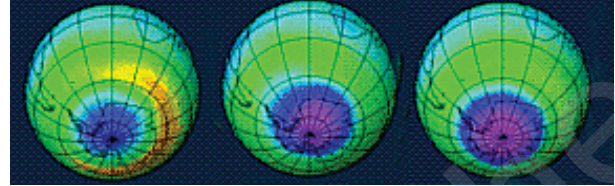
यद्यपि हम जीवन में श्वसन की क्रिया में ऑक्सीजन को महत्वपूर्ण मानते हैं, परन्तु कुछ जीव मुख्यतः बैक्टीरिया, तत्वीय ऑक्सीजन द्वारा जहरीले हो जाते हैं। वास्तव में, बैक्टीरिया के द्वारा नाइट्रोजन स्थिरीकरण की प्रक्रिया ऑक्सीजन की उपस्थिति में नहीं होती।

14.5 ओजोन परत

तत्वीय ऑक्सीजन मूल रूप में समान्यतः द्विपरमाण्विक अणु के रूप में पाई जाती है। यद्यपि, वायुमंडल के ऊपरी भाग में ऑक्सीजन के तीन परमाणु वाले अणु भी पाए जाते हैं। इसका सूत्र O_3 होता है तथा इसे ओजोन कहते हैं। ऑक्सीजन के सामान्य द्विपरमाण्विक अणु के विपरीत ओजोन विषैला होता है। हम भाग्यशाली हैं कि ओजोन पृथ्वी की सतह के नजदीक स्थिर नहीं रह पाता है। यह सूर्य से आने वाले हानिकारक विकिरणों को अवशोषित करती है। इस प्रकार यह उन हानिकारक विकिरणों को पृथ्वी की सतह पर पहुँचने से रोकती है जो कि कई जीवरूपों को हानि पहुँचा सकते हैं।

हाल ही में यह पता चला कि ओजोन परत का हास (अवक्षय) होता जा रहा है। मनुष्य के द्वारा बनाए गए विभिन्न प्रकार के यौगिक जैसे क्लोरो-फ्लोरो कार्बन (CFC) वायुमंडल में स्थिर अवस्था में उपस्थित हो जाते हैं। (CFC) क्लोरीन तथा फ्लोरीन युक्त कार्बन यौगिक हैं। ये बहुत स्थायी होते हैं तथा किसी जैव-प्रक्रिया द्वारा भी विघटित नहीं होते हैं। एक बार जब वे ओजोन परत के समीप पहुँचते हैं, वे ओजोन अणुओं के साथ प्रतिक्रिया करते हैं। इसके परिणामस्वरूप ओजोन की परत में कमी आई और हाल ही में

अंटार्कटिका के ऊपर ओजोन परत में छिद्र पाया गया। ओजोन परत के और भी अधिक क्षीण होने के कारण पृथ्वी पर जीवन पर पड़ने वाले प्रभावों के विषय में कल्पना करना भी कठिन है। अतः बहुत लोगों के विचार में ओजोन की परत के क्षीण होने की प्रक्रिया को रोकने के प्रयास आवश्यक हैं।



अक्टूबर 1980 अक्टूबर 1985 अक्टूबर 1990

चित्र 14.9: अंटार्कटिका के ऊपर ओजोन की परत में छिद्र (मैजेंटा रंग) को दिखाते उपग्रह चित्र

क्रियाकलाप 14.13

- यह पता लगाएँ कि और कौन से अणु हैं जो ओजोन परत को हानि पहुँचाते हैं।
- समाचारपत्रों में प्रायः ओजोन परत में होने वाले छिद्र की चर्चा की जाती है।
- यह पता लगाएँ कि क्या छिद्र में कोई परिवर्तन हो रहा है। वैज्ञानिक क्या सोचते हैं कि यह किस प्रकार पृथ्वी पर जीवन को प्रभावित करेगा।

प्रश्न

1. जल-चक्र के क्रम में जल की कौन-कौन सी अवस्थाएँ पायी जाती हैं?
2. जैविक रूप से महत्वपूर्ण दो यौगिकों के नाम दीजिए जिनमें ऑक्सीजन और नाइट्रोजन दोनों पाए जाते हों?
3. मनुष्य की किन्हीं तीन गतिविधियों को पहचानें जिनसे वायु में कार्बन डाइऑक्साइड की मात्रा बढ़ती है।
4. ग्रीन हाउस प्रभाव क्या है?
5. वायुमंडल में पाए जाने वाले ऑक्सीजन के दो रूप कौन-कौन से हैं?



आपने क्या सीखा

- पृथ्वी पर जीवन मृदा, वायु, जल तथा सूर्य से प्राप्त ऊर्जा जैसी संपदाओं पर निर्भर करता है।
- स्थल और जलाशयों के ऊपर विषम रूप में वायु के गर्म होने के कारण पवनें उत्पन्न होती हैं।
- जलाशयों से होने वाले जल का वाष्पीकरण तथा संघनन हमें वर्षा प्रदान करता है।
- किसी क्षेत्र में पहले से विद्यमान वायु के रूप पर होने वाली वर्षा का पैटर्न निर्भर करता है।
- विभिन्न प्रकार के पोषक तत्व चक्रीय रूपों से पुनः उपयोग किए जाते हैं जिसके कारण जैवमंडल के विभिन्न घटकों में एक निश्चित संतुलन स्थापित होता है।
- वायु, जल तथा मृदा का प्रदूषण जीवन की गुणवत्ता और जैव विविधताओं को हानि पहुँचाता है।
- हमें अपनी प्राकृतिक संपदाओं को संरक्षित रखने की आवश्यकता है और उन्हें संपूषणीय रूपों में उपयोग करने की आवश्यकता है।



अभ्यास

1. जीवन के लिए वायुमंडल क्यों आवश्यक है?
2. जीवन के लिए जल क्यों अनिवार्य है?
3. जीवित प्राणी मृदा पर कैसे निर्भर हैं? क्या जल में रहने वाले जीव संपदा के रूप में मृदा से पूरी तरह स्वतंत्र हैं?
4. आपने टेलीविज़न पर और समाचारपत्र में मौसम संबंधी रिपोर्ट को देखा होगा। आप क्या सोचते हैं कि हम मौसम के पूर्वानुमान में सक्षम हैं?
5. हम जानते हैं कि बहुत-सी मानवीय गतिविधियाँ वायु, जल एवं मृदा के प्रदूषण-स्तर को बढ़ा रहे हैं। क्या आप सोचते हैं कि इन गतिविधियों को कुछ विशेष क्षेत्रों में सीमित कर देने से प्रदूषण के स्तर को घटाने में सहायता मिलेगी?
6. जंगल वायु, मृदा तथा जलीय स्रोत की गुणवत्ता को कैसे प्रभावित करते हैं?

उत्तरमाला

अध्याय 3

4. (a) MgCl_2
(b) CaO
(c) $\text{Cu}(\text{NO}_3)_2$
(d) AlCl_3
(e) CaCO_3
5. (a) कैल्शियम, ऑक्सीजन
(b) हाइड्रोजन, ब्रोमीन
(c) सोडियम, हाइड्रोजन, कार्बन तथा ऑक्सीजन
(d) पोटैशियम, सल्फर तथा ऑक्सीजन
6. (a) 26 g
(b) 256 g
(c) 124 g
(d) 36.5 g
(e) 63 g
7. (a) 14 g
(b) 108 g
(c) 1260 g
8. (a) 0.375 मोल
(b) 1.11 मोल
(c) 0.5 मोल
9. (a) 3.2 g
(b) 9.0 g
10. 3.76×10^{22} अणु
11. 6.022×10^{20} आयन

अध्याय 4

10. 80.006
11. $\frac{16}{8} \times = 90\%$, $\frac{18}{8} \times = 10\%$
12. संयोजकता = 1, तत्व का नाम लीथियम है।
13. द्रव्यमान संख्या: X = 12, Y = 14, दोनों समस्थानिक हैं।

14. (a) F (b) F (c) T (d) F
 15. (a) ✓ (b) × (c) × (d) ×
 16. (a) × (b) × (c) ✓ (d) ×
 17. (a) × (b) ✓ (c) × (d) ×
 18. (a) × (b) × (c) × (d) ✓

परमाणु संख्या	द्रव्यमान संख्या	न्यूट्रॉनों की संख्या	प्रोटॉनों की संख्या	इलेक्ट्रॉनों की संख्या	परमाणु स्पीशीज़ का नाम
9	19	10	9	9	फ़्लोरीन
16	32	16	16	16	सल्फ़र
12	24	12	12	12	मैग्नीशियम
1	2	1	1	1	ड्यूटेरियम
1	1	0	1	0	प्रोटियम

अध्याय 8

- (a) दूरी = 2200 m; विस्थापन = 200 m.
- (a) औसत चाल = औसत वेग = 2.00 m s^{-1}
 (b) औसत चाल = 1.90 m s^{-1} ; औसत वेग = 0.952 m s^{-1}
- औसत चाल = 24 km h^{-1}
- तय की गई दूरी = 96 m
- वेग = 20 m s^{-1} ; समय = 2 s
- चाल = 3.07 km s^{-1}

अध्याय 9

- c
- 14000 N
- 4 N
- (a) 35000 N
 (b) 1.994 m s^{-2}
 (c) 15556 N
- 2550 N गाड़ी की गति के विपरीत दिशा में।
- d
- 200 N
- 0 m s^{-1}
- 3 kg m s^{-1}
- 2.25 m; 50 N
- 10 kg m s^{-1} ; 10 kg m s^{-1} ; $5/3 \text{ m s}^{-1}$
- 500 kg m s^{-1} ; 800 kg m s^{-1} ; 50 N
- 40 kg m s^{-1}

- A2. 240 N
A3. 2500 N
A4. 5 m s^{-2} ; 2400 kg m s^{-1} ; 6000 N

अध्याय 10

3. 9.8 N
12. पृथ्वी पर भार 98 N तथा चंद्रमा पर भार 16.3 N है।
13. अधिकतम ऊँचाई 122.5 m तथा कुल समय 10 s है।
14. अंतिम वेग = 19.6 m s^{-1} ।
15. अधिकतम ऊँचाई = 80 m, नेट विस्थापन = 0, कुल तय की गई दूरी = 160 m।
16. गुरुत्वाकर्षण बल = $3.56 \times 10^{22} \text{ N}$ ।
17. 4 s पश्चात्, चोटी से 80 m नीचे।
18. प्रारंभिक वेग = 29.4 m s^{-1} , ऊँचाई = 44.1 m, 4 s पश्चात् गेंद ऊपर से 4.9 m दूरी पर होगी या नीचे से 39.2 m दूरी पर होगी।
21. पदार्थ डूब जाएगा।
22. पैकेट डूब जाएगा। विस्थापित पानी का द्रव्यमान 350 g होगा।

अध्याय 11

2. शून्य
4. 210 J
5. शून्य
9. $9 \times 10^8 \text{ J}$
10. 2000 J, 1000 J
11. शून्य
14. 15 kW h ('यूनिट')
17. 208333.3 J
18. (i) शून्य
(ii) धनात्मक
(iii) ऋणात्मक
20. 20 kWh

अध्याय 12

7. 17.2 m, 0.0172 m
8. 18.55
9. 6000
13. 11.47 s
14. 22600 Hz
20. 1450 m s^{-1}